



# 小数のしくみ7

© 6より0.03小さい数



日にち： 月 日

名まえ \_\_\_\_\_

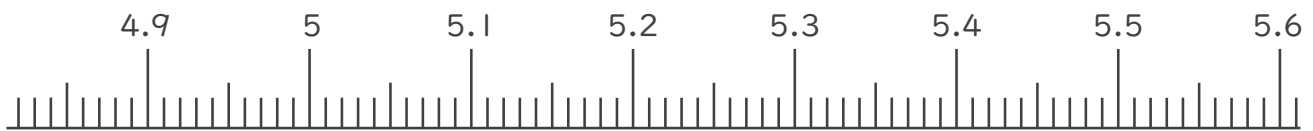
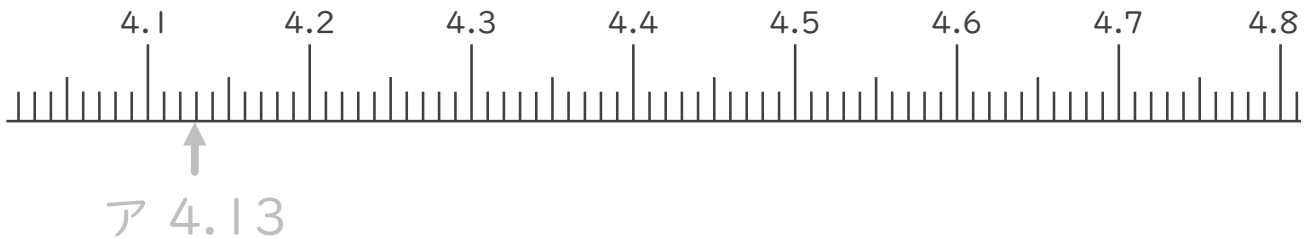
1. 下の数直線で、ア～エの数を表すめもりに ↑ をかきましょう。  
また、 ↑ の下にア～エの記号とその数をかきましょう。

ア 4.1より0.03大きい数

イ 4.8より0.06小さい数

ウ 5より0.01大きい数

エ 5.5より0.02小さい数



2. 次の数はいくつですか。

① 2と0.37をあわせた数

答え \_\_\_\_\_


② 1を3こ、0.1を6こあわせた数

答え \_\_\_\_\_

③ 1を7こ、0.1を9こ、0.01を4こあわせた数

答え \_\_\_\_\_





# 小数のしくみ7

© 6より0.03小さい数



日にち： 月 日

名まえ \_\_\_\_\_

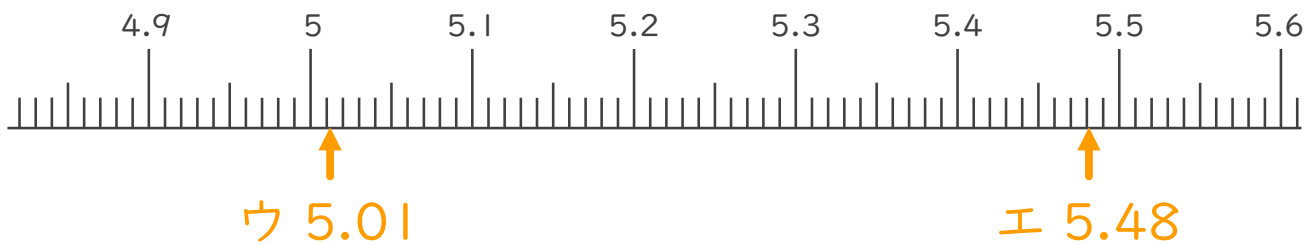
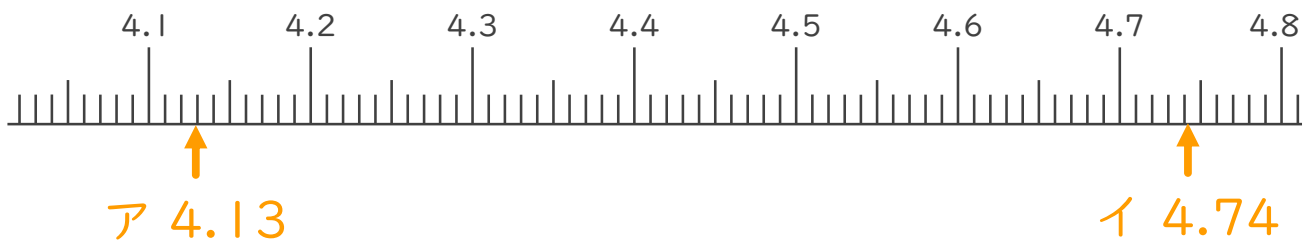
1. 下の数直線で、ア～エの数を表すめもりに ↑ をかきましょう。  
また、 ↑ の下にア～エの記号とその数をかきましょう。

ア 4.1より0.03大きい数

イ 4.8より0.06小さい数

ウ 5より0.01大きい数

エ 5.5より0.02小さい数



2. 次の数はいくつですか。

① 2と0.37をあわせた数

答え 2.37

② 1を3こ、0.1を6こあわせた数

答え 3.6

③ 1を7こ、0.1を9こ、0.01を4こあわせた数

答え 7.94

