



偶数と奇数 倍数と約数 2

● 倍数とは



日にち： 月 日

名まえ _____

1 次の にあてはまる言葉をかきましょう。(うすい字はなぞりましょう。)

・ 2に整数をかけてできる数を、2の ^{ばいすう} 倍数 といいます。

・ 3に整数をかけてできる数を、3の といいます。

2の倍数

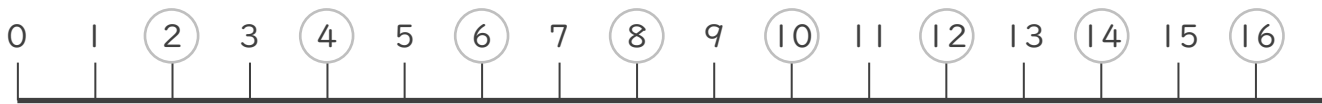
$2 \times 1 = 2,$
$2 \times 2 = 4,$
$2 \times 3 = 6,$
$2 \times 4 = 8,$
⋮
⋮

3の倍数

$3 \times 1 = 3,$
$3 \times 2 = 6,$
$3 \times 3 = 9,$
$3 \times 4 = 12,$
⋮
⋮

2 倍数について答えましょう。(うすい字はなぞりましょう。)

① 下の数直線で、2の倍数を○でかこみましよう。



0は入れないことに注意しよう!



② 下の数直線で、3の倍数を○でかこみましよう。





偶数と奇数 倍数と約数 2

● 倍数とは



日にち： 月 日

名まえ _____

1 次の にあてはまる言葉をかきましょう。

・ 2に整数をかけてできる数を、2の といいます。

・ 3に整数をかけてできる数を、3の といいます。

2の倍数

$2 \times 1 = 2,$
$2 \times 2 = 4,$
$2 \times 3 = 6,$
$2 \times 4 = 8,$
⋮
⋮

3の倍数

$3 \times 1 = 3,$
$3 \times 2 = 6,$
$3 \times 3 = 9,$
$3 \times 4 = 12,$
⋮
⋮

2 倍数について答えましょう。

① 下の数直線で、3の倍数を○でかこみましょう。



0は入れないことに注意しよう！



② 下の数直線で、4の倍数を○でかこみましょう。





偶数と奇数 倍数と約数 2

● 倍数とは



日にち： 月 日

名まえ _____

1 次の にあてはまる言葉をかきましょう。

・ 2に整数をかけてできる数を、2の といいます。

・ 3に整数をかけてできる数を、3の といいます。

2の倍数

$2 \times 1 = 2,$
$2 \times 2 = 4,$
$2 \times 3 = 6,$
$2 \times 4 = 8,$
⋮
⋮

3の倍数

$3 \times 1 = 3,$
$3 \times 2 = 6,$
$3 \times 3 = 9,$
$3 \times 4 = 12,$
⋮
⋮

2 倍数について答えましょう。

① 下の数直線で、5の倍数を○でかこみましょう。



0は入れないことに注意しよう!



② 下の数直線で、2の倍数を○でかこみましょう。





偶数と奇数
倍数と約数 2

● 倍数とは



日にち： 月 日

名まえ _____

1 次の にあてはまる言葉をかきましょう。

・ 2に整数をかけてできる数を、2の といいます。

・ 3に整数をかけてできる数を、3の といいます。

2の倍数

$2 \times 1 = 2,$
$2 \times 2 = 4,$
$2 \times 3 = 6,$
$2 \times 4 = 8,$
⋮
⋮

3の倍数

$3 \times 1 = 3,$
$3 \times 2 = 6,$
$3 \times 3 = 9,$
$3 \times 4 = 12,$
⋮
⋮

2 倍数について答えましょう。

① 下の数直線で、3の倍数を○でかこみましょう。



0は入れないことに注意しよう!



② 下の数直線で、6の倍数を○でかこみましょう。





偶数と奇数
倍数と約数 2

● 倍数とは



日にち： 月 日

名まえ _____

1 次の にあてはまる言葉をかきましょう。

・ 2に整数をかけてできる数を、2の といいます。

・ 3に整数をかけてできる数を、3の といいます。

2 倍数について答えましょう。(うすい字はなぞりましょう。)

① 2の倍数を小さい方から順に10個かきましょう。

2, 4, 6, 8, , , , , ,

② 3の倍数を小さい方から順に10個かきましょう。

③ 4の倍数を小さい方から順に10個かきましょう。





偶数と奇数
倍数と約数 2

● 倍数とは



日にち： 月 日

名まえ _____

1 次の にあてはまる言葉をかきましょう。

・ 2に整数をかけてできる数を、2の といいます。

・ 3に整数をかけてできる数を、3の といいます。

2 倍数について答えましょう。(うすい字はなぞりましょう。)

① 3の倍数を小さい方から順に10個かきましょう。

3, 6, 9, , , , , , ,

② 5の倍数を小さい方から順に10個かきましょう。

③ 2の倍数を小さい方から順に10個かきましょう。





偶数と奇数
倍数と約数 2

● 倍数とは



日にち： 月 日

名まえ _____

1 次の にあてはまる言葉をかきましょう。

・ 2に整数をかけてできる数を、2の といいます。

・ 3に整数をかけてできる数を、3の といいます。

2 倍数について答えましょう。

① 4の倍数を小さい方から順に10個かきましょう。

② 6の倍数を小さい方から順に10個かきましょう。

③ 7の倍数を小さい方から順に10個かきましょう。





偶数と奇数
倍数と約数 2

● 倍数とは



日にち： 月 日

名まえ _____

1 次の にあてはまる言葉をかきましょう。

・ 2に整数をかけてできる数を、2の といいます。

・ 3に整数をかけてできる数を、3の といいます。

2 倍数について答えましょう。

① 5の倍数を小さい方から順に10個かきましょう。

② 8の倍数を小さい方から順に10個かきましょう。

③ 3の倍数を小さい方から順に10個かきましょう。





偶数と奇数
倍数と約数 2

● 倍数とは



日にち： 月 日

名まえ _____

1 次の にあてはまる言葉をかきましょう。

・ 2に整数をかけてできる数を、2の といいます。

・ 3に整数をかけてできる数を、3の といいます。

2 倍数について答えましょう。

① 4の倍数を小さい方から順に10個かきましょう。

② 6の倍数を小さい方から順に10個かきましょう。

③ 9の倍数を小さい方から順に10個かきましょう。





偶数と奇数
倍数と約数 2

● 倍数とは

15

めざせ80点!



名まえ _____

1 倍数について答えましょう。(各20点)

① 4の倍数を小さい方から順に10個かきましょう。

② 2の倍数を小さい方から順に10個かきましょう。

③ 5の倍数を小さい方から順に10個かきましょう。

2 次の数を偶数と奇数に分けましょう。(8点×5)

9

28

60

255

311

偶数 ()

奇数 ()





偶数と奇数
倍数と約数 2

● 倍数とは

16

めざせ80点!



名まえ _____

1 倍数について答えましょう。(各20点)

① 3の倍数を小さい方から順に10個かきましょう。

② 8の倍数を小さい方から順に10個かきましょう。

③ 7の倍数を小さい方から順に10個かきましょう。

2 次の数を偶数と奇数に分けましょう。(8点×5)

13

20

0

156

121

偶数 ()

奇数 ()





偶数と奇数 倍数と約数 2

● 倍数とは



日にち： 月 日

名まえ _____

1 次の にあてはまる言葉をかきましょう。(うすい字はなぞりましょう。)

・ 2に整数をかけてできる数を、2の ^{ばいすう} **倍数** といいます。

・ 3に整数をかけてできる数を、3の **倍数** といいます。

2の倍数

$2 \times 1 = 2,$
$2 \times 2 = 4,$
$2 \times 3 = 6,$
$2 \times 4 = 8,$
⋮
⋮

3の倍数

$3 \times 1 = 3,$
$3 \times 2 = 6,$
$3 \times 3 = 9,$
$3 \times 4 = 12,$
⋮
⋮

2 倍数について答えましょう。(うすい字はなぞりましょう。)

① 下の数直線で、2の倍数を○でかこみましょう。



0は入れないことに注意しよう!



② 下の数直線で、3の倍数を○でかこみましょう。





偶数と奇数 倍数と約数 2

● 倍数とは



日にち： 月 日

名まえ _____

1 次の にあてはまる言葉をかきましょう。

・ 2に整数をかけてできる数を、2の ^{ばいすう} **倍数** といいます。

・ 3に整数をかけてできる数を、3の **倍数** といいます。

2の倍数

$2 \times 1 = 2,$
$2 \times 2 = 4,$
$2 \times 3 = 6,$
$2 \times 4 = 8,$
⋮
⋮

3の倍数

$3 \times 1 = 3,$
$3 \times 2 = 6,$
$3 \times 3 = 9,$
$3 \times 4 = 12,$
⋮
⋮

2 倍数について答えましょう。

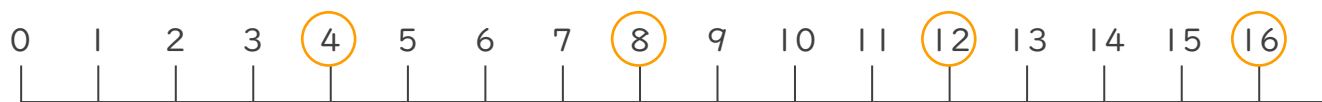
① 下の数直線で、3の倍数を○でかこみましょう。



0は入れないことに注意しよう！



② 下の数直線で、4の倍数を○でかこみましょう。





偶数と奇数 倍数と約数 2

● 倍数とは



日にち： 月 日

名まえ _____

1 次の にあてはまる言葉をかきましょう。

・ 2に整数をかけてできる数を、2の ^{ばいすう} **倍数** といいます。

・ 3に整数をかけてできる数を、3の **倍数** といいます。

2の倍数

$2 \times 1 = 2,$
$2 \times 2 = 4,$
$2 \times 3 = 6,$
$2 \times 4 = 8,$
⋮
⋮

3の倍数

$3 \times 1 = 3,$
$3 \times 2 = 6,$
$3 \times 3 = 9,$
$3 \times 4 = 12,$
⋮
⋮

2 倍数について答えましょう。

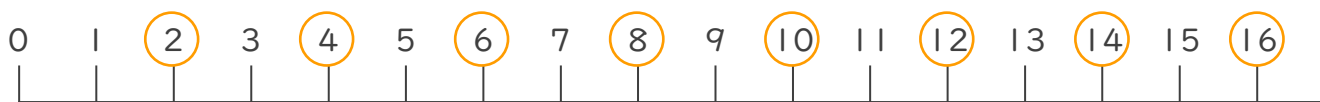
① 下の数直線で、5の倍数を○でかこみましょう。



0は入れないことに注意しよう!



② 下の数直線で、2の倍数を○でかこみましょう。





偶数と奇数 倍数と約数 2

● 倍数とは



日にち： 月 日

名まえ _____

1 次の にあてはまる言葉をかきましょう。

・ 2に整数をかけてできる数を、2の ^{ばいすう} **倍数** といいます。

・ 3に整数をかけてできる数を、3の **倍数** といいます。

2の倍数

$2 \times 1 = 2,$
$2 \times 2 = 4,$
$2 \times 3 = 6,$
$2 \times 4 = 8,$
⋮
⋮

3の倍数

$3 \times 1 = 3,$
$3 \times 2 = 6,$
$3 \times 3 = 9,$
$3 \times 4 = 12,$
⋮
⋮

2 倍数について答えましょう。

① 下の数直線で、3の倍数を○でかこみましょう。



0は入れないことに注意しよう!



② 下の数直線で、6の倍数を○でかこみましょう。





偶数と奇数
倍数と約数 2

● 倍数とは



日にち： 月 日

名まえ _____

1 次の にあてはまる言葉をかきましょう。

・ 2に整数をかけてできる数を、2の **倍数** といいます。

・ 3に整数をかけてできる数を、3の **倍数** といいます。

2 倍数について答えましょう。(うすい字はなぞりましょう。)

① 2の倍数を小さい方から順に10個かきましょう。

2, 4, 6, 8, 10, 12, 14, 16, 18, 20

② 3の倍数を小さい方から順に10個かきましょう。

3, 6, 9, 12, 15, 18, 21, 24, 27, 30

③ 4の倍数を小さい方から順に10個かきましょう。

4, 8, 12, 16, 20, 24, 28, 32, 36, 40





偶数と奇数
倍数と約数 2

● 倍数とは



日にち： 月 日

名まえ _____

1 次の にあてはまる言葉をかきましょう。

・ 2に整数をかけてできる数を、2の **倍数** といいます。

・ 3に整数をかけてできる数を、3の **倍数** といいます。

2 倍数について答えましょう。(うすい字はなぞりましょう。)

① 3の倍数を小さい方から順に10個かきましょう。

3, 6, 9, 12, 15, 18, 21, 24, 27, 30

② 5の倍数を小さい方から順に10個かきましょう。

5, 10, 15, 20, 25, 30, 35, 40, 45, 50

③ 2の倍数を小さい方から順に10個かきましょう。

2, 4, 6, 8, 10, 12, 14, 16, 18, 20





偶数と奇数
倍数と約数 2

● 倍数とは



日にち： 月 日

名まえ _____

1 次の にあてはまる言葉をかきましょう。

・ 2に整数をかけてできる数を、2の **倍数** といいます。

・ 3に整数をかけてできる数を、3の **倍数** といいます。

2 倍数について答えましょう。

① 4の倍数を小さい方から順に10個かきましょう。

4, 8, 12, 16, 20, 24, 28, 32, 36, 40

② 6の倍数を小さい方から順に10個かきましょう。

6, 12, 18, 24, 30, 36, 42, 48, 54, 60

③ 7の倍数を小さい方から順に10個かきましょう。

7, 14, 21, 28, 35, 42, 49, 56, 63, 70





偶数と奇数
倍数と約数 2

● 倍数とは



日にち： 月 日

名まえ _____

1 次の にあてはまる言葉をかきましょう。

・ 2に整数をかけてできる数を、2の **倍数** といいます。

・ 3に整数をかけてできる数を、3の **倍数** といいます。

2 倍数について答えましょう。

① 5の倍数を小さい方から順に10個かきましょう。

5, 10, 15, 20, 25, 30, 35, 40, 45, 50

② 8の倍数を小さい方から順に10個かきましょう。

8, 16, 24, 32, 40, 48, 56, 64, 72, 80

③ 3の倍数を小さい方から順に10個かきましょう。

3, 6, 9, 12, 15, 18, 21, 24, 27, 30





偶数と奇数 倍数と約数 2

● 倍数とは



日にち： 月 日

名まえ _____

1 次の にあてはまる言葉をかきましょう。

・ 2に整数をかけてできる数を、2の **倍数** といいます。

・ 3に整数をかけてできる数を、3の **倍数** といいます。

2 倍数について答えましょう。

① 4の倍数を小さい方から順に10個かきましょう。

4, 8, 12, 16, 20, 24, 28, 32, 36, 40

② 6の倍数を小さい方から順に10個かきましょう。

6, 12, 18, 24, 30, 36, 42, 48, 54, 60

③ 9の倍数を小さい方から順に10個かきましょう。

9, 18, 27, 36, 45, 54, 63, 72, 81, 90





偶数と奇数
倍数と約数 2

● 倍数とは



日にち： 月 日

名まえ _____

1 倍数について答えましょう。

① 5の倍数を小さい方から順に10個かきましょう。

5, 10, 15, 20, 25, 30, 35, 40, 45, 50

② 2の倍数を小さい方から順に10個かきましょう。

2, 4, 6, 8, 10, 12, 14, 16, 18, 20

③ 10の倍数を小さい方から順に10個かきましょう。

10, 20, 30, 40, 50, 60, 70, 80, 90, 100

2 次の数を偶数と奇数に分けましょう。

8

17

29

100

246

偶数 (8, 100, 246)

奇数 (17, 29)





偶数と奇数 倍数と約数 2

● 倍数とは



日にち： 月 日

名まえ _____

1 倍数について答えましょう。

① 4の倍数を小さい方から順に10個かきましょう。

4, 8, 12, 16, 20, 24, 28, 32, 36, 40

② 6の倍数を小さい方から順に10個かきましょう。

6, 12, 18, 24, 30, 36, 42, 48, 54, 60

③ 7の倍数を小さい方から順に10個かきましょう。

7, 14, 21, 28, 35, 42, 49, 56, 63, 70

2 次の数を偶数と奇数に分けましょう。

12

9

35

0

130

偶数 (12, 0, 130)

奇数 (9, 35)





偶数と奇数
倍数と約数 2

● 倍数とは

12

日にち： 月 日

名まえ _____

1 倍数について答えましょう。

① 2の倍数を小さい方から順に10個かきましょう。

2, 4, 6, 8, 10, 12, 14, 16, 18, 20

② 8の倍数を小さい方から順に10個かきましょう。

8, 16, 24, 32, 40, 48, 56, 64, 72, 80

③ 5の倍数を小さい方から順に10個かきましょう。

5, 10, 15, 20, 25, 30, 35, 40, 45, 50

2 次の数を偶数と奇数に分けましょう。

32

5

17

60

249

偶数 (32, 60)

奇数 (5, 17, 249)





偶数と奇数
倍数と約数 2

● 倍数とは



日にち： 月 日

名まえ _____

1 倍数について答えましょう。

① 6の倍数を小さい方から順に10個かきましょう。

6, 12, 18, 24, 30, 36, 42, 48, 54, 60

② 9の倍数を小さい方から順に10個かきましょう。

9, 18, 27, 36, 45, 54, 63, 72, 81, 90

③ 10の倍数を小さい方から順に10個かきましょう。

10, 20, 30, 40, 50, 60, 70, 80, 90, 100

2 次の数を偶数と奇数に分けましょう。

19

34

156

2

107

偶数 (34, 156, 2)

奇数 (19, 107)





偶数と奇数
倍数と約数 2

● 倍数とは

14

日にち： 月 日

名まえ _____

1 倍数について答えましょう。

① 3の倍数を小さい方から順に10個かきましょう。

3, 6, 9, 12, 15, 18, 21, 24, 27, 30

② 5の倍数を小さい方から順に10個かきましょう。

5, 10, 15, 20, 25, 30, 35, 40, 45, 50

③ 8の倍数を小さい方から順に10個かきましょう。

8, 16, 24, 32, 40, 48, 56, 64, 72, 80

2 次の数を偶数と奇数に分けましょう。

25

67

130

78

146

偶数 (130, 78, 146)

奇数 (25, 67)





偶数と奇数
倍数と約数 2

● 倍数とは

15

めざせ80点!



てん

名まえ

1 倍数について答えましょう。(各20点)

① 4の倍数を小さい方から順に10個かきましょう。

4, 8, 12, 16, 20, 24, 28, 32, 36, 40

② 2の倍数を小さい方から順に10個かきましょう。

2, 4, 6, 8, 10, 12, 14, 16, 18, 20

③ 5の倍数を小さい方から順に10個かきましょう。

5, 10, 15, 20, 25, 30, 35, 40, 45, 50

2 次の数を偶数と奇数に分けましょう。(8点×5)

9

28

60

255

311

偶数 (28, 60)

奇数 (9, 255, 311)





偶数と奇数
倍数と約数 2

● 倍数とは

16

めざせ80点!



てん

名まえ _____

1 倍数について答えましょう。(各20点)

① 3の倍数を小さい方から順に10個かきましょう。

3, 6, 9, 12, 15, 18, 21, 24, 27, 30

② 8の倍数を小さい方から順に10個かきましょう。

8, 16, 24, 32, 40, 48, 56, 64, 72, 80

③ 7の倍数を小さい方から順に10個かきましょう。

7, 14, 21, 28, 35, 42, 49, 56, 63, 70

2 次の数を偶数と奇数に分けましょう。(8点×5)

13

20

0

156

121

偶数 (20, 0, 156)

奇数 (13, 121)

