



分数と小数 整数の関係 3

● 分数の倍




日にち： 月 日

名まえ _____

・次の問いに分数で答えましょう。(うすい字はなぞりましょう。)

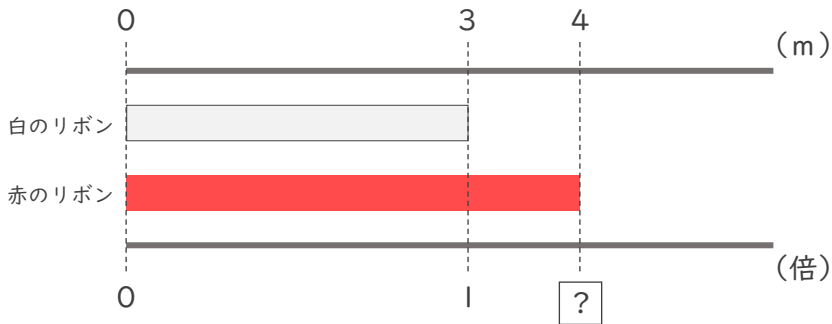
① 青のリボンは白のリボンの何倍ですか。



青のリボン 白のリボン

$$\boxed{4} \div \boxed{5} \text{ で } \frac{\boxed{4}}{\boxed{5}} \text{ 倍}$$

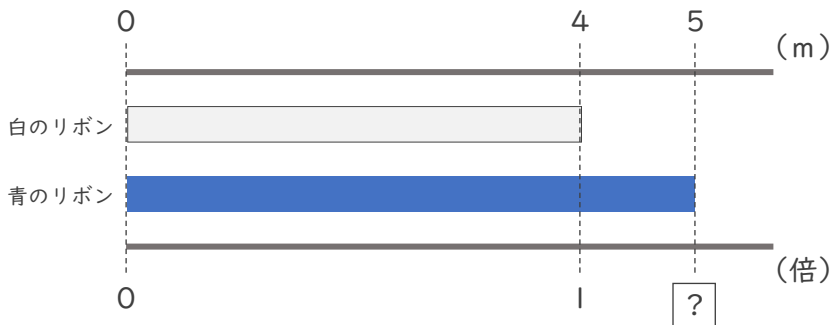
② 赤のリボンは白のリボンの何倍ですか。



赤のリボン 白のリボン

$$\boxed{4} \div \boxed{} \text{ で } \frac{\boxed{4}}{\boxed{}} \text{ 倍}$$

③ 青のリボンは白のリボンの何倍ですか。



青のリボン 白のリボン

$$\boxed{5} \div \boxed{} \text{ で } \frac{\boxed{}}{\boxed{}} \text{ 倍}$$





分数と小数
整数の関係 3

● 分数の倍

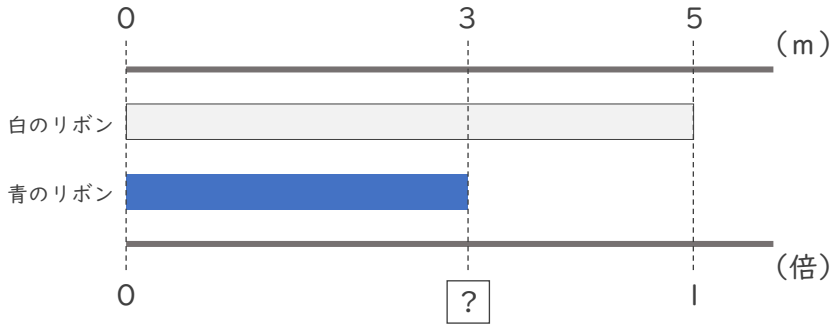


日にち： 月 日

名まえ _____

・次の問いに分数で答えましょう。（うすい字はなぞりましょう。）

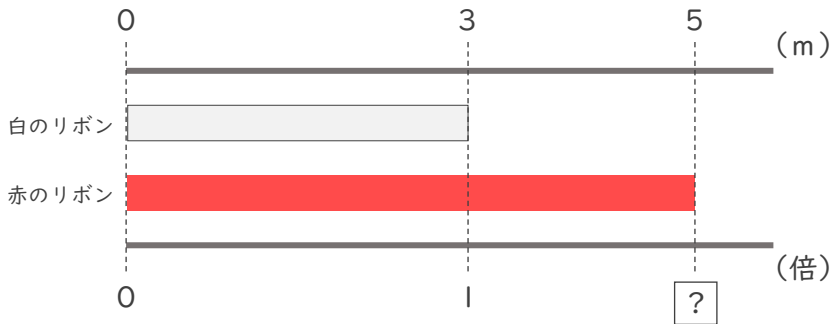
① 青のリボンは白のリボンの何倍ですか。



青のリボン 白のリボン

$$3 \div 5 \text{ で } \frac{3}{5} \text{ 倍}$$

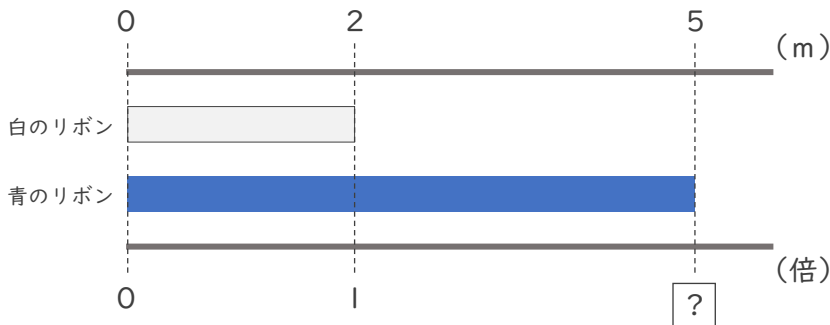
② 赤のリボンは白のリボンの何倍ですか。



赤のリボン 白のリボン

$$\square \div \square \text{ で } \frac{\square}{\square} \text{ 倍}$$

③ 青のリボンは白のリボンの何倍ですか。



青のリボン 白のリボン

$$\square \div \square \text{ で } \frac{\square}{\square} \text{ 倍}$$





分数と小数
整数の関係 3

● 分数の倍

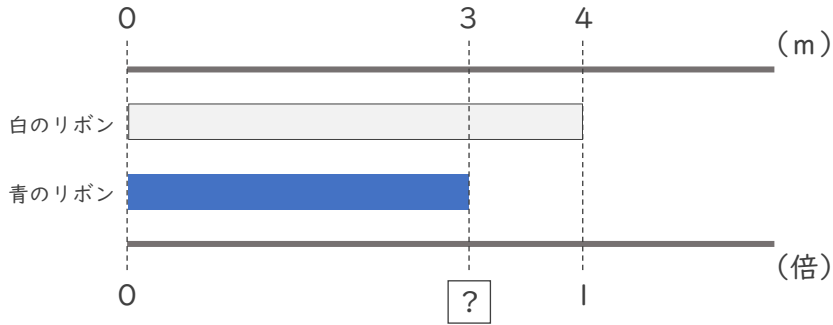


日にち： 月 日

名まえ _____

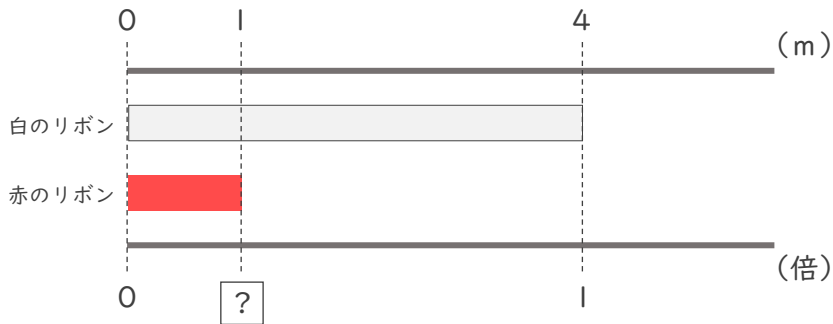
・次の問いに分数で答えましょう。(うすい字はなぞりましょう。)

① 青のリボンは白のリボンの何倍ですか。



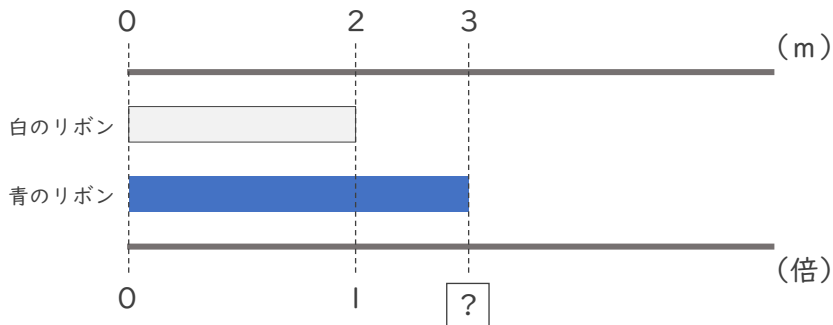
青のリボン ÷ 白のリボン で $\frac{\square}{\square}$ 倍

② 赤のリボンは白のリボンの何倍ですか。



赤のリボン ÷ 白のリボン で $\frac{\square}{\square}$ 倍

③ 青のリボンは白のリボンの何倍ですか。



青のリボン ÷ 白のリボン で $\frac{\square}{\square}$ 倍



分数と小数
整数の関係 3

● 分数の倍

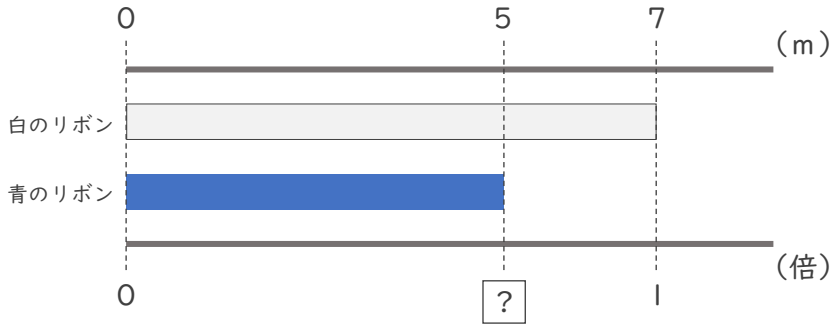


日にち： 月 日

名まえ _____

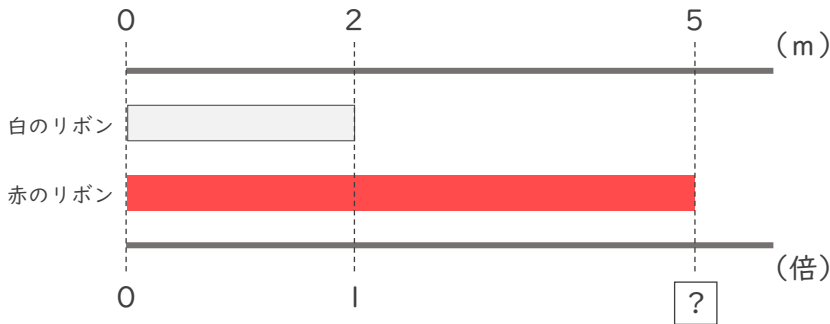
・次の問いに分数で答えましょう。(うすい字はなぞりましょう。)

① 青のリボンは白のリボンの何倍ですか。



青のリボン ÷ 白のリボン で $\frac{5}{7}$ 倍

② 赤のリボンは白のリボンの何倍ですか。



赤のリボン ÷ 白のリボン で $\frac{\square}{\square}$ 倍

③ 青のリボンは白のリボンの何倍ですか。



青のリボン ÷ 白のリボン で $\frac{\square}{\square}$ 倍





分数と小数
整数の関係 3

● 分数の倍

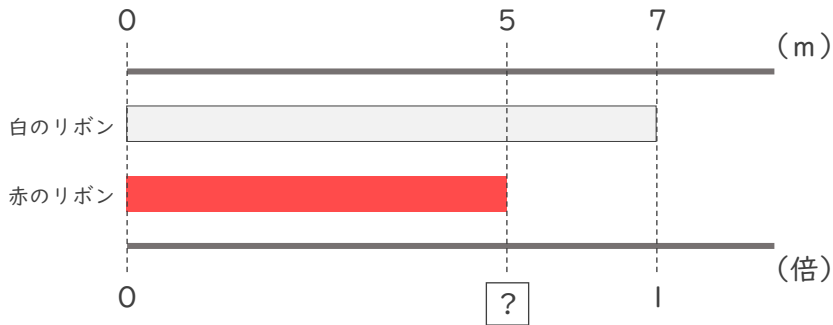


日にち： 月 日

名まえ _____

・次の問いに分数で答えましょう。(うすい字はなぞりましょう。)

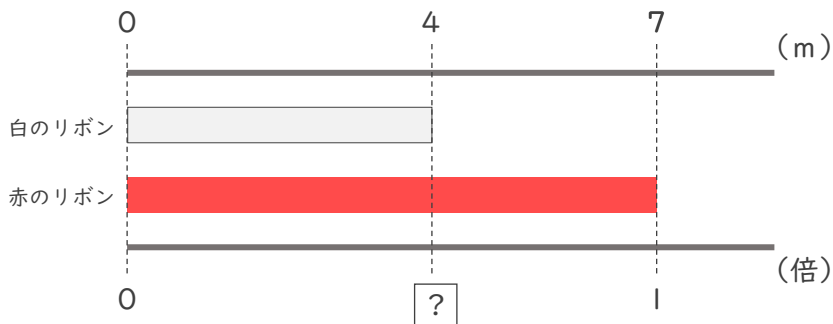
① 赤のリボンは白のリボンの何倍ですか。



式： $5 \div 7 = \frac{5}{7}$

答え ($\frac{5}{7}$ 倍)

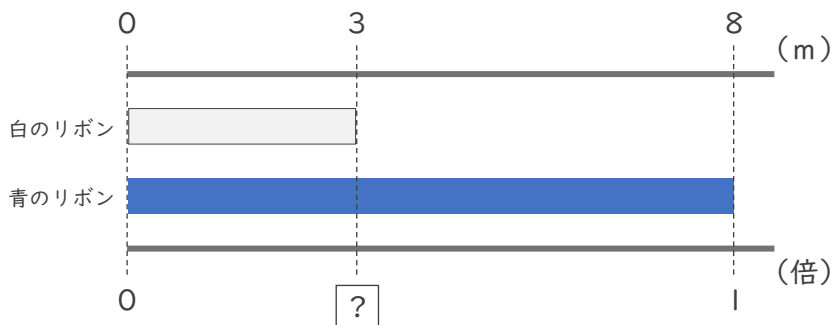
② 白のリボンは赤のリボンの何倍ですか。



式： $4 \div 7 =$

答え (倍)

③ 白のリボンは青のリボンの何倍ですか。



式：

答え (倍)



分数と小数
整数の関係 3

● 分数の倍

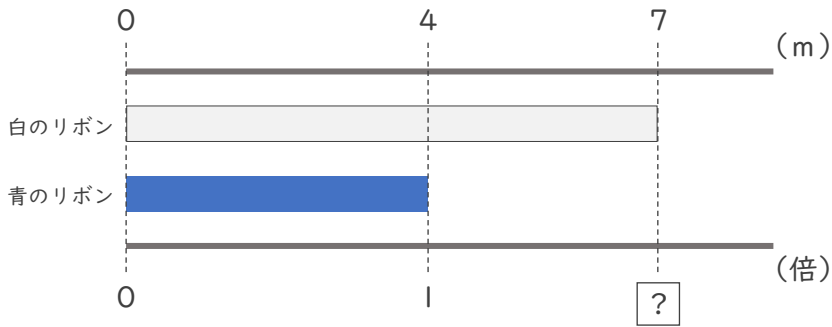


日にち： 月 日

名まえ _____

・ 次の問いに分数で答えましょう。

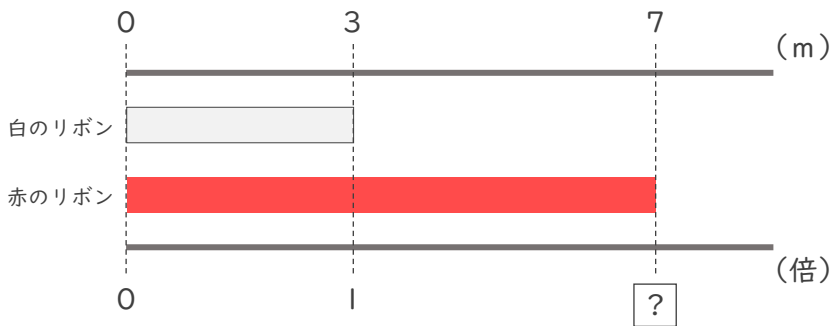
① 白のリボンは青のリボンの何倍ですか。



式：

答え (倍)

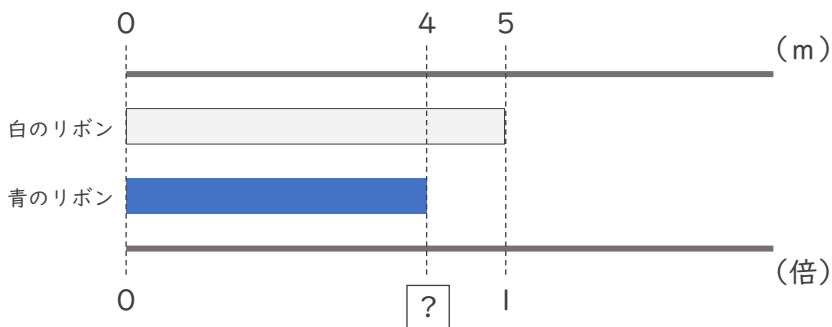
② 赤のリボンは白のリボンの何倍ですか。



式：

答え (倍)

③ 青のリボンは白のリボンの何倍ですか。



式：

答え (倍)



分数と小数
整数の関係 3

● 分数の倍




日にち： 月 日

名まえ _____

・ 次の問いに分数で答えましょう。

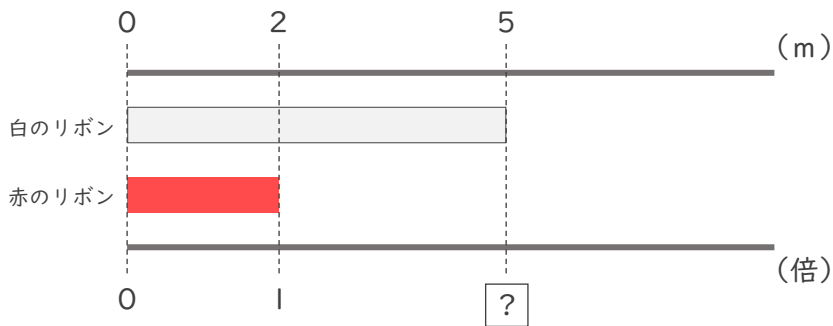
① 赤のリボンは白のリボンの何倍ですか。



式：

答え (倍)

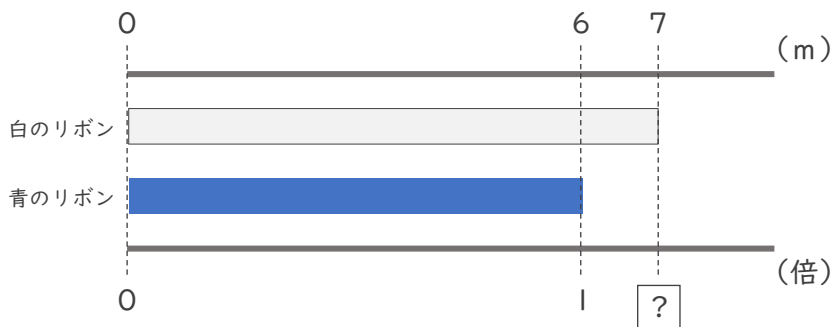
② 白のリボンは赤のリボンの何倍ですか。



式：

答え (倍)

③ 白のリボンは青のリボンの何倍ですか。



式：

答え (倍)



分数と小数、
整数の関係 3

● 分数の倍




日にち： 月 日

名まえ _____

・次の問いに分数で答えましょう。

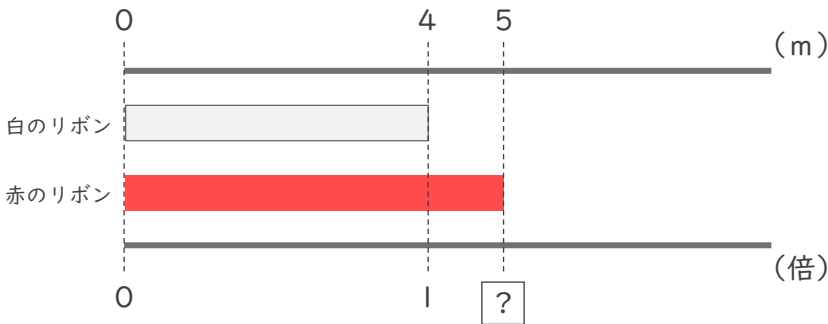
① 白のリボンは青のリボンの何倍ですか。



式：

答え (倍)

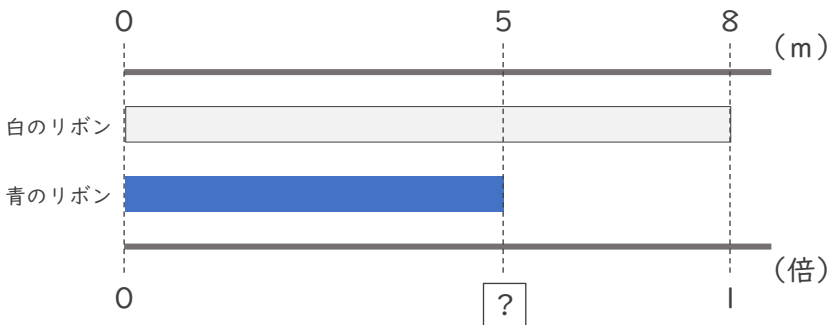
② 赤のリボンは白のリボンの何倍ですか。



式：

答え (倍)

③ 青のリボンは白のリボンの何倍ですか。



式：

答え (倍)



分数と小数
整数の関係 3

● 分数の倍

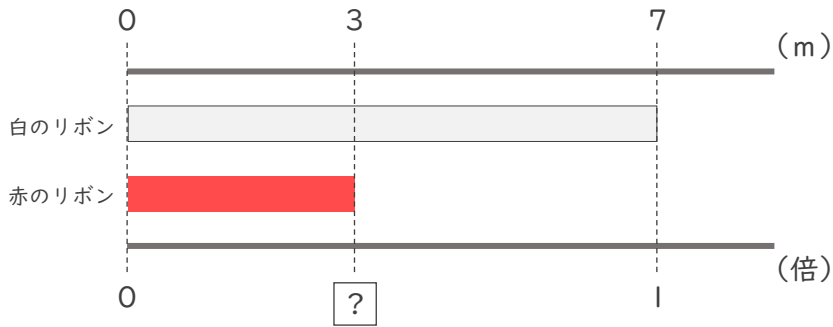


日にち： 月 日

名まえ _____

・ 次の問いに分数で答えましょう。

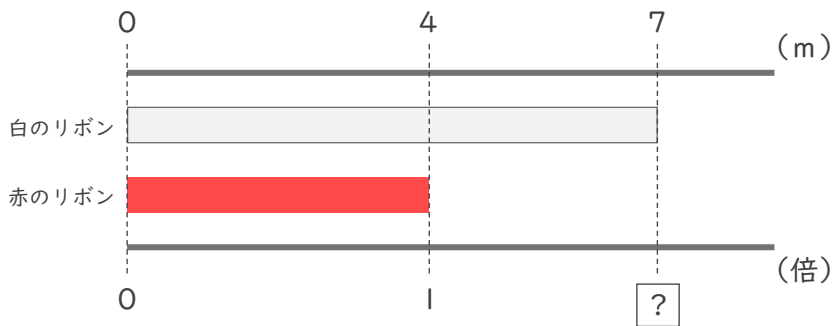
① 赤のリボンは白のリボンの何倍ですか。



式：

答え (倍)

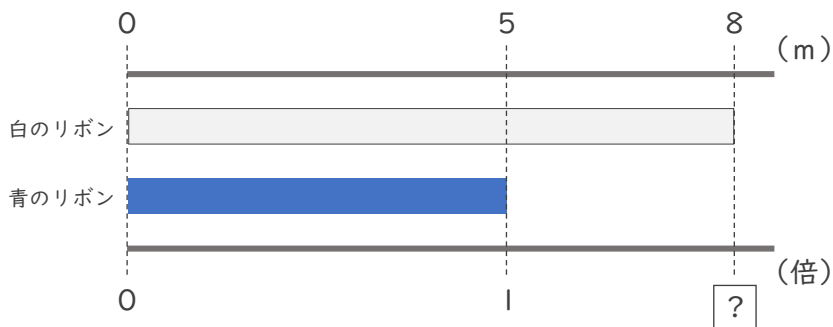
② 白のリボンは赤のリボンの何倍ですか。



式：

答え (倍)

③ 白のリボンは青のリボンの何倍ですか。



式：

答え (倍)



分数と小数 整数の関係 3

● 分数の倍




日にち： 月 日

名まえ _____

・次の問いに分数で答えましょう。（うすい字はなぞりましょう。）

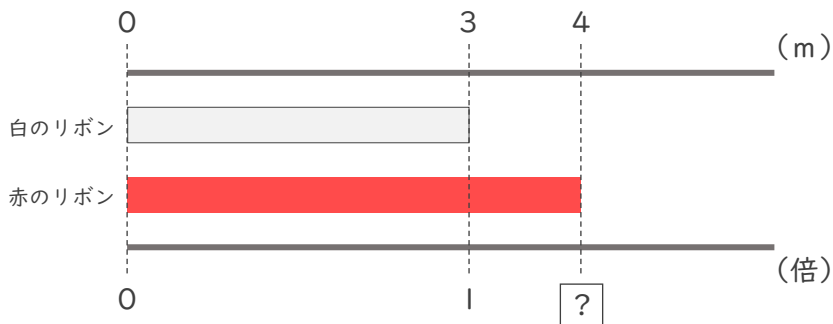
① 青のリボンは白のリボンの何倍ですか。



青のリボン 白のリボン

$$4 \div 5 \text{ で } \frac{4}{5} \text{ 倍}$$

② 赤のリボンは白のリボンの何倍ですか。



赤のリボン 白のリボン

$$4 \div 3 \text{ で } \frac{4}{3} \text{ 倍}$$

③ 青のリボンは白のリボンの何倍ですか。



青のリボン 白のリボン

$$5 \div 4 \text{ で } \frac{5}{4} \text{ 倍}$$





分数と小数、 整数の関係 3

● 分数の倍

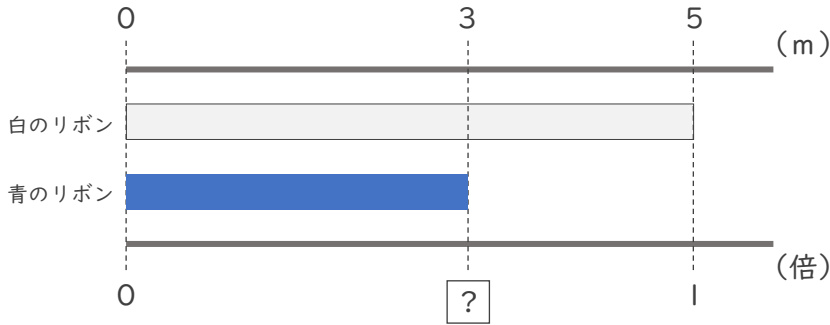


日にち： 月 日

名まえ _____

・次の問いに分数で答えましょう。（うすい字はなぞりましょう。）

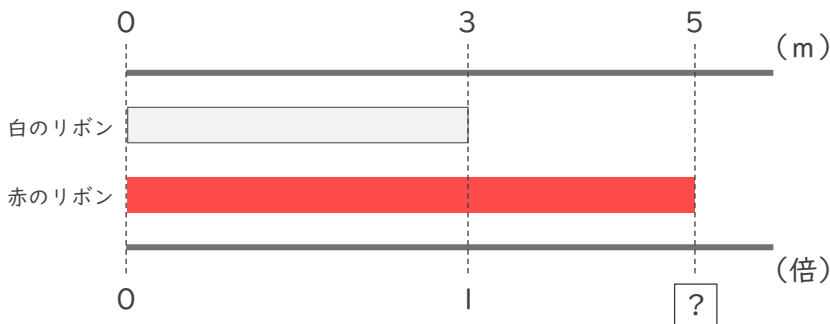
① 青のリボンは白のリボンの何倍ですか。



青のリボン 白のリボン

$$\boxed{3} \div \boxed{5} \text{ で } \frac{\boxed{3}}{\boxed{5}} \text{ 倍}$$

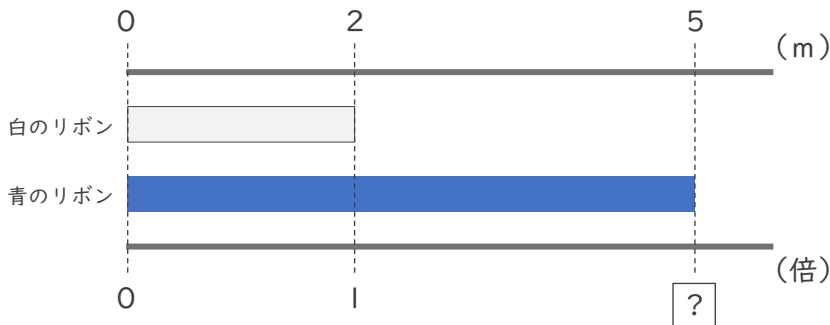
② 赤のリボンは白のリボンの何倍ですか。



赤のリボン 白のリボン

$$\boxed{5} \div \boxed{3} \text{ で } \frac{\boxed{5}}{\boxed{3}} \text{ 倍}$$

③ 青のリボンは白のリボンの何倍ですか。



青のリボン 白のリボン

$$\boxed{5} \div \boxed{2} \text{ で } \frac{\boxed{5}}{\boxed{2}} \text{ 倍}$$





分数と小数 整数の関係 3

● 分数の倍

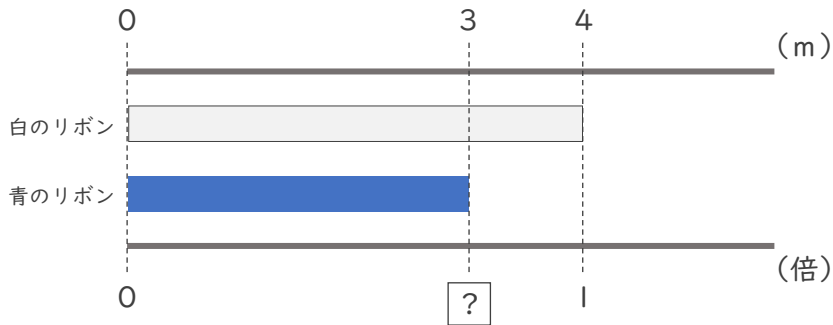


日にち： 月 日

名まえ _____

・次の問いに分数で答えましょう。（うすい字はなぞりましょう。）


① 青のリボンは白のリボンの何倍ですか。



青のリボン 白のリボン

$$3 \div 4 \text{ で } \frac{3}{4} \text{ 倍}$$

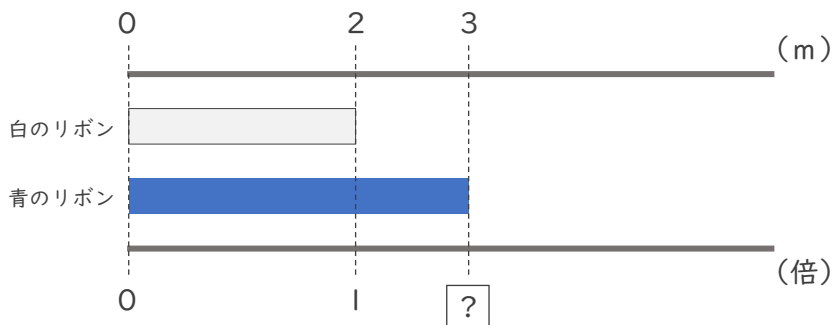
② 赤のリボンは白のリボンの何倍ですか。



赤のリボン 白のリボン

$$1 \div 4 \text{ で } \frac{1}{4} \text{ 倍}$$

③ 青のリボンは白のリボンの何倍ですか。



青のリボン 白のリボン

$$3 \div 2 \text{ で } \frac{3}{2} \text{ 倍}$$





分数と小数
整数の関係 3

● 分数の倍

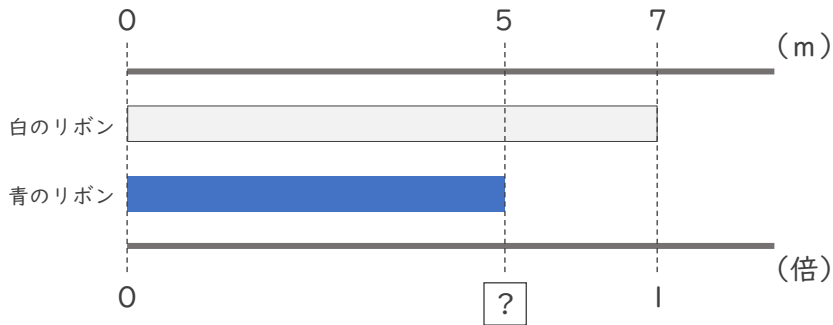


日にち： 月 日

名まえ _____

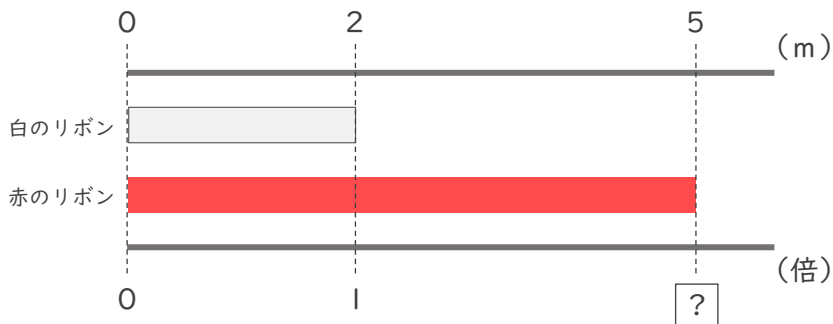
・次の問いに分数で答えましょう。(うすい字はなぞりましょう。)

① 青のリボンは白のリボンの何倍ですか。



青のリボン ÷ 白のリボン で $\frac{5}{7}$ 倍

② 赤のリボンは白のリボンの何倍ですか。



赤のリボン ÷ 白のリボン で $\frac{5}{2}$ 倍

③ 青のリボンは白のリボンの何倍ですか。



青のリボン ÷ 白のリボン で $\frac{5}{4}$ 倍

④ 確認 答え



すらすらぷりんと



分数と小数
整数の関係 3

● 分数の倍

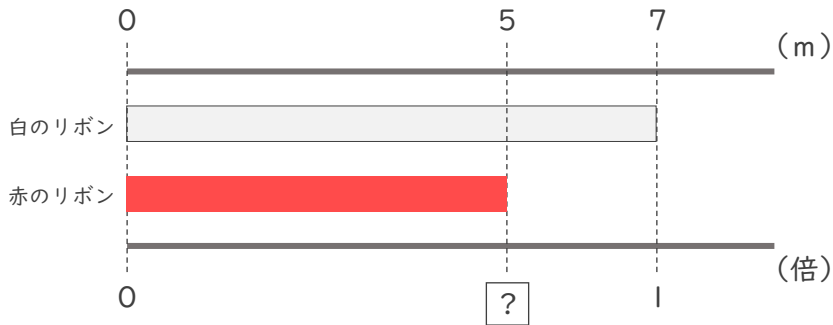


日にち： 月 日

名まえ _____

・次の問いに分数で答えましょう。(うすい字はなぞりましょう。)

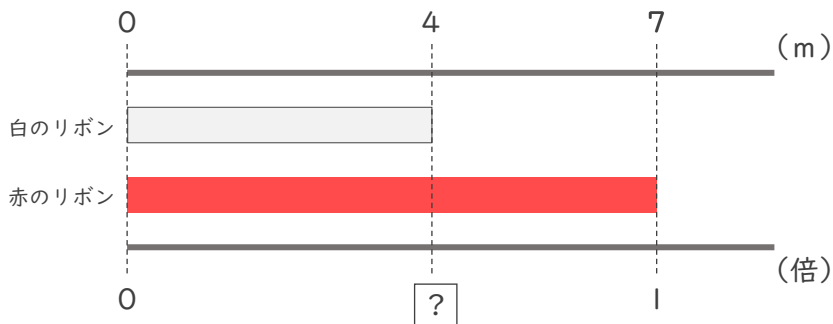
① 赤のリボンは白のリボンの何倍ですか。



式： $5 \div 7 = \frac{5}{7}$

答え ($\frac{5}{7}$ 倍)

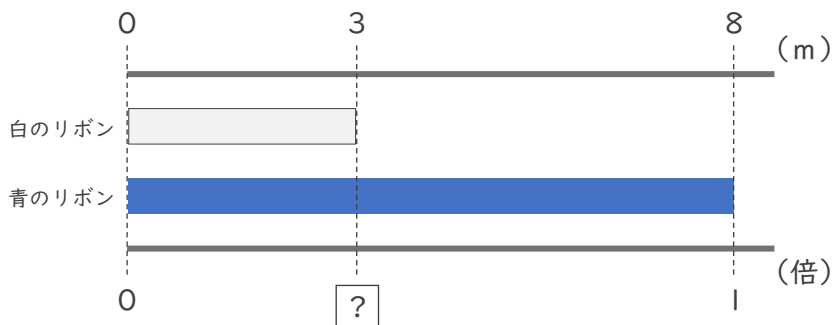
② 白のリボンは赤のリボンの何倍ですか。



式： $4 \div 7 = \frac{4}{7}$

答え ($\frac{4}{7}$ 倍)

③ 白のリボンは青のリボンの何倍ですか。



式： $3 \div 8 = \frac{3}{8}$

答え ($\frac{3}{8}$ 倍)



分数と小数
整数の関係 3

● 分数の倍

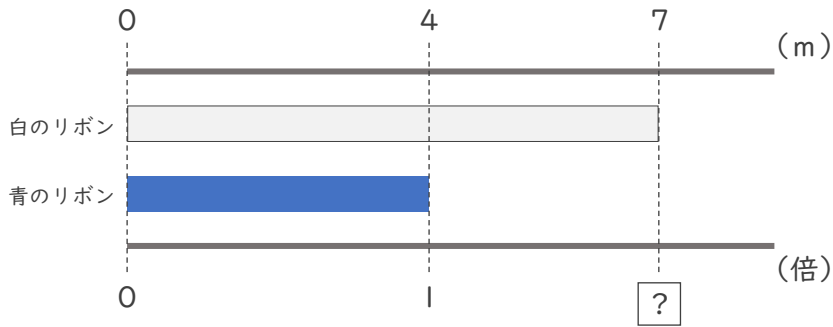


日にち： 月 日

名まえ _____

・次の問いに分数で答えましょう。

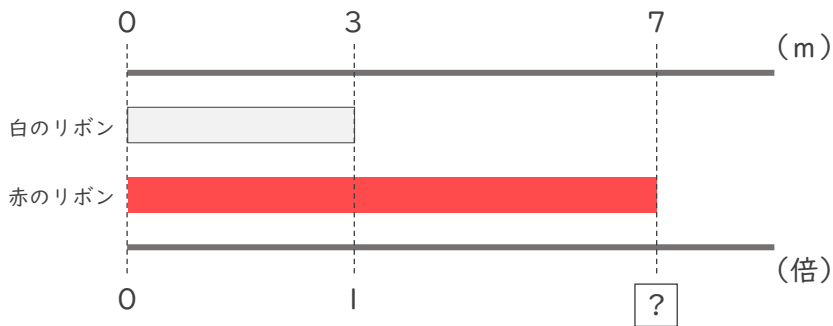
① 白のリボンは青のリボンの何倍ですか。



式： $7 \div 4 = \frac{7}{4}$

答え ($\frac{7}{4}$ 倍)

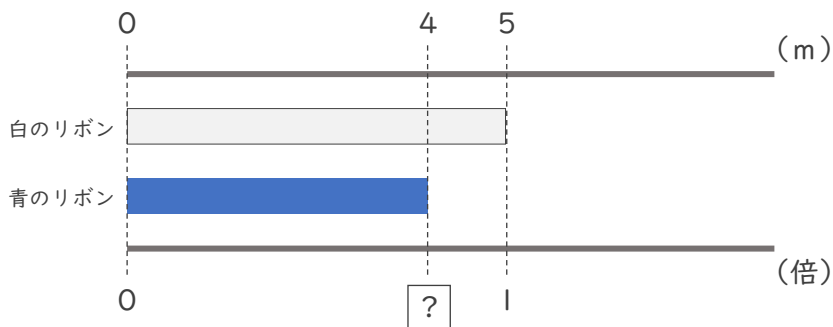
② 赤のリボンは白のリボンの何倍ですか。



式： $7 \div 3 = \frac{7}{3}$

答え ($\frac{7}{3}$ 倍)

③ 青のリボンは白のリボンの何倍ですか。



式： $4 \div 5 = \frac{4}{5}$

答え ($\frac{4}{5}$ 倍)



分数と小数
整数の関係 3

● 分数の倍




日にち： 月 日

名まえ _____

・次の問いに分数で答えましょう。

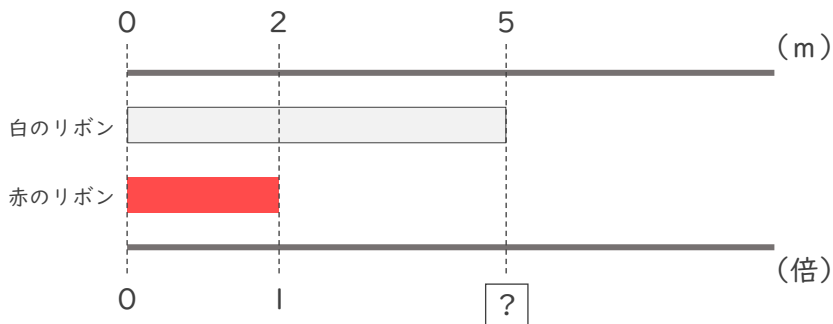
① 赤のリボンは白のリボンの何倍ですか。



式： $6 \div 7 = \frac{6}{7}$

答え ($\frac{6}{7}$ 倍)

② 白のリボンは赤のリボンの何倍ですか。



式： $5 \div 2 = \frac{5}{2}$

答え ($\frac{5}{2}$ 倍)

③ 白のリボンは青のリボンの何倍ですか。



式： $7 \div 6 = \frac{7}{6}$

答え ($\frac{7}{6}$ 倍)



分数と小数
整数の関係 3

● 分数の倍




日にち： 月 日

名まえ _____

・ 次の問いに分数で答えましょう。

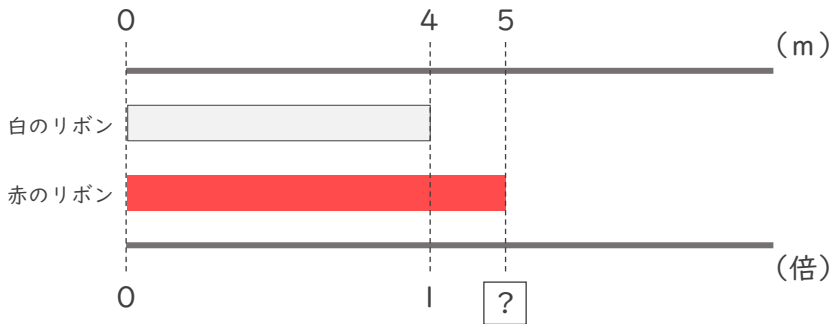
① 白のリボンは青のリボンの何倍ですか。



式： $6 \div 7 = \frac{6}{7}$

答え ($\frac{6}{7}$ 倍)

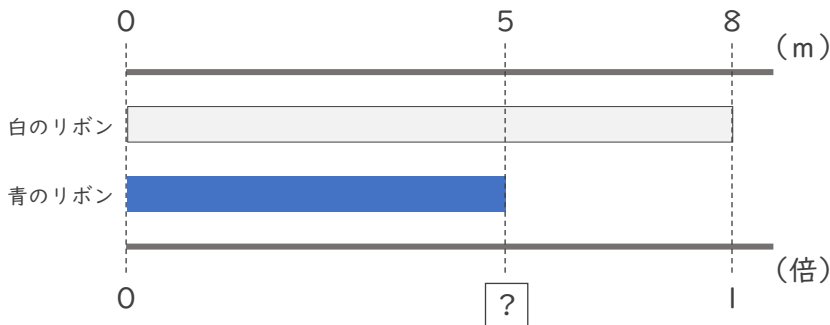
② 赤のリボンは白のリボンの何倍ですか。



式： $5 \div 4 = \frac{5}{4}$

答え ($\frac{5}{4}$ 倍)

③ 青のリボンは白のリボンの何倍ですか。



式： $5 \div 8 = \frac{5}{8}$

答え ($\frac{5}{8}$ 倍)



分数と小数、 整数の関係 3

● 分数の倍

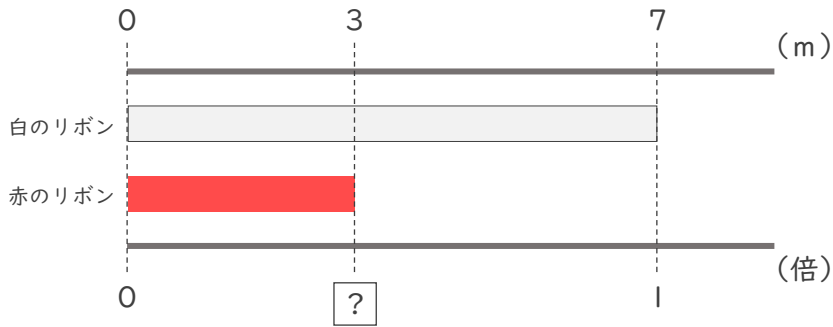


日にち： 月 日

名まえ _____

・ 次の問いに分数で答えましょう。

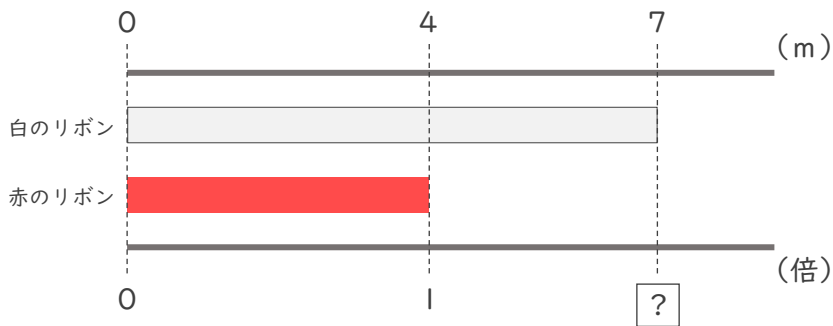
① 赤のリボンは白のリボンの何倍ですか。



式： $3 \div 7 = \frac{3}{7}$

答え ($\frac{3}{7}$ 倍)

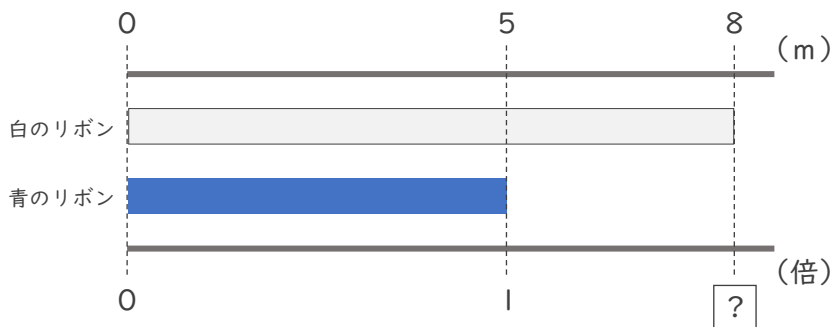
② 白のリボンは赤のリボンの何倍ですか。



式： $7 \div 4 = \frac{7}{4}$

答え ($\frac{7}{4}$ 倍)

③ 白のリボンは青のリボンの何倍ですか。



式： $8 \div 5 = \frac{8}{5}$

答え ($\frac{8}{5}$ 倍)