



小数のかけ算 15

◎かける数と積の関係



日にち： 月 日

名まえ _____

1 積が6より大きくなるもの、同じもの、小さくなるものを選び、番号を書きましょう。(うすい字は、なぞりましょう。)

- ① 6×1.2 ② 6×1.1 ③ 6×1 ④ 6×0.9 ⑤ 6×0.8

・かける数が1より大きいのは と なので

大きくなるもの： ① と ②

・かける数が1になるのは なので

同じになるもの： _____

・かける数が1より小さいのは と なので

小さくなるもの： _____

2 積がかけられる数より大きくなるのはどれですか。

- ① 2×1.1 ② 5.3×0.8 ③ 0.4×1

答え： _____





小数のかけ算 15

◎かける数と積の関係



日にち： 月 日

名まえ _____

1 積が8より大きくなるもの、同じもの、小さくなるものを選び、番号を書きましょう。(うすい字は、なぞりましょう。)

- ① 8×2 ② 8×1 ③ 8×1.3 ④ 8×0.7 ⑤ 8×0.1

・かける数が1より大きいのは と なので

大きくなるもの： ① と ③

・かける数が1になるのは なので

同じになるもの： _____

・かける数が1より小さいのは と なので

小さくなるもの： _____

2 積がかけられる数より小さくなるのはどれですか。

- ① 3.4×1 ② 2×0.9 ③ 0.4×1.5

答え： _____





小数のかけ算 15

◎かける数と積の関係

3

日にち： 月 日

名まえ _____

1 積が3より大きくなるもの、同じもの、小さくなるものを選び、番号を書きましょう。(うすい字は、なぞりましょう。)

① 3×1.4 ② 3×0.6 ③ 3×0.3 ④ 3×1 ⑤ 3×1.2

・ かける数が1より大きいのは と なので

大きくなるもの： ① と _____

・ かける数が1になるのは なので

同じになるもの： _____

・ かける数が1より小さいのは と なので

小さくなるもの： _____

2 積がかけられる数より大きくなるのはどれですか。

① 2.9×0.9 ② 1.3×1.05 ③ 1.9×1

答え： _____





小数のかけ算 15

◎かける数と積の関係

4

日にち： 月 日

名まえ _____

1 積が9より大きくなるもの、同じもの、小さくなるものを選び、番号を書きましょう。(うすい字は、なぞりましょう。)

- ① 9×1
- ② 9×1.6
- ③ 9×0.9
- ④ 9×0.85
- ⑤ 9×1.2

・ かける数が1より大きいのは と なので

大きくなるもの： _____ と

・ かける数が1になるのは なので

同じになるもの： _____

・ かける数が1より小さいのは と なので

小さくなるもの： _____

2 積がかけられる数より小さくなるのはどれですか。

- ① 3.4×1
- ② 1.5×0.9
- ③ 19×1.7

答え： _____





小数のかけ算 15

㊦ かける数と積の関係

5

日にち： 月 日

名まえ _____

1 積が4より大きくなるもの、同じもの、小さくなるものを選び、番号を書きましょう。

- ① 4×0.8 ② 4×1.1 ③ 4×1.9 ④ 4×0.9 ⑤ 4×1

大きくなるもの： _____

小さくなるもの： _____

同じもの： _____

2 積がかけられる数より小さくなるのはどれですか。

- ① 3.5×1.2 ② 1×0.9 ③ 6.3×1

答え： _____

3 積がかけられる数より大きくなるのはどれですか。

- ① 1.6×0.6 ② 0.3×1 ③ 0.4×1.1

答え： _____





小数のかけ算 15

㉞ かける数と積の関係



日にち： 月 日

名まえ _____

1 積が6より大きくなるもの、同じもの、小さくなるものを選び、番号を書きましょう。

- ① 6×1 ② 6×0.1 ③ 6×1.3 ④ 6×0.9 ⑤ 6×1.4

大きくなるもの： _____

小さくなるもの： _____

同じもの： _____

2 積がかけられる数より小さくなるのはどれですか。

- ① 4×1.1 ② 23×0.9 ③ 2.3×1.5

答え： _____

3 積がかけられる数より大きくなるのはどれですか。

- ① 6×0.7 ② 5.2×1 ③ 0.6×1.5

答え： _____





小数のかけ算 15

㊦ かける数と積の関係

7

日にち： 月 日

名まえ _____

1 積が5より大きくなるもの、同じもの、小さくなるものを選び、番号を書きましょう。

- ① 5×2.1 ② 5×0.99 ③ 5×1.2 ④ 5×1 ⑤ 5×0.7

大きくなるもの： _____

小さくなるもの： _____

同じもの： _____

2 積がかけられる数より小さくなるのはどれですか。

- ① 0.5×1 ② 3×1.9 ③ 6.3×0.5

答え： _____

3 積がかけられる数より大きくなるのはどれですか。

- ① 7×0.9 ② 2×1.9 ③ 0.6×1

答え： _____





小数のかけ算 15

㊦ かける数と積の関係



日にち： 月 日

名まえ _____

1 積が8より大きくなるもの、同じもの、小さくなるものを選び、番号を書きましょう。

- ① 8×1.1 ② 8×1 ③ 8×1.99 ④ 8×0.9 ⑤ 8×0.8

大きくなるもの： _____

小さくなるもの： _____

同じもの： _____

2 積がかけられる数より小さくなるのはどれですか。

- ① 0.5×1 ② 3×1.9 ③ 6.3×0.5

答え： _____

3 積がかけられる数より大きくなるのはどれですか。

- ① 7.3×0.9 ② 2×1.9 ③ 0.6×1

答え： _____





小数のかけ算 15

◎かける数と積の関係



日にち： 月 日

名まえ _____

1 積が2より大きくなるもの、同じもの、小さくなるものを選び、番号を書きましょう。

- ① 2×1 ② 2×1.8 ③ 2×0.99 ④ 2×1.9 ⑤ 2×0.6

大きくなるもの： _____

小さくなるもの： _____

同じもの： _____

2 積がかけられる数より小さくなるのはどれですか。

- ① 4×2.5 ② 1.9×0.5 ③ 0.9×1

答え： _____

3 積がかけられる数より大きくなるのはどれですか。

- ① 7×1.9 ② 7.1×1 ③ 3.6×0.9

答え： _____





小数のかけ算 15

㊦ かける数と積の関係



日にち： 月 日

名まえ _____

1 積が4より大きくなるもの、同じもの、小さくなるものを選び、番号を書きましょう。

- ① 4×1.05 ② 4×1 ③ 4×2.9 ④ 4×0.4 ⑤ 4×0.8

大きくなるもの： _____

小さくなるもの： _____

同じもの： _____

2 積がかけられる数より小さくなるのはどれですか。

- ① 1.5×1 ② 0.8×1.1 ③ 7.9×0.9

答え： _____

3 積がかけられる数より大きくなるのはどれですか。

- ① 6.5×0.8 ② 0.99×1 ③ 3×1.2

答え： _____





小数のかけ算 15

◎かける数と積の関係



日にち： 月 日

名まえ _____

1 積が3より大きくなるもの、同じもの、小さくなるものを選び、番号を書きましょう。

- ① 3×1 ② 3×1.9 ③ 3×0.9 ④ 3×0.8 ⑤ 3×1.2

大きくなるもの： _____

小さくなるもの： _____

同じもの： _____

2 積がかけられる数より小さくなるのはどれですか。

- ① 2×1.05 ② 0.8×1 ③ 8×0.9

答え： _____

3 積がかけられる数より大きくなるのはどれですか。

- ① 0.2×1.2 ② 9×0.8 ③ 0.2×1

答え： _____





小数のかけ算 15

㉞ かける数と積の関係

12

日にち： 月 日

名まえ _____

1 積が7より大きくなるもの、同じもの、小さくなるものを選び、番号を書きましょう。

- ① 7×1.5 ② 7×0.9 ③ 7×0.1 ④ 7×1 ⑤ 7×1.1

大きくなるもの： _____

小さくなるもの： _____

同じもの： _____

2 積がかけられる数より小さくなるのはどれですか。

- ① 4.5×1 ② 0.2×0.1 ③ 5.8×1.9

答え： _____

3 積がかけられる数より大きくなるのはどれですか。

- ① 3.2×1 ② 5.6×1.8 ③ 0.9×0.8

答え： _____





小数のかけ算 15

㊦ かける数と積の関係

13

日にち： 月 日

名まえ _____

1 積が6より大きくなるもの、同じもの、小さくなるものを選び、番号を書きましょう。

- ① 6×0.8 ② 6×0.1 ③ 6×1 ④ 6×1.4 ⑤ 6×1.6

大きくなるもの： _____

小さくなるもの： _____

同じもの： _____

2 積がかけられる数より小さくなるのはどれですか。

- ① 0.9×2 ② 1.4×1 ③ 8×0.3

答え： _____

3 積がかけられる数より大きくなるのはどれですか。

- ① 0.2×1.2 ② 6×0.95 ③ 1.9×1

答え： _____





小数のかけ算 15

㊦ かける数と積の関係

14

日にち： 月 日

名まえ _____

1 積が5より大きくなるもの、同じもの、小さくなるものを選び、番号を書きましょう。

- ① 5×1 ② 5×1.1 ③ 5×2.3 ④ 5×0.4 ⑤ 5×0.9

大きくなるもの： _____

小さくなるもの： _____

同じもの： _____

2 積がかけられる数より小さくなるのはどれですか。

- ① 9.9×0.7 ② 3.4×1.2 ③ 2.3×1

答え： _____

3 積がかけられる数より大きくなるのはどれですか。

- ① 3.4×1 ② 2×0.55 ③ 7.8×1.2

答え： _____






小数のかけ算 15

◎かける数と積の関係

15

目指せ80点!



名まえ _____

1 積が3より大きくなるもの、同じもの、小さくなるものを選び、番号を書きましょう。(各20点)

- ① 3×1.9 ② 3×1 ③ 3×2.9 ④ 3×0.6 ⑤ 3×0.9

大きくなるもの： _____

小さくなるもの： _____

同じもの： _____

2 積がかけられる数より小さくなるのはどれですか。(20点)

- ① 0.9×1.7 ② 0.4×0.92 ③ 3.4×1

答え： _____

3 積がかけられる数より大きくなるのはどれですか。(20点)

- ① 3×1.9 ② 1.5×0.5 ③ 2.8×1

答え： _____






小数のかけ算 15

◎かける数と積の関係

16

目指せ80点!



名まえ _____

1 積が9より大きくなるもの、同じもの、小さくなるものを選び、番号を書きましょう。(各20点)

- ① 9×0.3 ② 9×0.1 ③ 9×1.9 ④ 9×1 ⑤ 9×1.6

大きくなるもの：

小さくなるもの：

同じもの：

2 積がかけられる数より小さくなるのはどれですか。(20点)

- ① 2.1×0.7 ② 0.8×1 ③ 3×1.6

答え：

3 積がかけられる数より大きくなるのはどれですか。(20点)

- ① 0.2×2.9 ② 4.5×0.9 ③ 3.1×1

答え：





小数のかけ算 15

◎かける数と積の関係



日にち： 月 日

名まえ _____

1 積が6より大きくなるもの、同じもの、小さくなるものを選び、番号を書きましょう。(うすい字は、なぞりましょう。)

① 6×1.2 ② 6×1.1 ③ 6×1 ④ 6×0.9 ⑤ 6×0.8

・かける数が1より大きいのは ① と ② なので

大きくなるもの： ① と ②

・かける数が1になるのは ③ なので

同じになるもの： ③

・かける数が1より小さいのは ④ と ⑤ なので

小さくなるもの： ④ と ⑤

2 積がかけられる数より大きくなるのはどれですか。

① 2×1.1 ② 5.3×0.8 ③ 0.4×1

答え： ①





小数のかけ算 15

◎かける数と積の関係

2

日にち： 月 日

名まえ _____

1 積が8より大きくなるもの、同じもの、小さくなるものを選び、番号を書きましょう。(うすい字は、なぞりましょう。)

① 8×2 ② 8×1 ③ 8×1.3 ④ 8×0.7 ⑤ 8×0.1

・ かける数が1より大きいのは ① と ③ なので

大きくなるもの： ① と ③

・ かける数が1になるのは ② なので

同じになるもの： ②

・ かける数が1より小さいのは ④ と ⑤ なので

小さくなるもの： ④ と ⑤

2 積がかけられる数より小さくなるのはどれですか。

① 3.4×1 ② 2×0.9 ③ 0.4×1.5

答え： ②





小数のかけ算 15

◎かける数と積の関係

3

日にち： 月 日

名まえ _____

1 積が3より大きくなるもの、同じもの、小さくなるものを選び、番号を書きましょう。(うすい字は、なぞりましょう。)

① 3×1.4 ② 3×0.6 ③ 3×0.3 ④ 3×1 ⑤ 3×1.2

・かける数が1より大きいのは ① と ⑤ なので

大きくなるもの： ① と ⑤

・かける数が1になるのは ④ なので

同じになるもの： ④

・かける数が1より小さいのは ② と ③ なので

小さくなるもの： ② と ③

2 積がかけられる数より大きくなるのはどれですか。

① 2.9×0.9 ② 1.3×1.05 ③ 1.9×1

答え： ②





小数のかけ算 15

◎かける数と積の関係

4

日にち： 月 日

名まえ _____

1 積が9より大きくなるもの、同じもの、小さくなるものを選び、番号を書きましょう。(うすい字は、なぞりましょう。)

① 9×1 ② 9×1.6 ③ 9×0.9 ④ 9×0.85 ⑤ 9×1.2

・かける数が1より大きいのは ② と ⑤ なので

大きくなるもの： ② と ⑤

・かける数が1になるのは ① なので

同じになるもの： ①

・かける数が1より小さいのは ③ と ④ なので

小さくなるもの： ③ と ④

2 積がかけられる数より小さくなるのはどれですか。

① 3.4×1 ② 1.5×0.9 ③ 19×1.7

答え： ②





小数のかけ算 15

㉞ かける数と積の関係

5

日にち： 月 日

名まえ _____

1 積が4より大きくなるもの、同じもの、小さくなるものを選び、番号を書きましょう。

① 4×0.8 ② 4×1.1 ③ 4×1.9 ④ 4×0.9 ⑤ 4×1

大きくなるもの： ② と ③

小さくなるもの： ① と ④

同じもの： ⑤

2 積がかけられる数より小さくなるのはどれですか。

① 3.5×1.2 ② 1×0.9 ③ 6.3×1

答え： ②

3 積がかけられる数より大きくなるのはどれですか。

① 1.6×0.6 ② 0.3×1 ③ 0.4×1.1

答え： ③





小数のかけ算 15

㉞ かける数と積の関係



日にち： 月 日

名まえ _____

1 積が6より大きくなるもの、同じもの、小さくなるものを選び、番号を書きましょう。

- ① 6×1 ② 6×0.1 ③ 6×1.3 ④ 6×0.9 ⑤ 6×1.4

大きくなるもの： ③ と ⑤

小さくなるもの： ② と ④

同じもの： ①

2 積がかけられる数より小さくなるのはどれですか。

- ① 4×1.1 ② 23×0.9 ③ 2.3×1.5

答え： ②

3 積がかけられる数より大きくなるのはどれですか。

- ① 6×0.7 ② 5.2×1 ③ 0.6×1.5

答え： ③





小数のかけ算 15

㉞ かける数と積の関係

7

日にち： 月 日

名まえ _____

1 積が5より大きくなるもの、同じもの、小さくなるものを選び、番号を書きましょう。

① 5×2.1 ② 5×0.99 ③ 5×1.2 ④ 5×1 ⑤ 5×0.7

大きくなるもの： ① と ③

小さくなるもの： ② と ⑤

同じもの： ④

2 積がかけられる数より小さくなるのはどれですか。

① 0.5×1 ② 3×1.9 ③ 6.3×0.5

答え： ③

3 積がかけられる数より大きくなるのはどれですか。

① 7×0.9 ② 2×1.9 ③ 0.6×1

答え： ②





小数のかけ算 15

㉞ かける数と積の関係



日にち： 月 日

名まえ _____

1 積が8より大きくなるもの、同じもの、小さくなるものを選び、番号を書きましょう。

- ① 8×1.1 ② 8×1 ③ 8×1.99 ④ 8×0.9 ⑤ 8×0.8

大きくなるもの： ① と ③

小さくなるもの： ④ と ⑤

同じもの： ②

2 積がかけられる数より小さくなるのはどれですか。

- ① 0.5×1 ② 3×1.9 ③ 6.3×0.5

答え： ③

3 積がかけられる数より大きくなるのはどれですか。

- ① 7.3×0.9 ② 2×1.9 ③ 0.6×1

答え： ②





小数のかけ算 15

㉞ かける数と積の関係



日にち： 月 日

名まえ _____

1 積が2より大きくなるもの、同じもの、小さくなるものを選び、番号を書きましょう。

- ① 2×1 ② 2×1.8 ③ 2×0.99 ④ 2×1.9 ⑤ 2×0.6

大きくなるもの： ② と ④

小さくなるもの： ③ と ⑤

同じもの： ①

2 積がかけられる数より小さくなるのはどれですか。

- ① 4×2.5 ② 1.9×0.5 ③ 0.9×1

答え： ②

3 積がかけられる数より大きくなるのはどれですか。

- ① 7×1.9 ② 7.1×1 ③ 3.6×0.9

答え： ①





小数のかけ算 15

◎かける数と積の関係



日にち： 月 日

名まえ _____

1 積が4より大きくなるもの、同じもの、小さくなるものを選び、番号を書きましょう。

- ① 4×1.05 ② 4×1 ③ 4×2.9 ④ 4×0.4 ⑤ 4×0.8

大きくなるもの： ① と ③

小さくなるもの： ④ と ⑤

同じもの： ②

2 積がかけられる数より小さくなるのはどれですか。

- ① 1.5×1 ② 0.8×1.1 ③ 7.9×0.9

答え： ③

3 積がかけられる数より大きくなるのはどれですか。

- ① 6.5×0.8 ② 0.99×1 ③ 3×1.2

答え： ③





小数のかけ算 15

㉞ かける数と積の関係



日にち： 月 日

名まえ _____

1 積が3より大きくなるもの、同じもの、小さくなるものを選び、番号を書きましょう。

- ① 3×1 ② 3×1.9 ③ 3×0.9 ④ 3×0.8 ⑤ 3×1.2

大きくなるもの： ② と ⑤

小さくなるもの： ③ と ④

同じもの： ①

2 積がかけられる数より小さくなるのはどれですか。

- ① 2×1.05 ② 0.8×1 ③ 8×0.9

答え： ③

3 積がかけられる数より大きくなるのはどれですか。

- ① 0.2×1.2 ② 9×0.8 ③ 0.2×1

答え： ①





小数のかけ算 15

㉞ かける数と積の関係

12

日にち： 月 日

名まえ _____

1 積が7より大きくなるもの、同じもの、小さくなるものを選び、番号を書きましょう。

- ① 7×1.5 ② 7×0.9 ③ 7×0.1 ④ 7×1 ⑤ 7×1.1

大きくなるもの： ① と ⑤

小さくなるもの： ② と ③

同じもの： ④

2 積がかけられる数より小さくなるのはどれですか。

- ① 4.5×1 ② 0.2×0.1 ③ 5.8×1.9

答え： ②

3 積がかけられる数より大きくなるのはどれですか。

- ① 3.2×1 ② 5.6×1.8 ③ 0.9×0.8

答え： ②





小数のかけ算 15

㉞ かける数と積の関係

13

日にち： 月 日

名まえ _____

1 積が6より大きくなるもの、同じもの、小さくなるものを選び、番号を書きましょう。

- ① 6×0.8 ② 6×0.1 ③ 6×1 ④ 6×1.4 ⑤ 6×1.6

大きくなるもの： ④ と ⑤

小さくなるもの： ① と ②

同じもの： ③

2 積がかけられる数より小さくなるのはどれですか。

- ① 0.9×2 ② 1.4×1 ③ 8×0.3

答え： ③

3 積がかけられる数より大きくなるのはどれですか。

- ① 0.2×1.2 ② 6×0.95 ③ 1.9×1

答え： ①





小数のかけ算 15

㉞ かける数と積の関係

14

日にち： 月 日

名まえ _____

1 積が5より大きくなるもの、同じもの、小さくなるものを選び、番号を書きましょう。

- ① 5×1 ② 5×1.1 ③ 5×2.3 ④ 5×0.4 ⑤ 5×0.9

大きくなるもの： ② と ③

小さくなるもの： ④ と ⑤

同じもの： ①

2 積がかけられる数より小さくなるのはどれですか。

- ① 9.9×0.7 ② 3.4×1.2 ③ 2.3×1

答え： ①

3 積がかけられる数より大きくなるのはどれですか。

- ① 3.4×1 ② 2×0.55 ③ 7.8×1.2

答え： ③






小数のかけ算 15

◎かける数と積の関係



目指せ80点!



名まえ _____

1 積が3より大きくなるもの、同じもの、小さくなるものを選び、番号を書きましょう。(各20点)

- ① 3×1.9 ② 3×1 ③ 3×2.9 ④ 3×0.6 ⑤ 3×0.9

大きくなるもの： ① と ③

小さくなるもの： ④ と ⑤

同じもの： ②

2 積がかけられる数より小さくなるのはどれですか。(20点)

- ① 0.9×1.7 ② 0.4×0.92 ③ 3.4×1

答え： ②

3 積がかけられる数より大きくなるのはどれですか。(20点)

- ① 3×1.9 ② 1.5×0.5 ③ 2.8×1

答え： ①






小数のかけ算 15

◎かける数と積の関係

16

目指せ80点!



名まえ _____

1 積が9より大きくなるもの、同じもの、小さくなるものを選び、番号を書きましょう。(各20点)

- ① 9×0.3 ② 9×0.1 ③ 9×1.9 ④ 9×1 ⑤ 9×1.6

大きくなるもの： ③ と ⑤

小さくなるもの： ① と ②

同じもの： ④

2 積がかけられる数より小さくなるのはどれですか。(20点)

- ① 2.1×0.7 ② 0.8×1 ③ 3×1.6

答え： ①

3 積がかけられる数より大きくなるのはどれですか。(20点)

- ① 0.2×2.9 ② 4.5×0.9 ③ 3.1×1

答え： ①

