



小数のかけ算 18

㉞ かけ算のくふう (順番)



日にち： 月 日

名まえ _____

・ 次の式をくふうして計算しましょう。(うすい字は、なぞりましょう。)

$$\begin{aligned} \textcircled{1} \quad 3.8 \times 4 \times 2.5 &= 4 \times 2.5 \times 3.8 \\ &\quad \downarrow \\ &= 10 \times 3.8 \\ &= \end{aligned}$$

$$\begin{aligned} \textcircled{2} \quad 2.5 \times 3.2 \times 8 &= 2.5 \times 8 \times 3.2 \\ &\quad \downarrow \\ &= 20 \times 3.2 \\ &= \end{aligned}$$

$$\begin{aligned} \textcircled{3} \quad 1.25 \times 1.8 \times 8 &= 1.25 \times 8 \times 1.8 \\ &\quad \downarrow \\ &= 10 \times 1.8 \\ &= \end{aligned}$$





小数のかけ算 18

◎ かけ算のくふう (順番)



日にち： 月 日

名まえ _____

・ 次の式をくふうして計算しましょう。(うすい字は、なぞりましょう。)

$$\begin{aligned} \textcircled{1} \quad 2.1 \times 4 \times 2.5 &= 4 \times 2.5 \times 2.1 \\ &\quad \downarrow \\ &= 10 \times 2.1 \\ &= \end{aligned}$$

$$\begin{aligned} \textcircled{2} \quad 2.5 \times 2.8 \times 8 &= 2.5 \times 8 \times 2.8 \\ &\quad \downarrow \\ &= \square \times \\ &= \end{aligned}$$

$$\begin{aligned} \textcircled{3} \quad 1.25 \times 3.2 \times 8 &= 1.25 \times 8 \times 3.2 \\ &\quad \downarrow \\ &= \square \times \\ &= \end{aligned}$$





小数のかけ算 18

◎ かけ算のくふう (順番)



日にち： 月 日

名まえ _____

・ 次の式をくふうして計算しましょう。(うすい字は、なぞりましょう。)

$$\begin{aligned} \textcircled{1} \quad 8 \times 4.3 \times 2.5 &= 8 \times 2.5 \times 4.3 \\ &\quad \downarrow \\ &= 20 \times \\ &= \end{aligned}$$

$$\begin{aligned} \textcircled{2} \quad 3.2 \times 2.5 \times 4 &= 2.5 \times 4 \times 3.2 \\ &\quad \downarrow \\ &= \square \times \\ &= \end{aligned}$$

$$\begin{aligned} \textcircled{3} \quad 8 \times 1.3 \times 1.25 &= 8 \times 1.25 \times 1.3 \\ &\quad \downarrow \\ &= \square \times \\ &= \end{aligned}$$





小数のかけ算 18

◎ かけ算のくふう (順番)

4

日にち： 月 日

名まえ _____

・ 次の式をくふうして計算しましょう。(うすい字は、なぞりましょう。)

$$\begin{aligned} \textcircled{1} \quad 1.25 \times 6.8 \times 8 &= 1.25 \times 8 \times 6.8 \\ &\quad \downarrow \\ &= 10 \times \\ &= \end{aligned}$$

$$\begin{aligned} \textcircled{2} \quad 2.5 \times 1.2 \times 8 &= 8 \times 2.5 \times 1.2 \\ &\quad \downarrow \\ &= \square \times \\ &= \end{aligned}$$

$$\begin{aligned} \textcircled{3} \quad 2.5 \times 2.9 \times 4 &= 2.5 \times 4 \times 2.9 \\ &\quad \downarrow \\ &= \square \\ &= \end{aligned}$$





小数のかけ算 18

◎ かけ算のくふう (順番)



日にち： 月 日

名まえ _____

・ 次の式をくふうして計算しましょう。(うすい字は、なぞりましょう。)

$$\begin{aligned} \textcircled{1} \quad 2.5 \times 8.6 \times 4 &= 2.5 \times 4 \times 8.6 \\ &\quad \downarrow \\ &= 10 \times \\ &= \end{aligned}$$

$$\begin{aligned} \textcircled{2} \quad 2.5 \times 1.2 \times 8 &= \quad \times \quad \times 1.2 \\ &\quad \downarrow \\ &= 20 \times \\ &= \end{aligned}$$

$$\begin{aligned} \textcircled{3} \quad 1.25 \times 5.1 \times 8 &= \quad \times \quad \times 5.1 \\ &\quad \downarrow \\ &= 10 \times \\ &= \end{aligned}$$



小数のかけ算 18

◎ かけ算のくふう (順番)



日にち： 月 日

名まえ _____

・ 次の式をくふうして計算しましょう。(うすい字は、なぞりましょう。)

$$\begin{aligned} \textcircled{1} \quad 2.5 \times 0.7 \times 8 &= \boxed{\quad} \times \boxed{\quad} \times 0.7 \\ &\quad \downarrow \\ &= \boxed{20} \times \quad \\ &= \end{aligned}$$

$$\begin{aligned} \textcircled{2} \quad 2.5 \times 6.8 \times 4 &= \boxed{\quad} \times \boxed{\quad} \times 6.8 \\ &\quad \downarrow \\ &= \boxed{10} \times \quad \\ &= \end{aligned}$$

$$\begin{aligned} \textcircled{3} \quad 1.25 \times 1.7 \times 8 &= \boxed{\quad} \times \boxed{\quad} \times 1.7 \\ &\quad \downarrow \\ &= \boxed{\quad} \times \quad \\ &= \end{aligned}$$





小数のかけ算 18

◎ かけ算のくふう (順番)



日にち： 月 日

名まえ _____

・ 次の式をくふうして計算しましょう。(うすい字は、なぞりましょう。)

① $1.25 \times 3.6 \times 8 = 1.25 \times 8 \times 3.6$

=

=

② $2.5 \times 0.8 \times 4 =$

=

=

③ $2.5 \times 1.4 \times 8 =$

=

=





小数のかけ算 18

㊦ かけ算のくふう (順番)



日にち： 月 日

名まえ _____

・ 次の式をくふうして計算しましょう。(うすい字は、なぞりましょう。)

① $2.5 \times 7.6 \times 4 = 2.5 \times 4 \times 7.6$

=

=

② $2.5 \times 3.1 \times 8 =$

=

=

③ $1.25 \times 9.8 \times 8 =$

=

=





小数のかけ算 18

㊦ かけ算のくふう (順番)



日にち： 月 日

名まえ _____

・ 次の式をくふうして計算しましょう。(うすい字は、なぞりましょう。)

① $8 \times 6.2 \times 1.25 = 8 \times 1.25 \times 6.2$

=

=

② $4 \times 1.7 \times 2.5 =$

=

=

③ $8 \times 2.3 \times 2.5 =$

=

=





小数のかけ算 18

◎ かけ算のくふう (順番)



日にち： 月 日

名まえ _____

・ 次の式をくふうして計算しましょう。

① $4 \times 7.8 \times 2.5 =$

② $4 \times 5.6 \times 2.5 =$

③ $8 \times 0.6 \times 2.5 =$

④ $8 \times 1.4 \times 1.25 =$





小数のかけ算 18

㊦ かけ算のくふう (順番)



日にち： 月 日

名まえ _____

・ 次の式をくふうして計算しましょう。

① $2.5 \times 0.7 \times 8 =$

② $2.5 \times 2.1 \times 8 =$

③ $4 \times 0.6 \times 2.5 =$

④ $1.25 \times 1.7 \times 8 =$





小数のかけ算 18

㊦ かけ算のくふう (順番)

12

日にち： 月 日

名まえ _____

・ 次の式をくふうして計算しましょう。

① $4 \times 5.6 \times 2.5 =$

② $2.5 \times 0.9 \times 8 =$

③ $8 \times 2.4 \times 2.5 =$

④ $1.25 \times 6.9 \times 8 =$





小数のかけ算 18

㊦ かけ算のくふう (順番)

13

日にち： 月 日

名まえ _____

・ 次の式をくふうして計算しましょう。

① $2.5 \times 2.2 \times 8 =$

② $2.5 \times 9.3 \times 4 =$

③ $8 \times 3.1 \times 2.5 =$

④ $1.25 \times 1.9 \times 8 =$





小数のかけ算 18

◎ かけ算のくふう (順番)

14

日にち： 月 日

名まえ _____

・ 次の式をくふうして計算しましょう。

① $8 \times 4.4 \times 2.5 =$

② $2.5 \times 9.2 \times 4 =$

③ $8 \times 0.7 \times 2.5 =$

④ $1.25 \times 2.6 \times 8 =$



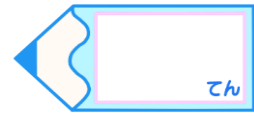


小数のかけ算 18

◎ かけ算のくふう (順番)

15

目指せ75点!



名まえ _____

・ 次の式をくふうして計算しましょう。(各25点)

① $2.5 \times 0.9 \times 4 =$

② $2.5 \times 2.3 \times 8 =$

③ $4 \times 0.8 \times 2.5 =$

④ $1.25 \times 1.9 \times 8 =$



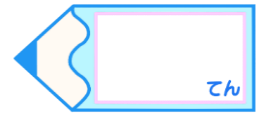


小数のかけ算 18

◎ かけ算のくふう (順番)

16

目指せ75点!



名まえ _____

・ 次の式をくふうして計算しましょう。(各25点)

① $4 \times 4.9 \times 2.5 =$

② $2.5 \times 3.3 \times 8 =$

③ $8 \times 0.7 \times 2.5 =$

④ $1.25 \times 2.1 \times 8 =$





小数のかけ算 18

㊦ かけ算のくふう (順番)



日にち： 月 日

名まえ _____

・ 次の式をくふうして計算しましょう。(うすい字は、なぞりましょう。)

$$\begin{aligned} \textcircled{1} \quad 3.8 \times 4 \times 2.5 &= 4 \times 2.5 \times 3.8 \\ &\quad \downarrow \\ &= 10 \times 3.8 \\ &= 38 \end{aligned}$$

$$\begin{aligned} \textcircled{2} \quad 2.5 \times 3.2 \times 8 &= 2.5 \times 8 \times 3.2 \\ &\quad \downarrow \\ &= 20 \times 3.2 \\ &= 64 \end{aligned}$$

$$\begin{aligned} \textcircled{3} \quad 1.25 \times 1.8 \times 8 &= 1.25 \times 8 \times 1.8 \\ &\quad \downarrow \\ &= 10 \times 1.8 \\ &= 18 \end{aligned}$$





小数のかけ算 18

◎ かけ算のくふう (順番)



日にち： 月 日

名まえ _____

・ 次の式をくふうして計算しましょう。(うすい字は、なぞりましょう。)

$$\begin{aligned} \textcircled{1} \quad 2.1 \times 4 \times 2.5 &= 4 \times 2.5 \times 2.1 \\ &\quad \downarrow \\ &= 10 \times 2.1 \\ &= 21 \end{aligned}$$

$$\begin{aligned} \textcircled{2} \quad 2.5 \times 2.8 \times 8 &= 2.5 \times 8 \times 2.8 \\ &\quad \downarrow \\ &= 20 \times 2.8 \\ &= 56 \end{aligned}$$

$$\begin{aligned} \textcircled{3} \quad 1.25 \times 3.2 \times 8 &= 1.25 \times 8 \times 3.2 \\ &\quad \downarrow \\ &= 10 \times 3.2 \\ &= 32 \end{aligned}$$





小数のかけ算 18

◎ かけ算のくふう (順番)



日にち： 月 日

名まえ _____

・ 次の式をくふうして計算しましょう。(うすい字は、なぞりましょう。)

$$\begin{aligned} \textcircled{1} \quad 8 \times 4.3 \times 2.5 &= 8 \times 2.5 \times 4.3 \\ &\quad \downarrow \\ &= 20 \times 4.3 \\ &= 86 \end{aligned}$$

$$\begin{aligned} \textcircled{2} \quad 3.2 \times 2.5 \times 4 &= 2.5 \times 4 \times 3.2 \\ &\quad \downarrow \\ &= 10 \times 3.2 \\ &= 32 \end{aligned}$$

$$\begin{aligned} \textcircled{3} \quad 8 \times 1.3 \times 1.25 &= 8 \times 1.25 \times 1.3 \\ &\quad \downarrow \\ &= 10 \times 1.3 \\ &= 13 \end{aligned}$$





小数のかけ算 18

◎ かけ算のくふう (順番)

4

日にち： 月 日

名まえ _____

・ 次の式をくふうして計算しましょう。(うすい字は、なぞりましょう。)

$$\begin{aligned} \textcircled{1} \quad 1.25 \times 6.8 \times 8 &= 1.25 \times 8 \times 6.8 \\ &\downarrow \\ &= 10 \times 6.8 \\ &= 68 \end{aligned}$$

$$\begin{aligned} \textcircled{2} \quad 2.5 \times 1.2 \times 8 &= 8 \times 2.5 \times 1.2 \\ &\downarrow \\ &= 20 \times 1.2 \\ &= 24 \end{aligned}$$

$$\begin{aligned} \textcircled{3} \quad 2.5 \times 2.9 \times 4 &= 2.5 \times 4 \times 2.9 \\ &\downarrow \\ &= 10 \times 2.9 \\ &= 29 \end{aligned}$$





小数のかけ算 18

◎ かけ算のくふう (順番)

5

日にち： 月 日

名まえ _____

・ 次の式をくふうして計算しましょう。(うすい字は、なぞりましょう。)

$$\begin{aligned} \textcircled{1} \quad 2.5 \times 8.6 \times 4 &= 2.5 \times 4 \times 8.6 \\ &\quad \downarrow \\ &= 10 \times 8.6 \\ &= 86 \end{aligned}$$

$$\begin{aligned} \textcircled{2} \quad 2.5 \times 1.2 \times 8 &= 2.5 \times 8 \times 1.2 \\ &\quad \downarrow \\ &= 20 \times 1.2 \\ &= 24 \end{aligned}$$

$$\begin{aligned} \textcircled{3} \quad 1.25 \times 5.1 \times 8 &= 1.25 \times 8 \times 5.1 \\ &\quad \downarrow \\ &= 10 \times 5.1 \\ &= 51 \end{aligned}$$





小数のかけ算 18

◎ かけ算のくふう (順番)



日にち： 月 日

名まえ _____

・ 次の式をくふうして計算しましょう。(うすい字は、なぞりましょう。)

$$\begin{aligned} \textcircled{1} \quad 2.5 \times 0.7 \times 8 &= 2.5 \times 8 \times 0.7 \\ &\quad \downarrow \\ &= 20 \times 0.7 \\ &= 14 \end{aligned}$$

$$\begin{aligned} \textcircled{2} \quad 2.5 \times 6.8 \times 4 &= 2.5 \times 4 \times 6.8 \\ &\quad \downarrow \\ &= 10 \times 6.8 \\ &= 68 \end{aligned}$$

$$\begin{aligned} \textcircled{3} \quad 1.25 \times 1.7 \times 8 &= 1.25 \times 8 \times 1.7 \\ &\quad \downarrow \\ &= 10 \times 1.7 \\ &= 17 \end{aligned}$$





小数のかけ算 18

◎ かけ算のくふう (順番)



日にち： 月 日

名まえ _____

・ 次の式をくふうして計算しましょう。(うすい字は、なぞりましょう。)

$$\begin{aligned} \textcircled{1} \quad 1.25 \times 3.6 \times 8 &= 1.25 \times 8 \times 3.6 \\ &\quad \downarrow \\ &= 10 \times 3.6 \\ &= 36 \end{aligned}$$

$$\begin{aligned} \textcircled{2} \quad 2.5 \times 0.8 \times 4 &= 2.5 \times 4 \times 0.8 \\ &\quad \downarrow \\ &= 10 \times 0.8 \\ &= 8 \end{aligned}$$

$$\begin{aligned} \textcircled{3} \quad 2.5 \times 1.4 \times 8 &= 2.5 \times 8 \times 1.4 \\ &\quad \downarrow \\ &= 20 \times 1.4 \\ &= 28 \end{aligned}$$





小数のかけ算 18

◎ かけ算のくふう (順番)



日にち： 月 日

名まえ _____

・ 次の式をくふうして計算しましょう。(うすい字は、なぞりましょう。)

$$\begin{aligned} \textcircled{1} \quad 2.5 \times 7.6 \times 4 &= 2.5 \times 4 \times 7.6 \\ &\quad \downarrow \\ &= 10 \times 7.6 \\ &= 76 \end{aligned}$$

$$\begin{aligned} \textcircled{2} \quad 2.5 \times 3.1 \times 8 &= 2.5 \times 8 \times 3.1 \\ &\quad \downarrow \\ &= 20 \times 3.1 \\ &= 62 \end{aligned}$$

$$\begin{aligned} \textcircled{3} \quad 1.25 \times 9.8 \times 8 &= 1.25 \times 8 \times 9.8 \\ &\quad \downarrow \\ &= 10 \times 9.8 \\ &= 98 \end{aligned}$$





小数のかけ算 18

㊦ かけ算のくふう (順番)



日にち： 月 日

名まえ _____

・ 次の式をくふうして計算しましょう。(うすい字は、なぞりましょう。)

$$\begin{aligned} \textcircled{1} \quad 8 \times 6.2 \times 1.25 &= 8 \times 1.25 \times 6.2 \\ &\quad \downarrow \\ &= 10 \times 6.2 \\ &= 62 \end{aligned}$$

$$\begin{aligned} \textcircled{2} \quad 4 \times 1.7 \times 2.5 &= 4 \times 2.5 \times 1.7 \\ &\quad \downarrow \\ &= 10 \times 1.7 \\ &= 17 \end{aligned}$$

$$\begin{aligned} \textcircled{3} \quad 8 \times 2.3 \times 2.5 &= 8 \times 2.5 \times 2.3 \\ &\quad \downarrow \\ &= 20 \times 2.3 \\ &= 46 \end{aligned}$$





小数のかけ算 18

㊦ かけ算のくふう (順番)



日にち： 月 日

名まえ _____

・ 次の式をくふうして計算しましょう。

$$\begin{aligned} \textcircled{1} \quad 4 \times 7.8 \times 2.5 &= 4 \times 2.5 \times 7.8 \\ &= 10 \times 7.8 \\ &= 78 \end{aligned}$$

$$\begin{aligned} \textcircled{2} \quad 4 \times 5.6 \times 2.5 &= 4 \times 2.5 \times 5.6 \\ &= 10 \times 5.6 \\ &= 56 \end{aligned}$$

$$\begin{aligned} \textcircled{3} \quad 8 \times 0.6 \times 2.5 &= 8 \times 2.5 \times 0.6 \\ &= 20 \times 0.6 \\ &= 12 \end{aligned}$$

$$\begin{aligned} \textcircled{4} \quad 8 \times 1.4 \times 1.25 &= 8 \times 1.25 \times 1.4 \\ &= 10 \times 1.4 \\ &= 14 \end{aligned}$$





小数のかけ算 18

㊦ かけ算のくふう (順番)



日にち： 月 日

名まえ _____

・ 次の式をくふうして計算しましょう。

$$\begin{aligned} \textcircled{1} \quad 2.5 \times 0.7 \times 8 &= 2.5 \times 8 \times 0.7 \\ &= 20 \times 0.7 \\ &= 14 \end{aligned}$$

$$\begin{aligned} \textcircled{2} \quad 2.5 \times 2.1 \times 8 &= 2.5 \times 8 \times 2.1 \\ &= 20 \times 2.1 \\ &= 42 \end{aligned}$$

$$\begin{aligned} \textcircled{3} \quad 4 \times 0.6 \times 2.5 &= 4 \times 2.5 \times 0.6 \\ &= 10 \times 0.6 \\ &= 6 \end{aligned}$$

$$\begin{aligned} \textcircled{4} \quad 1.25 \times 1.7 \times 8 &= 1.25 \times 8 \times 1.7 \\ &= 10 \times 1.7 \\ &= 17 \end{aligned}$$





小数のかけ算 18

㊦ かけ算のくふう (順番)



日にち： 月 日

名まえ _____

・ 次の式をくふうして計算しましょう。

$$\begin{aligned} \textcircled{1} \quad 4 \times 5.6 \times 2.5 &= 4 \times 2.5 \times 5.6 \\ &= 10 \times 5.6 \\ &= 56 \end{aligned}$$

$$\begin{aligned} \textcircled{2} \quad 2.5 \times 0.9 \times 8 &= 2.5 \times 8 \times 0.9 \\ &= 20 \times 0.9 \\ &= 18 \end{aligned}$$

$$\begin{aligned} \textcircled{3} \quad 8 \times 2.4 \times 2.5 &= 8 \times 2.5 \times 2.4 \\ &= 20 \times 2.4 \\ &= 48 \end{aligned}$$

$$\begin{aligned} \textcircled{4} \quad 1.25 \times 6.9 \times 8 &= 1.25 \times 8 \times 6.9 \\ &= 10 \times 6.9 \\ &= 69 \end{aligned}$$





小数のかけ算 18

㊦ かけ算のくふう (順番)

13

日にち： 月 日

名まえ _____

・ 次の式をくふうして計算しましょう。

$$\begin{aligned} \textcircled{1} \quad 2.5 \times 2.2 \times 8 &= 2.5 \times 8 \times 2.2 \\ &= 20 \times 2.2 \\ &= 44 \end{aligned}$$

$$\begin{aligned} \textcircled{2} \quad 2.5 \times 9.3 \times 4 &= 2.5 \times 4 \times 9.3 \\ &= 10 \times 9.3 \\ &= 93 \end{aligned}$$

$$\begin{aligned} \textcircled{3} \quad 8 \times 3.1 \times 2.5 &= 8 \times 2.5 \times 3.1 \\ &= 20 \times 3.1 \\ &= 62 \end{aligned}$$

$$\begin{aligned} \textcircled{4} \quad 1.25 \times 1.9 \times 8 &= 1.25 \times 8 \times 1.9 \\ &= 10 \times 1.9 \\ &= 19 \end{aligned}$$





小数のかけ算 18

◎ かけ算のくふう (順番)

14

日にち： 月 日

名まえ _____

・ 次の式をくふうして計算しましょう。

$$\begin{aligned} \textcircled{1} \quad 8 \times 4.4 \times 2.5 &= 8 \times 2.5 \times 4.4 \\ &= 20 \times 4.4 \\ &= 88 \end{aligned}$$

$$\begin{aligned} \textcircled{2} \quad 2.5 \times 9.2 \times 4 &= 2.5 \times 4 \times 9.2 \\ &= 10 \times 9.2 \\ &= 92 \end{aligned}$$

$$\begin{aligned} \textcircled{3} \quad 8 \times 0.7 \times 2.5 &= 8 \times 2.5 \times 0.7 \\ &= 20 \times 0.7 \\ &= 14 \end{aligned}$$

$$\begin{aligned} \textcircled{4} \quad 1.25 \times 2.6 \times 8 &= 1.25 \times 8 \times 2.6 \\ &= 10 \times 2.6 \\ &= 26 \end{aligned}$$



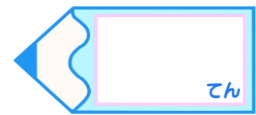


小数のかけ算 18

◎ かけ算のくふう (順番)

15

目指せ75点!



名まえ _____

・ 次の式をくふうして計算しましょう。(各25点)

$$\begin{aligned} \textcircled{1} \quad 2.5 \times 0.9 \times 4 &= 2.5 \times 4 \times 0.9 \\ &= 10 \times 0.9 \\ &= 9 \end{aligned}$$

$$\begin{aligned} \textcircled{2} \quad 2.5 \times 2.3 \times 8 &= 2.5 \times 8 \times 2.3 \\ &= 20 \times 2.3 \\ &= 46 \end{aligned}$$

$$\begin{aligned} \textcircled{3} \quad 4 \times 0.8 \times 2.5 &= 4 \times 2.5 \times 0.8 \\ &= 10 \times 0.8 \\ &= 8 \end{aligned}$$

$$\begin{aligned} \textcircled{4} \quad 1.25 \times 1.9 \times 8 &= 1.25 \times 8 \times 1.9 \\ &= 10 \times 1.9 \\ &= 19 \end{aligned}$$



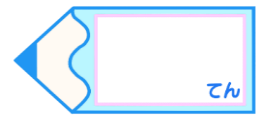


小数のかけ算 18

◎ かけ算のくふう (順番)

16

目指せ75点!



名まえ _____

・ 次の式をくふうして計算しましょう。(各25点)

$$\begin{aligned} \textcircled{1} \quad 4 \times 4.9 \times 2.5 &= 4 \times 2.5 \times 4.9 \\ &= 10 \times 4.9 \\ &= 49 \end{aligned}$$

$$\begin{aligned} \textcircled{2} \quad 2.5 \times 3.3 \times 8 &= 2.5 \times 8 \times 3.3 \\ &= 20 \times 3.3 \\ &= 66 \end{aligned}$$

$$\begin{aligned} \textcircled{3} \quad 8 \times 0.7 \times 2.5 &= 8 \times 2.5 \times 0.7 \\ &= 20 \times 0.7 \\ &= 14 \end{aligned}$$

$$\begin{aligned} \textcircled{4} \quad 1.25 \times 2.1 \times 8 &= 1.25 \times 8 \times 2.1 \\ &= 10 \times 2.1 \\ &= 21 \end{aligned}$$

