



# 小数のわり算 10

◎ わりすすみ (3けた)



日にち：            月            日

名まえ \_\_\_\_\_

・ 次の計算をしなさい。(うすい文字は、しっかりなぞりましょう)

①

				1	5		
3	1	4	)	4	7	1	0
				3	1	4	
				1	5	7	0
				1	5	7	0
							0

②

					3		
1	6	6	)	5	8	1	0
				4	9	8	
				8	3	0	

③

$6.09 \div 4.35$

					1	
4	3	5	)	6	0	9

④

$6.51 \div 1.86$

			)				

⑤

$7.38 \div 2.05$


			)				

⑥

$5.13 \div 3.42$

			)				





# 小数のわり算 10

◎ わりすすみ (3けた)



日にち： 月 日

名まえ

・ 次の計算をなさい。(うすい文字は、しっかりなぞりましょう)

①

				4	5					
1	.	1	6	)	5	.	2	2	.	0
				4	6	4				
				5	8	0				
				5	8	0				
										0

②

						2				
3	.	3	4	)	8	.	3	5	.	0
					6	6	8			
					1	6	7	0		

③

9.23 ÷ 3.55

						2				
3	.	5	5	)	9	.	2	3	.	

④

7.93 ÷ 1.22



⑤

6.48 ÷ 1.44


⑥

6.09 ÷ 4.06



# 小数のわり算 10

◎ わりすすみ (3けた)



日にち：            月            日

名まえ \_\_\_\_\_

・ 次の計算をなさい。(うすい文字は、しっかりなぞりましょう)

①

				1	5		
3	3	6	)	5	0	4	0
				3	3	6	
				1	6	8	0
				1	6	8	0
							0

②

					2		
3	9	5	)	8	6	9	0
				7	9	0	
				7	9	0	

③

8.32 ÷ 1.28

1	2	8	)	8	3	2	0
---	---	---	---	---	---	---	---

④

9.85 ÷ 3.94

--	--	--	--	--	--	--	--

⑤

7.44 ÷ 4.96


--	--	--	--	--	--	--	--

⑥

3.78 ÷ 1.35

--	--	--	--	--	--	--	--





# 小数のわり算 10

◎ わりすすみ (3けた)



日にち：            月            日

名まえ \_\_\_\_\_

・ 次の計算をなさい。(うすい文字は、しっかりなぞりましょう)

①

				1	5			
3	2	4	)	4	8	6	.	0
				3	2	4		
				1	6	2	0	
				1	6	2	0	
							0	

②

					1	.		
4	7	5	)	8	5	5	.	0
				4	7	5		
				3	8	0	0	

③

9.66 ÷ 2.76

2	7	6	)	9	6	6	.
---	---	---	---	---	---	---	---

④

6.78 ÷ 4.52

			)				
--	--	--	---	--	--	--	--

⑤

8.19 ÷ 3.15

			)				
--	--	--	---	--	--	--	--

⑥

7.14 ÷ 1.05

			)				
--	--	--	---	--	--	--	--





# 小数のわり算 10

◎ わりすすみ (3けた)



日にち：            月            日

名まえ \_\_\_\_\_

・ 次の計算をなさい。(うすい文字は、しっかりなぞりましょう)

①

				3.5
2.56	)	8.96	.	0
		768		
		128	0	
		128	0	
			0	

②

				1.
4.26	)	6.39	.	0
		426		
		213	0	

③

$5.28 \div 3.52$

3.52	)	5.28	.	

④

$9.43 \div 2.05$



⑤

$6.21 \div 4.14$


⑥

$9.24 \div 3.85$



# 小数のわり算 10

◎ わりすすみ (3けた)



日にち：            月            日

名まえ \_\_\_\_\_

・ 次の計算をなさい。(うすい文字は、しっかりなぞりましょう)

①

				2	4			
1	9	5	)	4	6	8	.	0
				3	9	0		
				7	8	0		
				7	8	0		
								0

②

					1			
2	2	5	)	3	1	5	.	0
				2	2	5		
				9	0	0		

③  $4.86 \div 3.24$

3	2	4	)	4	8	6	.
---	---	---	---	---	---	---	---

④  $7.14 \div 4.76$

			)				
--	--	--	---	--	--	--	--

⑤  $8.58 \div 1.32$


			)				
--	--	--	---	--	--	--	--

⑥  $5.46 \div 1.95$

			)				
--	--	--	---	--	--	--	--







# 小数のわり算 10

◎ わりすすみ (3けた)



日にち：            月            日

名まえ \_\_\_\_\_

・ 次の計算をなさい。(うすい文字は、しっかりなぞりましょう)

①

				3.5
2.04	)	7.14	○	
		612		
		1020		
		1020		
				0

②

				1
4.64	)	6.96	○	
		464		
		2320		

③ 8.12 ÷ 2.32

2.32	)	8.12	.
------	---	------	---

④ 8.55 ÷ 4.75

	)		
--	---	--	--

⑤ 6.32 ÷ 3.95

	)		
--	---	--	--

⑥ 8.97 ÷ 3.45

	)		
--	---	--	--







# 小数のわり算 10

◎ わりすすみ (3けた)



日にち：            月            日

名まえ \_\_\_\_\_

・ 次の計算をなさい。(うすい文字は、しっかりなぞりましょう)

①

				3	8		
2	0	5	)	7	7	9	0
				6	1	5	
				1	6	4	0
				1	6	4	0
							0

②

					3		
1	9	5	)	6	6	3	0
				5	8	5	
					7	8	0

③

8.55 ÷ 4.75

4	7	5	)	8	5	5	.
---	---	---	---	---	---	---	---

④

7.02 ÷ 1.56

--	--	--	--	--	--	--	--

⑤

8.93 ÷ 2.35

--	--	--	--	--	--	--	--

⑥

9.54 ÷ 2.12

--	--	--	--	--	--	--	--





# 小数のわり算 10

◎ わりすすみ (3けた)



日にち：            月            日

名まえ

---

・ 次の計算をなさい。(うすい枠は、しっかりなぞりましょう)


①  $7.29 \div 4.86$



②  $9.17 \div 2.62$



③  $8.37 \div 2.7$




④  $8.71 \div 1.34$



⑤  $8.5 \div 2.5$



⑥  $6.86 \div 2.45$





# 小数のわり算 10

◎ わりすすみ (3けた)



日にち：            月            日

名まえ

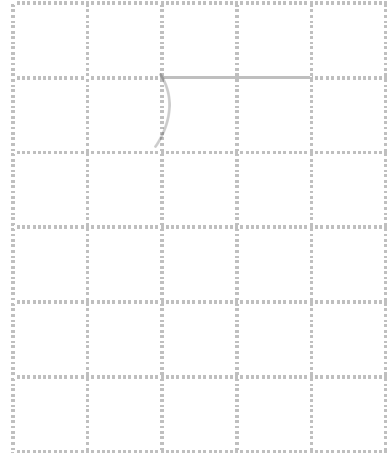
---

・ 次の計算をなさい。(うすい枠は、しっかりなぞりましょう)

①  $6.24 \div 4.16$




②  $8.4 \div 1.5$



③  $7.56 \div 1.68$




④  $3.51 \div 3.9$



⑤  $8.52 \div 3.55$



⑥  $5.28 \div 3.52$





# 小数のわり算 10

◎ わりすすみ (3けた)



日にち：            月            日

名まえ

---

・ 次の計算をなさい。(うすい枠は、しっかりなぞりましょう)


①  $4.27 \div 1.22$



②  $9.54 \div 2.12$



③  $7.84 \div 1.6$




④  $8.55 \div 4.75$



⑤  $7.2 \div 1.6$



⑥  $8.04 \div 3.35$





# 小数のわり算 10

◎ わりすすみ (3けた)

13


日にち：            月            日

名まえ

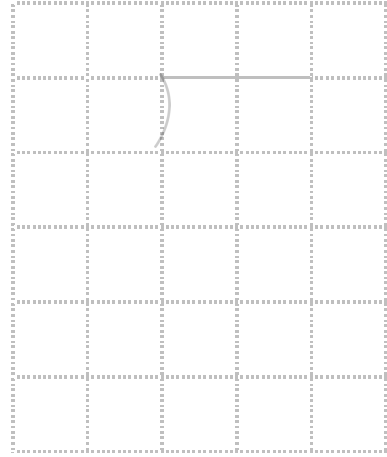
---

・ 次の計算をなさい。(うすい枠は、しっかりなぞりましょう)

①  $7.29 \div 4.86$




②  $7.28 \div 2.6$



③  $8.55 \div 3.42$




④  $1.61 \div 2.3$



⑤  $5.64 \div 3.76$



⑥  $9.92 \div 1.55$





# 小数のわり算 10

◎ わりすすみ (3けた)

14


日にち：            月            日

名まえ

---

・ 次の計算をなさい。(うすい枠は、しっかりなぞりましょう)


①  $9.35 \div 2.75$



②  $7.45 \div 2.98$



③  $9.36 \div 2.6$




④  $5.31 \div 1.18$



⑤  $8.5 \div 2.5$



⑥  $8.26 \div 2.95$





# 小数のわり算 10

◎ わりすすみ (3けた)

15

点数 点

目指せ80点!

名まえ

・ 次の計算をなさい。

(各20点)

①  $4.44 \div 2.96$



②  $4.23 \div 4.7$


③  $9.46 \div 2.15$


④  $9.36 \div 2.08$


⑤  $8.19 \div 2.34$



# 小数のわり算 10

◎ わりすすみ (3けた)

16

点数 点

目指せ80点!

名まえ \_\_\_\_\_

・ 次の計算をしなさい。

(各20点)

①  $5.95 \div 2.38$

②  $8.85 \div 3.54$

③  $9.8 \div 3.5$

④  $6.54 \div 4.36$

⑤  $8.01 \div 1.78$









# 小数のわり算 10

◎ わりすすみ (3けた)



日にち： 月 日

名まえ

・ 次の計算をしなさい。(うすい文字は、しっかりなぞりましょう)

①

$$\begin{array}{r}
 4.5 \\
 1.16 \overline{) 5.220} \\
 \underline{464} \phantom{0} \\
 580 \\
 \underline{580} \\
 0
 \end{array}$$

②

$$\begin{array}{r}
 2.5 \\
 3.34 \overline{) 8.350} \\
 \underline{668} \phantom{0} \\
 1670 \\
 \underline{830} \\
 0
 \end{array}$$

③

9.23 ÷ 3.55

$$\begin{array}{r}
 2.6 \\
 3.55 \overline{) 9.230} \\
 \underline{710} \phantom{0} \\
 2130 \\
 \underline{2130} \\
 0
 \end{array}$$

④

7.93 ÷ 1.22

$$\begin{array}{r}
 6.5 \\
 1.22 \overline{) 7.930} \\
 \underline{732} \phantom{0} \\
 610 \\
 \underline{610} \\
 0
 \end{array}$$

⑤

6.48 ÷ 1.44


$$\begin{array}{r}
 4.5 \\
 1.44 \overline{) 6.480} \\
 \underline{576} \phantom{0} \\
 720 \\
 \underline{720} \\
 0
 \end{array}$$

⑥

6.09 ÷ 4.06

$$\begin{array}{r}
 1.5 \\
 4.06 \overline{) 6.090} \\
 \underline{406} \phantom{0} \\
 2030 \\
 \underline{2030} \\
 0
 \end{array}$$





# 小数のわり算 10

◎ わりすすみ (3けた)



日にち： 月 日

名まえ

・ 次の計算をなさい。(うすい文字は、しっかりなぞりましょう)

①

$$\begin{array}{r} 1.5 \\ 336 \overline{) 5040} \\ \underline{336} \phantom{0} \\ 1680 \\ \underline{1680} \\ 0 \end{array}$$

②

$$\begin{array}{r} 2.2 \\ 395 \overline{) 8690} \\ \underline{790} \phantom{0} \\ 790 \\ \underline{790} \\ 0 \end{array}$$

③  $8.32 \div 1.28$

$$\begin{array}{r} 6.5 \\ 128 \overline{) 8320} \\ \underline{768} \phantom{0} \\ 640 \\ \underline{640} \\ 0 \end{array}$$

④  $9.85 \div 3.94$

$$\begin{array}{r} 2.5 \\ 394 \overline{) 9850} \\ \underline{788} \phantom{0} \\ 1970 \\ \underline{1970} \\ 0 \end{array}$$


⑤  $7.44 \div 4.96$

$$\begin{array}{r} 1.5 \\ 496 \overline{) 7440} \\ \underline{496} \phantom{0} \\ 2480 \\ \underline{2480} \\ 0 \end{array}$$

⑥  $3.78 \div 1.35$

$$\begin{array}{r} 2.8 \\ 135 \overline{) 3780} \\ \underline{270} \phantom{0} \\ 1080 \\ \underline{2080} \\ 0 \end{array}$$





# 小数のわり算 10

◎ わりすすみ (3けた)



日にち：      月      日

名まえ \_\_\_\_\_

・ 次の計算をなさい。(うすい文字は、しっかりなぞりましょう)

①

$$\begin{array}{r}
 1.5 \\
 3.24 \overline{) 4.860} \\
 \underline{3.24} \phantom{0} \\
 1.620 \\
 \underline{1.62} 0 \\
 0
 \end{array}$$

②

$$\begin{array}{r}
 1.8 \\
 4.75 \overline{) 8.550} \\
 \underline{4.75} \phantom{0} \\
 3.800 \\
 \underline{3.80} 0 \\
 0
 \end{array}$$

③

9.66 ÷ 2.76

$$\begin{array}{r}
 3.5 \\
 2.76 \overline{) 9.660} \\
 \underline{8.28} \phantom{0} \\
 1.380 \\
 \underline{1.38} 0 \\
 0
 \end{array}$$

④

6.78 ÷ 4.52

$$\begin{array}{r}
 1.5 \\
 4.52 \overline{) 6.780} \\
 \underline{4.52} \phantom{0} \\
 2.260 \\
 \underline{2.26} 0 \\
 0
 \end{array}$$

⑤

8.19 ÷ 3.15

$$\begin{array}{r}
 2.6 \\
 3.15 \overline{) 8.190} \\
 \underline{6.30} \phantom{0} \\
 1.890 \\
 \underline{1.89} 0 \\
 0
 \end{array}$$

⑥

7.14 ÷ 1.05

$$\begin{array}{r}
 6.8 \\
 1.05 \overline{) 7.140} \\
 \underline{6.30} \phantom{0} \\
 840 \\
 \underline{840} \\
 0
 \end{array}$$





# 小数のわり算 10



◎ わりすすみ (3けた)

日にち：            月            日

名まえ \_\_\_\_\_

・ 次の計算をなさい。(うすい文字は、しっかりなぞりましょう)

①

$$\begin{array}{r}
 3.5 \\
 2.56 \overline{) 8960} \\
 \underline{768} \phantom{0} \\
 1280 \\
 \underline{1280} \\
 0
 \end{array}$$

②

$$\begin{array}{r}
 1.5 \\
 4.26 \overline{) 6390} \\
 \underline{426} \phantom{0} \\
 2130 \\
 \underline{2130} \\
 0
 \end{array}$$

③

5.28 ÷ 3.52

$$\begin{array}{r}
 1.5 \\
 3.52 \overline{) 5280} \\
 \underline{352} \phantom{0} \\
 1760 \\
 \underline{1760} \\
 0
 \end{array}$$

④

9.43 ÷ 2.05

$$\begin{array}{r}
 4.6 \\
 2.05 \overline{) 9430} \\
 \underline{820} \phantom{0} \\
 1230 \\
 \underline{1230} \\
 0
 \end{array}$$

⑤

6.21 ÷ 4.14


$$\begin{array}{r}
 1.5 \\
 4.14 \overline{) 6210} \\
 \underline{414} \phantom{0} \\
 2070 \\
 \underline{2070} \\
 0
 \end{array}$$

⑥

9.24 ÷ 3.85

$$\begin{array}{r}
 2.4 \\
 3.85 \overline{) 9240} \\
 \underline{770} \phantom{0} \\
 1540 \\
 \underline{1540} \\
 0
 \end{array}$$





# 小数のわり算 10

◎ わりすすみ (3けた)



日にち： 月 日

名まえ

・ 次の計算をなさい。(うすい文字は、しっかりなぞりましょう)

①

$$\begin{array}{r} 2.4 \\ 1.95 \overline{)4680} \\ \underline{390} \\ 780 \\ \underline{780} \\ 0 \end{array}$$

②

$$\begin{array}{r} 1.4 \\ 2.25 \overline{)3150} \\ \underline{225} \\ 900 \\ \underline{900} \\ 0 \end{array}$$

③  $4.86 \div 3.24$

$$\begin{array}{r} 1.5 \\ 3.24 \overline{)4860} \\ \underline{324} \\ 1620 \\ \underline{1620} \\ 0 \end{array}$$

④  $7.14 \div 4.76$

$$\begin{array}{r} 1.5 \\ 4.76 \overline{)7140} \\ \underline{476} \\ 2380 \\ \underline{2380} \\ 0 \end{array}$$


⑤  $8.58 \div 1.32$

$$\begin{array}{r} 6.5 \\ 1.32 \overline{)8580} \\ \underline{792} \\ 660 \\ \underline{660} \\ 0 \end{array}$$

⑥  $5.46 \div 1.95$

$$\begin{array}{r} 2.8 \\ 1.95 \overline{)5460} \\ \underline{390} \\ 1560 \\ \underline{1560} \\ 0 \end{array}$$





# 小数のわり算 10

◎ わりすすみ (3けた)



日にち： 月 日

名まえ

・ 次の計算をなさい。(うすい文字は、しっかりなぞりましょう)

①

$$\begin{array}{r} 1.4 \\ 3.65 \overline{) 5.110} \\ \underline{365} \phantom{0} \\ 1460 \\ \underline{1460} \\ 0 \end{array}$$

②

$$\begin{array}{r} 1.5 \\ 3.96 \overline{) 5.940} \\ \underline{396} \phantom{0} \\ 1980 \\ \underline{1980} \\ 0 \end{array}$$

③  $8.54 \div 3.05$

$$\begin{array}{r} 2.8 \\ 3.05 \overline{) 8.540} \\ \underline{610} \phantom{0} \\ 2440 \\ \underline{2440} \\ 0 \end{array}$$

④  $4.68 \div 3.12$

$$\begin{array}{r} 1.5 \\ 3.12 \overline{) 4.680} \\ \underline{312} \phantom{0} \\ 1560 \\ \underline{1560} \\ 0 \end{array}$$

⑤  $8.61 \div 2.46$

$$\begin{array}{r} 3.5 \\ 2.46 \overline{) 8.610} \\ \underline{738} \phantom{0} \\ 1230 \\ \underline{1230} \\ 0 \end{array}$$

⑥  $1.48 \div 6.66$


$$\begin{array}{r} 4.5 \\ 6.66 \overline{) 1.480} \\ \underline{592} \phantom{0} \\ 740 \\ \underline{740} \\ 0 \end{array}$$











# 小数のわり算 10

◎ わりすすみ (3けた)



日にち： 月 日

名まえ

・ 次の計算をしなさい。(うすい枠は、しっかりなぞりましょう)

①  $7.29 \div 4.86$

				1.5		
4	8	6	7	2	9	0
			4	8	6	
			2	4	3	0
			2	4	3	0
						0

②  $9.17 \div 2.62$

				3.5		
2	6	2	9	1	7	0
			7	8	6	
			1	3	1	0
			1	3	1	0
						0

③  $8.37 \div 2.7$

				3.1	
2	7	8	3	7	
			8	1	
			2	7	
			2	7	
					0

④  $8.71 \div 1.34$

				6.5		
1	3	4	8	7	1	0
			8	0	4	
			6	7	0	
			6	7	0	
						0


⑤  $8.5 \div 2.5$

				3.4	
2	5	8	5	0	
			7	5	
			1	0	0
			1	0	0
					0

⑥  $6.86 \div 2.45$

				2.8		
2	4	5	6	8	6	0
			4	9	0	
			1	9	6	0
			1	9	6	0
						0





# 小数のわり算 10

◎ わりすすみ (3けた)



日にち： 月 日

名まえ

・ 次の計算をなさい。(うすい枠は、しっかりなぞりましょう)

①  $6.24 \div 4.16$

				1.5
4.16	)	6.24	0	
		4.16		
		2.08	0	
		2.08	0	
			0	

②  $8.4 \div 1.5$

				5.6
1.5	)	8.4	0	
		7.5		
		9.0		
		9.0		
			0	

③  $7.56 \div 1.68$

				4.5
1.68	)	7.56	0	
		6.72		
		8.40		
		8.40		
			0	

④  $3.51 \div 3.9$

				0.9
3.9	)	3.51		
		3.51		
			0	

⑤  $8.52 \div 3.55$


				2.4
3.55	)	8.52	0	
		7.10		
		1.42	0	
		1.42	0	
			0	

⑥  $5.28 \div 3.52$

				1.5
3.52	)	5.28	0	
		3.52		
		1.76	0	
		1.76	0	
			0	







# 小数のわり算 10

◎ わりすすみ (3けた)

13

日にち： 月 日

名まえ

・ 次の計算をなさい。(うすい枠は、しっかりなぞりましょう)

①  $7.29 \div 4.86$

				1.5			
4	8	6	)	7	2	9	0
				4	8	6	
				2	4	3	0
				2	4	3	0
							0

②  $7.28 \div 2.6$

				2.8	
2	6	)	7	2	8
			5	2	
			2	0	8
			2	0	8
					0

③  $8.55 \div 3.42$

				2.5			
3	4	2	)	8	5	5	0
				6	8	4	
				1	7	1	0
				1	7	1	0
							0

④  $1.61 \div 2.3$

				0.7	
2	3	)	1	6	1
			1	6	1
					0

⑤  $5.64 \div 3.76$

				1.5			
3	7	6	)	5	6	4	0
				3	7	6	
				1	8	8	0
				1	8	8	0
							0

⑥  $9.92 \div 1.55$

				6.4			
1	5	5	)	9	9	2	0
				9	3	0	
					6	2	0
					6	2	0
							0







# 小数のわり算 10

◎ わりすすみ (3けた)

# 15

点数 点

目指せ80点!

名まえ \_\_\_\_\_

・ 次の計算をなさい。

(各20点)

①  $4.44 \div 2.96$

				1.5
2.96	)	4.44	0	
		2.96		
		1.48	0	
		1.48	0	
			0	

②  $4.23 \div 4.7$

				0.9
4.7	)	4.23		
		4.23		
			0	

③  $9.46 \div 2.15$

				4.4
2.15	)	9.46	0	
		8.60		
		8.60		
		8.60		
			0	


④  $9.36 \div 2.08$

				4.5
2.08	)	9.36	0	
		8.32		
		1.04	0	
		1.04	0	
			0	

⑤  $8.19 \div 2.34$

				3.8
2.34	)	8.19	0	
		7.02		
		1.17	0	
		1.17	0	
			0	





# 小数のわり算 10

◎ わりすすみ (3けた)

16

点数 点

目指せ80点!

名まえ \_\_\_\_\_

・ 次の計算をなさい。

(各20点)

①  $5.95 \div 2.38$

$$\begin{array}{r}
 2.5 \\
 2.38 \overline{) 5.950} \\
 \underline{476} \\
 1190 \\
 \underline{1190} \\
 0
 \end{array}$$

②  $8.85 \div 3.54$

$$\begin{array}{r}
 2.5 \\
 3.54 \overline{) 8.850} \\
 \underline{708} \\
 1770 \\
 \underline{1770} \\
 0
 \end{array}$$

③  $9.8 \div 3.5$

$$\begin{array}{r}
 2.8 \\
 3.5 \overline{) 9.80} \\
 \underline{70} \\
 280 \\
 \underline{280} \\
 0
 \end{array}$$

④  $6.54 \div 4.36$

$$\begin{array}{r}
 1.5 \\
 4.36 \overline{) 6.540} \\
 \underline{436} \\
 2180 \\
 \underline{2180} \\
 0
 \end{array}$$

⑤  $8.01 \div 1.78$

$$\begin{array}{r}
 4.8 \\
 1.78 \overline{) 8.010} \\
 \underline{712} \\
 890 \\
 \underline{890} \\
 0
 \end{array}$$

