



小数のわり算 10

◎ わりすすみ (3けた)



日にち： 月 日

名まえ _____

・ 次の計算をしなさい。(うすい字は、なぞりましょう。)

①

				1	.	5
3	.	1	4)	4	7
					1	0
					3	1
					4	
					1	5
					7	0
					1	5
					7	0
						0

②

					3	.
1	.	6	6)	5	8
					1	0
					4	9
					8	
					8	3
					0	

③ $6.09 \div 4.35$

					1	.
4	.	3	5)	6	0
					9	

④ $6.51 \div 1.86$

⑤ $7.38 \div 2.05$

⑥ $5.13 \div 3.42$



小数のわり算 10

◎ わりすすみ (3けた)



日にち： 月 日

名まえ _____

・ 次の計算をしなさい。(うすい字は、なぞりましょう。)

①

				4	5				
1	.	1	6)	5	.	2	2	○
				4	6	4			
				5	8	0			
				5	8	0			
									0

②

								2	.
3	.	3	4)	8	.	3	5	○
					6	6	8		
					1	6	7	0	

③ $9.23 \div 3.55$

								2	.
3	.	5	5)	9	.	2	3	○

④ $7.93 \div 1.22$

)					

⑤ $6.48 \div 1.44$

⑥ $6.09 \div 4.06$



小数のわり算 10

◎ わりすすみ (3けた)



日にち： 月 日

名まえ _____

・ 次の計算をしなさい。(うすい字は、なぞりましょう。)

①

				1	5				
3	.	3	6)	5	.	0	4	○
				3	3	6			
				1	6	8	0		
				1	6	8	0		
									0

②

						2	.		
3	.	9	5)	8	.	6	9	○
				7	9	0			
				7	9	0			

③ $8.32 \div 1.28$

1	.	2	8)	8	.	3	2	○

④ $9.85 \div 3.94$

)					

⑤ $7.44 \div 4.96$

⑥ $3.78 \div 1.35$



小数のわり算 10

◎ わりすすみ (3けた)



日にち： 月 日

名まえ _____

・ 次の計算をしなさい。(うすい字は、なぞりましょう。)

①

				1	5				
3	.	2	4)	4	.	8	6	○
				3	2	4			
				1	6	2	0		
				1	6	2	0		
									0

②

					1	.			
4	.	7	5)	8	.	5	5	○
				4	7	5			
				3	8	0	0		

③ $9.66 \div 2.76$

2	.	7	6)	9	.	6	6	.

④ $6.78 \div 4.52$

)					

⑤ $8.19 \div 3.15$

⑥ $7.14 \div 1.05$



小数のわり算 10

◎ わりすすみ (3けた)



日にち： 月 日

名まえ _____

・ 次の計算をしなさい。(うすい字は、なぞりましょう。)

①

				3	5			
2	.	5	6)	8	9	6	○
				7	6	8		
				1	2	8	0	
				1	2	8	0	
							0	

②

								1
4	.	2	6)	6	3	9	○
				4	2	6		
				2	1	3	0	

③ $5.28 \div 3.52$

3	.	5	2)	5	2	8	.

④ $9.43 \div 2.05$

)				

⑤ $6.21 \div 4.14$

⑥ $9.24 \div 3.85$



小数のわり算 10

◎ わりすすみ (3けた)



日にち： 月 日

名まえ _____

・ 次の計算をしなさい。(うすい字は、なぞりましょう。)

①

				2	4				
1	.	9	5)	4	.	6	8	○
				3	9	0			
				7	8	0			
				7	8	0			
									0

②

								1	.
2	.	2	5)	3	.	1	5	○
				2	2	5			
				9	0	0			

③ $4.86 \div 3.24$

3	.	2	4)	4	.	8	6	.

④ $7.14 \div 4.76$

)					

⑤ $8.58 \div 1.32$

⑥ $5.46 \div 1.95$



小数のわり算 10

◎ わりすすみ (3けた)



日にち： 月 日

名まえ _____

・ 次の計算をしなさい。(うすい字は、なぞりましょう。)

①

				1	4				
3	.	6	5)	5	.	1	1	○
				3	6	5			
				1	4	6	0		
				1	4	6	0		
							0		

②

					1	.			
3	.	9	6)	5	.	9	4	○
				3	9	6			
				1	9	8	0		

③ $8.54 \div 3.05$

3	.	0	5)	8	.	5	4	.

④ $4.68 \div 3.12$

)					

⑤ $8.61 \div 2.46$

⑥ $6.66 \div 1.48$



小数のわり算 10

◎ わりすすみ (3けた)



日にち： 月 日

名まえ _____

・ 次の計算をしなさい。(うすい字は、なぞりましょう。)

①

				3	5				
2	.	0	4)	7	.	1	4	○
				6	1	2			
				1	0	2	0		
				1	0	2	0		
									0

②

								1	.
4	.	6	4)	6	.	9	6	○
				4	6	4			
				2	3	2	0		

③ $8.12 \div 2.32$

2	.	3	2)	8	.	1	2	.

④ $8.55 \div 4.75$

)					

⑤ $6.32 \div 3.95$

⑥ $8.97 \div 3.45$



小数のわり算 10

◎ わりすすみ (3けた)



日にち： 月 日

名まえ _____

・ 次の計算をしなさい。(うすい字は、なぞりましょう。)

①

				3	8				
2	.	0	5)	7	.	7	9	○
				6	1	5			
				1	6	4	0		
				1	6	4	0		
							0		

②

						3	.		
1	.	9	5)	6	.	6	3	○
				5	8	5			
					7	8	0		

③ $8.55 \div 4.75$

4	.	7	5)	8	.	5	5	.

④ $7.02 \div 1.56$

)			

⑤ $8.93 \div 2.35$

⑥ $9.54 \div 2.12$



小数のわり算 10

◎ わりすすみ (3けた)




日にち： 月 日


名まえ _____

・ 次の計算をしなさい。(うすいところは、なぞりましょう。)


① $7.29 \div 4.86$




② $9.17 \div 2.62$




③ $8.37 \div 2.7$




④ $8.71 \div 1.34$



⑤ $8.5 \div 2.5$



⑥ $6.86 \div 2.45$





小数のわり算 10

◎ わりすすみ (3けた)

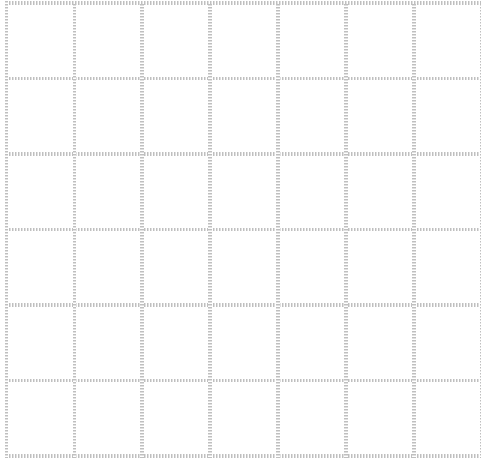


日にち： 月 日


名まえ _____

・ 次の計算をしなさい。


① $6.24 \div 4.16$




② $8.4 \div 1.5$




③ $7.56 \div 1.68$




④ $3.51 \div 3.9$



⑤ $8.52 \div 3.55$



⑥ $5.28 \div 3.52$





小数のわり算 10

◎ わりすすみ (3けた)

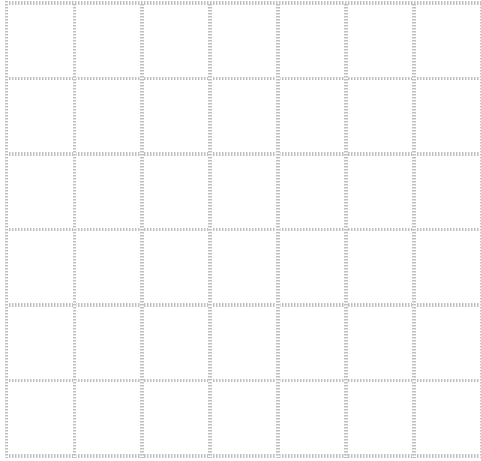
12

日にち： 月 日


名まえ _____

・ 次の計算をしなさい。


① $4.27 \div 1.22$




② $9.54 \div 2.12$




③ $7.84 \div 1.6$




④ $8.55 \div 4.75$



⑤ $7.2 \div 1.6$



⑥ $8.04 \div 3.35$





小数のわり算 10

◎ わりすすみ (3けた)

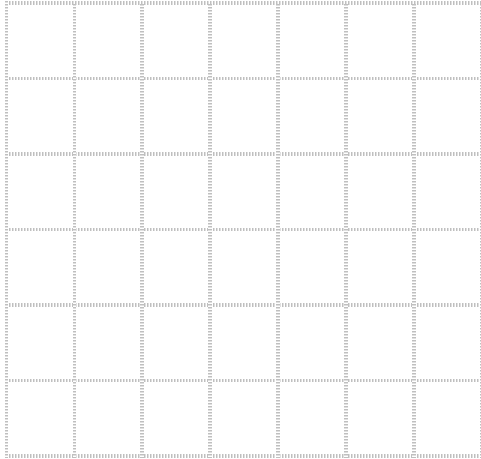
13

日にち： 月 日


名まえ _____

・ 次の計算をしなさい。


① $7.29 \div 4.86$




② $7.28 \div 2.6$




① $8.55 \div 3.42$




② $1.61 \div 2.3$



⑤ $5.64 \div 3.76$



⑥ $9.92 \div 1.55$





小数のわり算 10

◎ わりすすみ (3けた)

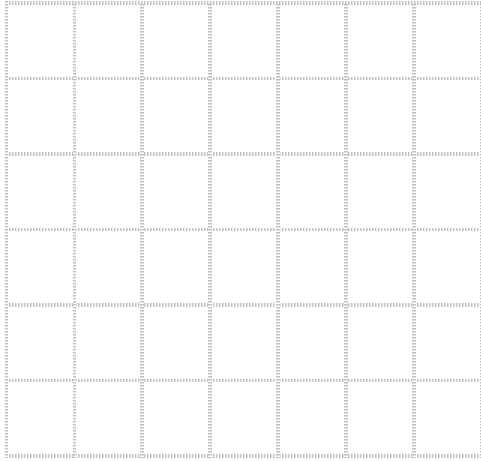


日にち： 月 日

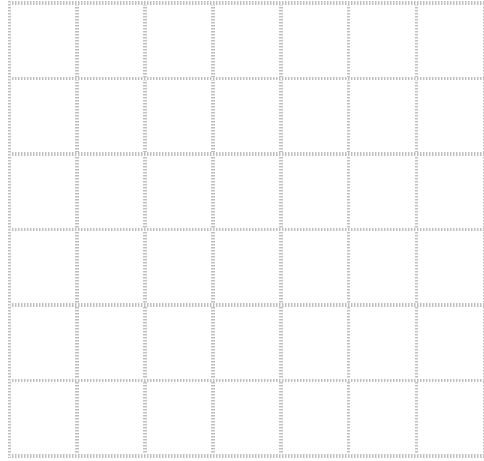
名まえ _____

・ 次の計算をしなさい。


① $9.35 \div 2.75$




② $7.45 \div 2.98$




③ $9.36 \div 2.6$




④ $5.31 \div 1.18$



⑤ $8.5 \div 2.5$



⑥ $8.26 \div 2.95$



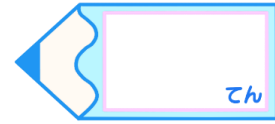


小数のわり算 10

◎ わりすすみ (3けた)

15


目指せ80点!




名まえ

・ 次の計算をしなさい。(各20点)


① $4.44 \div 2.96$




② $4.23 \div 4.7$




③ $94.6 \div 2.15$



④ $9.36 \div 2.08$



⑤ $8.19 \div 2.34$



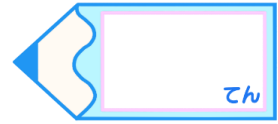


小数のわり算 10

◎ わりすすみ (3けた)

16

目指せ80点!



名まえ _____

・ 次の計算をしなさい。(各20点)

① $5.95 \div 2.38$

② $8.85 \div 3.54$

③ $9.8 \div 3.5$

④ $6.54 \div 4.36$

⑤ $8.01 \div 1.78$





小数のわり算 10

◎ わりすすみ (3けた)



日にち： 月 日

名まえ _____

・ 次の計算をしなさい。(うすい字は、なぞりましょう。)

①

							1.5
3	1	4)	4	7	1	
				3	1	4	
				1	5	7	0
				1	5	7	0
							0

②

							3.5
1	6	6)	5	8	1	
				4	9	8	
					8	3	0
					8	3	0
							0

③ $6.09 \div 4.35$

							1.4
4	3	5)	6	0	9	
				4	3	5	
				1	7	4	0
				1	7	4	0
							0

④ $6.51 \div 1.86$

							3.5
1	8	6)	6	5	1	
				5	5	8	
					9	3	0
					9	3	0
							0

⑤ $7.38 \div 2.05$

							3.6
2	0	5)	7	3	8	
				6	1	5	
				1	2	3	0
				1	2	3	0
							0

⑥ $5.13 \div 3.42$

							1.5
3	4	2)	5	1	3	
				3	4	2	
				1	7	1	0
				1	7	1	0
							0



小数のわり算 10

◎ わりすすみ (3けた)



日にち： 月 日

名まえ _____

・ 次の計算をしなさい。(うすい字は、なぞりましょう。)

①

							4	.	5
1	1	6	5	2	2				
			4	6	4				
			5	8	0				
			5	8	0				
									0

②

									2	.	5
3	3	4	8	3	5						
			6	6	8						
			1	6	7	0					
			1	6	7	0					
											0

③ $9.23 \div 3.55$

									2	.	6
3	5	5	9	2	3						
			7	1	0						
			2	1	3	0					
			2	1	3	0					
											0

④ $7.93 \div 1.22$

									6	.	5
1	2	2	7	9	3						
			7	3	2						
			6	1	0						
			6	1	0						
											0

⑤ $6.48 \div 1.44$

									4	.	5
1	4	4	6	4	8						
			5	7	6						
			7	2	0						
			7	2	0						
											0

⑥ $6.09 \div 4.06$

									1	.	5
4	0	6	6	0	9						
			4	0	6						
			2	0	3	0					
			2	0	3	0					
											0



小数のわり算 10



◎ わりすすみ (3けた)

日にち： 月 日

名まえ _____

・ 次の計算をしなさい。(うすい字は、なぞりましょう。)

①

				1.5		
3	3	6	5	0	4	
			3	3	6	
			1	6	8	0
			1	6	8	0
						0

②

				2.2	
3	9	5	8	6	9
			7	9	0
			7	9	0
			7	9	0
					0

③ 8.32 ÷ 1.28

				6.5	
1	2	8	8	3	2
			7	6	8
			6	4	0
			6	4	0
					0

④ 9.85 ÷ 3.94

				2.5		
3	9	4	9	8	5	
			7	8	8	
			1	9	7	0
			1	9	7	0
						0

⑤ 7.44 ÷ 4.96

				1.5		
4	9	6	7	4	4	
			4	9	6	
			2	4	8	0
			2	4	8	0
						0

⑥ 3.78 ÷ 1.35

				2.8		
1	3	5	3	7	8	
			2	7	0	
			1	0	8	0
			1	0	8	0
						0



小数のわり算 10

◎ わりすすみ (3けた)

4

日にち： 月 日

名まえ _____

・ 次の計算をしなさい。(うすい字は、なぞりましょう。)

①

									1.5
3	2	4)	4	8	6			
				3	2	4			
				1	6	2	0		
				1	6	2	0		
									0

②

									1.8
4	7	5)	8	5	5			
				4	7	5			
				3	8	0	0		
				3	8	0	0		
									0

③ $9.66 \div 2.76$

									3.5
2	7	6)	9	6	6			
				8	2	8			
				1	3	8	0		
				1	3	8	0		
									0

④ $6.78 \div 4.52$

									1.5
4	5	2)	6	7	8			
				4	5	2			
				2	2	6	0		
				2	2	6	0		
									0

⑤ $8.19 \div 3.15$

									2.6
3	1	5)	8	1	9			
				6	3	0			
				1	8	9	0		
				1	8	9	0		
									0

⑥ $7.14 \div 1.05$

									6.8
1	0	5)	7	1	4			
				6	3	0			
					8	4	0		
					8	4	0		
									0



小数のわり算 10

◎ わりすすみ (3けた)



日にち： 月 日

名まえ _____

・ 次の計算をしなさい。(うすい字は、なぞりましょう。)

①

							3.5
2	5	6)	8	9	6	
				7	6	8	
				1	2	8	0
				1	2	8	0
							0

②

							1.5
4	2	6)	6	3	9	
				4	2	6	
				2	1	3	0
				2	1	3	0
							0

③ 5.28 ÷ 3.52

							1.5
3	5	2)	5	2	8	
				3	5	2	
				1	7	6	0
				1	7	6	0
							0

④ 9.43 ÷ 2.05

							4.6
2	0	5)	9	4	3	
				8	2	0	
				1	2	3	0
				1	2	3	0
							0

⑤ 6.21 ÷ 4.14

							1.5
4	1	4)	6	2	1	
				4	1	4	
				2	0	7	0
				2	0	7	0
							0

⑥ 9.24 ÷ 3.85

							2.4
3	8	5)	9	2	4	
				7	7	0	
				1	5	4	0
				1	5	4	0
							0



小数のわり算 10

◎ わりすすみ (3けた)



日にち： 月 日

名まえ _____

・ 次の計算をしなさい。(うすい字は、なぞりましょう。)

①

					2.4		
1	9	5)	4	6	8	
				3	9	0	
					7	8	0
					7	8	0
							0

②

						1.4	
2	2	5)	3	1	5	
				2	2	5	
					9	0	0
					9	0	0
							0

③ $4.86 \div 3.24$

					1.5			
3	2	4)	4	8	6		
				3	2	4		
					1	6	2	0
					1	6	2	0
								0

④ $7.14 \div 4.76$

					1.5			
4	7	6)	7	1	4		
				4	7	6		
					2	3	8	0
					2	3	8	0
								0

⑤ $8.58 \div 1.32$

					6.5		
1	3	2)	8	5	8	
				7	9	2	
					6	6	0
					6	6	0
							0

⑥ $5.46 \div 1.95$

					2.8			
1	9	5)	5	4	6		
				3	9	0		
					1	5	6	0
					1	5	6	0
								0



小数のわり算 10



◎ わりすすみ (3けた)

日にち： 月 日

名まえ _____

・ 次の計算をしなさい。(うすい字は、なぞりましょう。)

①

								1.4
3	6	5	5	1	1			
			3	6	5			
			1	4	6	0		
			1	4	6	0		
								0

②

								1.5
3	9	6	5	9	4			
			3	9	6			
			1	9	8	0		
			1	9	8	0		
								0

③ $8.54 \div 3.05$

								2.8
3	0	5	8	5	4			
			6	1	0			
			2	4	4	0		
			2	4	4	0		
								0

④ $4.68 \div 3.12$

								1.5
3	1	2	4	6	8			
			3	1	2			
			1	5	6	0		
			1	5	6	0		
								0

⑤ $8.61 \div 2.46$

								3.5
2	4	6	8	6	1			
			7	3	8			
			1	2	3	0		
			1	2	3	0		
								0

⑥ $6.66 \div 1.48$

								4.5
1	4	8	6	6	6			
			5	9	2			
			7	4	0			
			7	4	0			
								0



次の計算をしなさい。(うすい字は、なぞりましょう。)

①
$$\begin{array}{r} 3.5 \\ 204 \overline{) 714} \\ \underline{612} \\ 1020 \\ \underline{1020} \\ 0 \end{array}$$

②
$$\begin{array}{r} 1.5 \\ 464 \overline{) 696} \\ \underline{464} \\ 2320 \\ \underline{2320} \\ 0 \end{array}$$

③ $8.12 \div 2.32$

$$\begin{array}{r} 3.5 \\ 232 \overline{) 812} \\ \underline{696} \\ 1160 \\ \underline{1160} \\ 0 \end{array}$$

④ $8.55 \div 4.75$

$$\begin{array}{r} 1.8 \\ 475 \overline{) 855} \\ \underline{475} \\ 3800 \\ \underline{3800} \\ 0 \end{array}$$

⑤ $6.32 \div 3.95$

$$\begin{array}{r} 1.6 \\ 395 \overline{) 632} \\ \underline{395} \\ 2370 \\ \underline{2370} \\ 0 \end{array}$$

⑥ $8.97 \div 3.45$

$$\begin{array}{r} 2.6 \\ 345 \overline{) 897} \\ \underline{690} \\ 2070 \\ \underline{2070} \\ 0 \end{array}$$





小数のわり算 10



◎ わりすすみ (3けた)

日にち： 月 日

名まえ _____

・ 次の計算をしなさい。(うすい字は、なぞりましょう。)

① $205 \overline{)779} \quad 3.8$

2	0	5)	7	7	9	
				6	1	5	
				1	6	4	0
				1	6	4	0
							0

② $195 \overline{)663} \quad 3.4$

1	9	5)	6	6	3	
				5	8	5	
				7	8	0	
				7	8	0	
							0

③ $8.55 \div 4.75$

							1	.	8
4	7	5)	8	5	5			
				4	7	5			
				3	8	0	0		
				3	8	0	0		
									0

④ $7.02 \div 1.56$

							4	.	5
1	5	6)	7	0	2			
				6	2	4			
				7	8	0			
				7	8	0			
									0

⑤ $8.93 \div 2.35$

							3	.	8
2	3	5)	8	9	3			
				7	0	5			
				1	8	8	0		
				1	8	8	0		
									0

⑥ $9.54 \div 2.12$

							4	.	5
2	1	2)	9	5	4			
				8	4	8			
				1	0	6	0		
				1	0	6	0		
									0



小数のわり算 10

◎ わりすすみ (3けた)



日にち： 月 日

名まえ _____

・ 次の計算をしなさい。(うすいところは、なぞりましょう。)

① $7.29 \div 4.86$

								1.5
4	8	6	7	2	9			
			4	8	6			
			2	4	3	0		
			2	4	3	0		
								0

② $9.17 \div 2.62$

								3.5
2	6	2	9	1	7			
			7	8	6			
			1	3	1	0		
			1	3	1	0		
								0

③ $8.37 \div 2.7$

								3.1
2	7	8	3	7				
			8	1				
			2	7				
			2	7				
								0

④ $8.71 \div 1.34$

								6.5
1	3	4	8	7	1			
			8	0	4			
			6	7	0			
			6	7	0			
								0

⑤ $8.5 \div 2.5$

								3.4
2	5	8	5					
			7	5				
			1	0	0			
			1	0	0			
								0

⑥ $6.86 \div 2.45$

								2.8
2	4	5	6	8	6			
			4	9	0			
			1	9	6	0		
			1	9	6	0		
								0



小数のわり算 10

◎ わりすすみ (3けた)



日にち： 月 日

名まえ _____

・ 次の計算をしなさい。

① $6.24 \div 4.16$

				1.5
4.16	6.24			
		4.16		
		2.08	0	
		2.08	0	
				0

② $8.4 \div 1.5$

				5.6
1.5	8.4			
		7.5		
		9.0		
		9.0		
				0

③ $7.56 \div 1.68$

				4.5
1.68	7.56			
		6.72		
		8.40		
		8.40		
				0

④ $3.51 \div 3.9$

				0.9
3.9	3.51			
		3.51		
				0

⑤ $8.52 \div 3.55$

				2.4
3.55	8.52			
		7.10		
		1.42	0	
		1.42	0	
				0

⑥ $5.28 \div 3.52$

				1.5
3.52	5.28			
		3.52		
		1.76	0	
		1.76	0	
				0



小数のわり算 10

◎ わりすすみ (3けた)

12

日にち： 月 日

名まえ _____

・ 次の計算をしなさい。

① $4.27 \div 1.22$

						3.5
1	2	2	4	2	7	
			3	6	6	
			6	1	0	
			6	1	0	
						0

② $9.54 \div 2.12$

						4.5
2	1	2	9	5	4	
			8	4	8	
			1	0	6	0
			1	0	6	0
						0

③ $7.84 \div 1.6$

						4.9
1	6	7	8	4		
		6	4			
		1	4	4		
		1	4	4		
						0

④ $8.55 \div 4.75$

						1.8
4	7	5	8	5	5	
			4	7	5	
			3	8	0	0
			3	8	0	0
						0

⑤ $7.2 \div 1.6$

						4.5
1	6	7	2			
		6	4			
			8	0		
			8	0		
						0

⑥ $8.04 \div 3.35$

						2.4
3	3	5	8	0	4	
			6	7	0	
			1	3	4	0
			1	3	4	0
						0



小数のわり算 10

◎ わりすすみ (3けた)

13

日にち： 月 日

名まえ _____

・ 次の計算をなさい。

① $7.29 \div 4.86$

						1.5
4	8	6	7	2	9	
			4	8	6	
			2	4	3	0
			2	4	3	0
						0

② $7.28 \div 2.6$

						2.8
2	6	7	2	8		
			5	2		
			2	0	8	
			2	0	8	
						0

③ $8.55 \div 3.42$

						2.5
3	4	2	8	5	5	
			6	8	4	
			1	7	1	0
			1	7	1	0
						0

④ $1.61 \div 2.3$

						0.7
2	3	1	6	1		
			1	6	1	
						0

⑤ $5.64 \div 3.76$

						1.5
3	7	6	5	6	4	
			3	7	6	
			1	8	8	0
			1	8	8	0
						0

⑥ $9.92 \div 1.55$

						6.4
1	5	5	9	9	2	
			9	3	0	
						6
						2
						0
						0
						0



小数のわり算 10

◎ わりすすみ (3けた)

14

日にち： 月 日

名まえ _____

・ 次の計算をしなさい。

① $9.35 \div 2.75$

				3.4		
2	7	5	9	3	5	
			8	2	5	
			1	1	0	0
			1	1	0	0
						0

② $7.45 \div 2.98$

				2.5		
2	9	8	7	4	5	
			5	9	6	
			1	4	9	0
			1	4	9	0
						0

③ $9.36 \div 2.6$

				3.6	
2	6	9	3	6	
			7	8	
			1	5	6
			1	5	6
					0

④ $5.31 \div 1.18$

				4.5		
1	1	8	5	3	1	
			4	7	2	
				5	9	0
				5	9	0
						0

⑤ $8.5 \div 2.5$

				3.4	
2	5	8	5		
			7	5	
			1	0	0
			1	0	0
					0

⑥ $8.26 \div 2.95$

				2.8		
2	9	5	8	2	6	
			5	9	0	
			2	3	6	0
			2	3	6	0
						0

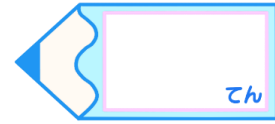


小数のわり算 10

◎ わりすすみ (3けた)

15

目指せ80点!



名まえ _____

・ 次の計算をしなさい。(各20点)

① $4.44 \div 2.96$

								1.5
2	9	6	4	4	4			
			2	9	6			
			1	4	8	0		
			1	4	8	0		
								0

② $4.23 \div 4.7$

								0.9
4	7	4	2	3				
			4	2	3			
								0

③ $94.6 \div 2.15$

								44
2	1	5	9	4	6	0		
			8	6	0			
			8	6	0			
			8	6	0			
								0

④ $9.36 \div 2.08$

								4.5
2	0	8	9	3	6			
			8	3	2			
			1	0	4	0		
			1	0	4	0		
								0

⑤ $8.19 \div 2.34$

								3.5
2	3	4	8	1	9			
			7	0	2			
			1	1	7	0		
			1	1	7	0		
								0

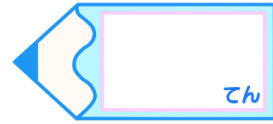


小数のわり算 10

◎ わりすすみ (3けた)

16

目指せ80点!



名まえ _____

・ 次の計算をしなさい。(各20点)

① $5.95 \div 2.38$

$$\begin{array}{r}
 2.5 \\
 238 \overline{) 595} \\
 \underline{476} \\
 1190 \\
 \underline{1190} \\
 0
 \end{array}$$

② $8.85 \div 3.54$

$$\begin{array}{r}
 2.5 \\
 354 \overline{) 885} \\
 \underline{708} \\
 1770 \\
 \underline{1770} \\
 0
 \end{array}$$

③ $9.8 \div 3.5$

$$\begin{array}{r}
 2.8 \\
 35 \overline{) 98} \\
 \underline{70} \\
 280 \\
 \underline{280} \\
 0
 \end{array}$$

④ $6.54 \div 4.36$

$$\begin{array}{r}
 1.5 \\
 436 \overline{) 654} \\
 \underline{436} \\
 2180 \\
 \underline{2180} \\
 0
 \end{array}$$

⑤ $8.01 \div 1.78$

$$\begin{array}{r}
 4.5 \\
 178 \overline{) 801} \\
 \underline{712} \\
 890 \\
 \underline{890} \\
 0
 \end{array}$$