

小数のわり算 17

◎ わる数と商の大きさの関係



日にち： 月 日

名まえ _____

1 商が8より大きくなるのはどれですか？

にあてはまる数や言葉を書きましょう。(うすい字はなぞりましょう。)

- ① $8 \div 1.5$ ② $8 \div 0.2$ ③ $8 \div 0.64$ ④ $8 \div 5$

① わる数の は、1より から商は8より 。

② わる数の は、1より から商は8より 。

③ わる数の は、1より から商は8より 。

④ わる数の は、1より から商は8より 。

答え： ② と ③

2 商が7より大きくなるのはどれですか？

にあてはまる数や言葉を書きましょう。(うすい字はなぞりましょう。)

- ① $7 \div 0.5$ ② $7 \div 0.8$ ③ $7 \div 1.1$ ④ $7 \div 2$


① わる数の は、1より から商は7より 。

② わる数の は、1より から商は7より 。

③ わる数の は、1より から商は7より 。

④ わる数の は、1より から商は7より 。

答え： _____



小数のわり算 17

◎ わる数と商の大きさの関係



日にち： 月 日

名まえ _____

1 商が3より大きくなるのはどれですか？

にあてはまる数や言葉を書きましょう。(うすい字はなぞりましょう。)

① $3 \div 0.96$

② $3 \div 1.7$

③ $3 \div 2$

④ $3 \div 0.5$

① わる数の は、1より から商は3より .

② わる数の は、1より から商は3より .

③ わる数の は、1より から商は3より .

④ わる数の は、1より から商は3より .

答え： _____

2 商が9より大きくなるのはどれですか？

にあてはまる数や言葉を書きましょう。(うすい字はなぞりましょう。)

① $9 \div 1.7$

② $9 \div 5$

③ $9 \div 0.13$

④ $9 \div 0.9$


① わる数の は、1より から商は9より .

② わる数の は、1より から商は9より .

③ わる数の は、1より から商は9より .

④ わる数の は、1より から商は9より .

答え： _____



小数のわり算 17

◎ わる数と商の大きさの関係



日にち： 月 日

名まえ _____

1 商が5より大きくなるのはどれですか？

にあてはまる数や言葉を書きましょう。(うすい字はなぞりましょう。)

① $5 \div 1.9$

② $5 \div 4$

③ $5 \div 0.89$

④ $5 \div 0.4$

① わる数の は、1より から商は5より 。

② わる数の は、1より から商は5より 。

③ わる数の は、1より から商は5より 。

④ わる数の は、1より から商は5より 。

答え： _____

2 商が6より大きくなるのはどれですか？

にあてはまる数や言葉を書きましょう。(うすい字はなぞりましょう。)

① $6 \div 1.6$

② $6 \div 0.86$

③ $6 \div 2$

④ $6 \div 0.7$

① わる数の は、1より から商は6より 。


② わる数の は、1より から商は6より 。

③ わる数の は、1より から商は6より 。

④ わる数の は、1より から商は6より 。

答え： _____





小数のわり算 17

◎ わる数と商の大きさの関係



日にち： 月 日

名まえ _____

1 商が6より大きくなるのはどれですか？

にあてはまる数や言葉を書きましょう。(うすい字はなぞりましょう。)

- ① $6 \div 1.82$ ② $6 \div 0.1$ ③ $6 \div 0.5$ ④ $6 \div 4$

① わる数の は、1より から商は6より 。

② わる数の は、1より から商は6より 。

③ わる数の は、1より から商は6より 。

④ わる数の は、1より から商は6より 。

答え： _____

2 商が8より大きくなるのはどれですか？

にあてはまる数や言葉を書きましょう。(うすい字はなぞりましょう。)

- ① $8 \div 0.35$ ② $8 \div 1.06$ ③ $8 \div 0.9$ ④ $8 \div 3$


① わる数の は、1より から商は8より 。

② わる数の は、1より から商は8より 。

③ わる数の は、1より から商は8より 。

④ わる数の は、1より から商は8より 。

答え： _____



小数のわり算 17

◎ わる数と商の大きさの関係



日にち： 月 日

名まえ _____

1 商が5より大きくなるのはどれですか？

① $5 \div 1.3$

② $5 \div 2$

③ $5 \div 0.64$

④ $5 \div 0.5$

答え： _____

2 商が9より大きくなるのはどれですか？

① $9 \div 0.64$

② $9 \div 0.4$


③ $9 \div 5$

④ $9 \div 1.2$


答え： _____

3 次の計算をしなさい。

① $3.75 \div 0.6$



② $1.17 \div 3.6$





小数のわり算 17

◎ わる数と商の大きさの関係



日にち： 月 日

名まえ _____

1 商が4より大きくなるのはどれですか？

- ① $4 \div 0.12$
- ② $4 \div 1.7$
- ③ $4 \div 3$
- ④ $4 \div 0.9$

答え： _____


2 商が7より大きくなるのはどれですか？

- ① $7 \div 2$
- ② $7 \div 2.5$
- ③ $7 \div 0.12$
- ④ $7 \div 0.8$

答え： _____


3 次の計算をしなさい。

① $4 \div 2.5$



② $8.1 \div 0.6$





小数のわり算 17

◎ わる数と商の大きさの関係



日にち： 月 日

名まえ _____

1 商が7より大きくなるのはどれですか？

- ① $7 \div 1.7$
- ② $7 \div 0.1$
- ③ $7 \div 0.92$
- ④ $7 \div 3$

答え： _____


2 商が9より大きくなるのはどれですか？

- ① $9 \div 0.78$
- ② $9 \div 4$
- ③ $9 \div 0.9$
- ④ $9 \div 2.2$


答え： _____


3 次の計算をしなさい。

① $1.7 \div 0.2$



② $0.3 \div 1.5$





小数のわり算 17

◎ わる数と商の大きさの関係



日にち： 月 日

名まえ _____

1 商が3より大きくなるのはどれですか？

- ① $3 \div 1.23$
- ② $3 \div 2$
- ③ $3 \div 0.6$
- ④ $3 \div 0.9$

答え： _____

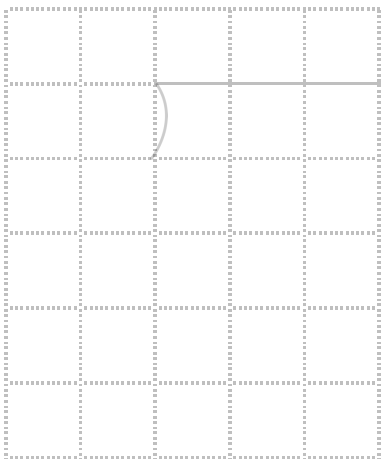
2 商が7より大きくなるのはどれですか？

- ① $7 \div 0.6$
- ② $7 \div 3$
- ③ $7 \div 1.28$
- ④ $7 \div 0.8$

答え： _____


3 次の計算をしなさい。

① $2.38 \div 1.7$



② $4.71 \div 3.14$





小数のわり算 17

◎ わる数と商の大きさの関係



日にち： 月 日

名まえ _____

1 商が5より大きくなるのはどれですか？

- ① $5 \div 1.3$ ② $5 \div 0.2$ ③ $5 \div 0.98$ ④ $5 \div 3$

答え： _____


2 商が3より大きくなるのはどれですか？

- ① $3 \div 0.2$ ② $3 \div 2$ ③ $3 \div 1.14$ ④ $3 \div 0.7$


答え： _____


3 次の計算をしなさい。

① $1.47 \div 2.8$



② $3.75 \div 0.6$





小数のわり算 17

◎ わる数と商の大きさの関係



日にち： 月 日

名まえ _____

1 商が3より大きくなるのはどれですか？

- ① $3 \div 1.6$ ② $3 \div 0.63$ ③ $3 \div 0.9$ ④ $3 \div 1.1$

答え： _____

2 商が7より大きくなるのはどれですか？

- ① $7 \div 0.2$ ② $7 \div 2$ ③ $7 \div 0.85$ ④ $7 \div 1.3$


答え： _____


3 次の計算をしなさい。

① $25.2 \div 0.4$



② $4.71 \div 3.14$





小数のわり算 17

◎ わる数と商の大きさの関係



日にち： 月 日

名まえ _____

1 商が8より大きくなるのはどれですか？

- ① $8 \div 2.4$
- ② $8 \div 0.92$
- ③ $8 \div 3$
- ④ $8 \div 0.4$

答え： _____

2 商が6より大きくなるのはどれですか？

- ① $6 \div 2.6$
- ② $6 \div 1.02$
- ③ $6 \div 0.01$
- ④ $6 \div 0.8$


答え： _____


3 次の計算をしなさい。

① $1.4 \div 0.4$



② $12.5 \div 0.5$





小数のわり算 17

◎ わる数と商の大きさの関係



日にち： 月 日

名まえ _____

1 商が4より大きくなるのはどれですか？

① $4 \div 3$

② $4 \div 0.7$

③ $4 \div 0.96$

④ $4 \div 1.1$

答え： _____

2 商が7より大きくなるのはどれですか？

① $7 \div 0.14$

② $7 \div 1.89$

③ $7 \div 0.8$

④ $7 \div 2$


答え： _____


3 次の計算をしなさい。

① $4.95 \div 2.75$



② $5.1 \div 6.8$





小数のわり算 17

◎ わる数と商の大きさの関係



日にち： 月 日

名まえ _____

1 商が8より大きくなるのはどれですか？

- ① $8 \div 0.99$
- ② $8 \div 0.4$
- ③ $8 \div 3$
- ④ $8 \div 1.5$

答え： _____

2 商が4より大きくなるのはどれですか？

- ① $4 \div 1.2$
- ② $4 \div 0.7$
- ③ $4 \div 0.03$
- ④ $4 \div 1.8$


答え： _____

3 次の計算をしなさい。

① $18.5 \div 0.5$



② $4.24 \div 2.65$





小数のわり算 17

◎ わる数と商の大きさの関係



日にち： 月 日

名まえ _____

1 商が5より大きくなるのはどれですか？

- ① $5 \div 0.06$
- ② $5 \div 1.3$
- ③ $5 \div 0.9$
- ④ $5 \div 2$

答え： _____

2 商が4より大きくなるのはどれですか？

- ① $4 \div 1.03$
- ② $4 \div 0.87$
- ③ $4 \div 0.5$
- ④ $4 \div 1.3$


答え： _____


3 次の計算をしなさい。

① $1.3 \div 0.5$



② $19.2 \div 0.8$





小数のわり算 17

◎ わる数と商の大きさの関係

15

点数 点

目指せ75点!

名まえ

1 商が9より大きくなるのはどれですか? (25点)

- ① $9 \div 0.4$ ② $9 \div 0.9$ ③ $9 \div 1.05$ ④ $9 \div 2$

答え: _____


2 商が3より大きくなるのはどれですか? (25点)

- ① $3 \div 2$ ② $3 \div 0.66$ ③ $3 \div 0.9$ ④ $3 \div 1.8$


答え: _____


3 次の計算をしなさい。 (各25点)

① $1.2 \div 7.5$



② $0.9 \div 1.8$





小数のわり算 17

◎ わる数と商の大きさの関係

16

点数 点

目指せ75点!

名まえ

1 商が8より大きくなるのはどれですか？

(25点)

- ① $8 \div 1.02$ ② $8 \div 0.9$ ③ $8 \div 0.87$ ④ $8 \div 5$

答え： _____

2 商が4より大きくなるのはどれですか？

(25点)

- ① $4 \div 0.96$ ② $4 \div 1.1$ ③ $4 \div 3$ ④ $4 \div 0.6$


答え： _____

3 次の計算をなさい。

(各25点)

① $1.88 \div 0.8$

② $42 \div 5.6$



小数のわり算 17

◎ わる数と商の大きさの関係



日にち： 月 日

名まえ

1 商が8より大きくなるのはどれですか？

にあてはまる数や言葉を書きましょう。(うすい字はなぞりましょう。)

- ① $8 \div 1.5$ ② $8 \div 0.2$ ③ $8 \div 0.64$ ④ $8 \div 5$

① わる数の **1.5** は、1より **大きい** から商は8より **小さい**。

② わる数の **0.2** は、1より **小さい** から商は8より **大きい**。

③ わる数の **0.64** は、1より **小さい** から商は8より **大きい**。

④ わる数の **5** は、1より **大きい** から商は8より **小さい**。

答え： ② と ③

2 商が7より大きくなるのはどれですか？

にあてはまる数や言葉を書きましょう。(うすい字はなぞりましょう。)

- ① $7 \div 0.5$ ② $7 \div 0.81$ ③ $7 \div 1.1$ ④ $7 \div 2$


① わる数の **0.5** は、1より **小さい** から商は7より **大きい**。

② わる数の **0.81** は、1より **小さい** から商は7より **大きい**。

③ わる数の **1.1** は、1より **大きい** から商は7より **小さい**。

④ わる数の **2** は、1より **大きい** から商は7より **小さい**。

答え： ① と ②



小数のわり算 17

◎ わる数と商の大きさの関係



日にち： 月 日

名まえ _____

1 商が3より大きくなるのはどれですか？

にあてはまる数や言葉を書きましょう。(うすい字はなぞりましょう。)

- ① $3 \div 0.96$ ② $3 \div 1.7$ ③ $3 \div 2$ ④ $3 \div 0.5$

① わる数の **0.96** は、1より **小さい** から商は3より **大きい**。

② わる数の **1.7** は、1より **大きい** から商は3より **小さい**。

③ わる数の **2** は、1より **大きい** から商は3より **小さい**。

④ わる数の **0.5** は、1より **小さい** から商は3より **大きい**。

答え： ① と ④

2 商が9より大きくなるのはどれですか？

にあてはまる数や言葉を書きましょう。(うすい字はなぞりましょう。)

- ① $9 \div 1.7$ ② $9 \div 5$ ③ $9 \div 0.13$ ④ $9 \div 0.9$


① わる数の **1.7** は、1より **大きい** から商は9より **小さい**。

② わる数の **5** は、1より **大きい** から商は9より **小さい**。

③ わる数の **0.13** は、1より **小さい** から商は9より **大きい**。

④ わる数の **0.9** は、1より **小さい** から商は9より **大きい**。

答え： ③ と ④



小数のわり算 17

◎ わる数と商の大きさの関係



日にち： 月 日

名まえ _____

1 商が5より大きくなるのはどれですか？

にあてはまる数や言葉を書きましょう。(うすい字はなぞりましょう。)

① $5 \div 1.9$

② $5 \div 4$

③ $5 \div 0.89$

④ $5 \div 0.4$

① わる数の **1.9** は、1より **大きい** から商は5より **小さい**。

② わる数の **4** は、1より **大きい** から商は5より **小さい**。

③ わる数の **0.89** は、1より **小さい** から商は5より **大きい**。

④ わる数の **0.4** は、1より **小さい** から商は5より **大きい**。

答え： **③ と ④**

2 商が6より大きくなるのはどれですか？

にあてはまる数や言葉を書きましょう。(うすい字はなぞりましょう。)

① $6 \div 1.6$

② $6 \div 0.86$

③ $6 \div 2$

④ $6 \div 0.7$


① わる数の **1.6** は、1より **大きい** から商は6より **小さい**。

② わる数の **0.86** は、1より **小さい** から商は6より **大きい**。

③ わる数の **2** は、1より **大きい** から商は6より **小さい**。

④ わる数の **0.7** は、1より **小さい** から商は6より **大きい**。

答え： **② と ④**



小数のわり算 17

◎ わる数と商の大きさの関係



日にち： 月 日

名まえ _____

1 商が6より大きくなるのはどれですか？

にあてはまる数や言葉を書きましょう。(うすい字はなぞりましょう。)

- ① $6 \div 1.82$ ② $6 \div 0.1$ ③ $6 \div 0.5$ ④ $6 \div 4$

① わる数の **1.82** は、1より **大きい** から商は6より **小さい**。

② わる数の **0.1** は、1より **小さい** から商は6より **大きい**。

③ わる数の **0.5** は、1より **小さい** から商は6より **大きい**。

④ わる数の **4** は、1より **大きい** から商は6より **小さい**。

答え： ② と ③

2 商が8より大きくなるのはどれですか？

にあてはまる数や言葉を書きましょう。(うすい字はなぞりましょう。)

- ① $8 \div 0.35$ ② $8 \div 1.06$ ③ $8 \div 0.9$ ④ $8 \div 3$


① わる数の **0.35** は、1より **小さい** から商は8より **大きい**。

② わる数の **1.06** は、1より **大きい** から商は8より **小さい**。

③ わる数の **0.9** は、1より **小さい** から商は8より **大きい**。

④ わる数の **3** は、1より **大きい** から商は8より **小さい**。

答え： ① と ③



小数のわり算 17

◎ わる数と商の大きさの関係



日にち： 月 日

名まえ _____

1 商が5より大きくなるのはどれですか？

- ① $5 \div 1.3$
- ② $5 \div 2$
- ③ $5 \div 0.64$
- ④ $5 \div 0.5$

答え： ③ と ④

2 商が9より大きくなるのはどれですか？

- ① $9 \div 0.64$
- ② $9 \div 0.4$
- ③ $9 \div 5$
- ④ $9 \div 1.2$

答え： ① と ②

3 次の計算をしなさい。

① $3.75 \div 0.6$

			6	.	2	5
0	.	6)	3	7	5
			3	6		
				1	5	
				1	2	
					3	0
					3	0
						0

② $1.17 \div 3.6$

			0	.	3	2	5	
3	.	6)	1	1	7		
			1	0	8			
					9	0		
					7	2		
						1	8	0
						1	8	0
								0



小数のわり算 17

◎ わる数と商の大きさの関係



日にち： 月 日

名まえ _____

1 商が4より大きくなるのはどれですか？

- ① $4 \div 0.12$ ② $4 \div 1.7$ ③ $4 \div 3$ ④ $4 \div 0.9$

答え： ① と ④

2 商が7より大きくなるのはどれですか？

- ① $7 \div 2$ ② $7 \div 2.5$ ③ $7 \div 0.12$ ④ $7 \div 0.8$

答え： ③ と ④


3 次の計算をしなさい。

① $4 \div 2.5$

			1.6
2.5)	40	
		25	
		150	
		150	
			0

② $8.1 \div 0.6$

			13.5
0.6)	81	
		6	
		21	
		18	
		30	
		30	
			0



小数のわり算 17

◎ わる数と商の大きさの関係



日にち： 月 日

名まえ _____

1 商が7より大きくなるのはどれですか？

- ① $7 \div 1.7$
- ② $7 \div 0.1$
- ③ $7 \div 0.92$
- ④ $7 \div 3$

答え： ② と ③

2 商が9より大きくなるのはどれですか？

- ① $9 \div 0.78$
- ② $9 \div 4$
- ③ $9 \div 0.9$
- ④ $9 \div 2.2$

答え： ① と ③


3 次の計算をしなさい。

① $1.7 \div 0.2$

			8.5
0.2)	1.7	
		16	
		10	
		10	
		0	

② $0.3 \div 1.5$

			0.2
1.5)	0.30	
		30	
		0	



小数のわり算 17

◎ わる数と商の大きさの関係



日にち： 月 日

名まえ _____

1 商が3より大きくなるのはどれですか？

- ① $3 \div 1.23$
- ② $3 \div 2$
- ③ $3 \div 0.6$
- ④ $3 \div 0.9$

答え： ③ と ④

2 商が7より大きくなるのはどれですか？

- ① $7 \div 0.6$
- ② $7 \div 3$
- ③ $7 \div 1.28$
- ④ $7 \div 0.8$

答え： ① と ④


3 次の計算をしなさい。

① $2.38 \div 1.7$

			1.4
1.7)	2.38	
		17	
		68	
		68	
		0	

② $4.71 \div 3.14$

			1.5
3.14)	4.71	
		314	
		1570	
		1570	
		0	



小数のわり算 17

◎ わる数と商の大きさの関係



日にち： 月 日

名まえ _____

1 商が5より大きくなるのはどれですか？

- ① $5 \div 1.3$
- ② $5 \div 0.2$
- ③ $5 \div 0.98$
- ④ $5 \div 3$

答え： ② と ③

2 商が3より大きくなるのはどれですか？

- ① $3 \div 0.2$
- ② $3 \div 2$
- ③ $3 \div 1.14$
- ④ $3 \div 0.7$

答え： ① と ④


3 次の計算をしなさい。

① $1.47 \div 2.8$

			0.5	25
2.8)	1.47		
		140		
		70		
		56		
		140		
		140		
			0	

② $3.75 \div 0.6$

			6.25
0.6)	3.75	
		36	
		15	
		12	
		30	
		30	
			0



小数のわり算 17

◎ わる数と商の大きさの関係



日にち： 月 日

名まえ

1 商が3より大きくなるのはどれですか？

- ① $3 \div 1.6$ ② $3 \div 0.63$ ③ $3 \div 0.9$ ④ $3 \div 1.1$

答え： ② と ③

2 商が7より大きくなるのはどれですか？

- ① $7 \div 0.2$ ② $7 \div 2$ ③ $7 \div 0.85$ ④ $7 \div 1.3$

答え： ① と ③


3 次の計算をしなさい。

① $25.2 \div 0.4$

			6	3
0	4	2	5	2
		2	4	
			1	2
			1	2
				0

② $4.71 \div 3.14$

					1	5
3	1	4	4	7	1	
			3	1	4	
				1	5	7
				1	5	7
						0



小数のわり算 17

◎ わる数と商の大きさの関係



日にち： 月 日

名まえ _____

1 商が8より大きくなるのはどれですか？

- ① $8 \div 2.4$
- ② $8 \div 0.92$
- ③ $8 \div 3$
- ④ $8 \div 0.4$

答え： ② と ④

2 商が6より大きくなるのはどれですか？

- ① $6 \div 2.6$
- ② $6 \div 1.02$
- ③ $6 \div 0.01$
- ④ $6 \div 0.8$

答え： ③ と ④


3 次の計算をしなさい。

① $1.4 \div 0.4$

			3.5
0.4)	1.4	
		1.2	
		20	
		20	
		0	

② $12.5 \div 0.5$

			25
0.5)	12.5	
		10	
		25	
		25	
		0	



小数のわり算 17

◎ わる数と商の大きさの関係



日にち： 月 日

名まえ _____

1 商が4より大きくなるのはどれですか？

- ① $4 \div 3$
- ② $4 \div 0.7$
- ③ $4 \div 0.96$
- ④ $4 \div 1.1$

答え： ② と ③

2 商が7より大きくなるのはどれですか？

- ① $7 \div 0.14$
- ② $7 \div 1.89$
- ③ $7 \div 0.8$
- ④ $7 \div 2$

答え： ① と ③


3 次の計算をしなさい。

① $4.95 \div 2.75$

				1.8
2.75)	4.95		
		275		
		2200		
		2200		
				0

② $5.1 \div 6.8$

			0.75
6.8)	5.10	
		476	
		340	
		340	
			0



小数のわり算 17

◎ わる数と商の大きさの関係

13

日にち： 月 日

名まえ

1 商が8より大きくなるのはどれですか？

- ① $8 \div 0.99$ ② $8 \div 0.4$ ③ $8 \div 3$ ④ $8 \div 1.5$

答え： ① と ②

2 商が4より大きくなるのはどれですか？

- ① $4 \div 1.2$ ② $4 \div 0.7$ ③ $4 \div 0.03$ ④ $4 \div 1.8$

答え： ② と ③

3 次の計算をしなさい。

① $18.5 \div 0.5$

			3	7
0.5)	18.5		
		15		
		35		
		35		
			0	

② $4.24 \div 2.65$

				1.6
2.65)	4.24		
		265		
		1590		
		1590		
				0



小数のわり算 17

◎ わる数と商の大きさの関係



日にち： 月 日

名まえ _____

1 商が5より大きくなるのはどれですか？

- ① $5 \div 0.06$
- ② $5 \div 1.3$
- ③ $5 \div 0.9$
- ④ $5 \div 2$

答え： ① と ③

2 商が4より大きくなるのはどれですか？

- ① $4 \div 1.03$
- ② $4 \div 0.87$
- ③ $4 \div 0.5$
- ④ $4 \div 1.3$

答え： ② と ③


3 次の計算をしなさい。

① $1.3 \div 0.5$

			2	6
0	5)	1	3
			1	0
			<hr/>	
			3	0
			3	0
			<hr/>	
			0	

② $19.2 \div 0.8$

			2	4	
0	8)	1	9	2
			1	6	
			<hr/>		
			3	2	
			3	2	
			<hr/>		
			0		



小数のわり算 17

◎ わる数と商の大きさの関係

15

点数 点

目指せ75点!

名まえ

1 商が9より大きくなるのはどれですか? (25点)

- ① $9 \div 0.4$ ② $9 \div 0.9$ ③ $9 \div 1.05$ ④ $9 \div 2$

答え: ① と ②

2 商が3より大きくなるのはどれですか? (25点)

- ① $3 \div 2$ ② $3 \div 0.66$ ③ $3 \div 0.9$ ④ $3 \div 1.8$

答え: ② と ③

3 次の計算をなさい。(各25点)

① $1.2 \div 7.5$

			0.16	
7.5)	1.20		
		75		
		450		
		450		
			0	

② $0.9 \div 1.8$

			0.5	
1.8)	0.90		
		90		
			0	



小数のわり算 17

◎ わる数と商の大きさの関係

16

点数 点

目指せ75点!

名まえ

1 商が8より大きくなるのはどれですか? (25点)

- ① $8 \div 1.02$ ② $8 \div 0.9$ ③ $8 \div 0.87$ ④ $8 \div 5$

答え: ② と ③

2 商が4より大きくなるのはどれですか? (25点)

- ① $4 \div 0.96$ ② $4 \div 1.1$ ③ $4 \div 3$ ④ $4 \div 0.6$

答え: ① と ④

3 次の計算をしなさい。(各25点)

① $1.88 \div 0.8$

$$\begin{array}{r}
 2.35 \\
 0.8 \overline{) 1.88} \\
 \underline{16} \\
 28 \\
 \underline{24} \\
 40 \\
 \underline{40} \\
 0
 \end{array}$$

② $42 \div 5.6$

$$\begin{array}{r}
 7.5 \\
 5.6 \overline{) 42.0} \\
 \underline{392} \\
 280 \\
 \underline{280} \\
 0
 \end{array}$$