



小数のわり算4

◎ 整数÷小数



日にち： 月 日

名まえ _____

・ 次の計算をなさい。（うすい字は、なぞりましょう。）

①

			5
3.2)	160	
		160	
			0

②

			5
3.4)	170	

③

3.5)	280	

④

4.4)	220	

⑤ $26 \div 5.2$

5.2)	26	

⑥ $13 \div 2.6$

)		

⑦ $14 \div 2.8$

⑧ $12 \div 2.4$





小数のわり算4



◎ 整数÷小数

日にち： 月 日

名まえ _____

・ 次の計算をなさい。（うすい字は、なぞりましょう。）

①

			8
1	5	1	2
		1	2
			0

②

			5
4	4	2	2
			0

③

2	5	1	5
			0

④

3	2	1	6

⑤ $28 \div 3.5$

3	5	2	8

⑥ $23 \div 4.6$

⑦ $19 \div 3.8$

⑧ $18 \div 4.5$



小数のわり算4



◎ 整数÷小数

日にち： 月 日

名まえ _____

・ 次の計算をなさい。（うすい字は、なぞりましょう。）

①

			6
4	5	270	
		270	
			0

②

			5
3	4	170	

③

6	5	520	

④

5	5	22	

⑤ $36 \div 7.2$

7	2	36	

⑥ $24 \div 4.8$

⑦ $21 \div 3.5$

⑧ $11 \div 2.2$



小数のわり算4



◎ 整数÷小数

日にち： 月 日

名まえ _____

・ 次の計算をなさい。（うすい字は、なぞりましょう。）

①

			5
3.	4.		70
			70
			0

②

			6
2.	5.		50

③

3.	5.		40

④

2.	6.		3

⑤ $12 \div 2.4$

2.	4.		12

⑥ $28 \div 3.5$

⑦ $18 \div 4.5$

⑧ $11 \div 5.5$



小数のわり算4



◎ 整数÷小数

日にち： 月 日

名まえ _____

・ 次の計算をなさい。（うすい字は、なぞりましょう。）

①

			5
2.8)	140	
		140	
			0

②

			4
4.5)	180	

③

3.5)	280	

④

3.4)	17	

⑤ $24 \div 4.8$

4.8)	24	

⑥ $13 \div 6.5$

)		

⑦ $22 \div 5.5$

⑧ $13 \div 2.6$



小数のわり算4



◎ 整数÷小数

日にち： 月 日

名まえ _____

・ 次の計算をなさい。（うすい字は、なぞりましょう。）

①

			5
2.4)	120	.
		120	
			0

②

4.5)	270	.	

③

2.5)	150	.	

④

4.8)	24	.	

⑤ $16 \div 3.2$

3.2)	16	.	

⑥ $18 \div 3.6$

)			

⑦ $28 \div 3.5$

⑧ $22 \div 5.5$



小数のわり算4



◎ 整数÷小数

日にち： 月 日

名まえ _____

・ 次の計算をなさい。（うすい字は、なぞりましょう。）

①

			5
2.8)	140	
		140	
			0

②

3.5)	210		

③

2.2)	110		

④

3.5)	14		

⑤ $15 \div 2.5$

)		

⑥ $23 \div 4.6$

)		

⑦ $21 \div 4.2$

)		

⑧ $12 \div 1.5$

)		



小数のわり算4



◎ 整数÷小数

日にち： 月 日

名まえ _____

・ 次の計算をなさい。（うすい字は、なぞりましょう。）

①

			5
2.6)	130	.
		130	
			0

②

1.5)	120	.

③

2.5)	150	.

④

2.2)	11	.

⑤ $17 \div 3.4$

)		

⑥ $21 \div 3.5$

)		

⑦ $33 \div 5.5$

)		

⑧ $12 \div 2.4$

)		



小数のわり算4



◎ 整数÷小数

日にち： 月 日

名まえ _____

・ 次の計算をなさい。（うすい字は、なぞりましょう。）

①

				5		
2	.	8)	1	4	0
				1	4	0
						0

②

6	.	5)	1	3	0

③

5	.	5)	2	2	0

④

3	.	6)	1	8	

⑤

19 ÷ 3.8

)			

⑥

15 ÷ 2.5

)			

⑦

45 ÷ 7.5

⑧

28 ÷ 3.5



小数のわり算4

◎ 整数÷小数



日にち： 月 日

名まえ _____

・ 次の計算をなさい。（うすいところは、なぞりましょう。）

①

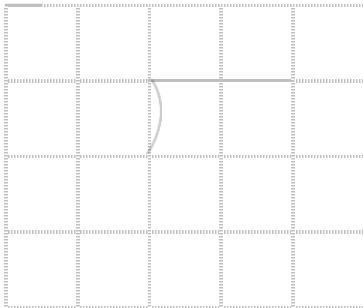
$$1.5 \overline{) 12}$$

②

$$4.3 \overline{) 21.5}$$

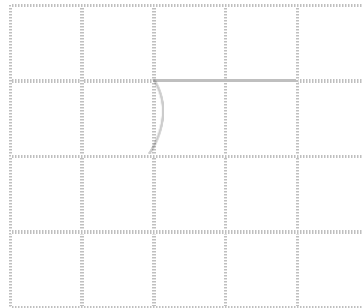
③

$$14 \div 2.8$$




④

$$13 \div 2.6$$



⑤

$$57.4 \div 1.4$$



⑥

$$21 \div 3.5$$





小数のわり算4

◎ 整数÷小数



日にち： 月 日

名まえ _____

・ 次の計算をなさい。（うすいところは、なぞりましょう。）

①

3	.	8)	1	9	

②

3	.	5)	1	4	

③

34.4 ÷ 4.3

)			

④

23 ÷ 4.6

)			

⑤

36 ÷ 4.5

)			

⑥

35.7 ÷ 2.1

)			



小数のわり算4

◎ 整数÷小数

12

日にち： 月 日

名まえ _____

・ 次の計算をなさい。

①

4	.	5)	1	8

②

4	.	9)	5	8	.	8

③

$12 \div 1.5$

④

$18 \div 3.6$

⑤

$26.6 \div 1.9$

⑥

$36 \div 4.5$



小数のわり算4

◎ 整数÷小数

13

日にち： 月 日

名まえ _____

・ 次の計算をなさい。

①

4	.	4)	2	2

②

3	.	5)	2	8

③

$23 \div 4.6$

④

$20.8 \div 5.2$

⑤

$14 \div 2.8$

⑥

$79.2 \div 3.6$



小数のわり算4

◎ 整数÷小数

14

日にち： 月 日

名まえ _____

・ 次の計算をなさい。

①

4	.	5)	2	7

②

1	.	3)	5	9	.	8

③

$14 \div 3.5$

④

$13 \div 2.6$

⑤

$15 \div 2.5$

⑥

$31.5 \div 4.5$




小数のわり算4

15

◎ 整数÷小数

目指せ80点!



名まえ _____

・ 次の計算をなさい。(各20点)

①


$$\begin{array}{r} 2.7 \overline{) 10.8} \end{array}$$

②

$$\begin{array}{r} 4.1 \overline{) 12.3} \end{array}$$


③

$$22 \div 4.4$$




④

$$21 \div 3.5$$



⑤

$$22.4 \div 1.4$$






小数のわり算4

16

◎ 整数÷小数

目指せ80点!



名まえ _____

・ 次の計算をなさい。(各20点)

①

$$2.9 \overline{) 14.5}$$

②

$$3.4 \overline{) 23.8}$$

③

$$15 \div 2.5$$

④

$$28 \div 3.5$$

⑤

$$46.8 \div 2.6$$





小数のわり算4

◎ 整数÷小数



日にち： 月 日

名まえ _____

・ 次の計算をなさい。（うすい字は、なぞりましょう。）

①

			5
3	2	160	
		160	
			0

②

			5
3	4	170	
		170	
			0

③

			8
3	5	280	
		280	
			0

④

			5
4	4	220	
		220	
			0

⑤ $26 \div 5.2$

			5
5	2	260	
		260	
			0

⑥ $13 \div 2.6$

			5
2	6	130	
		130	
			0

⑦ $14 \div 2.8$

			5
2	8	140	
		140	
			0

⑧ $12 \div 2.4$

			5
2	4	120	
		120	
			0





小数のわり算4



◎ 整数÷小数

日にち： 月 日

名まえ _____

・ 次の計算をしなさい。（うすい字は、なぞりましょう。）

①

			8
1	5)	1 2 0
			1 2 0
<hr/>			
			0

②

			5
4	4)	2 2 0
			2 2 0
<hr/>			
			0

③

			6
2	5)	1 5 0
			1 5 0
<hr/>			
			0

④

			5
3	2)	1 6 0
			1 6 0
<hr/>			
			0

⑤ $28 \div 3.5$

			8
3	5)	2 8 0
			2 8 0
<hr/>			
			0

⑥ $23 \div 4.6$

			5
4	6)	2 3 0
			2 3 0
<hr/>			
			0

⑦ $19 \div 3.8$

			5
3	8)	1 9 0
			1 9 0
<hr/>			
			0

⑧ $18 \div 4.5$

			4
4	5)	1 8 0
			1 8 0
<hr/>			
			0



小数のわり算4



◎ 整数÷小数

日にち： 月 日

名まえ _____

・ 次の計算をなさい。（うすい字は、なぞりましょう。）

①

			6
4	5	270	
		270	
			0

②

			5
3	4	170	
		170	
			0

③

			8
6	5	520	
		520	
			0

④

			4
5	5	220	
		220	
			0

⑤ $36 \div 7.2$

			5
7	2	360	
		360	
			0

⑥ $24 \div 4.8$

			5
4	8	240	
		240	
			0

⑦ $21 \div 3.5$

			6
3	5	210	
		210	
			0

⑧ $11 \div 2.2$

			5
2	2	110	
		110	
			0



小数のわり算4



◎ 整数÷小数

日にち： 月 日

名まえ _____

・ 次の計算をしなさい。（うすい字は、なぞりましょう。）

①

			5
3	4)	170
			170
			0

②

			6
2	5)	150
			150
			0

③

			4
3	5)	140
			140
			0

④

			5
2	6)	130
			130
			0

⑤ $12 \div 2.4$

			5
2	4)	120
			120
			0

⑥ $28 \div 3.5$

			8
3	5)	280
			280
			0

⑦ $18 \div 4.5$

			4
4	5)	180
			180
			0

⑧ $11 \div 5.5$

			2
5	5)	110
			110
			0



小数のわり算4



◎ 整数÷小数

日にち： 月 日

名まえ _____

・ 次の計算をなさい。（うすい字は、なぞりましょう。）

①

			5		
2	8		4	0	
			1	4	0
					0

②

			4		
4	5		8	0	
			1	8	0
					0

③

			8		
3	5		2	8	0
			2	8	0
					0

④

			5		
3	4		7	0	
			1	7	0
					0

⑤ $24 \div 4.8$

			5		
4	8		2	4	0
			2	4	0
					0

⑥ $13 \div 6.5$

			2		
6	5		1	3	0
			1	3	0
					0

⑦ $22 \div 5.5$

			4		
5	5		2	2	0
			2	2	0
					0

⑧ $13 \div 2.6$

			5		
2	6		1	3	0
			1	3	0
					0



小数のわり算4



◎ 整数÷小数

日にち： 月 日

名まえ _____

・ 次の計算をしなさい。（うすい字は、なぞりましょう。）

①

			5
2	4)	1 2 0
	1	2	0
			0

②

			6
4	5)	2 7 0
	2	7	0
			0

③

			6
2	5)	1 5 0
	1	5	0
			0

④

			5
4	8)	2 4 0
	2	4	0
			0

⑤ $16 \div 3.2$

			5
3	2)	1 6 0
	1	6	0
			0

⑥ $18 \div 3.6$

			5
3	6)	1 8 0
	1	8	0
			0

⑦ $28 \div 3.5$

			8
3	5)	2 8 0
	2	8	0
			0

⑧ $22 \div 5.5$

			4
5	5)	2 2 0
	2	2	0
			0



小数のわり算4



◎ 整数÷小数

日にち： 月 日

名まえ _____

・ 次の計算をなさい。（うすい字は、なぞりましょう。）

①

			5
2	8)	140
	1	4	0
			0

②

			6
3	5)	210
	2	1	0
			0

③

			5
2	2)	110
	1	1	0
			0

④

			4
3	5)	140
	1	4	0
			0

⑤ $15 \div 2.5$

			6
2	5)	150
	1	5	0
			0

⑥ $23 \div 4.6$

			5
4	6)	230
	2	3	0
			0

⑦ $21 \div 4.2$

			5
4	2)	210
	2	1	0
			0

⑧ $12 \div 1.5$

			8
1	5)	120
	1	2	0
			0

⑦ 定着 答え



小数のわり算4



◎ 整数÷小数

日にち： 月 日

名まえ _____

・ 次の計算をなさい。（うすい字は、なぞりましょう。）

①

			5
2	6	13	0
		13	0
			0

②

			8
1	5	12	0
		12	0
			0

③

			6
2	5	15	0
		15	0
			0

④

			5
2	2	11	0
		11	0
			0

⑤ $17 \div 3.4$

			5
3	4	17	0
		17	0
			0

⑥ $21 \div 3.5$

			6
3	5	21	0
		21	0
			0

⑦ $33 \div 5.5$

			6
5	5	33	0
		33	0
			0

⑧ $12 \div 2.4$

			5
2	4	12	0
		12	0
			0



小数のわり算4



◎ 整数÷小数

日にち： 月 日

名まえ _____

・ 次の計算をなさい。（うすい字は、なぞりましょう。）

①

			5
2	8	14	0
		14	0
			0

②

			2
6	5	13	0
		13	0
			0

③

			4
5	5	22	0
		22	0
			0

④

			5
3	6	18	0
		18	0
			0

⑤ $19 \div 3.8$

			5
3	8	19	0
		19	0
			0

⑥ $15 \div 2.5$

			6
2	5	15	0
		15	0
			0

⑦ $45 \div 7.5$

			6
7	5	45	0
		45	0
			0

⑧ $28 \div 3.5$

			8
3	5	28	0
		28	0
			0



小数のわり算4

10

◎ 整数÷小数

日にち： 月 日

名まえ _____

・ 次の計算をしなさい。（うすいところは、なぞりましょう。）

①

				8	
1	5)	1	2	0
			1	2	0
					0

②

					5
4	3)	2	1	5
			2	1	5
					0

③ $14 \div 2.8$

					5
2	8)	1	4	0
			1	4	0
					0

④ $13 \div 2.6$

					5
2	6)	1	3	0
			1	3	0
					0

⑤ $57.4 \div 1.4$

				4	1
1	4)	5	7	4
			5	6	
				1	4
				1	4
					0

⑥ $21 \div 3.5$

					6
3	5)	2	1	0
			2	1	0
					0



小数のわり算4

◎ 整数÷小数



日にち： 月 日

名まえ _____

・ 次の計算をなさい。（うすいところは、なぞりましょう。）

①

			5
3	8	190	
		190	
			0

②

			4
3	5	140	
		140	
			0

③ $34.4 \div 4.3$

			8
4	3	344	
		344	
			0

④ $23 \div 4.6$

			5
4	6	230	
		230	
			0

⑤ $36 \div 4.5$

			8
4	5	360	
		360	
			0

⑥ $35.7 \div 2.1$

			1	7		
2	1	357				
		21				
			1	4	7	
				1	4	7
						0



小数のわり算4

12

◎ 整数÷小数

日にち： 月 日

名まえ _____

・ 次の計算をしなさい。

①

			4
4.5)	180	.
		180	
-----			0
			0

②

			1	2
4.9)	588	.	
		49		
-----			98	
		98		
-----			0	

③ $12 \div 1.5$

			8
1.5)	120	.
		120	
-----			0
			0

④ $18 \div 3.6$

			5
3.6)	180	.
		180	
-----			0
			0

⑤ $26.6 \div 1.9$

			1	4
1.9)	266	.	
		19		
-----			76	
		76		
-----			0	

⑥ $36 \div 4.5$

			8
4.5)	360	.
		360	
-----			0



小数のわり算4

13

◎ 整数÷小数

日にち： 月 日

名まえ _____

・ 次の計算をしなさい。

①

				5
4	4	2	2	0
		2	2	0
				0

②

				8
3	5	2	8	0
		2	8	0
				0

③ $23 \div 4.6$

				5
4	6	2	3	0
		2	3	0
				0

④ $20.8 \div 5.2$

				4
5	2	2	0	8
		2	0	8
				0

⑤ $14 \div 2.8$

				5
2	8	1	4	0
		1	4	0
				0

⑥ $79.2 \div 3.6$

				2	2
3	6	7	9	2	
		7	2		
				7	2
				7	2
					0



小数のわり算4

◎ 整数÷小数

14

日にち： 月 日

名まえ _____

・ 次の計算をしなさい。

①

			6
4	5	270	
		270	
			0

②

		46	
1	3	598	
		52	
		78	
		78	
			0

③ $14 \div 3.5$

			4
3	5	140	
		140	
			0

④ $13 \div 2.6$

			5
2	6	130	
		130	
			0

⑤ $15 \div 2.5$

			6
2	5	150	
		150	
			0

⑥ $31.5 \div 4.5$

			7
4	5	315	
		315	
			0




小数のわり算4

15

◎ 整数÷小数

目指せ80点!



名まえ _____

・ 次の計算をしなさい。(各20点)

①

$$\begin{array}{r} 27 \overline{) 108} \\ \underline{108} \\ 0 \end{array}$$

②

$$\begin{array}{r} 41 \overline{) 123} \\ \underline{123} \\ 0 \end{array}$$

③

22 ÷ 4.4

$$\begin{array}{r} 44 \overline{) 220} \\ \underline{220} \\ 0 \end{array}$$

④

21 ÷ 3.5

$$\begin{array}{r} 35 \overline{) 210} \\ \underline{210} \\ 0 \end{array}$$

⑤

22.4 ÷ 1.4

$$\begin{array}{r} 16 \\ 14 \overline{) 224} \\ \underline{14} \\ 84 \\ \underline{84} \\ 0 \end{array}$$






小数のわり算4

16

◎ 整数÷小数

目指せ80点!



名まえ _____

・ 次の計算をなさい。(各20点)

①

$$\begin{array}{r} 5 \\ 2.9 \overline{) 14.5} \\ \underline{14.5} \\ 0 \end{array}$$

②

$$\begin{array}{r} 7 \\ 3.4 \overline{) 23.8} \\ \underline{23.8} \\ 0 \end{array}$$

③

$15 \div 2.5$

$$\begin{array}{r} 6 \\ 2.5 \overline{) 15.0} \\ \underline{15.0} \\ 0 \end{array}$$

④

$28 \div 3.5$

$$\begin{array}{r} 8 \\ 3.5 \overline{) 28.0} \\ \underline{28.0} \\ 0 \end{array}$$

⑤

$46.8 \div 2.6$

$$\begin{array}{r} 18 \\ 2.6 \overline{) 46.8} \\ \underline{26} \\ 208 \\ \underline{208} \\ 0 \end{array}$$

