



# 小数のわり算5

◎ 整数÷小数 (商が何十)



日にち： 月 日

名まえ \_\_\_\_\_

・ 次の計算をしなさい。(うすい字は、なぞりましょう。)

①

		2	0			
3	.	2	)	6	4	0
		6	4	0		
						0

②

1	.	6	)	6	4

③

1	.	9	)	5	7

④

3	.	3	)	6	6

⑤  $72 \div 1.8$

1	.	8	)	7	2

⑥  $98 \div 4.9$

		)			

⑦  $84 \div 2.1$


⑧  $93 \div 3.1$




# 小数のわり算5

◎ 整数÷小数 (商が何十)



日にち： 月 日

名まえ \_\_\_\_\_

・ 次の計算をしなさい。(うすい字は、なぞりましょう。)

①

			2	0
4	.	1	)	8 2 0
			8	2 0
				0

②

2	.	8	)	8 4

③

1	.	7	)	8 5

④

2	.	9	)	8 7

⑤  $78 \div 2.6$

2	.	6	)	7 8

⑥  $76 \div 1.9$

			)	

⑦  $87 \div 2.9$


⑧  $76 \div 3.8$




# 小数のわり算5

◎ 整数÷小数 (商が何十)



日にち：            月            日

名まえ \_\_\_\_\_

・ 次の計算をしなさい。(うすい字は、なぞりましょう。)

①

			3	0		
2	.	7	)	8	1	0
				8	1	0
						0

②

1	.	4	)	8	4

③

1	.	8	)	7	2

④

4	.	6	)	9	2

⑤  $78 \div 2.6$

2	.	6	)	7	8

⑥  $96 \div 1.6$

			)		

⑦  $96 \div 3.2$


⑧  $54 \div 1.8$




# 小数のわり算5

◎ 整数÷小数 (商が何十)



日にち： 月 日

名まえ \_\_\_\_\_

・ 次の計算をしなさい。(うすい字は、なぞりましょう。)

①

			2	0		
3	.	7	)	7	4	0
				7	4	0
						0

②

1	.	9	)	9	5

③

3	.	1	)	9	3

④

2	.	2	)	8	8

⑤ 85 ÷ 1.7

1	.	7	)	8	5

⑥ 70 ÷ 3.5

			)		

⑦ 68 ÷ 3.4


⑧ 76 ÷ 1.9




# 小数のわり算5

◎ 整数÷小数 (商が何十)



日にち： 月 日

名まえ \_\_\_\_\_

・ 次の計算をしなさい。(うすい字は、なぞりましょう。)

①

		2	0			
3	.	8	)	7	6	0
				7	6	0
						0

②

1	.	3	)	9	1

③

4	.	7	)	9	4

④

1	.	8	)	9	0

⑤  $96 \div 1.2$

1	.	2	)	9	6

⑥  $68 \div 3.4$

			)		

⑦  $93 \div 3.1$


⑧  $84 \div 4.2$




# 小数のわり算5

◎ 整数÷小数 (商が何十)



日にち： 月 日

名まえ \_\_\_\_\_

・ 次の計算をしなさい。(うすい字は、なぞりましょう。)

①

			5	0		
1	.	7	)	8	5	0
			8	5	0	
					0	

②

3	.	5	)	7	0

③

3	.	8	)	7	6

④

2	.	8	)	8	4

⑤  $92 \div 2.3$

2	.	3	)	9	2

⑥  $91 \div 1.3$

			)		

⑦  $84 \div 1.4$


⑧  $87 \div 2.9$




# 小数のわり算5

◎ 整数÷小数 (商が何十)



日にち：            月            日

名まえ \_\_\_\_\_

・ 次の計算をしなさい。(うすい字は、なぞりましょう。)

①

			6	0		
1	.	4	)	8	4	0
				8	4	0
						0

②

1	.	7	)	3	4	

③

1	.	2	)	9	6	

④

4	.	3	)	8	6	

⑤  $70 \div 3.5$

3	.	5	)	7	0	

⑥  $78 \div 1.3$

			)			

⑦  $87 \div 2.9$


⑧  $93 \div 3.1$




# 小数のわり算5

◎ 整数÷小数 (商が何十)



日にち：            月            日

名まえ \_\_\_\_\_

・ 次の計算をしなさい。(うすい字は、なぞりましょう。)

①

			2	0		
3	.	6	)	7	2	0
				7	2	0
						0

②

4	.	2	)	8	4

③

2	.	3	)	9	2

④

4	.	8	)	9	6

⑤ 84 ÷ 2.1

2	.	1	)	8	4

⑥ 96 ÷ 3.2

			)		

⑦ 80 ÷ 1.6


⑧ 68 ÷ 3.4






# 小数のわり算5

◎ 整数÷小数 (商が何十)



日にち：            月            日

名まえ \_\_\_\_\_

・ 次の計算をしなさい。(うすい字は、なぞりましょう。)

①

			4	0
1	.	8	)	7 2 0
			7	2 0
				0

②

3	.	4	)	6 8

③

1	.	6	)	9 6

④

4	.	9	)	9 8

⑤  $90 \div 1.5$

1	.	5	)	9 0

⑥  $81 \div 2.7$

		)		

⑦  $60 \div 1.5$


⑧  $96 \div 3.2$




# 小数のわり算5

◎ 整数÷小数 (商が何十)



日にち：            月            日

名まえ \_\_\_\_\_

・ 次の計算をしなさい。(うすい字は、なぞりましょう。)

①

2	.	3	)	9	2

②

1	.	9	)	9	5

③

3	.	2	)	1	6

④

2	.	6	)	7	8

⑤

15.4 ÷ 2.2

					7		
2	.	2	)	1	5	.	4

⑥

23.4 ÷ 1.8

						1	
1	.	8	)	2	3	.	4



# 小数のわり算5

◎ 整数÷小数 (商が何十)



日にち：            月            日

名まえ \_\_\_\_\_

・ 次の計算をなさい。

①

3	.	7	)	7	4

②

2	.	2	)	1	5	.	4

③

4	.	3	)	8	6

④

1	.	2	)	8	4

⑤

19 ÷ 3.8


⑥

87 ÷ 2.9




# 小数のわり算5

㉔ 整数÷小数 (商が何十)

12

日にち：            月            日

名まえ \_\_\_\_\_

・ 次の計算をしなさい。

①

4	.	2	)	8	4

②

3	.	5	)	7	0

③

3	.	6	)	4	3	.	2

④

3	.	2	)	1	6

⑤

72 ÷ 2.4


⑥

72 ÷ 1.8




# 小数のわり算5

㊦ 整数÷小数 (商が何十)

13

日にち：            月            日

名まえ \_\_\_\_\_

・ 次の計算をしなさい。

①

2	.	3	)	9	2

②

1	.	6	)	4	1	.	6

③

3	.	6	)	1	8

④

1	.	6	)	8	0

⑤

98 ÷ 1.4


⑥

15.2 ÷ 1.9




# 小数のわり算5

◎ 整数÷小数 (商が何十)



日にち：            月            日

名まえ \_\_\_\_\_

・ 次の計算をなさい。

①

4	.	9	)	9	8

②

2	.	7	)	5	4

③

1	.	2	)	7	2

④

4	.	4	)	5	2	.	8

⑤

76 ÷ 1.9


⑥

28 ÷ 3.5

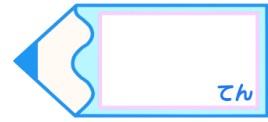



# 小数のわり算5

◎ 整数÷小数 (商が何十)

15

目指せ80点!



名まえ

---

・ 次の計算をしなさい。(各20点)

①

1	.	7	)	85

②

3	.	4	)	17

③

$78 \div 1.3$


④

$75 \div 1.5$


⑤

$40.8 \div 2.4$

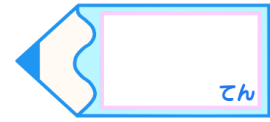



# 小数のわり算5

◎ 整数÷小数 (商が何十)

16

目指せ80点!



名まえ

---

・ 次の計算をしなさい。(各20点)

①

$$1.7 \overline{)85}$$

②

$$3.4 \overline{)17}$$

③

$$37.8 \div 2.7$$

④

$$84 \div 1.4$$

⑤

$$78 \div 2.6$$





# 小数のわり算5

◎ 整数÷小数 (商が何十)



日にち：            月            日

名まえ \_\_\_\_\_

・ 次の計算をしなさい。(うすい字は、なぞりましょう。)

①

			2	0	
3	2	)	6	4	0
			6	4	0
					0

②

			4	0	
1	6	)	6	4	0
			6	4	0
					0

③

			3	0	
1	9	)	5	7	0
			5	7	0
					0

④

			2	0	
3	3	)	6	6	0
			6	6	0
					0

⑤ 72 ÷ 1.8

			4	0	
1	8	)	7	2	0
			7	2	0
					0

⑥ 98 ÷ 4.9

			2	0	
4	9	)	9	8	0
			9	8	0
					0

⑦ 84 ÷ 2.1

			4	0	
2	1	)	8	4	0
			8	4	0
					0

⑧ 93 ÷ 3.1

			3	0	
3	1	)	9	3	0
			9	3	0
					0





# 小数のわり算5

◎ 整数÷小数 (商が何十)



日にち： 月 日

名まえ \_\_\_\_\_

・ 次の計算をしなさい。(うすい字は、なぞりましょう。)

①

			2	0	
4	1	)	8	2	0
			8	2	0
					0

②

			3	0	
2	8	)	8	4	0
			8	4	0
					0

③

			5	0	
1	7	)	8	5	0
			8	5	0
					0

④

			3	0	
2	9	)	8	7	0
			8	7	0
					0

⑤ 78 ÷ 2.6

			3	0	
2	6	)	7	8	0
			7	8	0
					0

⑥ 76 ÷ 1.9

			4	0	
1	9	)	7	6	0
			7	6	0
					0

⑦ 87 ÷ 2.9

			3	0	
2	9	)	8	7	0
			8	7	0
					0

⑧ 76 ÷ 3.8

			2	0	
3	8	)	7	6	0
			7	6	0
					0



# 小数のわり算5

◎ 整数÷小数 (商が何十)



日にち： 月 日

名まえ \_\_\_\_\_

・ 次の計算をなさい。(うすい字は、なぞりましょう。)

①

			3	0	
2	7	)	8	1	0
			8	1	0
					0

②

			6	0	
1	4	)	8	4	0
			8	4	0
					0

③

			4	0	
1	8	)	7	2	0
			7	2	0
					0

④

			2	0	
4	6	)	9	2	0
			9	2	0
					0

⑤ 78 ÷ 2.6

			3	0	
2	6	)	7	8	0
			7	8	0
					0

⑥ 96 ÷ 1.6

			6	0	
1	6	)	9	6	0
			9	6	0
					0

⑦ 96 ÷ 3.2

			3	0	
3	2	)	9	6	0
			9	6	0
					0

⑧ 54 ÷ 1.8

			3	0	
1	8	)	5	4	0
			5	4	0
					0



# 小数のわり算5

◎ 整数÷小数 (商が何十)



日にち： 月 日

名まえ \_\_\_\_\_

・ 次の計算をしなさい。(うすい字は、なぞりましょう。)

①

		2	0
3	7	7	4
		7	4
			0

②

		5	0
1	9	9	5
		9	5
			0

③

		3	0
3	1	9	3
		9	3
			0

④

		4	0
2	2	8	8
		8	8
			0

⑤ 85 ÷ 1.7

		5	0
1	7	8	5
		8	5
			0

⑥ 70 ÷ 3.5

		2	0
3	5	7	0
		7	0
			0

⑦ 68 ÷ 3.4

		2	0
3	4	6	8
		6	8
			0

⑧ 76 ÷ 1.9

		4	0
1	9	7	6
		7	6
			0



# 小数のわり算5

◎ 整数÷小数 (商が何十)



日にち： 月 日

名まえ \_\_\_\_\_

・ 次の計算をしなさい。(うすい字は、なぞりましょう。)

①

		2	0
3	8	7	6
		7	6
			0

②

		7	0
1	3	9	1
		9	1
			0

③

		2	0
4	7	9	4
		9	4
			0

④

		5	0
1	8	9	0
		9	0
			0

⑤  $96 \div 1.2$

		8	0
1	2	9	6
		9	6
			0

⑥  $68 \div 3.4$

		2	0
3	4	6	8
		6	8
			0

⑦  $93 \div 3.1$

		3	0
3	1	9	3
		9	3
			0

⑧  $84 \div 4.2$

		2	0
4	2	8	4
		8	4
			0



# 小数のわり算5

◎ 整数÷小数 (商が何十)



日にち： 月 日

名まえ \_\_\_\_\_

・ 次の計算をしなさい。(うすい字は、なぞりましょう。)

①

			5	0	
1	7	)	8	5	0
			8	5	0
					0

②

			2	0	
3	5	)	7	0	0
			7	0	0
					0

③

			2	0	
3	8	)	7	6	0
			7	6	0
					0

④

			3	0	
2	8	)	8	4	0
			8	4	0
					0

⑤  $92 \div 2.3$

			4	0	
2	3	)	9	2	0
			9	2	0
					0

⑥  $91 \div 1.3$

			7	0	
1	3	)	9	1	0
			9	1	0
					0

⑦  $84 \div 1.4$

			6	0	
1	4	)	8	4	0
			8	4	0
					0

⑧  $87 \div 2.9$

			3	0	
2	9	)	8	7	0
			8	7	0
					0



# 小数のわり算5

◎ 整数÷小数 (商が何十)



日にち： 月 日

名まえ \_\_\_\_\_

・ 次の計算をしなさい。(うすい字は、なぞりましょう。)

①

			6	0
1	4	8	4	0
		8	4	0
				0

②

			2	0
1	7	3	4	0
		3	4	0
				0

③

			8	0
1	2	9	6	0
		9	6	0
				0

④

			2	0
4	3	8	6	0
		8	6	0
				0

⑤ 70 ÷ 3.5

			2	0
3	5	7	0	0
		7	0	0
				0

⑥ 78 ÷ 1.3

			6	0
1	3	7	8	0
		7	8	0
				0

⑦ 87 ÷ 2.9

			3	0
2	9	8	7	0
		8	7	0
				0

⑧ 93 ÷ 3.1

			3	0
3	1	9	3	0
		9	3	0
				0



# 小数のわり算5

◎ 整数÷小数 (商が何十)



日にち： 月 日

名まえ \_\_\_\_\_

・ 次の計算をしなさい。(うすい字は、なぞりましょう。)

①

			2	0	
3	6	)	7	2	0
			7	2	0
					0

②

			2	0	
4	2	)	8	4	0
			8	4	0
					0

③

			4	0	
2	3	)	9	2	0
			9	2	0
					0

④

			2	0	
4	8	)	9	6	0
			9	6	0
					0

⑤ 84 ÷ 2.1

			4	0	
2	1	)	8	4	0
			8	4	0
					0

⑥ 96 ÷ 3.2

			3	0	
3	2	)	9	6	0
			9	6	0
					0

⑦ 80 ÷ 1.6

			5	0	
1	6	)	8	0	0
			8	0	0
					0

⑧ 68 ÷ 3.4

			2	0	
3	4	)	6	8	0
			6	8	0
					0





# 小数のわり算5

◎ 整数÷小数 (商が何十)



日にち：            月            日

名まえ \_\_\_\_\_

・ 次の計算をしなさい。(うすい字は、なぞりましょう。)

①

			4	0		
1	.	8	)	7	2	0
			7	2	0	
					0	

②

			2	0		
3	.	4	)	6	8	0
			6	8	0	
					0	

③

			6	0		
1	.	6	)	9	6	0
			9	6	0	
					0	

④

			2	0		
4	.	9	)	9	8	0
			9	8	0	
					0	

⑤  $90 \div 1.5$

			6	0		
1	.	5	)	9	0	0
			9	0	0	
					0	

⑥  $81 \div 2.7$

			3	0		
2	.	7	)	8	1	0
			8	1	0	
					0	

⑦  $60 \div 1.5$

			4	0		
1	.	5	)	6	0	0
			6	0	0	
					0	

⑧  $96 \div 3.2$

			3	0		
3	.	2	)	9	6	0
			9	6	0	
					0	



# 小数のわり算5

◎ 整数÷小数 (商が何十)



日にち：            月            日

名まえ \_\_\_\_\_

・ 次の計算をしなさい。(うすい字は、なぞりましょう。)

①

			4	0	
2	3	)	9	2	0
			9	2	0
					0

②

			5	0	
1	9	)	9	5	0
			9	5	0
					0

③

			5		
3	2	)	1	6	0
			1	6	0
					0

④

			3	0	
2	6	)	7	8	0
			7	8	0
					0

⑤ 15.4 ÷ 2.2

			7		
2	2	)	1	5	4
			1	5	4
					0

⑥ 23.4 ÷ 1.8

			1	3		
1	8	)	2	3	4	
			1	8		
					5	4
					5	4
						0



# 小数のわり算5

◎ 整数÷小数 (商が何十)



日にち：            月            日

名まえ \_\_\_\_\_

・ 次の計算をしなさい。

①

			2	0	
3	7	)	7	4	0
			7	4	0
					0

②

				7	
2	2	)	1	5	4
			1	5	4
					0

③

			2	0	
4	3	)	8	6	0
			8	6	0
					0

④

			7	0	
1	2	)	8	4	0
			8	4	0
					0

⑤  $19 \div 3.8$

				5	
3	8	)	1	9	0
			1	9	0
					0

⑥  $87 \div 2.9$

				3	0
2	9	)	8	7	0
			8	7	0
					0



# 小数のわり算5

◎ 整数÷小数 (商が何十)

12

日にち：            月            日

名まえ \_\_\_\_\_

・ 次の計算をなさい。

①

			2	0	
4	2	)	8	4	0
			8	4	0
					0

②

			2	0	
3	5	)	7	0	0
			7	0	0
					0

③

			1	2		
3	6	)	4	3	2	
			3	6		
					7	2
					7	2
						0

④

				5	
3	2	)	1	6	0
			1	6	0
					0

⑤ 72 ÷ 2.4

			3	0	
2	4	)	7	2	0
			7	2	0
					0

⑥ 72 ÷ 1.8

			4	0	
1	8	)	7	2	0
			7	2	0
					0



# 小数のわり算5

◎ 整数÷小数 (商が何十)

13

日にち：            月            日

名まえ \_\_\_\_\_

・ 次の計算をなさい。

①

			4	0	
2	3	)	9	2	0
			9	2	0
					0

②

			2	6	
1	6	)	4	1	6
			3	2	
				9	6
				9	6
					0

③

				5	
3	6	)	1	8	0
			1	8	0
					0

④

			5	0	
1	6	)	8	0	0
			8	0	0
					0

⑤  $98 \div 1.4$

			7	0	
1	4	)	9	8	0
			9	8	0
					0

⑥  $15.2 \div 1.9$

				8	
1	9	)	1	5	2
			1	5	2
					0



# 小数のわり算5

◎ 整数÷小数 (商が何十)

14

日にち：            月            日

名まえ \_\_\_\_\_

・ 次の計算をなさい。

①

			2	0	
4	9	)	9	8	0
			9	8	0
					0

②

			2	0	
2	7	)	5	4	0
			5	4	0
					0

③

			6	0	
1	2	)	7	2	0
			7	2	0
					0

④

			1	2	
4	4	)	5	2	8
			4	4	
				8	8
				8	8
					0

⑤  $76 \div 1.9$

			4	0	
1	9	)	7	6	0
			7	6	0
					0

⑥  $28 \div 3.5$

			8		
3	5	)	2	8	0
			2	8	0
					0

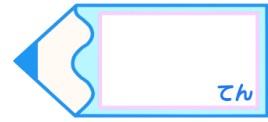


# 小数のわり算5

◎ 整数÷小数 (商が何十)

15

目指せ80点!



名まえ

・ 次の計算をしなさい。(各20点)

①

			5	0	
1	7	)	8	5	0
			8	5	0
					0

②

				5	
3	4	)	1	7	0
			1	7	0
					0

③ 78 ÷ 1.3

			6	0	
1	3	)	7	8	0
			7	8	0
					0

④ 75 ÷ 1.5

			5	0	
1	5	)	7	5	0
			7	5	0
					0

⑤ 40.8 ÷ 2.4

			1	7	
2	4	)	4	0	8
			2	4	
			1	6	8
			1	6	8
					0



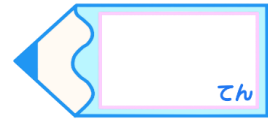


# 小数のわり算5

◎ 整数÷小数 (商が何十)

16

目指せ80点!



名まえ

・ 次の計算をしなさい。(各20点)

①

$$\begin{array}{r} 50 \\ 17 \overline{) 850} \\ \underline{850} \\ 0 \end{array}$$

②

$$\begin{array}{r} 5 \\ 34 \overline{) 170} \\ \underline{170} \\ 0 \end{array}$$

③  $37.8 \div 2.7$

$$\begin{array}{r} 14 \\ 27 \overline{) 378} \\ \underline{27} \\ 108 \\ \underline{108} \\ 0 \end{array}$$

④  $84 \div 1.4$

$$\begin{array}{r} 60 \\ 14 \overline{) 840} \\ \underline{840} \\ 0 \end{array}$$

⑤  $78 \div 2.6$

$$\begin{array}{r} 30 \\ 26 \overline{) 780} \\ \underline{780} \\ 0 \end{array}$$