



# 小数のわり算6

◎ 3つの位同士のわり算  
(商が何十)



日にち：            月            日

名まえ \_\_\_\_\_

・ 次の計算をしなさい。(うすい字は、なぞりましょう。)

①

				3	0		
1	5	9	)	4	7	7	0
				4	7	7	
							0

②

				3	0		
2	3	5	)	7	0	5	0
				7	0	5	
							0

③

				4			
1	1	3	)	4	5	2	0

④

2	5	6	)	5	1	2	0

⑤ 71.2 ÷ 1.78

1	7	8	)	7	1	2

⑥ 56.4 ÷ 1.88

			)				

⑦ 46.2 ÷ 2.31


⑧ 81.6 ÷ 1.36




# 小数のわり算6

◎ 3つの位同士のわり算  
(商が何十)



日にち：            月            日

名まえ \_\_\_\_\_

・ 次の計算をしなさい。(うすい字は、なぞりましょう。)

①

				4	0			
2	.	0	7	)	8	2	8	0
					8	2	8	
								0

②

					2	0		
3	.	1	8	)	6	3	6	0
					6	3	6	
								0

③

					6			
1	.	5	6	)	9	3	6	0

④

						3		
2	.	6	4	)	7	9	2	0

⑤  $73.4 \div 3.67$

3	6	7	)	7	3	4	

⑥  $91.6 \div 2.29$

			)				

⑦  $83.4 \div 1.39$


⑧  $77.4 \div 3.87$




# 小数のわり算6

◎ 3つの位同士のわり算  
(商が何十)



日にち：            月            日

名まえ \_\_\_\_\_

・ 次の計算をしなさい。(うすい字は、なぞりましょう。)

①

									2	0
3	.	4	2	)	6	8	.	4	0	
					6	8		4		
										0

②

										4	0
1	.	6	8	)	6	7	.	2	0		
					6	7		2			
											0

③

										2	
3	.	9	7	)	7	9	.	4	0		

④

											7
1	.	1	7	)	8	1	.	9	0		

⑤  $89.1 \div 2.97$

2	9	7	)	8	9	.	1				

⑥  $87.8 \div 4.39$

			)								

⑦  $98.4 \div 3.28$


⑧  $89.2 \div 2.23$




# 小数のわり算6

◎ 3つの位同士のわり算  
(商が何十)



日にち：            月            日

名まえ \_\_\_\_\_

・ 次の計算をしなさい。(うすい字は、なぞりましょう。)

①

				2	0		
4	7	2	)	9	4	4	0
				9	4	4	
							0

②

				3	0		
2	6	3	)	7	8	9	0
				7	8	9	
							0

③

				5			
1	9	5	)	9	7	5	0

④

				3			
3	1	6	)	9	4	8	0

⑤  $74.4 \div 1.86$

1	8	6	)	7	4	4

⑥  $97.2 \div 1.62$

			)				

⑦  $89.6 \div 1.28$


⑧  $74.8 \div 1.87$




# 小数のわり算6

◎ 3つの位同士のわり算  
(商が何十)



日にち：            月            日

名まえ \_\_\_\_\_

・ 次の計算をしなさい。(うすい字は、なぞりましょう。)

①

				7	0		
1	0	9	)	7	6	3	0
				7	6	3	
							0

②

							2
4	9	6	)	9	9	2	0

③

2	4	2	)	4	8	4	0

④

2	3	5	)	7	0	5	

⑤  $89.6 \div 1.12$

1	1	2	)	8	9	6	

⑥  $83.4 \div 1.39$

			)				

⑦  $87.2 \div 4.36$


⑧  $87.5 \div 1.25$








# 小数のわり算6

◎ 3つの位同士のわり算  
(商が何十)



日にち： 月 日

名まえ \_\_\_\_\_

・ 次の計算をなさい。(うすい字は、なぞりましょう。)

①  $3.37 \overline{)6740}$

6 7 4

0

②  $4.23 \overline{)8460}$

2

③  $1.08 \overline{)7560}$

④  $4.99 \overline{)998}$

⑤  $75.6 \div 1.89$

1 8 9  $\overline{)756}$

⑥  $70.4 \div 3.52$

$\overline{)704}$

⑦  $93.6 \div 3.12$

$\overline{)936}$

⑧  $84.5 \div 1.69$

$\overline{)845}$





# 小数のわり算6

◎ 3つの位同士のわり算  
(商が何十)



日にち：          月          日

名まえ \_\_\_\_\_

・ 次の計算をなさい。(うすい字は、なぞりましょう。)

①

							7	0
1	.	2	4	)	8	6	8	0
					8	6	8	
								0

②

								4
2	.	0	1	)	8	0	4	0

③

2	.	8	5	)	8	5	5	0

④

1	.	0	6	)	7	4	2	

⑤  $82.8 \div 1.38$

1	3	8	)	8	2	8		

⑥  $88.2 \div 2.94$

			)					

⑦  $63.6 \div 1.59$


⑧  $63.6 \div 2.12$








# 小数のわり算6

◎ 3つの位同士のわり算  
(商が何十)



日にち：            月            日

名まえ \_\_\_\_\_

・ 次の計算をしなさい。(うすいところは、なぞりましょう。)

①

1	.	9	9	)	5	9	.	7

②

1	.	1	6	)	4	6	.	4

③

3	.	5	)	3	1	.	5

④

3	.	0	2	)	9	0	.	6

⑤

17 ÷ 3.4

			)				

⑥

78.2 ÷ 3.91

			)				

⑦

69.6 ÷ 1.74

			)				

⑧

64.4 ÷ 3.22

			)				





# 小数のわり算6

◎ 3つの位同士のわり算  
(商が何十)



日にち：            月            日

名まえ \_\_\_\_\_

・ 次の計算をなさい。

①

1	.	7	7	)	7	0	.	8

②

1	.	5	3	)	9	1	.	8

③

4	.	5	7	)	9	1	.	4

④

3	.	9	6	)	7	9	.	2

⑤

1	.	0	5	)	7	3	.	5

⑥

2	.	4	)	1	2

⑦

77.4 ÷ 1.8


⑧

73.6 ÷ 1.84


⑪ 仕上げ



すらすらぷりん



# 小数のわり算6

◎ 3つの位同士のわり算  
(商が何十)



日にち：            月            日

名まえ \_\_\_\_\_

・ 次の計算をなさい。

①

3	.	2	4	)	6	4	.	8

②

2	.	1	1	)	8	4	.	4

③

1	.	7	7	)	8	8	.	5

④

1	.	9	)	1	5	.	2

⑤

27 ÷ 5.4


⑥

78.6 ÷ 1.31


⑦

80.7 ÷ 2.69


⑧

55.8 ÷ 1.86






# 小数のわり算6

◎ 3つの位同士のわり算  
(商が何十)



日にち：            月            日

名まえ \_\_\_\_\_

・ 次の計算をなさい。

①

2	.	9	2	)	8	7	.	6

②

4	.	2	9	)	8	5	.	8

③

4	.	3	)	8	6

④

1	.	1	9	)	7	1	.	4

⑤

1	.	9	7	)	9	8	.	5

⑥

1	.	4	5	)	7	2	.	5

⑦

44.8 ÷ 1.4


⑧

85.2 ÷ 2.13






# 小数のわり算6

◎ 3つの位同士のわり算  
(商が何十)



日にち：            月            日

名まえ \_\_\_\_\_

・ 次の計算をなさい。

①

1	.	5	9	)	9	5	.	4

②

3	.	6	)	2	8	.	8

③

1	.	4	3	)	8	5	.	8

④

4	.	4	9	)	8	9	.	8

⑤

70.5 ÷ 2.35


⑥

14 ÷ 2.8


⑦

72.4 ÷ 3.62


⑧

94.8 ÷ 2.37







# 小数のわり算6

◎ 3つの位同士のわり算  
(商が何十)



目指せ80点!



名まえ \_\_\_\_\_

・ 次の計算をなさい。(各20点)

①

3	.	2	9	)	6	5	.	8

②

3	.	2	)	9	6		

③

$62.8 \div 1.57$


④

$57.6 \div 3.2$


⑤

$54.6 \div 1.82$



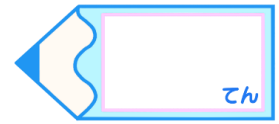



# 小数のわり算6

◎ 3つの位同士のわり算  
(商が何十)



目指せ80点!



名まえ \_\_\_\_\_

・ 次の計算をなさい。(各20点)

①

$$2.87 \overline{)86.1}$$

②

$$1.26 \overline{)88.2}$$

③

$$92 \div 4.6$$

④

$$68.8 \div 1.6$$

⑤

$$69.4 \div 3.47$$















# 小数のわり算6

◎ 3つの位同士のわり算  
(商が何十)



日にち：            月            日

名まえ \_\_\_\_\_

・ 次の計算をしなさい。(うすい字は、なぞりましょう。)

①

				6	0
1	1	4	6	8	4
			6	8	4
					0

②

				3	0
2	9	6	8	8	8
			8	8	8
					0

③

				2	0
4	7	1	9	4	2
			9	4	2
					0

④

				2	0
3	6	3	7	2	6
			7	2	6
					0

⑤  $86.7 \div 2.89$

				3	0
2	8	9	8	6	7
			8	6	7
					0

⑥  $92.8 \div 2.32$

				4	0
2	3	2	9	2	8
			9	2	8
					0

⑦  $99.6 \div 3.32$

				3	0
3	3	2	9	9	6
			9	9	6
					0

⑧  $85.6 \div 2.14$

				4	0
2	1	4	8	5	6
			8	5	6
					0















# 小数のわり算6

◎ 3つの位同士のわり算  
(商が何十)



日にち：            月            日

名まえ \_\_\_\_\_

・ 次の計算をなさい。

①

				4	0	
1	7	7	7	0	8	0
			7	0	8	0
						0

②

				6	0	
1	5	3	9	1	8	0
			9	1	8	0
						0

③

				2	0	
4	5	7	9	1	4	0
			9	1	4	0
						0

④

				2	0	
3	9	6	7	9	2	0
			7	9	2	0
						0

⑤

				7	0	
1	0	5	7	3	5	0
			7	3	5	0
						0

⑥

				5	
2	4	1	2	0	
			1	2	0
					0

⑦ 77.4 ÷ 1.8

				4	3
1	8	7	7	4	
			7	2	
				5	4
				5	4
					0

⑧ 73.6 ÷ 1.84

				4	0	
1	8	4	7	3	6	0
			7	3	6	0
						0

⑪ 仕上げ 答え





# 小数のわり算6

◎ 3つの位同士のわり算  
(商が何十)



日にち：            月            日

名まえ \_\_\_\_\_

・ 次の計算をなさい。

①

				3	0
2	9	2	8	7	6
			8	7	6
					0
					0

②

				2	0
4	2	9	8	5	8
			8	5	8
					0
					0

③

				2	0
4	3	8	6	0	
			8	6	0
					0
					0

④

				6	0
1	1	9	7	1	4
			7	1	4
					0
					0

⑤

				5	0
1	9	7	9	8	5
			9	8	5
					0
					0

⑥

				5	0
1	4	5	7	2	5
			7	2	5
					0
					0

⑦ 44.8 ÷ 1.4

				3	2
1	4	4	4	8	
			4	2	
				2	8
				2	8
					0

⑧ 85.2 ÷ 2.13

				4	0
2	1	3	8	5	2
			8	5	2
					0
					0



# 小数のわり算6

◎ 3つの位同士のわり算  
(商が何十)

14

日にち： 月 日

名まえ \_\_\_\_\_

・ 次の計算をなさい。

①

				6	0
1	5	9	9	5	4
			9	5	4
					0
					0

②

				8
3	6	2	8	8
		2	8	8
				0
				0

③

				6	0
1	4	3	8	5	8
			8	5	8
					0
					0

④

				2	0
4	4	9	8	9	8
			8	9	8
					0
					0

⑤ 70.5 ÷ 2.35

				3	0
2	3	5	7	0	5
			7	0	5
					0
					0

⑥ 14 ÷ 2.8

				5
2	8	1	4	0
		1	4	0
				0
				0

⑦ 72.4 ÷ 3.62

				2	0
3	6	2	7	2	4
			7	2	4
					0
					0

⑧ 94.8 ÷ 2.37

				4	0
2	3	7	9	4	8
			9	4	8
					0
					0






# 小数のわり算6

◎ 3つの位同士のわり算  
(商が何十)

15

目指せ80点!



名まえ

・ 次の計算をなさい。(各20点)

①

								2	0
3	2	9	)	6	5	8	0		
				6	5	8	0		
									0

②

								3	0
3	2	9	)	6	5	8	0		
				9	6	0			
									0

③  $62.8 \div 1.57$

								4	0
1	5	7	)	6	2	8	0		
				6	2	8	0		
									0

④  $57.6 \div 3.2$

								1	8		
3	2	)	5	7	6						
				3	2						
								2	5	6	
									2	5	6
											0

⑤  $54.6 \div 1.82$

								3	0	
1	8	2	)	5	4	6	0			
				5	4	6	0			
										0



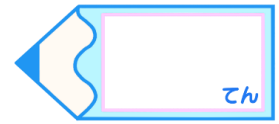


# 小数のわり算6

◎ 3つの位同士のわり算  
(商が何十)



目指せ80点!



名まえ \_\_\_\_\_

・ 次の計算をなさい。(各20点)

①

$$\begin{array}{r} \phantom{287} 30 \\ 287 \overline{) 8610} \\ \underline{8610} \\ 0 \end{array}$$

②

$$\begin{array}{r} \phantom{126} 70 \\ 126 \overline{) 8820} \\ \underline{8820} \\ 0 \end{array}$$

③  $92 \div 4.6$

$$\begin{array}{r} \phantom{92} 20 \\ 46 \overline{) 920} \\ \underline{920} \\ 0 \end{array}$$

④  $68.8 \div 1.6$

$$\begin{array}{r} \phantom{688} 43 \\ 16 \overline{) 688} \\ \underline{64} \\ 48 \\ \underline{48} \\ 0 \end{array}$$

⑤  $69.4 \div 3.47$

$$\begin{array}{r} \phantom{694} 20 \\ 347 \overline{) 6940} \\ \underline{6940} \\ 0 \end{array}$$