



小数のわり算7

◎ 商が帯小数になるわり算



日にち： 月 日

名まえ _____

・ 次の計算をしなさい。（うすい字は、なぞりましょう。）

①

		1	4				
1	.	7)	2	.	3	8
				1	7		
				6	8		
				6	8		
						0	

②

				2	.		
1	.	6)	3	.	8	4
				3	2		

③ $9.66 \div 4.6$

4	.	6)	9	.	6	6

④ $6.46 \div 1.9$

)				

⑤ $4.25 \div 1.7$

⑥ $4.92 \div 1.2$





小数のわり算7

◎ 商が帯小数になるわり算



日にち： 月 日

名まえ _____

・ 次の計算をしなさい。（うすい字は、なぞりましょう。）

①

		1	2				
4	.	3)	5	.	1	6
		4		3			
				8		6	
				8		6	
						0	

②

				3	.		
1	.	8)	6	.	4	8
				5		4	

③ $4.05 \div 1.5$

1	.	5)	4	.	0	5

④ $7.04 \div 4.4$

)				

⑤ $6.09 \div 2.9$

⑥ $6.72 \div 2.1$



小数のわり算7

◎ 商が帯小数になるわり算



日にち： 月 日

名まえ _____

・ 次の計算をしなさい。（うすい字は、なぞりましょう。）

①

		2	2				
2	.	9)	6	.	3	8
				5		8	
				5		8	
				5		8	
							0

②

				1	.		
2	.	4)	4	.	5	6
				2		4	

③ 5.16 ÷ 1.2

1	.	2)	5	.	1	6

④ 7.14 ÷ 3.4

)				

⑤ 6.56 ÷ 1.6

⑥ 4.05 ÷ 2.7



小数のわり算7

◎ 商が帯小数になるわり算



日にち： 月 日

名まえ _____

・ 次の計算をしなさい。（うすい字は、なぞりましょう。）

①

		2	5				
2	.	3)	5	.	7	5
				4	6		
				1	1	5	
				1	1	5	
						0	

②

				2	.		
3	.	9)	8	.	9	7
				7	8		

③ $8.37 \div 2.7$

		2	.	7)	8	.	3	7

④ $5.04 \div 3.6$

⑤ $7.36 \div 4.6$

⑥ $7.25 \div 2.5$



小数のわり算7

◎ 商が帯小数になるわり算



日にち： 月 日

名まえ _____

・ 次の計算をしなさい。（うすい字は、なぞりましょう。）

①

		1	5
3.	3	4.	9 5
		3	3
		1	6 5

②

		1	
2.	3	3.	9 1
		2	3

③ $9.03 \div 4.3$

4.	3.	9.	0.3

④ $8.46 \div 4.7$

⑤ $8.14 \div 2.2$

⑥ $7.35 \div 4.9$



小数のわり算7

◎ 商が帯小数になるわり算



日にち： 月 日

名まえ _____

・ 次の計算をしなさい。（うすい字は、なぞりましょう。）

①

		2	4				
4	.	1)	9	.	8	4
				8		2	
				1	6	4	

②

				2	.		
1	.	2)	3	.	4	8
				2		4	

③ $9.24 \div 3.3$

3	.	3)	9	.	2	4

④ $3.84 \div 2.4$

)			

⑤ $6.63 \div 1.7$

⑥ $6.88 \div 4.3$



小数のわり算7

◎ 商が帯小数になるわり算



日にち： 月 日

名まえ _____

・ 次の計算をしなさい。（うすい字は、なぞりましょう。）

①

		3	4				
1	.	6)	5	.	4	4
				4	8		
				6	4		

②

				3	.		
1	.	5)	5	.	8	5
				4	5		

③ $9.88 \div 3.8$

3	.	8)	9	.	8	8

④ $3.36 \div 2.4$

)		

⑤ $5.95 \div 3.5$

⑥ $4.68 \div 1.8$



小数のわり算7

◎ 商が帯小数になるわり算



日にち： 月 日

名まえ _____

・ 次の計算をしなさい。（うすい字は、なぞりましょう。）

①

		1	7
3.5)	5.95	
		35	
		245	

②

		2	
1.2)	2.88	
		24	

③ 6.16 ÷ 4.4

4.4)	6.16	

④ 2.16 ÷ 1.8

)		

⑤ 6.65 ÷ 1.9

⑥ 4.56 ÷ 2.4



小数のわり算7

◎ 商が帯小数になるわり算



日にち： 月 日

名まえ _____

・ 次の計算をしなさい。（うすい字は、なぞりましょう。）

①

		4	5				
1	.	3)	5	.	8	5
				5		2	
				6		5	

②

				2	.		
1	.	8)	3	.	7	8
				3		6	

③ $2.24 \div 1.4$

1	.	4)	2	.	2	4

④ $6.12 \div 3.6$

)		

⑤ $4.16 \div 3.2$

⑥ $5.33 \div 1.3$



小数のわり算7

◎ 商が帯小数になるわり算



日にち： 月 日

名まえ _____

・ 次の計算をしなさい。（うすいところは、なぞりましょう。）

①

3.3)	4.95	

②

2.3)	3.91	

③

80.5 ÷ 2.3

)		

④

5.12 ÷ 3.2

)		

⑤

5.64 ÷ 4.7

⑥

30.4 ÷ 1.9



小数のわり算7

◎ 商が帯小数になるわり算



日にち： 月 日

名まえ _____

・ 次の計算をなさい。

①

3.4)	8.16	

②

2.1)	5.46	

③

50.6 ÷ 2.2

④

7.68 ÷ 3.2

⑤

6.11 ÷ 1.3

⑥

93.6 ÷ 2.6



小数のわり算7

◎ 商が帯小数になるわり算

12

日にち： 月 日

名まえ _____

・ 次の計算をしなさい。

①

$$1.9 \overline{) 8.36}$$

②

$$2.1 \overline{) 9.87}$$

③

$$6.86 \div 1.4$$

④

$$81.4 \div 2.2$$

⑤

$$5.44 \div 1.6$$

⑥

$$52.5 \div 3.5$$



小数のわり算7

◎ 商が帯小数になるわり算

13

日にち： 月 日

名まえ _____

・ 次の計算をしなさい。

①

$$\begin{array}{r} 1.3 \overline{) 3.25} \\ \hline \end{array}$$

②

$$\begin{array}{r} 1.2 \overline{) 19.2} \\ \hline \end{array}$$

③

$$9.45 \div 2.1$$

④

$$7.79 \div 4.1$$

⑤

$$58.5 \div 1.5$$

⑥

$$9.72 \div 3.6$$



小数のわり算7

◎ 商が帯小数になるわり算



日にち： 月 日

名まえ _____

・ 次の計算をしなさい。

①

3	.	3)	5	.	6	1

②

1	.	4)	5	.	3	2

③

4.96 ÷ 3.1

④

72.8 ÷ 2.8

⑤

7.98 ÷ 1.9

⑥

58.5 ÷ 1.5




小数のわり算7

◎ 商が帯小数になるわり算

15

目指せ80点!



名まえ _____

・ 次の計算をしなさい。(各20点)

①

3	.	7)	8	.	8	8

②

2	.	9)	7	2	.	5

③

4.48 ÷ 3.2

④

72.6 ÷ 2.2

⑤

31.5 ÷ 2.1






小数のわり算7

◎ 商が帯小数になるわり算

16

目指せ80点!



名まえ _____

・ 次の計算をしなさい。(各20点)

①

$$4.2 \overline{)5.88}$$

②

$$1.2 \overline{)5.76}$$

③

$$8.64 \div 2.4$$

④

$$71.4 \div 1.7$$

⑤

$$5.44 \div 1.6$$



小数のわり算7

◎ 商が帯小数になるわり算



日にち： 月 日

名まえ _____

・ 次の計算をなさい。（うすい字は、なぞりましょう。）

①

			1.4
1	7)	23.8
			17
			68
			68
			0

②

			2.4
1	6)	38.4
			32
			64
			64
			0

③ $9.66 \div 4.6$

			2.1
4	6)	9.6.6
			92
			46
			46
			0

④ $6.46 \div 1.9$

			3.4
1	9)	6.4.6
			57
			76
			76
			0

⑤ $4.25 \div 1.7$

			2.5
1	7)	4.2.5
			34
			85
			85
			0

⑥ $4.92 \div 1.2$

			4.1
1	2)	4.9.2
			48
			12
			12
			0



小数のわり算7

◎ 商が帯小数になるわり算



日にち： 月 日

名まえ _____

・ 次の計算をしなさい。（うすい字は、なぞりましょう。）

①

			1.2
43)	51.6	
		43	
<hr/>			
		86	
		86	
<hr/>			
		0	

②

			3.6
18)	64.8	
		54	
<hr/>			
		108	
		108	
<hr/>			
		0	

③ 4.05 ÷ 1.5

			2.7
15)	40.5	
		30	
<hr/>			
		105	
		105	
<hr/>			
		0	

④ 7.04 ÷ 4.4

			1.6
44)	70.4	
		44	
<hr/>			
		264	
		264	
<hr/>			
		0	

⑤ 6.09 ÷ 2.9

			2.1
29)	60.9	
		58	
<hr/>			
		29	
		29	
<hr/>			
		0	

⑥ 6.72 ÷ 2.1

			3.2
21)	67.2	
		63	
<hr/>			
		42	
		42	
<hr/>			
		0	



小数のわり算7

◎ 商が帯小数になるわり算



日にち： 月 日

名まえ _____

・ 次の計算をしなさい。（うすい字は、なぞりましょう。）

①

		2.2	
2.9)	6.38	
		58	
		58	
		58	
		0	

②

		1.9	
2.4)	4.56	
		24	
		216	
		216	
		0	

③ $5.16 \div 1.2$

		4.3	
1.2)	5.16	
		48	
		36	
		36	
		0	

④ $7.14 \div 3.4$

		2.1	
3.4)	7.14	
		68	
		34	
		34	
		0	

⑤ $6.56 \div 1.6$

		4.1	
1.6)	6.56	
		64	
		16	
		16	
		0	

⑥ $4.05 \div 2.7$

		1.5	
2.7)	4.05	
		27	
		135	
		135	
		0	



小数のわり算7

◎ 商が帯小数になるわり算



日にち： 月 日

名まえ _____

・ 次の計算をしなさい。（うすい字は、なぞりましょう。）

①

			2.5
23)	575	
		46	
		115	
		115	
			0

②

			2.3
39)	897	
		78	
		117	
		117	
			0

③ $8.37 \div 2.7$

			3.1
27)	837	
		81	
		27	
		27	
			0

④ $5.04 \div 3.6$

			1.4
36)	504	
		36	
		144	
		144	
			0

⑤ $7.36 \div 4.6$

			1.6
46)	736	
		46	
		276	
		276	
			0

⑥ $7.25 \div 2.5$

			2.9
25)	725	
		50	
		225	
		225	
			0



小数のわり算7

◎ 商が帯小数になるわり算



日にち： 月 日

名まえ _____

・ 次の計算をしなさい。（うすい字は、なぞりましょう。）

①

			1.5
3.3)	4.95	
		3.3	
		1.65	
		1.65	
			0

②

			1.7
2.3)	3.91	
		2.3	
		1.61	
		1.61	
			0

③ $9.03 \div 4.3$

			2.1
4.3)	9.03	
		8.6	
		4.3	
		4.3	
			0

④ $8.46 \div 4.7$

			1.8
4.7)	8.46	
		4.7	
		3.76	
		3.76	
			0

⑤ $8.14 \div 2.2$

			3.7
2.2)	8.14	
		6.6	
		1.54	
		1.54	
			0

⑥ $7.35 \div 4.9$

			1.5
4.9)	7.35	
		4.9	
		2.45	
		2.45	
			0



小数のわり算7

◎ 商が帯小数になるわり算



日にち： 月 日

名まえ _____

・ 次の計算をしなさい。（うすい字は、なぞりましょう。）

①

			2.4
4	1	9	8.4
		8	2
		1	6.4
		1	6.4
			0

②

			2.9
1	2	3	4.8
		2	4
		1	0.8
		1	0.8
			0

③ $9.24 \div 3.3$

			2.8
3	3	9	2.4
		6	6
		2	6.4
		2	6.4
			0

④ $3.84 \div 2.4$

			1.6
2	4	3	8.4
		2	4
		1	4.4
		1	4.4
			0

⑤ $6.63 \div 1.7$

			3.9
1	7	6	6.3
		5	1
		1	5.3
		1	5.3
			0

⑥ $6.88 \div 4.3$

			1.6
4	3	6	8.8
		4	3
		2	5.8
		2	5.8
			0





小数のわり算7

◎ 商が帯小数になるわり算



日にち： 月 日

名まえ _____

・ 次の計算をしなさい。（うすい字は、なぞりましょう。）

①

			3.4
1.6)	5.4.4	
		4.8	
		<hr/>	
		6.4	
		6.4	
		<hr/>	
			0

②

			3.9
1.5)	5.8.5	
		4.5	
		<hr/>	
		1.3.5	
		1.3.5	
		<hr/>	
			0

③ $9.88 \div 3.8$

			2.6
3.8)	9.8.8	
		7.6	
		<hr/>	
		2.2.8	
		2.2.8	
		<hr/>	
			0

④ $3.36 \div 2.4$

			1.4
2.4)	3.3.6	
		2.4	
		<hr/>	
		9.6	
		9.6	
		<hr/>	
			0

⑤ $5.95 \div 3.5$

			1.7
3.5)	5.9.5	
		3.5	
		<hr/>	
		2.4.5	
		2.4.5	
		<hr/>	
			0

⑥ $4.68 \div 1.8$

			2.6
1.8)	4.6.8	
		3.6	
		<hr/>	
		1.0.8	
		1.0.8	
		<hr/>	
			0



小数のわり算7

◎ 商が帯小数になるわり算



日にち： 月 日

名まえ _____

・ 次の計算をしなさい。（うすい字は、なぞりましょう。）

①

			1.7
35)	595	
		35	
		245	
		245	
			0

②

			2.4
12)	288	
		24	
		48	
		48	
			0

③ 6.16 ÷ 4.4

			1.4
44)	616	
		44	
		176	
		176	
			0

④ 2.16 ÷ 1.8

			1.2
18)	216	
		18	
		36	
		36	
			0

⑤ 6.65 ÷ 1.9

			3.5
19)	665	
		57	
		95	
		95	
			0

⑥ 4.56 ÷ 2.4

			1.9
24)	456	
		24	
		216	
		216	
			0



小数のわり算7

◎ 商が帯小数になるわり算



日にち： 月 日

名まえ _____

・ 次の計算をしなさい。（うすい字は、なぞりましょう。）

①

			4.5
1	3	5	8.5
		5	2
<hr/>			
		6	5
		6	5
<hr/>			
			0

②

			2.1
1	8	3	7.8
		3	6
<hr/>			
		1	8
		1	8
<hr/>			
			0

③ $2.24 \div 1.4$

			1.6
1	4	2	2.4
		1	4
<hr/>			
		8	4
		8	4
<hr/>			
			0

④ $6.12 \div 3.6$

			1.7
3	6	6	1.2
		3	6
<hr/>			
		2	5.2
		2	5.2
<hr/>			
			0

⑤ $4.16 \div 3.2$

			1.3
3	2	4	1.6
		3	2
<hr/>			
		9	6
		9	6
<hr/>			
			0

⑥ $5.33 \div 1.3$

			4.1
1	3	5	3.3
		5	2
<hr/>			
		1	3
		1	3
<hr/>			
			0



小数のわり算7

◎ 商が帯小数になるわり算



日にち： 月 日

名まえ _____

・ 次の計算をしなさい。（うすいところは、なぞりましょう。）

①

			1.5
3.3)	49.5	
		33	
		165	
		165	
		0	

②

			1.7
2.3)	39.1	
		23	
		161	
		161	
		0	

③ $80.5 \div 2.3$

			35
2.3)	80.5	
		69	
		115	
		115	
		0	

④ $5.12 \div 3.2$

			1.6
3.2)	51.2	
		32	
		192	
		192	
		0	

⑤ $5.64 \div 4.7$

			1.2
4.7)	56.4	
		47	
		94	
		94	
		0	

⑥ $30.4 \div 1.9$

			16
1.9)	30.4	
		19	
		114	
		114	
		0	





小数のわり算7

◎ 商が帯小数になるわり算



日にち： 月 日

名まえ _____

・ 次の計算をしなさい。

①

			2.4
34)	81.6	
		68	
		136	
		136	
			0

②

			2.6
21)	54.6	
		42	
		126	
		126	
			0

③ $50.6 \div 2.2$

			23
22)	50.6	
		44	
		66	
		66	
			0

④ $7.68 \div 3.2$

			2.4
32)	76.8	
		64	
		128	
		128	
			0

⑤ $6.11 \div 1.3$

			4.7
13)	61.1	
		52	
		91	
		91	
			0

⑥ $93.6 \div 2.6$

			36
26)	93.6	
		78	
		156	
		156	
			0





小数のわり算7

◎ 商が帯小数になるわり算

12

日にち： 月 日

名まえ _____

・ 次の計算をしなさい。

①

			4	4
1	9	8	3	6
		7	6	
		7	6	
		7	6	
				0

②

			4	7
2	1	9	8	7
		8	4	
		1	4	7
		1	4	7
				0

③ $6.86 \div 1.4$

			4	9
1	4	6	8	6
		5	6	
		1	2	6
		1	2	6
				0

④ $81.4 \div 2.2$

			3	7
2	2	8	1	4
		6	6	
		1	5	4
		1	5	4
				0

⑤ $5.44 \div 1.6$

			3	4
1	6	5	4	4
		4	8	
		6	4	
		6	4	
				0

⑥ $52.5 \div 3.5$

			1	5
3	5	5	2	5
		3	5	
		1	7	5
		1	7	5
				0



小数のわり算7

◎ 商が帯小数になるわり算

13

日にち： 月 日

名まえ _____

・ 次の計算をしなさい。

①

			2.5
1.3)	3.25	
		26	
		65	
		65	
		0	

②

			1.6
1.2)	1.92	
		12	
		72	
		72	
		0	

③ 9.45 ÷ 2.1

			4.5
2.1)	9.45	
		84	
		105	
		105	
		0	

④ 7.79 ÷ 4.1

			1.9
4.1)	7.79	
		41	
		369	
		369	
		0	

⑤ 58.5 ÷ 1.5

			3.9
1.5)	58.5	
		45	
		135	
		135	
		0	

⑥ 9.72 ÷ 3.6

			2.7
3.6)	9.72	
		72	
		252	
		252	
		0	



小数のわり算7

◎ 商が帯小数になるわり算

14

日にち： 月 日

名まえ _____

・ 次の計算をしなさい。

①

			1.7
3.3)	5.6	1
		3.3	
		2.3	1
		2.3	1
			0

②

			3.8
1.4)	5.3	2
		4.2	
		1.1	2
		1.1	2
			0

③ $4.96 \div 3.1$

			1.6
3.1)	4.9	6
		3.1	
		1.8	6
		1.8	6
			0

④ $72.8 \div 2.8$

			26
2.8)	72.8	
		56	
		16	8
		16	8
			0

⑤ $7.98 \div 1.9$

			4.2
1.9)	7.9	8
		7.6	
		3.8	
		3.8	
			0

⑥ $58.5 \div 1.5$

			39
1.5)	58.5	
		45	
		13	5
		13	5
			0






小数のわり算7

◎ 商が帯小数になるわり算

15

目指せ80点!



名まえ

・ 次の計算をしなさい。(各20点)

①

			2	.	4
3	7)	8	8	8
			7	4	
			1	4	8
			1	4	8
					0

②

			2	5	
2	9)	7	2	5
			5	8	
			1	4	5
			1	4	5
					0

③ $4.48 \div 3.2$

			1	.	4
3	2)	4	4	8
			3	2	
			1	2	8
			1	2	8
					0

④ $72.6 \div 2.2$

			3	3	
2	2)	7	2	6
			6	6	
			6	6	
			6	6	
					0

⑤ $31.5 \div 2.1$

			1	5	
2	1)	3	1	5
			2	1	
			1	0	5
			1	0	5
					0






小数のわり算7

◎ 商が帯小数になるわり算

16

目指せ80点!



名まえ

・ 次の計算をしなさい。(各20点)

①

$$\begin{array}{r} 1.4 \\ 42 \overline{) 588} \\ \underline{42} \\ 168 \\ \underline{168} \\ 0 \end{array}$$

②

$$\begin{array}{r} 4.8 \\ 12 \overline{) 576} \\ \underline{48} \\ 96 \\ \underline{96} \\ 0 \end{array}$$

③ $8.64 \div 2.4$

$$\begin{array}{r} 3.6 \\ 24 \overline{) 864} \\ \underline{72} \\ 144 \\ \underline{144} \\ 0 \end{array}$$

④ $71.4 \div 1.7$

$$\begin{array}{r} 42 \\ 17 \overline{) 714} \\ \underline{68} \\ 34 \\ \underline{34} \\ 0 \end{array}$$

⑤ $5.44 \div 1.6$

$$\begin{array}{r} 3.4 \\ 16 \overline{) 544} \\ \underline{48} \\ 64 \\ \underline{64} \\ 0 \end{array}$$