



# 小数のわり算II

◎ わりすすみ  
(商が小数第一位までの真小数)



日にち：            月            日

名まえ \_\_\_\_\_

・ 次の計算をしなさい。(うすい字は、なぞりましょう。)

①

		0	5				
1	.	2	)	0	.	6	○
		6	0				

②

		0	2				
1	.	5	)	0	.	3	○

③

		0					
3	.	5	)	0	.	7	

④

4	.	5	)	0	.	9	

⑤  $0.5 \div 2.5$


⑥  $0.6 \div 1.5$


⑦  $0.7 \div 1.4$


⑧  $0.9 \div 1.8$




# 小数のわり算II

◎ わりすすみ  
(商が小数第一位までの真小数)



日にち：            月            日

名まえ \_\_\_\_\_

・ 次の計算をしなさい。(うすい字は、なぞりましょう。)

①

		0	5				
1	.	6	)	0	.	8	○
		8	0				

②

		0	6				
1	.	5	)	0	.	9	○

③

		0				
1	.	4	)	0	.	7

④

3	.	5	)	0	.	7

⑤  $0.9 \div 4.5$


⑥  $0.9 \div 4.5$


⑦  $0.3 \div 1.5$


⑧  $0.6 \div 1.2$




# 小数のわり算II

◎ わりすすみ  
(商が小数第一位までの真小数)



日にち：            月            日

名まえ \_\_\_\_\_

・ 次の計算をしなさい。(うすい字は、なぞりましょう。)

①

		0	5				
1	.	4	)	0	.	7	○
		7	0				

②

		0	4				
1	.	5	)	0	.	6	○

③

		0			
1	.	8	)	0	9

④

1	.	5	)	0	9

⑤  $0.7 \div 3.5$


⑥  $0.3 \div 1.5$


⑦  $0.5 \div 2.5$


⑧  $0.8 \div 1.6$




# 小数のわり算II

◎ わりすすみ  
(商が小数第一位までの真小数)



日にち： 月 日

名まえ \_\_\_\_\_

・ 次の計算をしなさい。(うすい字は、なぞりましょう。)

①

		0	5
1	6	)	0.8
			80
			0

②

		0	2
3	5	)	0.7

③

		0	
2	5	)	0.5

④

1	5	)	0.3

⑤  $0.9 \div 1.8$


⑥  $0.9 \div 1.5$


⑦  $0.7 \div 1.4$


⑧  $0.6 \div 1.5$




# 小数のわり算II

◎ わりすすみ  
(商が小数第一位までの真小数)



日にち：            月            日

名まえ \_\_\_\_\_

・ 次の計算をしなさい。(うすい字は、なぞりましょう。)

①

		0	5
1	4	)	0.7
			70
			0

②

		0	4
1	5	)	0.6

③

4	5	)	0.9

④

3	5	)	0.7

⑤  $0.6 \div 1.2$

		)	

⑥  $0.3 \div 1.5$

		)	

⑦  $0.9 \div 1.8$

		)	

⑧  $0.5 \div 2.5$

		)	



# 小数のわり算II

◎ わりすすみ  
(商が小数第一位までの真小数)



日にち：            月            日

名まえ \_\_\_\_\_

・ 次の計算をしなさい。(うすい字は、なぞりましょう。)

①

		0	5				
1	.	8	)	0	.	9	○
		9		0			
				0			

②

		0	2				
4	.	5	)	0	.	9	○

③

1	.	5	)	0	.	6

④

1	.	2	)	0	.	6

⑤  $0.7 \div 1.4$


⑥  $0.5 \div 2.5$


⑦  $0.8 \div 1.6$


⑧  $0.3 \div 1.5$




# 小数のわり算II

◎ わりすすみ  
(商が小数第一位までの真小数)



日にち：            月            日

名まえ \_\_\_\_\_

・ 次の計算をしなさい。(うすい字は、なぞりましょう。)

①

		0	5
1	4	)	0.7
			70
			0

②

		0	2
1	5	)	0.3

③

1	8	)	0.9

④

2	5	)	0.5

⑤  $0.9 \div 1.5$

		)	

⑥  $0.6 \div 1.2$

		)	

⑦  $0.7 \div 3.5$

		)	

⑧  $0.6 \div 1.5$

		)	



# 小数のわり算II

◎ わりすすみ  
(商が小数第一位までの真小数)



日にち：            月            日

名まえ \_\_\_\_\_

・ 次の計算をしなさい。(うすい字は、なぞりましょう。)

①

		0	4				
1	.	5	)	0	.	6	○
		6	0				

②

				0	.	5	
1	.	2	)	0	.	6	○

③

1	.	4	)	0	.	7

④

3	.	5	)	0	.	7

⑤  $0.8 \div 1.6$


⑥  $0.9 \div 4.5$


⑦  $0.9 \div 1.8$


⑧  $0.9 \div 1.5$






# 小数のわり算II

◎ わりすすみ  
(商が小数第一位までの真小数)



日にち： 月 日

名まえ \_\_\_\_\_

・ 次の計算をしなさい。(うすい字は、なぞりましょう。)

①

		0	2
4	5	)	0.9
			90
			0

②

		0	6
1	5	)	0.9
			90
			0

③

1	2	)	0.6

④

1	8	)	0.9

⑤  $0.3 \div 1.5$


⑥  $0.8 \div 1.6$


⑦  $0.5 \div 2.5$


⑧  $0.7 \div 3.5$




# 小数のわり算II

◎ わりすすみ  
(商が小数第一位までの真小数)

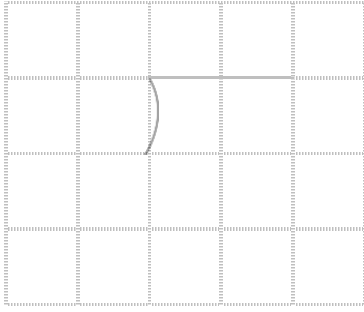


日にち：            月            日

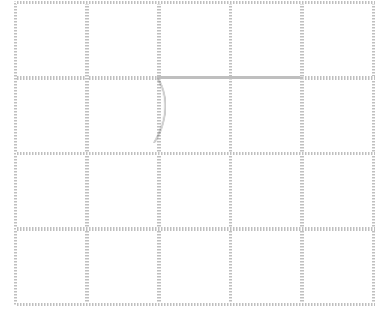
名まえ \_\_\_\_\_

・ 次の計算をしなさい。(うすいところは、なぞりましょう。)


①  $0.3 \div 1.5$




②  $0.5 \div 2.5$




③  $9.9 \div 6.6$



④  $0.6 \div 1.5$



⑤  $0.7 \div 1.4$



⑥  $0.9 \div 1.5$





# 小数のわり算II

◎ わりすすみ  
(商が小数第一位までの真小数)




日にち：            月            日


名まえ \_\_\_\_\_

・ 次の計算をしなさい。


①  $0.9 \div 4.5$




②  $2.73 \div 3.9$




③  $0.6 \div 1.2$




④  $0.9 \div 1.8$



⑤  $4.2 \div 3.5$



⑥  $0.6 \div 1.5$





# 小数のわり算II

◎ わりすすみ  
(商が小数第一位までの真小数)




日にち：            月            日


名まえ \_\_\_\_\_

・ 次の計算をしなさい。


①  $0.9 \div 4.5$




②  $0.9 \div 1.5$




③  $2.28 \div 1.9$




④  $0.8 \div 1.6$



⑤  $0.3 \div 1.5$



⑥  $0.9 \div 1.8$





# 小数のわり算II

◎ わりすすみ  
(商が小数第一位までの真小数)




日にち：            月            日


名まえ \_\_\_\_\_

・ 次の計算をしなさい。


①  $0.9 \div 1.8$




②  $0.7 \div 3.5$




③  $0.6 \div 1.2$




④  $2.64 \div 4.4$



⑤  $4.5 \div 1.8$



⑥  $0.3 \div 1.5$





# 小数のわり算II

◎わりすすみ  
(商が小数第一位までの真小数)




日にち： 月 日


名まえ \_\_\_\_\_

・ 次の計算をしなさい。


①  $0.8 \div 1.6$




②  $1.35 \div 2.7$




③  $5.13 \div 2.7$




④  $0.5 \div 2.5$



⑤  $0.9 \div 4.5$



⑥  $0.9 \div 1.5$





# 小数のわり算 11

◎ わりすすみ  
(商が小数第一位までの真小数)

15


目指せ80点!




名まえ \_\_\_\_\_

・ 次の計算をしなさい。(各20点)


①  $0.5 \div 2.5$




②  $0.6 \div 1.2$




③  $0.7 \div 3.5$



④  $4.88 \div 6.1$



⑤  $0.9 \div 1.5$





# 小数のわり算Ⅱ

◎わりすすみ  
(商が小数第一位までの真小数)



目指せ80点!



てん

名まえ

・ 次の計算をしなさい。(各20点)

①  $0.3 \div 1.5$

②  $1.65 \div 3.3$

③  $8.96 \div 2.8$

④  $0.7 \div 3.5$

⑤  $0.9 \div 1.8$





# 小数のわり算II

◎ わりすすみ  
(商が小数第一位までの真小数)



日にち：            月            日

名まえ \_\_\_\_\_

・ 次の計算をしなさい。(うすい字は、なぞりましょう。)

①

			0.	5	
1.	2	)	0	6	0
			6	0	
					0

②

			0.	2	
1.	5	)	0	3	0
			3	0	
					0

③

			0.	2	
3.	5	)	0	7	0
			7	0	
					0

④

			0.	2	
4.	5	)	0	9	0
			9	0	
					0

⑤  $0.5 \div 2.5$

			0.	2	
2.	5	)	0	5	0
			5	0	
					0

⑥  $0.6 \div 1.5$

			0.	4	
1.	5	)	0	6	0
			6	0	
					0

⑦  $0.7 \div 1.4$

			0.	5	
1.	4	)	0	7	0
			7	0	
					0

⑧  $0.9 \div 1.8$

			0.	5	
1.	8	)	0	9	0
			9	0	
					0



# 小数のわり算II

◎ わりすすみ  
(商が小数第一位までの真小数)



日にち：            月            日

名まえ \_\_\_\_\_

・ 次の計算をしなさい。(うすい字は、なぞりましょう。)

①

			0.5
1.6	)	080	
		80	
			0

②

			0.6
1.5	)	090	
		90	
			0

③

			0.5
1.4	)	070	
		70	
			0

④

			0.2
3.5	)	070	
		70	
			0

⑤  $0.9 \div 4.5$

			0.2
4.5	)	090	
		90	
			0

⑥  $0.9 \div 4.5$

			0.2
4.5	)	090	
		90	
			0

⑦  $0.3 \div 1.5$

			0.2
1.5	)	030	
		30	
			0

⑧  $0.6 \div 1.2$

			0.5
1.2	)	060	
		60	
			0



# 小数のわり算II

◎ わりすすみ  
(商が小数第一位までの真小数)



日にち：            月            日

名まえ \_\_\_\_\_

・ 次の計算をしなさい。(うすい字は、なぞりましょう。)

①

		0.5	
1.4	)	070	
		70	
		0	

②

		0.4	
1.5	)	060	
		60	
		0	

③

		0.5	
1.8	)	090	
		90	
		0	

④

		0.6	
1.5	)	090	
		90	
		0	

⑤  $0.7 \div 3.5$

		0.2	
3.5	)	070	
		70	
		0	

⑥  $0.3 \div 1.5$

		0.2	
1.5	)	030	
		30	
		0	

⑦  $0.5 \div 2.5$

		0.2	
2.5	)	050	
		50	
		0	

⑧  $0.8 \div 1.6$

		0.5	
1.6	)	080	
		80	
		0	



# 小数のわり算II

◎ わりすすみ  
(商が小数第一位までの真小数)



日にち：            月            日

名まえ \_\_\_\_\_

・ 次の計算をしなさい。(うすい字は、なぞりましょう。)

①

			0.5
1.6	)	080	
		80	
			0

②

			0.2
3.5	)	070	
		70	
			0

③

			0.2
2.5	)	050	
		50	
			0

④

			0.2
1.5	)	030	
		30	
			0

⑤  $0.9 \div 1.8$

			0.5
1.8	)	090	
		90	
			0

⑥  $0.9 \div 1.5$

			0.6
1.5	)	090	
		90	
			0

⑦  $0.7 \div 1.4$

			0.5
1.4	)	070	
		70	
			0

⑧  $0.6 \div 1.5$

			0.4
1.5	)	060	
		60	
			0



# 小数のわり算II

◎ わりすすみ  
(商が小数第一位までの真小数)



日にち：            月            日

名まえ \_\_\_\_\_

・ 次の計算をしなさい。(うすい字は、なぞりましょう。)

①

			0.	5	
1.	4	)	0	7	0
			7	0	
				0	

②

			0.	4	
1.	5	)	0	6	0
			6	0	
				0	

③

			0.	2	
4	5	)	0	9	0
			9	0	
				0	

④

			0.	2	
3	5	)	0	7	0
			7	0	
				0	

⑤ 0.6 ÷ 1.2

			0.	5	
1.	2	)	0	6	0
			6	0	
				0	

⑥ 0.3 ÷ 1.5

			0.	2	
1.	5	)	0	3	0
			3	0	
				0	

⑦ 0.9 ÷ 1.8

			0.	5	
1.	8	)	0	9	0
			9	0	
				0	

⑧ 0.5 ÷ 2.5

			0.	2	
2.	5	)	0	5	0
			5	0	
				0	



# 小数のわり算II

◎ わりすすみ  
(商が小数第一位までの真小数)



日にち：            月            日

名まえ \_\_\_\_\_

・ 次の計算をしなさい。(うすい字は、なぞりましょう。)

①

			0.	5	
1.	8	)	0	9	0
				9	0
					0

②

			0.	2	
4.	5	)	0	9	0
				2	0
					0

③

			0.	4	
1.	5	)	0	6	0
				6	0
					0

④

			0.	5	
1.	2	)	0	6	0
				6	0
					0

⑤  $0.7 \div 1.4$

			0.	5	
1.	4	)	0	7	0
				7	0
					0

⑥  $0.5 \div 2.5$

			0.	2	
2.	5	)	0	5	0
				5	0
					0

⑦  $0.8 \div 1.6$

			0.	5	
1.	6	)	0	8	0
				8	0
					0

⑧  $0.3 \div 1.5$

			0.	2	
1.	5	)	0	3	0
				3	0
					0



# 小数のわり算II

◎ わりすすみ  
(商が小数第一位までの真小数)



日にち： 月 日

名まえ \_\_\_\_\_

・ 次の計算をしなさい。(うすい字は、なぞりましょう。)

①

		0.5	
1.4	)	070	
		70	
		0	

②

		0.2	
1.5	)	030	
		30	
		0	

③

		0.5	
1.8	)	090	
		90	
		0	

④

		0.2	
2.5	)	050	
		50	
		0	

⑤  $0.9 \div 1.5$

		0.6	
1.5	)	090	
		90	
		0	

⑥  $0.6 \div 1.2$

		0.5	
1.2	)	060	
		60	
		0	

⑦  $0.7 \div 3.5$

		0.2	
3.5	)	070	
		70	
		0	

⑧  $0.6 \div 1.5$

		0.4	
1.5	)	060	
		60	
		0	



# 小数のわり算II

◎ わりすすみ  
(商が小数第一位までの真小数)



日にち：            月            日

名まえ \_\_\_\_\_

・ 次の計算をしなさい。(うすい字は、なぞりましょう。)

①

			0.	4	
1.	5	)	0	6	0
			6	0	
					0

②

			0.	5	
1.	2	)	0	6	0
			6	0	
					0

③

			0.	5	
1.	4	)	0	7	0
			7	0	
					0

④

			0.	2	
3.	5	)	0	7	0
			7	0	
					0

⑤  $0.8 \div 1.6$

			0.	5	
1.	6	)	0	8	0
			8	0	
					0

⑥  $0.9 \div 4.5$

			0.	2	
4.	5	)	0	9	0
			9	0	
					0

⑦  $0.9 \div 1.8$

			0.	5	
1.	8	)	0	9	0
			9	0	
					0

⑧  $0.9 \div 1.5$

			0.	6	
1.	5	)	0	9	0
			9	0	
					0





# 小数のわり算II

◎ わりすすみ  
(商が小数第一位までの真小数)



日にち：            月            日

名まえ \_\_\_\_\_

・ 次の計算をしなさい。(うすい字は、なぞりましょう。)

①

			0.	2	
4.	5	)	0	9	0
				9	0
					0

②

			0.	6	
1.	5	)	0	9	0
				9	0
					0

③

			0.	5	
1.	2	)	0	6	0
				6	0
					0

④

			0.	5	
1.	8	)	0	9	0
				9	0
					0

⑤  $0.3 \div 1.5$

			0.	2	
1.	5	)	0	3	0
				3	0
					0

⑥  $0.8 \div 1.6$

			0.	5	
1.	6	)	0	8	0
				8	0
					0

⑦  $0.5 \div 2.5$

			0.	2	
2.	5	)	0	5	0
				5	0
					0

⑧  $0.7 \div 3.5$

			0.	2	
3.	5	)	0	7	0
				7	0
					0



# 小数のわり算II

◎ わりすすみ  
(商が小数第一位までの真小数)



日にち：            月            日

名まえ \_\_\_\_\_

・ 次の計算をしなさい。(うすいところは、なぞりましょう。)

①  $0.3 \div 1.5$

			0.	2	
1	5	)	0	3	0
			3	0	
				0	

②  $0.5 \div 2.5$

			0.	2	
2	5	)	0	5	0
			5	0	
				0	

③  $9.9 \div 6.6$

			1.	5	
6	6	)	9	9	
			6	6	
			3	3	0
			3	3	0
				0	

④  $0.6 \div 1.5$

			0.	4	
1	5	)	0	6	0
			6	0	
				0	

⑤  $0.7 \div 1.4$

			0.	5	
1	4	)	0	7	0
			7	0	
				0	

⑥  $0.9 \div 1.5$

			0.	6	
1	5	)	0	9	0
			9	0	
				0	



# 小数のわり算II

◎ わりすすみ  
(商が小数第一位までの真小数)



日にち：            月            日

名まえ \_\_\_\_\_

・ 次の計算をしなさい。

①  $0.9 \div 4.5$

			0.	2	
4	5	)	0	9	0
			9	0	
					0

②  $2.73 \div 3.9$

			0.	7	
3	9	)	2	7	3
			2	7	3
					0

③  $0.6 \div 1.2$

			0.	5	
1	2	)	0	6	0
			6	0	
					0

④  $0.9 \div 1.8$

			0.	5	
1	8	)	0	9	0
			9	0	
					0

⑤  $4.2 \div 3.5$

			1.	2		
3	5	)	4	2		
			3	5		
					7	0
					7	0
						0

⑥  $0.6 \div 1.5$

			0.	4	
1	5	)	0	6	0
			6	0	
					0



# 小数のわり算II

◎ わりすすみ  
(商が小数第一位までの真小数)



日にち：            月            日

名まえ \_\_\_\_\_

・ 次の計算をしなさい。

①  $0.9 \div 4.5$

			0.	2	
4	5	)	0	9	0
				9	0
					0

②  $0.9 \div 1.5$

			0.	6	
1	5	)	0	9	0
				9	0
					0

③  $2.28 \div 1.9$

			1.	2	
1	9	)	2	2	8
			1	9	
				3	8
				3	8
					0

④  $0.8 \div 1.6$

			0.	5	
1	6	)	0	8	0
				8	0
					0

⑤  $0.3 \div 1.5$

			0.	2	
1	5	)	0	3	0
				3	0
					0

⑥  $0.9 \div 1.8$

			0.	5	
1	8	)	0	9	0
				9	0
					0



# 小数のわり算II

◎ わりすすみ  
(商が小数第一位までの真小数)

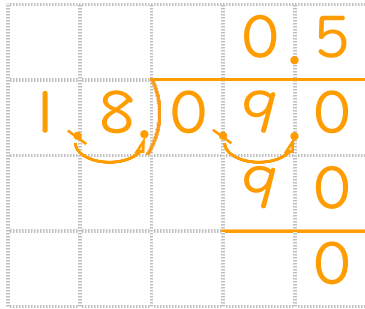


日にち：            月            日

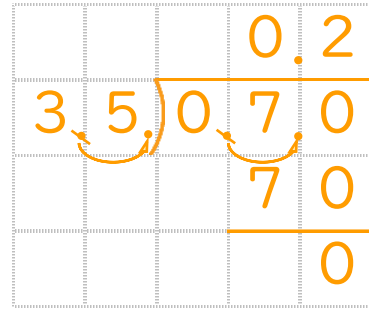
名まえ \_\_\_\_\_

・ 次の計算をしなさい。

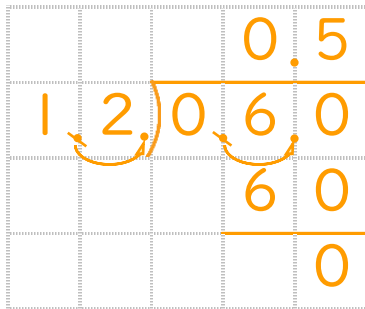
①  $0.9 \div 1.8$



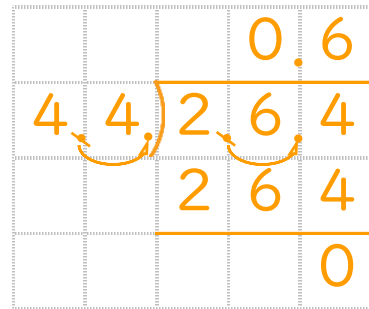
②  $0.7 \div 3.5$



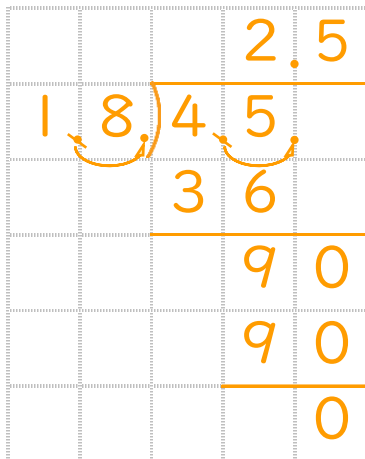
③  $0.6 \div 1.2$



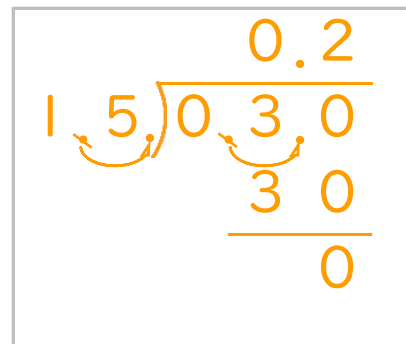
④  $2.64 \div 4.4$



⑤  $4.5 \div 1.8$



⑥  $0.3 \div 1.5$





# 小数のわり算II

◎ わりすすみ  
(商が小数第一位までの真小数)



日にち：            月            日

名まえ \_\_\_\_\_

・ 次の計算をしなさい。

①  $0.8 \div 1.6$

			0	.	5	
1	.	6	)	0	8	0
				8	0	
					0	

②  $1.35 \div 2.7$

			0	.	5	
2	.	7	)	1	3	5
				1	3	5
						0

③  $5.13 \div 2.7$

			1	.	9			
2	.	7	)	5	1	3		
				2	7	0		
					2	4	3	
						2	4	3
								0

④  $0.5 \div 2.5$

			0	.	2	
2	.	5	)	0	5	0
					5	0
						0

⑤  $0.9 \div 4.5$

			0	.	2	
4	.	5	)	0	9	0
					9	0
						0

⑥  $0.9 \div 1.5$

			0	.	6	
1	.	5	)	0	9	0
					9	0
						0



# 小数のわり算 11

◎ わりすすみ  
(商が小数第一位までの真小数)

15

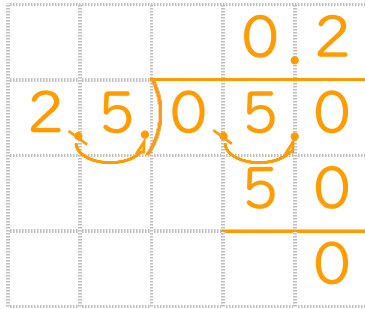
目指せ80点!



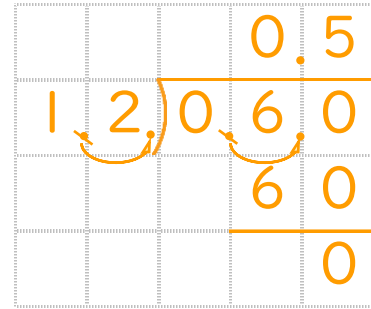
名まえ \_\_\_\_\_

・ 次の計算をしなさい。(各20点)

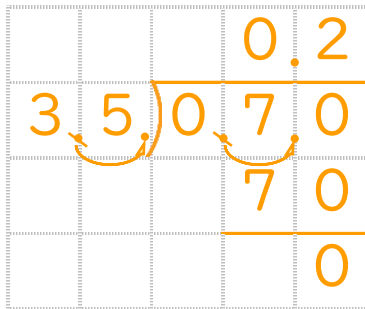
①  $0.5 \div 2.5$



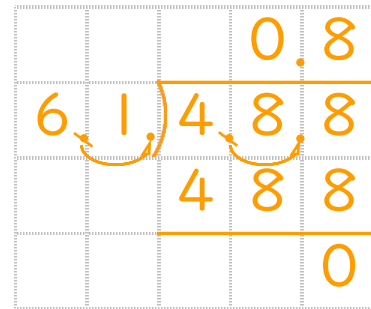
②  $0.6 \div 1.2$



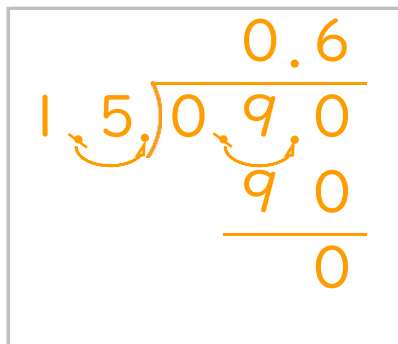
③  $0.7 \div 3.5$



④  $4.88 \div 6.1$



⑤  $0.9 \div 1.5$



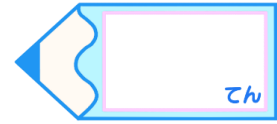


# 小数のわり算 11

◎ わりすすみ  
(商が小数第一位までの真小数)

16

目指せ80点!



名まえ \_\_\_\_\_

・ 次の計算をしなさい。(各20点)

①  $0.3 \div 1.5$

$$\begin{array}{r}
 0.2 \\
 1.5 \overline{) 0.30} \\
 \underline{30} \\
 0
 \end{array}$$

②  $1.65 \div 3.3$

$$\begin{array}{r}
 0.5 \\
 3.3 \overline{) 1.65} \\
 \underline{165} \\
 0
 \end{array}$$

③  $8.96 \div 2.8$

$$\begin{array}{r}
 3.2 \\
 2.8 \overline{) 8.96} \\
 \underline{840} \\
 56 \\
 \underline{56} \\
 0
 \end{array}$$

④  $0.7 \div 3.5$

$$\begin{array}{r}
 0.2 \\
 3.5 \overline{) 0.70} \\
 \underline{70} \\
 0
 \end{array}$$

⑤  $0.9 \div 1.8$

$$\begin{array}{r}
 0.5 \\
 1.8 \overline{) 0.90} \\
 \underline{90} \\
 0
 \end{array}$$