



小数のわり算 17

◎ わる数と商の大きさの関係



日にち： 月 日

名まえ _____

1 商が8より大きくなるのはどれですか。

にあてはまる数や言葉を書きましょう。(うすい字は、なぞりましょう。)

① $8 \div 1.5$

② $8 \div 0.2$

③ $8 \div 0.64$

④ $8 \div 5$

① わる数の は、1より から商は8より 。

② わる数の は、1より から商は8より 。

③ わる数の は、1より から商は8より 。

④ わる数の は、1より から商は8より 。

答え： ② と ③

2 商が7より大きくなるのはどれですか。

にあてはまる数や言葉を書きましょう。(うすい字は、なぞりましょう。)

① $7 \div 0.5$

② $7 \div 0.81$

③ $7 \div 1.1$

④ $7 \div 2$

① わる数の は、1より から商は7より 。

② わる数の は、1より から商は7より 。

③ わる数の は、1より から商は7より 。

④ わる数の は、1より から商は7より 。

答え： _____



小数のわり算17

◎ わる数と商の大きさの関係



日にち： 月 日

名まえ _____

1 商が3より大きくなるのはどれですか。

にあてはまる数や言葉を書きましょう。(うすい字は、なぞりましょう。)

① $3 \div 0.96$

② $3 \div 1.7$

③ $3 \div 2$

④ $3 \div 0.5$

① わる数の は、1より から商は3より .

② わる数の は、1より から商は3より .

③ わる数の は、1より から商は3より .

④ わる数の は、1より から商は3より .

答え： _____

2 商が9より大きくなるのはどれですか。

にあてはまる数や言葉を書きましょう。

① $9 \div 1.7$

② $9 \div 5$

③ $9 \div 0.13$

④ $9 \div 0.9$

① わる数の は、1より から商は9より .

② わる数の は、1より から商は9より .

③ わる数の は、1より から商は9より .

④ わる数の は、1より から商は9より .

答え： _____



小数のわり算17

◎ わる数と商の大きさの関係



日にち： 月 日

名まえ _____

1 商が5より大きくなるのはどれですか。

にあてはまる数や言葉を書きましょう。(うすい字は、なぞりましょう。)

① $5 \div 1.9$

② $5 \div 4$

③ $5 \div 0.89$

④ $5 \div 0.4$

① わる数の は、1より から商は5より 。

② わる数の は、1より から商は5より 。

③ わる数の は、1より から商は5より 。

④ わる数の は、1より から商は5より 。

答え： _____

2 商が6より大きくなるのはどれですか。

にあてはまる数や言葉を書きましょう。

① $6 \div 1.6$

② $6 \div 0.86$

③ $6 \div 2$

④ $6 \div 0.7$

① わる数の は、1より から商は6より 。

② わる数の は、1より から商は6より 。

③ わる数の は、1より から商は6より 。

④ わる数の は、1より から商は6より 。

答え： _____



小数のわり算 17

◎ わる数と商の大きさの関係



日にち： 月 日

名まえ _____

1 商が6より大きくなるのはどれですか。

にあてはまる数や言葉を書きましょう。(うすい字は、なぞりましょう。)

① $6 \div 1.82$

② $6 \div 0.1$

③ $6 \div 0.5$

④ $6 \div 4$

① わる数の は、1より から商は6より 。

② わる数の は、1より から商は6より 。

③ わる数の は、1より から商は6より 。

④ わる数の は、1より から商は6より 。

答え： _____

2 商が8より大きくなるのはどれですか。

にあてはまる数や言葉を書きましょう。

① $8 \div 0.35$

② $8 \div 1.06$

③ $8 \div 0.9$

④ $8 \div 3$

① わる数の は、1より から商は8より 。

② わる数の は、1より から商は8より 。

③ わる数の は、1より から商は8より 。

④ わる数の は、1より から商は8より 。

答え： _____



小数のわり算17

◎ わる数と商の大きさの関係



日にち： 月 日

名まえ _____

1 商が5より大きくなるのはどれですか。

① $5 \div 1.3$

② $5 \div 2$

③ $5 \div 0.64$

④ $5 \div 0.5$

答え： _____

2 商が9より大きくなるのはどれですか。

① $9 \div 0.64$

② $9 \div 0.4$


③ $9 \div 5$

④ $9 \div 1.2$


答え： _____

3 次の計算をしなさい。(うすいところは、なぞりましょう。)

①



②





小数のわり算17

◎ わる数と商の大きさの関係



日にち： 月 日

名まえ _____

1 商が4より大きくなるのはどれですか。

① $4 \div 0.12$

② $4 \div 1.7$

③ $4 \div 3$

④ $4 \div 0.9$

答え： _____

2 商が7より大きくなるのはどれですか。

① $7 \div 2$

② $7 \div 2.5$


③ $7 \div 0.12$

④ $7 \div 0.8$


答え： _____

3 次の計算をしなさい。(うすいところは、なぞりましょう。)

① $4 \div 2.5$



② $8.1 \div 0.6$





小数のわり算 17

◎ わる数と商の大きさの関係



日にち： 月 日

名まえ _____

1 商が7より大きくなるのはどれですか。

① $7 \div 1.7$

② $7 \div 0.1$

③ $7 \div 0.92$

④ $7 \div 3$

答え： _____

2 商が9より大きくなるのはどれですか。

① $9 \div 0.78$

② $9 \div 4$


③ $9 \div 0.9$

④ $9 \div 2.2$


答え： _____

3 次の計算をしなさい。(うすいところは、なぞりましょう。)

① $1.7 \div 0.2$



② $0.3 \div 1.5$





小数のわり算17

◎ わる数と商の大きさの関係



日にち： 月 日

名まえ _____

1 商が3より大きくなるのはどれですか。

① $3 \div 1.23$

② $3 \div 2$

③ $3 \div 0.6$

④ $3 \div 0.9$

答え： _____

2 商が7より大きくなるのはどれですか。

① $7 \div 0.6$

② $7 \div 3$


③ $7 \div 1.28$

④ $7 \div 0.8$


答え： _____

3 次の計算をしなさい。(うすいところは、なぞりましょう。)

① $2.38 \div 1.7$



② $4.71 \div 3.14$





小数のわり算17

◎ わる数と商の大きさの関係



日にち： 月 日

名まえ _____

1 商が5より大きくなるのはどれですか。

① $5 \div 1.3$

② $5 \div 0.2$

③ $5 \div 0.98$

④ $5 \div 3$

答え： _____

2 商が3より大きくなるのはどれですか。

① $3 \div 0.2$

② $3 \div 2$

③ $3 \div 1.14$

④ $3 \div 0.7$


答え： _____

3 次の計算をしなさい。(うすいところは、なぞりましょう。)

① $1.47 \div 2.8$



② $3.75 \div 0.6$





小数のわり算 17

◎ わる数と商の大きさの関係



日にち： 月 日

名まえ _____

1 商が3より大きくなるのはどれですか。

① $3 \div 1.6$

② $3 \div 0.63$

③ $3 \div 0.9$

④ $3 \div 1.1$

答え： _____

2 商が7より大きくなるのはどれですか。

① $7 \div 0.2$

② $7 \div 2$


③ $7 \div 0.85$

④ $7 \div 1.3$


答え： _____

3 次の計算をしなさい。

① $25.2 \div 0.4$



② $4.71 \div 3.14$





小数のわり算 17

◎ わる数と商の大きさの関係



日にち： 月 日

名まえ _____

1 商が8より大きくなるのはどれですか。

① $8 \div 2.4$

② $8 \div 0.92$

③ $8 \div 3$

④ $8 \div 0.4$

答え： _____

2 商が6より大きくなるのはどれですか。

① $6 \div 2.6$

② $6 \div 1.02$


③ $6 \div 0.01$

④ $6 \div 0.8$

答え： _____

3 次の計算をしなさい。

① $1.4 \div 0.4$



② $12.5 \div 0.5$





小数のわり算17

◎ わる数と商の大きさの関係



日にち： 月 日

名まえ _____

1 商が4より大きくなるのはどれですか。

① $4 \div 3$

② $4 \div 0.7$

③ $4 \div 0.96$

④ $4 \div 1.1$

答え： _____

2 商が7より大きくなるのはどれですか。

① $7 \div 0.14$

② $7 \div 1.89$


③ $7 \div 0.8$

④ $7 \div 2$


答え： _____

3 次の計算をしなさい。

① $4.95 \div 2.75$



② $5.1 \div 6.8$





小数のわり算 17

◎ わる数と商の大きさの関係



日にち： 月 日

名まえ _____

1 商が8より大きくなるのはどれですか。

① $8 \div 0.99$

② $8 \div 0.4$

③ $8 \div 3$

④ $8 \div 1.5$

答え： _____

2 商が4より大きくなるのはどれですか。

① $4 \div 1.2$

② $4 \div 0.7$


③ $4 \div 0.03$

④ $4 \div 1.8$


答え： _____

3 次の計算をしなさい。

① $18.5 \div 0.5$



② $4.24 \div 2.65$





小数のわり算 17

◎ わる数と商の大きさの関係



日にち： 月 日

名まえ _____

1 商が5より大きくなるのはどれですか。

① $5 \div 0.06$

② $5 \div 1.3$

③ $5 \div 0.9$

④ $5 \div 2$

答え： _____

2 商が4より大きくなるのはどれですか。

① $4 \div 1.03$

② $4 \div 0.87$


③ $4 \div 0.5$

④ $4 \div 1.3$

答え： _____

3 次の計算をしなさい。

① $1.3 \div 0.5$



② $19.2 \div 0.8$



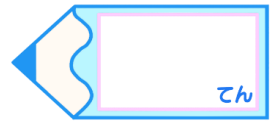


小数のわり算 17

◎ わる数と商の大きさの関係

15

目指せ75点!



名まえ _____

1 商が9より大きくなるのはどれですか。(25点)

① $9 \div 0.4$

② $9 \div 0.9$

③ $9 \div 1.05$

④ $9 \div 2$

答え： _____

2 商が3より大きくなるのはどれですか。(25点)

① $3 \div 2$

② $3 \div 0.66$

③ $3 \div 0.9$

④ $3 \div 1.8$


答え： _____

3 次の計算をしなさい。(各25点)

① $1.2 \div 7.5$



② $0.9 \div 1.8$



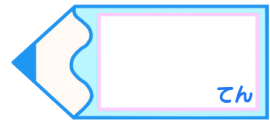


小数のわり算 17

◎ わる数と商の大きさの関係

16

目指せ75点!



名まえ _____

1 商が8より大きくなるのはどれですか。(25点)

① $8 \div 1.02$

② $8 \div 0.9$

③ $8 \div 0.87$

④ $8 \div 5$

答え： _____

2 商が4より大きくなるのはどれですか。(25点)

① $4 \div 0.96$

② $4 \div 1.1$

③ $4 \div 3$

④ $4 \div 0.6$

答え： _____

3 次の計算をしなさい。(各25点)

① $1.88 \div 0.8$

② $42 \div 5.6$



小数のわり算 17

◎ わる数と商の大きさの関係



日にち： 月 日

名まえ _____

1 商が8より大きくなるのはどれですか。

にあてはまる数や言葉を書きましょう。(うすい字は、なぞりましょう。)

① $8 \div 1.5$

② $8 \div 0.2$

③ $8 \div 0.64$

④ $8 \div 5$

① わる数の **1.5** は、1より **大きい** から商は8より **小さい**。

② わる数の **0.2** は、1より **小さい** から商は8より **大きい**。

③ わる数の **0.64** は、1より **小さい** から商は8より **大きい**。

④ わる数の **5** は、1より **大きい** から商は8より **小さい**。

答え： ② と ③

2 商が7より大きくなるのはどれですか。

にあてはまる数や言葉を書きましょう。(うすい字は、なぞりましょう。)

① $7 \div 0.5$

② $7 \div 0.81$

③ $7 \div 1.1$

④ $7 \div 2$

① わる数の **0.5** は、1より **小さい** から商は7より **大きい**。

② わる数の **0.81** は、1より **小さい** から商は7より **大きい**。

③ わる数の **1.1** は、1より **大きい** から商は7より **小さい**。

④ わる数の **2** は、1より **大きい** から商は7より **小さい**。

答え： ① と ②



小数のわり算 17

◎ わる数と商の大きさの関係



日にち： 月 日

名まえ _____

1 商が3より大きくなるのはどれですか。

にあてはまる数や言葉を書きましょう。(うすい字は、なぞりましょう。)

① $3 \div 0.96$

② $3 \div 1.7$

③ $3 \div 2$

④ $3 \div 0.5$

① わる数の **0.96** は、1より **小さい** から商は3より **大きい**。

② わる数の **1.7** は、1より **大きい** から商は3より **小さい**。

③ わる数の **2** は、1より **大きい** から商は3より **小さい**。

④ わる数の **0.5** は、1より **小さい** から商は3より **大きい**。

答え： ① と ④

2 商が9より大きくなるのはどれですか。

にあてはまる数や言葉を書きましょう。

① $9 \div 1.7$

② $9 \div 5$

③ $9 \div 0.13$

④ $9 \div 0.9$

① わる数の **1.7** は、1より **大きい** から商は9より **小さい**。

② わる数の **5** は、1より **大きい** から商は9より **小さい**。

③ わる数の **0.13** は、1より **小さい** から商は9より **大きい**。

④ わる数の **0.9** は、1より **小さい** から商は9より **大きい**。

答え： ③ と ④



小数のわり算 17

◎ わる数と商の大きさの関係



日にち： 月 日

名まえ _____

1 商が5より大きくなるのはどれですか。

にあてはまる数や言葉を書きましょう。(うすい字は、なぞりましょう。)

① $5 \div 1.9$

② $5 \div 4$

③ $5 \div 0.89$

④ $5 \div 0.4$

① わる数の **1.9** は、1より **大きい** から商は5より **小さい**。

② わる数の **4** は、1より **大きい** から商は5より **小さい**。

③ わる数の **0.89** は、1より **小さい** から商は5より **大きい**。

④ わる数の **0.4** は、1より **小さい** から商は5より **大きい**。

答え： **③ と ④**

2 商が6より大きくなるのはどれですか。

にあてはまる数や言葉を書きましょう。

① $6 \div 1.6$

② $6 \div 0.86$

③ $6 \div 2$

④ $6 \div 0.7$

① わる数の **1.6** は、1より **大きい** から商は6より **小さい**。

② わる数の **0.86** は、1より **小さい** から商は6より **大きい**。

③ わる数の **2** は、1より **大きい** から商は6より **小さい**。

④ わる数の **0.7** は、1より **小さい** から商は6より **大きい**。

答え： **② と ④**



小数のわり算 17

◎ わる数と商の大きさの関係



日にち： 月 日

名まえ _____

1 商が6より大きくなるのはどれですか。

にあてはまる数や言葉を書きましょう。(うすい字は、なぞりましょう。)

① $6 \div 1.82$

② $6 \div 0.1$

③ $6 \div 0.5$

④ $6 \div 4$

① わる数の **1.82** は、1より **大きい** から商は6より **小さい**。

② わる数の **0.1** は、1より **小さい** から商は6より **大きい**。

③ わる数の **0.5** は、1より **小さい** から商は6より **大きい**。

④ わる数の **4** は、1より **大きい** から商は6より **小さい**。

答え： ② と ③

2 商が8より大きくなるのはどれですか。

にあてはまる数や言葉を書きましょう。

① $8 \div 0.35$

② $8 \div 1.06$

③ $8 \div 0.9$

④ $8 \div 3$

① わる数の **0.35** は、1より **小さい** から商は8より **大きい**。

② わる数の **1.06** は、1より **大きい** から商は8より **小さい**。

③ わる数の **0.9** は、1より **小さい** から商は8より **大きい**。

④ わる数の **3** は、1より **大きい** から商は8より **小さい**。

答え： ① と ③



小数のわり算17

◎ わる数と商の大きさの関係



日にち： 月 日

名まえ _____

1 商が5より大きくなるのはどれですか。

① $5 \div 1.3$

② $5 \div 2$

③ $5 \div 0.64$

④ $5 \div 0.5$

答え： ③ と ④

2 商が9より大きくなるのはどれですか。

① $9 \div 0.64$

② $9 \div 0.4$

③ $9 \div 5$

④ $9 \div 1.2$

答え： ① と ②

3 次の計算をしなさい。(うすいところは、なぞりましょう。)

① $3.75 \div 0.6$

			6	.	2	5		
0	.	6)	3	.	7	.	5
				3	6			
						1	5	
						1	2	
							3	0
							3	0
								0

② $1.17 \div 3.6$

			0	.	3	2	5		
3	.	6)	1	.	1	.	7	
				1	0	8			
						9	0		
						7	2		
							1	8	0
							1	8	0
									0



小数のわり算17

◎ わる数と商の大きさの関係



日にち： 月 日

名まえ _____

1 商が4より大きくなるのはどれですか。

① $4 \div 0.12$

② $4 \div 1.7$

③ $4 \div 3$

④ $4 \div 0.9$

答え： ① と ④

2 商が7より大きくなるのはどれですか。

① $7 \div 2$

② $7 \div 2.5$

③ $7 \div 0.12$

④ $7 \div 0.8$

答え： ③ と ④

3 次の計算をしなさい。(うすいところは、なぞりましょう。)

① $4 \div 2.5$

			1	.	6	
2	.	5)	4	.	0
			2	5		
			1	5	0	
			1	5	0	
					0	

② $8.1 \div 0.6$

			1	3	.	5
0	.	6)	8	.	1
			6			
			2	1		
			1	8		
				3	0	
				3	0	
					0	



小数のわり算 17

◎ わる数と商の大きさの関係



日にち： 月 日

名まえ _____

1 商が7より大きくなるのはどれですか。

- ① $7 \div 1.7$
- ② $7 \div 0.1$
- ③ $7 \div 0.92$
- ④ $7 \div 3$

答え： ② と ③

2 商が9より大きくなるのはどれですか。

- ① $9 \div 0.78$
- ② $9 \div 4$
- ③ $9 \div 0.9$
- ④ $9 \div 2.2$

答え： ① と ③

3 次の計算をしなさい。(うすいところは、なぞりましょう。)

① $1.7 \div 0.2$

			8	.	5			
0	.	2)	1	.	7	.	
			1	6				

				1	0			
				1	0			

					0			

② $0.3 \div 1.5$

				0	.	2		
1	.	5)	0	.	3	.	0
				3	0			

						0		



小数のわり算17

◎ わる数と商の大きさの関係



日にち： 月 日

名まえ _____

1 商が3より大きくなるのはどれですか。

① $3 \div 1.23$

② $3 \div 2$

③ $3 \div 0.6$

④ $3 \div 0.9$

答え： ③ と ④

2 商が7より大きくなるのはどれですか。

① $7 \div 0.6$

② $7 \div 3$

③ $7 \div 1.28$

④ $7 \div 0.8$

答え： ① と ④

3 次の計算をしなさい。(うすいところは、なぞりましょう。)

① $2.38 \div 1.7$

				1	.	4		
1	.	7)	2	.	3	.	8
				1	.	7		
				6	.	8		
				6	.	8		
						0		

② $4.71 \div 3.14$

								1	.	5
3	.	1	.	4)	4	.	7	.	1
				3	.	1	.	4		
				1	.	5	.	7	.	0
				1	.	5	.	7	.	0
										0



小数のわり算17

◎ わる数と商の大きさの関係



日にち： 月 日

名まえ _____

1 商が5より大きくなるのはどれですか。

① $5 \div 1.3$

② $5 \div 0.2$

③ $5 \div 0.98$

④ $5 \div 3$

答え： ② と ③

2 商が3より大きくなるのはどれですか。

① $3 \div 0.2$

② $3 \div 2$

③ $3 \div 1.14$

④ $3 \div 0.7$

答え： ① と ④

3 次の計算をしなさい。(うすいところは、なぞりましょう。)

① $1.47 \div 2.8$

			0.	5	2	5
2.8)	1.4	7			
		1.4	0			
			7	0		
			5	6		
			1	4	0	
			1	4	0	
					0	

② $3.75 \div 0.6$

			6.	2	5
0.6)	3.7	5		
		3	6		
			1	5	
			1	2	
				3	0
				3	0
					0



小数のわり算17

◎ わる数と商の大きさの関係



日にち： 月 日

名まえ _____

1 商が3より大きくなるのはどれですか。

- ① $3 \div 1.6$
- ② $3 \div 0.63$
- ③ $3 \div 0.9$
- ④ $3 \div 1.1$

答え： ② と ③

2 商が7より大きくなるのはどれですか。

- ① $7 \div 0.2$
- ② $7 \div 2$
- ③ $7 \div 0.85$
- ④ $7 \div 1.3$

答え： ① と ③

3 次の計算をしなさい。

① $25.2 \div 0.4$

				6	3
0	4)	2	5	2
			2	4	
				1	2
				1	2
					0

② $4.71 \div 3.14$

						1	5
3	1	4)	4	7	1	.
				3	1	4	
					1	5	7
					1	5	7
							0



小数のわり算 17

◎ わる数と商の大きさの関係



日にち： 月 日

名まえ _____

1 商が8より大きくなるのはどれですか。

① $8 \div 2.4$

② $8 \div 0.92$

③ $8 \div 3$

④ $8 \div 0.4$

答え： ② と ④

2 商が6より大きくなるのはどれですか。

① $6 \div 2.6$

② $6 \div 1.02$

③ $6 \div 0.01$

④ $6 \div 0.8$

答え： ③ と ④

3 次の計算をしなさい。

① $1.4 \div 0.4$

			3	.	5	
0	.	4)	1	.	4
			1	2		

			2	0		
			2	0		

			0			

② $12.5 \div 0.5$

				2	5		
0	.	5)	1	2	.	5
			1	0			

				2	5		
				2	5		

					0		



小数のわり算17

◎ わる数と商の大きさの関係



日にち： 月 日

名まえ _____

1 商が4より大きくなるのはどれですか。

① $4 \div 3$

② $4 \div 0.7$

③ $4 \div 0.96$

④ $4 \div 1.1$

答え： ② と ③

2 商が7より大きくなるのはどれですか。

① $7 \div 0.14$

② $7 \div 1.89$

③ $7 \div 0.8$

④ $7 \div 2$

答え： ① と ③

3 次の計算をしなさい。

① $4.95 \div 2.75$

									1.8
2	7	5)	4	9	5	.		
				2	7	5			
				2	2	0	0		
				2	2	0	0		
									0

② $5.1 \div 6.8$

									0.75
6	8)	5	1	0				
			4	7	6				
				3	4	0			
				3	4	0			
									0



小数のわり算 17

◎ わる数と商の大きさの関係



日にち： 月 日

名まえ _____

1 商が8より大きくなるのはどれですか。

① $8 \div 0.99$

② $8 \div 0.4$

③ $8 \div 3$

④ $8 \div 1.5$

答え： ① と ②

2 商が4より大きくなるのはどれですか。

① $4 \div 1.2$

② $4 \div 0.7$

③ $4 \div 0.03$

④ $4 \div 1.8$

答え： ② と ③

3 次の計算をしなさい。

① $18.5 \div 0.5$

			3	7
0	5)	18	5
			15	
			35	
			35	
			0	

② $4.24 \div 2.65$

				1	6		
2	6	5)	4	2	4	.
				2	6	5	
				1	5	9	0
				1	5	9	0
							0



小数のわり算 17

◎ わる数と商の大きさの関係



日にち： 月 日

名まえ _____

1 商が5より大きくなるのはどれですか。

① $5 \div 0.06$

② $5 \div 1.3$

③ $5 \div 0.9$

④ $5 \div 2$

答え： ① と ③

2 商が4より大きくなるのはどれですか。

① $4 \div 1.03$

② $4 \div 0.87$

③ $4 \div 0.5$

④ $4 \div 1.3$

答え： ② と ③

3 次の計算をしなさい。

① $1.3 \div 0.5$

			2.6
0.5)	1.3	.
		10	
		30	
		30	
		0	

② $19.2 \div 0.8$

			24
0.8)	19.2	.
		16	
		32	
		32	
		0	

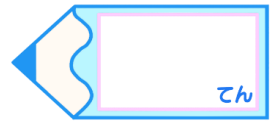


小数のわり算 17

◎ わる数と商の大きさの関係

15

目指せ75点!



名まえ _____

1 商が9より大きくなるのはどれですか。(25点)

① $9 \div 0.4$

② $9 \div 0.9$

③ $9 \div 1.05$

④ $9 \div 2$

答え： ① と ②

2 商が3より大きくなるのはどれですか。(25点)

① $3 \div 2$

② $3 \div 0.66$

③ $3 \div 0.9$

④ $3 \div 1.8$

答え： ② と ③

3 次の計算をしなさい。(各25点)

① $1.2 \div 7.5$

			0.	1	6
7	5)	1	2	0
			7	5	
			4	5	0
			4	5	0
					0

② $0.9 \div 1.8$

			0.	5	
1	8)	0	9	0
				9	0
					0

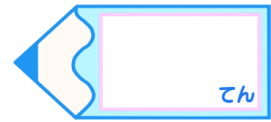


小数のわり算 17

◎ わる数と商の大きさの関係

16

目指せ75点!



名まえ

1 商が8より大きくなるのはどれですか。(25点)

- ① $8 \div 1.02$ ② $8 \div 0.9$ ③ $8 \div 0.87$ ④ $8 \div 5$

答え： ② と ③

2 商が4より大きくなるのはどれですか。(25点)

- ① $4 \div 0.96$ ② $4 \div 1.1$ ③ $4 \div 3$ ④ $4 \div 0.6$

答え： ① と ④

3 次の計算をしなさい。(各25点)

① $1.88 \div 0.8$

$$\begin{array}{r}
 2.35 \\
 0.8 \overline{) 1.88} \\
 \underline{16} \\
 28 \\
 \underline{24} \\
 40 \\
 \underline{40} \\
 0
 \end{array}$$

② $42 \div 5.6$

$$\begin{array}{r}
 7.5 \\
 5.6 \overline{) 42.0} \\
 \underline{39} \\
 280 \\
 \underline{280} \\
 0
 \end{array}$$