

整数と小数 I

◎ 小数を式で表す



日にち： 月 日

名まえ _____

・ にあてはまる数字を書いて、小数を式で表しましょう。
(うすい字はなぞりましょう。)

①

$$2.735 = 1 \times \boxed{2} + 0.1 \times \boxed{7} + 0.01 \times \boxed{3} + 0.001 \times \boxed{5}$$

②

$$3.124 = 1 \times \boxed{} + 0.1 \times \boxed{} + 0.01 \times \boxed{} + 0.001 \times \boxed{}$$

③

$$4.198 = 1 \times \boxed{} + 0.1 \times \boxed{} + 0.01 \times \boxed{} + 0.001 \times \boxed{}$$

④

$$3.108 = 1 \times \boxed{3} + 0.1 \times \boxed{1} + 0.01 \times \boxed{0} + 0.001 \times \boxed{8}$$

⑤

$$1.705 = 1 \times \boxed{} + 0.1 \times \boxed{} + 0.01 \times \boxed{} + 0.001 \times \boxed{}$$

⑥

$$3.029 = 1 \times \boxed{} + 0.1 \times \boxed{} + 0.01 \times \boxed{} + 0.001 \times \boxed{}$$

⑦

$$0.784 = 1 \times \boxed{} + 0.1 \times \boxed{} + 0.01 \times \boxed{} + 0.001 \times \boxed{}$$





整数と小数 I

◎ 小数を式で表す



日にち： 月 日

名まえ _____

・ にあてはまる数字を書いて、小数を式で表しましょう。
(うすい字はなぞりましょう。)

①

$$4.153 = 1 \times \boxed{4} + 0.1 \times \boxed{1} + 0.01 \times \boxed{5} + 0.001 \times \boxed{3}$$

②

$$1.342 = 1 \times \boxed{} + 0.1 \times \boxed{} + 0.01 \times \boxed{} + 0.001 \times \boxed{}$$

③

$$4.035 = 1 \times \boxed{} + 0.1 \times \boxed{} + 0.01 \times \boxed{} + 0.001 \times \boxed{}$$

④

$$1.732 = 1 \times \boxed{1} + 0.1 \times \boxed{7} + 0.01 \times \boxed{3} + 0.001 \times \boxed{2}$$

⑤

$$2.205 = 1 \times \boxed{} + 0.1 \times \boxed{} + 0.01 \times \boxed{} + 0.001 \times \boxed{}$$

⑥

$$1.871 = 1 \times \boxed{} + 0.1 \times \boxed{} + 0.01 \times \boxed{} + 0.001 \times \boxed{}$$

⑦

$$3.182 = 1 \times \boxed{} + 0.1 \times \boxed{} + 0.01 \times \boxed{} + 0.001 \times \boxed{}$$





整数と小数 I

⑨ 小数を式で表す



日にち： 月 日

名まえ _____

・ □ にあてはまる数字を書いて、小数を式で表しましょう。
(うすい字はなぞりましょう。)

①

$$3.925 = 1 \times \boxed{3} + 0.1 \times \boxed{9} + 0.01 \times \boxed{2} + 0.001 \times \boxed{5}$$

②

$$2.529 = 1 \times \square + 0.1 \times \square + 0.01 \times \square + 0.001 \times \square$$

③

$$3.012 = 1 \times \square + 0.1 \times \square + 0.01 \times \square + 0.001 \times \square$$

④

$$2.653 = 1 \times \boxed{2} + 0.1 \times \boxed{6} + 0.01 \times \boxed{5} + 0.001 \times \boxed{3}$$

⑤

$$4.557 = 1 \times \square + 0.1 \times \square + 0.01 \times \square + 0.001 \times \square$$


⑥

$$4.986 = 1 \times \square + 0.1 \times \square + 0.01 \times \square + 0.001 \times \square$$

⑦

$$1.368 = 1 \times \square + 0.1 \times \square + 0.01 \times \square + 0.001 \times \square$$





整数と小数 I

◎ 小数を式で表す



日にち： 月 日

名まえ _____

・ にあてはまる数字を書いて、小数を式で表しましょう。
(うすい字はなぞりましょう。)

①

$$4.537 = 1 \times \boxed{4} + 0.1 \times \boxed{5} + 0.01 \times \boxed{3} + 0.001 \times \boxed{7}$$

②

$$3.658 = 1 \times \boxed{} + 0.1 \times \boxed{} + 0.01 \times \boxed{} + 0.001 \times \boxed{}$$

③

$$2.089 = 1 \times \boxed{} + 0.1 \times \boxed{} + 0.01 \times \boxed{} + 0.001 \times \boxed{}$$

④

$$2.146 = 1 \times \boxed{2} + 0.1 \times \boxed{1} + 0.01 \times \boxed{4} + 0.001 \times \boxed{6}$$

⑤

$$1.453 = 1 \times \boxed{} + 0.1 \times \boxed{} + 0.01 \times \boxed{} + 0.001 \times \boxed{}$$


⑥

$$1.703 = 1 \times \boxed{} + 0.1 \times \boxed{} + 0.01 \times \boxed{} + 0.001 \times \boxed{}$$

⑦

$$2.194 = 1 \times \boxed{} + 0.1 \times \boxed{} + 0.01 \times \boxed{} + 0.001 \times \boxed{}$$





整数と小数 I

◎ 小数を式で表す



日にち： 月 日

名まえ _____

・ □ にあてはまる数字を書いて、小数を式で表しましょう。
(うすい字はなぞりましょう。)

①

$$3.056 = 1 \times \boxed{3} + 0.1 \times \boxed{0} + 0.01 \times \boxed{5} + 0.001 \times \boxed{6}$$

②

$$3.109 = 1 \times \square + 0.1 \times \square + 0.01 \times \square + 0.001 \times \square$$

③

$$1.435 = 1 \times \square + 0.1 \times \square + 0.01 \times \square + 0.001 \times \square$$

④

$$3.497 = 1 \times \boxed{3} + 0.1 \times \boxed{4} + 0.01 \times \boxed{9} + 0.001 \times \boxed{7}$$

⑤

$$2.148 = 1 \times \square + 0.1 \times \square + 0.01 \times \square + 0.001 \times \square$$

⑥

$$1.703 = 1 \times \square + 0.1 \times \square + 0.01 \times \square + 0.001 \times \square$$

⑦

$$3.601 = 1 \times \square + 0.1 \times \square + 0.01 \times \square + 0.001 \times \square$$





整数と小数 I

⑥ 小数を式で表す



日にち： 月 日

名まえ _____

・ にあてはまる数字を書いて、小数を式で表しましょう。
(うすい字はなぞりましょう。)

①

$$4.023 = 1 \times \boxed{4} + 0.1 \times \boxed{0} + 0.01 \times \boxed{2} + 0.001 \times \boxed{3}$$

②

$$2.536 = 1 \times \boxed{} + 0.1 \times \boxed{} + 0.01 \times \boxed{} + 0.001 \times \boxed{}$$

③

$$2.871 = 1 \times \boxed{} + 0.1 \times \boxed{} + 0.01 \times \boxed{} + 0.001 \times \boxed{}$$

④

$$4.608 = 1 \times \boxed{4} + 0.1 \times \boxed{6} + 0.01 \times \boxed{0} + 0.001 \times \boxed{8}$$

⑤

$$2.653 = 1 \times \boxed{} + 0.1 \times \boxed{} + 0.01 \times \boxed{} + 0.001 \times \boxed{}$$


⑥

$$1.428 = 1 \times \boxed{} + 0.1 \times \boxed{} + 0.01 \times \boxed{} + 0.001 \times \boxed{}$$

⑦

$$3.645 = 1 \times \boxed{} + 0.1 \times \boxed{} + 0.01 \times \boxed{} + 0.001 \times \boxed{}$$





整数と小数 I

◎ 小数を式で表す



日にち： 月 日

名まえ _____

・ にあてはまる数字を書いて、小数を式で表しましょう。
(うすい字はなぞりましょう。)

①

$$1.497 = 1 \times \boxed{1} + 0.1 \times \boxed{4} + 0.01 \times \boxed{9} + 0.001 \times \boxed{7}$$

②

$$2.825 = 1 \times \boxed{} + 0.1 \times \boxed{} + 0.01 \times \boxed{} + 0.001 \times \boxed{}$$

③

$$3.705 = 1 \times \boxed{} + 0.1 \times \boxed{} + 0.01 \times \boxed{} + 0.001 \times \boxed{}$$

④

$$2.987 = 1 \times \boxed{2} + 0.1 \times \boxed{9} + 0.01 \times \boxed{8} + 0.001 \times \boxed{7}$$

⑤

$$4.308 = 1 \times \boxed{} + 0.1 \times \boxed{} + 0.01 \times \boxed{} + 0.001 \times \boxed{}$$

⑥

$$3.591 = 1 \times \boxed{} + 0.1 \times \boxed{} + 0.01 \times \boxed{} + 0.001 \times \boxed{}$$

⑦

$$1.085 = 1 \times \boxed{} + 0.1 \times \boxed{} + 0.01 \times \boxed{} + 0.001 \times \boxed{}$$





整数と小数 I

◎ 小数を式で表す



日にち： 月 日

名まえ _____

・ にあてはまる数字を書いて、小数を式で表しましょう。
(うすい字はなぞりましょう。)

①

$$4.781 = 1 \times \boxed{4} + 0.1 \times \boxed{7} + 0.01 \times \boxed{8} + 0.001 \times \boxed{1}$$

②

$$3.176 = 1 \times \boxed{} + 0.1 \times \boxed{} + 0.01 \times \boxed{} + 0.001 \times \boxed{}$$

③

$$2.413 = 1 \times \boxed{} + 0.1 \times \boxed{} + 0.01 \times \boxed{} + 0.001 \times \boxed{}$$

④

$$4.376 = 1 \times \boxed{} + 0.1 \times \boxed{} + 0.01 \times \boxed{} + 0.001 \times \boxed{}$$

⑤

$$1.475 = 1 \times \boxed{} + 0.1 \times \boxed{} + 0.01 \times \boxed{} + 0.001 \times \boxed{}$$


⑥

$$1.362 = 1 \times \boxed{} + 0.1 \times \boxed{} + 0.01 \times \boxed{} + 0.001 \times \boxed{}$$

⑦

$$4.723 = 1 \times \boxed{} + 0.1 \times \boxed{} + 0.01 \times \boxed{} + 0.001 \times \boxed{}$$





整数と小数Ⅰ

◎ 小数を式で表す



日にち： 月 日

名まえ _____

・ にあてはまる数字を書いて、小数を式で表しましょう。

①

$$1.309 = 1 \times \square + 0.1 \times \square + 0.01 \times \square + 0.001 \times \square$$

②

$$3.184 = 1 \times \square + 0.1 \times \square + 0.01 \times \square + 0.001 \times \square$$

③

$$3.685 = 1 \times \square + 0.1 \times \square + 0.01 \times \square + 0.001 \times \square$$

④

$$1.521 = 1 \times \square + 0.1 \times \square + 0.01 \times \square + 0.001 \times \square$$

⑤

$$4.965 = 1 \times \square + 0.1 \times \square + 0.01 \times \square + 0.001 \times \square$$


⑥

$$2.054 = 1 \times \square + 0.1 \times \square + 0.01 \times \square + 0.001 \times \square$$

⑦

$$2.879 = 1 \times \square + 0.1 \times \square + 0.01 \times \square + 0.001 \times \square$$





整数と小数 I

◎ 小数を式で表す



日にち： 月 日

名まえ _____

・ にあてはまる数字を書いて、小数を式で表しましょう。

①

$$1.905 = 1 \times \square + 0.1 \times \square + 0.01 \times \square + 0.001 \times \square$$

②

$$3.141 = 1 \times \square + 0.1 \times \square + 0.01 \times \square + 0.001 \times \square$$

③

$$1.026 = 1 \times \square + 0.1 \times \square + 0.01 \times \square + 0.001 \times \square$$

④

$$3.871 = 1 \times \square + 0.1 \times \square + 0.01 \times \square + 0.001 \times \square$$

⑤

$$1.125 = 1 \times \square + 0.1 \times \square + 0.01 \times \square + 0.001 \times \square$$

⑥

$$1.049 = 1 \times \square + 0.1 \times \square + 0.01 \times \square + 0.001 \times \square$$

⑦

$$3.214 = 1 \times \square + 0.1 \times \square + 0.01 \times \square + 0.001 \times \square$$





整数と小数Ⅰ

◎ 小数を式で表す



日にち： 月 日

名まえ _____

・ にあてはまる数字を書いて、小数を式で表しましょう。

①

$$3.801 = 1 \times \square + 0.1 \times \square + 0.01 \times \square + 0.001 \times \square$$

②

$$3.279 = 1 \times \square + 0.1 \times \square + 0.01 \times \square + 0.001 \times \square$$

③

$$2.805 = 1 \times \square + 0.1 \times \square + 0.01 \times \square + 0.001 \times \square$$

④

$$1.539 = 1 \times \square + 0.1 \times \square + 0.01 \times \square + 0.001 \times \square$$

⑤

$$2.673 = 1 \times \square + 0.1 \times \square + 0.01 \times \square + 0.001 \times \square$$


⑥

$$1.628 = 1 \times \square + 0.1 \times \square + 0.01 \times \square + 0.001 \times \square$$

⑦

$$3.918 = 1 \times \square + 0.1 \times \square + 0.01 \times \square + 0.001 \times \square$$





整数と小数 I

◎ 小数を式で表す



日にち： 月 日

名まえ _____

・ にあてはまる数字を書いて、小数を式で表しましょう。

①

$$1.607 = 1 \times \square + 0.1 \times \square + 0.01 \times \square + 0.001 \times \square$$

②

$$1.297 = 1 \times \square + 0.1 \times \square + 0.01 \times \square + 0.001 \times \square$$

③

$$3.012 = 1 \times \square + 0.1 \times \square + 0.01 \times \square + 0.001 \times \square$$

④

$$3.975 = 1 \times \square + 0.1 \times \square + 0.01 \times \square + 0.001 \times \square$$

⑤

$$2.137 = 1 \times \square + 0.1 \times \square + 0.01 \times \square + 0.001 \times \square$$


⑥

$$2.179 = 1 \times \square + 0.1 \times \square + 0.01 \times \square + 0.001 \times \square$$

⑦

$$1.259 = 1 \times \square + 0.1 \times \square + 0.01 \times \square + 0.001 \times \square$$





整数と小数 I

◎ 小数を式で表す



日にち： 月 日

名まえ _____

・ にあてはまる数字を書いて、小数を式で表しましょう。

①

$$1.609 = 1 \times \square + 0.1 \times \square + 0.01 \times \square + 0.001 \times \square$$

②

$$3.856 = 1 \times \square + 0.1 \times \square + 0.01 \times \square + 0.001 \times \square$$

③

$$2.107 = 1 \times \square + 0.1 \times \square + 0.01 \times \square + 0.001 \times \square$$

④

$$1.784 = 1 \times \square + 0.1 \times \square + 0.01 \times \square + 0.001 \times \square$$

⑤

$$3.095 = 1 \times \square + 0.1 \times \square + 0.01 \times \square + 0.001 \times \square$$


⑥

$$2.014 = 1 \times \square + 0.1 \times \square + 0.01 \times \square + 0.001 \times \square$$

⑦

$$4.769 = 1 \times \square + 0.1 \times \square + 0.01 \times \square + 0.001 \times \square$$





整数と小数 I

◎ 小数を式で表す



日にち： 月 日

名まえ _____

・ にあてはまる数字を書いて、小数を式で表しましょう。

①

$$2.143 = 1 \times \square + 0.1 \times \square + 0.01 \times \square + 0.001 \times \square$$

②

$$3.891 = 1 \times \square + 0.1 \times \square + 0.01 \times \square + 0.001 \times \square$$

③

$$3.254 = 1 \times \square + 0.1 \times \square + 0.01 \times \square + 0.001 \times \square$$

④

$$4.262 = 1 \times \square + 0.1 \times \square + 0.01 \times \square + 0.001 \times \square$$

⑤

$$3.164 = 1 \times \square + 0.1 \times \square + 0.01 \times \square + 0.001 \times \square$$


⑥

$$1.495 = 1 \times \square + 0.1 \times \square + 0.01 \times \square + 0.001 \times \square$$

⑦

$$3.268 = 1 \times \square + 0.1 \times \square + 0.01 \times \square + 0.001 \times \square$$






整数と小数 I

◎ 小数を式で表す

15

目指せ100点!



名まえ _____

・ にあてはまる数字を書いて、小数を式で表しましょう。(各20点)

①

$$4.293 = 1 \times \square + 0.1 \times \square + 0.01 \times \square + 0.001 \times \square$$

②

$$3.572 = 1 \times \square + 0.1 \times \square + 0.01 \times \square + 0.001 \times \square$$

③

$$2.145 = 1 \times \square + 0.1 \times \square + 0.01 \times \square + 0.001 \times \square$$


④

$$2.768 = 1 \times \square + 0.1 \times \square + 0.01 \times \square + 0.001 \times \square$$

⑤

$$1.258 = 1 \times \square + 0.1 \times \square + 0.01 \times \square + 0.001 \times \square$$






整数と小数 I

◎ 小数を式で表す

16

目指せ100点!



名まえ _____

・ にあてはまる数字を書いて、小数を式で表しましょう。(各20点)

①

$$6.142 = 1 \times \square + 0.1 \times \square + 0.01 \times \square + 0.001 \times \square$$

②

$$5.237 = 1 \times \square + 0.1 \times \square + 0.01 \times \square + 0.001 \times \square$$

③

$$1.894 = 1 \times \square + 0.1 \times \square + 0.01 \times \square + 0.001 \times \square$$


④

$$3.257 = 1 \times \square + 0.1 \times \square + 0.01 \times \square + 0.001 \times \square$$

⑤

$$4.192 = 1 \times \square + 0.1 \times \square + 0.01 \times \square + 0.001 \times \square$$





整数と小数 ①

◎ 小数を式で表す



日にち： 月 日

名まえ _____

・ にあてはまる数字を書いて、小数を式で表しましょう。
(うすい字はなぞりましょう。)

①

$$2.735 = 1 \times \boxed{2} + 0.1 \times \boxed{7} + 0.01 \times \boxed{3} + 0.001 \times \boxed{5}$$

②

$$3.124 = 1 \times \boxed{3} + 0.1 \times \boxed{1} + 0.01 \times \boxed{2} + 0.001 \times \boxed{4}$$

③

$$4.198 = 1 \times \boxed{4} + 0.1 \times \boxed{1} + 0.01 \times \boxed{9} + 0.001 \times \boxed{8}$$

④

$$3.108 = 1 \times \boxed{3} + 0.1 \times \boxed{1} + 0.01 \times \boxed{0} + 0.001 \times \boxed{8}$$

⑤

$$1.705 = 1 \times \boxed{1} + 0.1 \times \boxed{7} + 0.01 \times \boxed{0} + 0.001 \times \boxed{5}$$


⑥

$$3.029 = 1 \times \boxed{3} + 0.1 \times \boxed{0} + 0.01 \times \boxed{2} + 0.001 \times \boxed{9}$$

⑦

$$0.784 = 1 \times \boxed{0} + 0.1 \times \boxed{7} + 0.01 \times \boxed{8} + 0.001 \times \boxed{4}$$





整数と小数 ①

◎ 小数を式で表す



日にち： 月 日

名まえ _____

・ にあてはまる数字を書いて、小数を式で表しましょう。
(うすい字はなぞりましょう。)

①

$$4.153 = 1 \times \boxed{4} + 0.1 \times \boxed{1} + 0.01 \times \boxed{5} + 0.001 \times \boxed{3}$$

②

$$1.342 = 1 \times \boxed{1} + 0.1 \times \boxed{3} + 0.01 \times \boxed{4} + 0.001 \times \boxed{2}$$

③

$$4.035 = 1 \times \boxed{4} + 0.1 \times \boxed{0} + 0.01 \times \boxed{3} + 0.001 \times \boxed{5}$$

④

$$1.732 = 1 \times \boxed{1} + 0.1 \times \boxed{7} + 0.01 \times \boxed{3} + 0.001 \times \boxed{2}$$

⑤

$$2.205 = 1 \times \boxed{2} + 0.1 \times \boxed{2} + 0.01 \times \boxed{0} + 0.001 \times \boxed{5}$$

⑥

$$1.871 = 1 \times \boxed{1} + 0.1 \times \boxed{8} + 0.01 \times \boxed{7} + 0.001 \times \boxed{1}$$

⑦

$$3.182 = 1 \times \boxed{3} + 0.1 \times \boxed{1} + 0.01 \times \boxed{8} + 0.001 \times \boxed{2}$$





整数と小数 I

◎ 小数を式で表す



日にち： 月 日

名まえ _____

・ にあてはまる数字を書いて、小数を式で表しましょう。
(うすい字はなぞりましょう。)

①

$$3.925 = 1 \times \boxed{3} + 0.1 \times \boxed{9} + 0.01 \times \boxed{2} + 0.001 \times \boxed{5}$$

②

$$2.529 = 1 \times \boxed{2} + 0.1 \times \boxed{5} + 0.01 \times \boxed{2} + 0.001 \times \boxed{9}$$

③

$$3.012 = 1 \times \boxed{3} + 0.1 \times \boxed{0} + 0.01 \times \boxed{1} + 0.001 \times \boxed{2}$$

④

$$2.653 = 1 \times \boxed{2} + 0.1 \times \boxed{6} + 0.01 \times \boxed{5} + 0.001 \times \boxed{3}$$

⑤

$$4.557 = 1 \times \boxed{4} + 0.1 \times \boxed{5} + 0.01 \times \boxed{5} + 0.001 \times \boxed{7}$$


⑥

$$4.986 = 1 \times \boxed{4} + 0.1 \times \boxed{9} + 0.01 \times \boxed{8} + 0.001 \times \boxed{6}$$

⑦

$$1.368 = 1 \times \boxed{1} + 0.1 \times \boxed{3} + 0.01 \times \boxed{6} + 0.001 \times \boxed{8}$$





整数と小数 I

◎ 小数を式で表す



日にち： 月 日

名まえ _____

・ □ にあてはまる数字を書いて、小数を式で表しましょう。
(うすい字はなぞりましょう。)

①

$$4.537 = 1 \times \boxed{4} + 0.1 \times \boxed{5} + 0.01 \times \boxed{3} + 0.001 \times \boxed{7}$$

②

$$3.658 = 1 \times \boxed{3} + 0.1 \times \boxed{6} + 0.01 \times \boxed{5} + 0.001 \times \boxed{8}$$

③

$$2.089 = 1 \times \boxed{2} + 0.1 \times \boxed{0} + 0.01 \times \boxed{8} + 0.001 \times \boxed{9}$$

④

$$2.146 = 1 \times \boxed{2} + 0.1 \times \boxed{1} + 0.01 \times \boxed{4} + 0.001 \times \boxed{6}$$

⑤

$$1.453 = 1 \times \boxed{1} + 0.1 \times \boxed{4} + 0.01 \times \boxed{5} + 0.001 \times \boxed{3}$$


⑥

$$1.703 = 1 \times \boxed{1} + 0.1 \times \boxed{7} + 0.01 \times \boxed{0} + 0.001 \times \boxed{3}$$

⑦

$$2.194 = 1 \times \boxed{2} + 0.1 \times \boxed{1} + 0.01 \times \boxed{9} + 0.001 \times \boxed{4}$$





整数と小数 I

◎ 小数を式で表す



日にち： 月 日

名まえ _____

・ □ にあてはまる数字を書いて、小数を式で表しましょう。
(うすい字はなぞりましょう。)

①

$$3.056 = 1 \times \boxed{3} + 0.1 \times \boxed{0} + 0.01 \times \boxed{5} + 0.001 \times \boxed{6}$$

②

$$3.109 = 1 \times \boxed{3} + 0.1 \times \boxed{1} + 0.01 \times \boxed{0} + 0.001 \times \boxed{9}$$

③

$$1.435 = 1 \times \boxed{1} + 0.1 \times \boxed{4} + 0.01 \times \boxed{3} + 0.001 \times \boxed{5}$$

④

$$3.497 = 1 \times \boxed{3} + 0.1 \times \boxed{4} + 0.01 \times \boxed{9} + 0.001 \times \boxed{7}$$

⑤

$$2.148 = 1 \times \boxed{2} + 0.1 \times \boxed{1} + 0.01 \times \boxed{4} + 0.001 \times \boxed{8}$$

⑥

$$1.703 = 1 \times \boxed{1} + 0.1 \times \boxed{7} + 0.01 \times \boxed{0} + 0.001 \times \boxed{3}$$

⑦

$$3.601 = 1 \times \boxed{3} + 0.1 \times \boxed{6} + 0.01 \times \boxed{0} + 0.001 \times \boxed{1}$$





整数と小数 I

◎ 小数を式で表す



日にち： 月 日

名まえ _____

・ にあてはまる数字を書いて、小数を式で表しましょう。
(うすい字はなぞりましょう。)

① $4.023 = 1 \times \boxed{4} + 0.1 \times \boxed{0} + 0.01 \times \boxed{2} + 0.001 \times \boxed{3}$

② $2.536 = 1 \times \boxed{2} + 0.1 \times \boxed{5} + 0.01 \times \boxed{3} + 0.001 \times \boxed{6}$

③ $2.871 = 1 \times \boxed{2} + 0.1 \times \boxed{8} + 0.01 \times \boxed{7} + 0.001 \times \boxed{1}$

④ $4.608 = 1 \times \boxed{4} + 0.1 \times \boxed{6} + 0.01 \times \boxed{0} + 0.001 \times \boxed{8}$

⑤ $2.653 = 1 \times \boxed{2} + 0.1 \times \boxed{6} + 0.01 \times \boxed{5} + 0.001 \times \boxed{3}$

⑥ $1.428 = 1 \times \boxed{1} + 0.1 \times \boxed{4} + 0.01 \times \boxed{2} + 0.001 \times \boxed{8}$

⑦ $3.645 = 1 \times \boxed{3} + 0.1 \times \boxed{6} + 0.01 \times \boxed{4} + 0.001 \times \boxed{5}$





整数と小数 I

◎ 小数を式で表す



日にち： 月 日

名まえ _____

・ □ にあてはまる数字を書いて、小数を式で表しましょう。
(うすい字はなぞりましょう。)

①

$$1.497 = 1 \times \boxed{1} + 0.1 \times \boxed{4} + 0.01 \times \boxed{9} + 0.001 \times \boxed{7}$$

②

$$2.825 = 1 \times \boxed{2} + 0.1 \times \boxed{8} + 0.01 \times \boxed{2} + 0.001 \times \boxed{5}$$

③

$$3.705 = 1 \times \boxed{3} + 0.1 \times \boxed{7} + 0.01 \times \boxed{0} + 0.001 \times \boxed{5}$$

④

$$2.987 = 1 \times \boxed{2} + 0.1 \times \boxed{9} + 0.01 \times \boxed{8} + 0.001 \times \boxed{7}$$

⑤

$$4.308 = 1 \times \boxed{4} + 0.1 \times \boxed{3} + 0.01 \times \boxed{0} + 0.001 \times \boxed{8}$$


⑥

$$3.591 = 1 \times \boxed{3} + 0.1 \times \boxed{5} + 0.01 \times \boxed{9} + 0.001 \times \boxed{1}$$

⑦

$$1.085 = 1 \times \boxed{1} + 0.1 \times \boxed{0} + 0.01 \times \boxed{8} + 0.001 \times \boxed{5}$$





整数と小数 I

◎ 小数を式で表す



日にち： 月 日

名まえ _____

・ にあてはまる数字を書いて、小数を式で表しましょう。
(うすい字はなぞりましょう。)

①

$$4.781 = 1 \times \boxed{4} + 0.1 \times \boxed{7} + 0.01 \times \boxed{8} + 0.001 \times \boxed{1}$$

②

$$3.176 = 1 \times \boxed{3} + 0.1 \times \boxed{1} + 0.01 \times \boxed{7} + 0.001 \times \boxed{6}$$

③

$$2.413 = 1 \times \boxed{2} + 0.1 \times \boxed{4} + 0.01 \times \boxed{1} + 0.001 \times \boxed{3}$$

④

$$4.376 = 1 \times \boxed{4} + 0.1 \times \boxed{3} + 0.01 \times \boxed{7} + 0.001 \times \boxed{6}$$

⑤

$$1.475 = 1 \times \boxed{1} + 0.1 \times \boxed{4} + 0.01 \times \boxed{7} + 0.001 \times \boxed{5}$$


⑥

$$1.362 = 1 \times \boxed{1} + 0.1 \times \boxed{3} + 0.01 \times \boxed{6} + 0.001 \times \boxed{2}$$

⑦

$$4.723 = 1 \times \boxed{4} + 0.1 \times \boxed{7} + 0.01 \times \boxed{2} + 0.001 \times \boxed{3}$$





整数と小数 I

◎ 小数を式で表す



日にち： 月 日

名まえ _____

・ にあてはまる数字を書いて、小数を式で表しましょう。

①

$$1.309 = 1 \times \boxed{1} + 0.1 \times \boxed{3} + 0.01 \times \boxed{0} + 0.001 \times \boxed{9}$$

②

$$3.184 = 1 \times \boxed{3} + 0.1 \times \boxed{1} + 0.01 \times \boxed{8} + 0.001 \times \boxed{4}$$

③

$$3.685 = 1 \times \boxed{3} + 0.1 \times \boxed{6} + 0.01 \times \boxed{8} + 0.001 \times \boxed{5}$$

④

$$1.521 = 1 \times \boxed{1} + 0.1 \times \boxed{5} + 0.01 \times \boxed{2} + 0.001 \times \boxed{1}$$

⑤

$$4.965 = 1 \times \boxed{4} + 0.1 \times \boxed{9} + 0.01 \times \boxed{6} + 0.001 \times \boxed{5}$$

⑥

$$2.054 = 1 \times \boxed{2} + 0.1 \times \boxed{0} + 0.01 \times \boxed{5} + 0.001 \times \boxed{4}$$

⑦

$$2.879 = 1 \times \boxed{2} + 0.1 \times \boxed{8} + 0.01 \times \boxed{7} + 0.001 \times \boxed{9}$$





整数と小数 I

◎ 小数を式で表す



日にち： 月 日

名まえ _____

・ にあてはまる数字を書いて、小数を式で表しましょう。

①

$$1.905 = 1 \times \boxed{1} + 0.1 \times \boxed{9} + 0.01 \times \boxed{0} + 0.001 \times \boxed{5}$$

②

$$3.141 = 1 \times \boxed{3} + 0.1 \times \boxed{1} + 0.01 \times \boxed{4} + 0.001 \times \boxed{1}$$

③

$$1.026 = 1 \times \boxed{1} + 0.1 \times \boxed{0} + 0.01 \times \boxed{2} + 0.001 \times \boxed{6}$$

④

$$3.871 = 1 \times \boxed{3} + 0.1 \times \boxed{8} + 0.01 \times \boxed{7} + 0.001 \times \boxed{1}$$

⑤

$$1.125 = 1 \times \boxed{1} + 0.1 \times \boxed{1} + 0.01 \times \boxed{2} + 0.001 \times \boxed{5}$$

⑥

$$1.049 = 1 \times \boxed{1} + 0.1 \times \boxed{0} + 0.01 \times \boxed{4} + 0.001 \times \boxed{9}$$

⑦

$$3.214 = 1 \times \boxed{3} + 0.1 \times \boxed{2} + 0.01 \times \boxed{1} + 0.001 \times \boxed{4}$$





整数と小数 I

◎ 小数を式で表す



日にち： 月 日

名まえ _____

・ にあてはまる数字を書いて、小数を式で表しましょう。

①

$$3.801 = 1 \times \boxed{3} + 0.1 \times \boxed{8} + 0.01 \times \boxed{0} + 0.001 \times \boxed{1}$$

②

$$3.279 = 1 \times \boxed{3} + 0.1 \times \boxed{2} + 0.01 \times \boxed{7} + 0.001 \times \boxed{9}$$

③

$$2.805 = 1 \times \boxed{2} + 0.1 \times \boxed{8} + 0.01 \times \boxed{0} + 0.001 \times \boxed{5}$$

④

$$1.539 = 1 \times \boxed{1} + 0.1 \times \boxed{5} + 0.01 \times \boxed{3} + 0.001 \times \boxed{9}$$

⑤

$$2.673 = 1 \times \boxed{2} + 0.1 \times \boxed{6} + 0.01 \times \boxed{7} + 0.001 \times \boxed{3}$$


⑥

$$1.628 = 1 \times \boxed{1} + 0.1 \times \boxed{6} + 0.01 \times \boxed{2} + 0.001 \times \boxed{8}$$

⑦

$$3.918 = 1 \times \boxed{3} + 0.1 \times \boxed{9} + 0.01 \times \boxed{1} + 0.001 \times \boxed{8}$$





整数と小数 I

◎ 小数を式で表す



日にち： 月 日

名まえ

・ にあてはまる数字を書いて、小数を式で表しましょう。

①

$$1.607 = 1 \times \boxed{1} + 0.1 \times \boxed{6} + 0.01 \times \boxed{0} + 0.001 \times \boxed{7}$$

②

$$1.297 = 1 \times \boxed{1} + 0.1 \times \boxed{2} + 0.01 \times \boxed{9} + 0.001 \times \boxed{7}$$

③

$$3.012 = 1 \times \boxed{3} + 0.1 \times \boxed{0} + 0.01 \times \boxed{1} + 0.001 \times \boxed{2}$$

④

$$3.975 = 1 \times \boxed{3} + 0.1 \times \boxed{9} + 0.01 \times \boxed{7} + 0.001 \times \boxed{5}$$

⑤

$$2.137 = 1 \times \boxed{2} + 0.1 \times \boxed{1} + 0.01 \times \boxed{3} + 0.001 \times \boxed{7}$$


⑥

$$2.179 = 1 \times \boxed{2} + 0.1 \times \boxed{1} + 0.01 \times \boxed{7} + 0.001 \times \boxed{9}$$

⑦

$$1.259 = 1 \times \boxed{1} + 0.1 \times \boxed{2} + 0.01 \times \boxed{5} + 0.001 \times \boxed{9}$$





整数と小数 I

◎ 小数を式で表す



日にち： 月 日

名まえ _____

・ にあてはまる数字を書いて、小数を式で表しましょう。

①

$$1.609 = 1 \times \boxed{1} + 0.1 \times \boxed{6} + 0.01 \times \boxed{0} + 0.001 \times \boxed{9}$$

②

$$3.856 = 1 \times \boxed{3} + 0.1 \times \boxed{8} + 0.01 \times \boxed{5} + 0.001 \times \boxed{6}$$

③

$$2.107 = 1 \times \boxed{2} + 0.1 \times \boxed{1} + 0.01 \times \boxed{0} + 0.001 \times \boxed{7}$$

④

$$1.784 = 1 \times \boxed{1} + 0.1 \times \boxed{7} + 0.01 \times \boxed{8} + 0.001 \times \boxed{4}$$

⑤

$$3.095 = 1 \times \boxed{3} + 0.1 \times \boxed{0} + 0.01 \times \boxed{9} + 0.001 \times \boxed{5}$$


⑥

$$2.014 = 1 \times \boxed{2} + 0.1 \times \boxed{0} + 0.01 \times \boxed{1} + 0.001 \times \boxed{4}$$

⑦

$$4.769 = 1 \times \boxed{4} + 0.1 \times \boxed{7} + 0.01 \times \boxed{6} + 0.001 \times \boxed{9}$$





整数と小数 I

◎ 小数を式で表す

14

日にち： 月 日

名まえ _____

・ □ にあてはまる数字を書いて、小数を式で表しましょう。

①

$$2.143 = 1 \times \boxed{2} + 0.1 \times \boxed{1} + 0.01 \times \boxed{4} + 0.001 \times \boxed{3}$$

②

$$3.891 = 1 \times \boxed{3} + 0.1 \times \boxed{8} + 0.01 \times \boxed{9} + 0.001 \times \boxed{1}$$

③

$$3.254 = 1 \times \boxed{3} + 0.1 \times \boxed{2} + 0.01 \times \boxed{5} + 0.001 \times \boxed{4}$$

④

$$4.262 = 1 \times \boxed{4} + 0.1 \times \boxed{2} + 0.01 \times \boxed{6} + 0.001 \times \boxed{2}$$

⑤

$$3.164 = 1 \times \boxed{3} + 0.1 \times \boxed{1} + 0.01 \times \boxed{6} + 0.001 \times \boxed{4}$$


⑥

$$1.495 = 1 \times \boxed{1} + 0.1 \times \boxed{4} + 0.01 \times \boxed{9} + 0.001 \times \boxed{5}$$

⑦

$$3.268 = 1 \times \boxed{3} + 0.1 \times \boxed{2} + 0.01 \times \boxed{6} + 0.001 \times \boxed{8}$$






整数と小数 I

◎ 小数を式で表す

15

目指せ100点!



名まえ _____

・ □ にあてはまる数字を書いて、小数を式で表しましょう。(各20点)

①

$$4.293 = 1 \times \boxed{4} + 0.1 \times \boxed{2} + 0.01 \times \boxed{9} + 0.001 \times \boxed{3}$$

②

$$3.572 = 1 \times \boxed{3} + 0.1 \times \boxed{5} + 0.01 \times \boxed{7} + 0.001 \times \boxed{2}$$

③

$$2.145 = 1 \times \boxed{2} + 0.1 \times \boxed{1} + 0.01 \times \boxed{4} + 0.001 \times \boxed{5}$$


④

$$2.768 = 1 \times \boxed{2} + 0.1 \times \boxed{7} + 0.01 \times \boxed{6} + 0.001 \times \boxed{8}$$

⑤

$$1.258 = 1 \times \boxed{1} + 0.1 \times \boxed{2} + 0.01 \times \boxed{5} + 0.001 \times \boxed{8}$$






整数と小数 I

◎ 小数を式で表す



目指せ100点!



名まえ _____

・ □ にあてはまる数字を書いて、小数を式で表しましょう。(各20点)

①

$$6.142 = 1 \times \boxed{6} + 0.1 \times \boxed{1} + 0.01 \times \boxed{4} + 0.001 \times \boxed{2}$$

②

$$5.237 = 1 \times \boxed{5} + 0.1 \times \boxed{2} + 0.01 \times \boxed{3} + 0.001 \times \boxed{7}$$

③

$$1.894 = 1 \times \boxed{1} + 0.1 \times \boxed{8} + 0.01 \times \boxed{9} + 0.001 \times \boxed{4}$$

④

$$3.257 = 1 \times \boxed{3} + 0.1 \times \boxed{2} + 0.01 \times \boxed{5} + 0.001 \times \boxed{7}$$

⑤

$$4.192 = 1 \times \boxed{4} + 0.1 \times \boxed{1} + 0.01 \times \boxed{9} + 0.001 \times \boxed{2}$$

