



整数と小数6

◎ 色々な小数をつくる




日にち： 月 日

名まえ _____

- 下の□に右のカードをあてはめて、いろいろな数をつくりましょう。
(うすい字はなぞりましょう。)

□	□	.	□	□	□
---	---	---	---	---	---



- ① つくれる数のうち、いちばん小さい数はいくつですか。

(小さい数を、左から順番にあてはめていこう)

1	3	.	□	□	□
---	---	---	---	---	---

答え： 1 3.4 6 8

- ② つくれる数のうち、いちばん大きい数はいくつですか。

(大きい数を、左から順番にあてはめていこう)

8	6	.	□	□	□
---	---	---	---	---	---

答え： _____

- ③ つくれる数のうち、2番めに大きい数はいくつですか。

(1番大きい数の、右はしの数を入れかえて考えてみよう)

8	6	.	4	□	□
---	---	---	---	---	---

答え： _____





整数と小数6

◎ 色々な小数をつくる




日にち： 月 日

名まえ _____

- 下の□に右のカードをあてはめて、いろいろな数をつくりましょう。
(うすい字はなぞりましょう。)

		.			
--	--	---	--	--	--



- ① つくれる数のうち、いちばん大きい数はいくつですか。

(大きい数を、左から順番にあてはめていこう)

9		.			
---	--	---	--	--	--

答え： 9 8.5 4 2

- ② つくれる数のうち、いちばん小さい数はいくつですか。

(小さい数を、左から順番にあてはめていこう)

2		.			
---	--	---	--	--	--

答え： _____

- ③ つくれる数のうち、2番めに小さい数はいくつですか。

(1番小さい数の、右はしの数を入れかえて考えてみよう)

2	4	.	5		
---	---	---	---	--	--

答え： _____





整数と小数6

◎ 色々な小数をつくる




日にち： 月 日

名まえ _____

- 下の□に右のカードをあてはめて、いろいろな数をつくりましょう。
(うすい字はなぞりましょう。)

		.			
--	--	---	--	--	--



- ① つくれる数のうち、いちばん小さい数はいくつですか。

(小さい数を、左から順番にあてはめていこう)

2		.			
---	--	---	--	--	--

答え： _____

- ② つくれる数のうち、いちばん大きい数はいくつですか。

(大きい数を、左から順番にあてはめていこう)

9		.			
---	--	---	--	--	--

答え： _____

- ③ つくれる数のうち、2番めに大きい数はいくつですか。

(1番大きい数の、右はしの数を入れかえて考えてみよう)

9	8	.	4		
---	---	---	---	--	--

答え： _____





整数と小数6

◎ 色々な小数をつくる




日にち： 月 日

名まえ _____

- 下の□に右のカードをあてはめて、いろいろな数をつくりましょう。
(うすい字はなぞりましょう。)

		.			
--	--	---	--	--	--



- ① つくれる数のうち、いちばん小さい数はいくつですか。

(小さい数を、左から順番にあてはめていこう)

1		.			
---	--	---	--	--	--

答え： _____

- ② つくれる数のうち、いちばん大きい数はいくつですか。

(大きい数を、左から順番にあてはめていこう)

9		.			
---	--	---	--	--	--

答え： _____

- ③ つくれる数のうち、2番めに大きい数はいくつですか。

(1番大きい数の、右はしの数を入れかえて考えてみよう)

9	8	.	7		
---	---	---	---	--	--

答え： _____





整数と小数6

◎ 色々な小数をつくる




日にち： 月 日

名まえ _____

・ 下の□に右のカードをあてはめて、いろいろな数をつくりましょう。

□	□	.	□	□	□
---	---	---	---	---	---



① つくれる数のうち、いちばん大きい数はいくつですか。

(大きい数を、左から順番にあてはめていこう)

□	□	.	□	□	□
---	---	---	---	---	---

答え： _____

② つくれる数のうち、いちばん小さい数はいくつですか。

(小さい数を、左から順番にあてはめていこう)

□	□	.	□	□	□
---	---	---	---	---	---

答え： _____

③ つくれる数のうち、2番めに小さい数はいくつですか。

(1番小さい数の、右はしの数を入れかえて考えてみよう)

□	□	.	□	□	□
---	---	---	---	---	---

答え： _____





整数と小数6

◎ 色々な小数をつくる




日にち： 月 日

名まえ _____

・ 下の□に右のカードをあてはめて、いろいろな数をつくりましょう。

□	□	.	□	□	□
---	---	---	---	---	---



① つくれる数のうち、いちばん大きい数はいくつですか。

(大きい数を、左から順番にあてはめていこう)

□	□	.	□	□	□
---	---	---	---	---	---

答え： _____

② つくれる数のうち、いちばん小さい数はいくつですか。

(小さい数を、左から順番にあてはめていこう)

□	□	.	□	□	□
---	---	---	---	---	---

答え： _____

③ つくれる数のうち、2番めに小さい数はいくつですか。

(1番小さい数の、右はしの数を入れかえて考えてみよう)

□	□	.	□	□	□
---	---	---	---	---	---

答え： _____





整数と小数6

◎ 色々な小数をつくる




日にち： 月 日

名まえ _____

・ 下の□に右のカードをあてはめて、いろいろな数をつくりましょう。

		.			
--	--	---	--	--	--



① つくれる数のうち、いちばん小さい数はいくつですか。

(小さい数を、左から順番にあてはめていこう)

		.			
--	--	---	--	--	--

答え： _____

② つくれる数のうち、いちばん大きい数はいくつですか。

(大きい数を、左から順番にあてはめていこう)

		.			
--	--	---	--	--	--

答え： _____

③ つくれる数のうち、2番めに大きい数はいくつですか。

(1番大きい数の、右はしの数を入れかえて考えてみよう)

		.			
--	--	---	--	--	--

答え： _____





整数と小数6

◎ 色々な小数をつくる




日にち： 月 日

名まえ _____

・ 下の□に右のカードをあてはめて、いろいろな数をつくりましょう。

□	□	.	□	□	□
---	---	---	---	---	---



① つくれる数のうち、いちばん小さい数はいくつですか。

(小さい数を、左から順番にあてはめていこう)

□	□	.	□	□	□
---	---	---	---	---	---

答え： _____

② つくれる数のうち、いちばん大きい数はいくつですか。

(大きい数を、左から順番にあてはめていこう)

□	□	.	□	□	□
---	---	---	---	---	---

答え： _____

③ つくれる数のうち、2番めに大きい数はいくつですか。

(1番大きい数の、右はしの数を入れかえて考えてみよう)

□	□	.	□	□	□
---	---	---	---	---	---

答え： _____





整数と小数6

◎ 色々な小数をつくる




日にち： 月 日

名まえ _____

・ 下の□に右のカードをあてはめて、いろいろな数をつくりましょう。

		.			
--	--	---	--	--	--



① つくれる数のうち、いちばん大きい数はいくつですか。

(大きい数を、左から順番にあてはめていこう)

		.			
--	--	---	--	--	--

答え： _____

② つくれる数のうち、いちばん小さい数はいくつですか。

(小さい数を、左から順番にあてはめていこう)

		.			
--	--	---	--	--	--

答え： _____

③ つくれる数のうち、2番めに小さい数はいくつですか。

(1番小さい数の、右はしの数を入れかえて考えてみよう)

		.			
--	--	---	--	--	--

答え： _____



整数と小数6

◎ 色々な小数をつくる




日にち： 月 日

名まえ _____

・ 下の□に右のカードをあてはめて、いろいろな数をつくりましょう。

□	□	.	□	□	□
---	---	---	---	---	---



① つくれる数のうち、いちばん大きい数はいくつですか。

答え：

② つくれる数のうち、いちばん小さい数はいくつですか。

答え：

③ つくれる数のうち、2番めに小さい数はいくつですか。

答え：

④ つくれる数のうち、2番めに大きい数はいくつですか。

答え：



整数と小数6

◎ 色々な小数をつくる




日にち： 月 日

名まえ _____

・ 下の□に右のカードをあてはめて、いろいろな数をつくりましょう。

		.			
--	--	---	--	--	--



① つくれる数のうち、いちばん小さい数はいくつですか。

答え： _____

② つくれる数のうち、いちばん大きい数はいくつですか。

答え： _____

③ つくれる数のうち、2番めに小さい数はいくつですか。

答え： _____

④ つくれる数のうち、2番めに大きい数はいくつですか。

答え： _____



整数と小数6

◎ 色々な小数をつくる




日にち： 月 日

名まえ _____

・ 下の□に右のカードをあてはめて、いろいろな数をつくりましょう。

		.			
--	--	---	--	--	--



① つくれる数のうち、いちばん大きい数はいくつですか。

答え： _____

② つくれる数のうち、いちばん小さい数はいくつですか。

答え： _____

③ つくれる数のうち、2番めに大きい数はいくつですか。

答え： _____

④ つくれる数のうち、2番めに小さい数はいくつですか。

答え： _____



整数と小数6

◎ 色々な小数をつくる




日にち： 月 日

名まえ _____

・ 下の□に右のカードをあてはめて、いろいろな数をつくりましょう。

		.			
--	--	---	--	--	--



① つくれる数のうち、いちばん大きい数はいくつですか。

答え： _____

② つくれる数のうち、いちばん小さい数はいくつですか。

答え： _____

③ つくれる数のうち、2番めに大きい数はいくつですか。

答え： _____

④ つくれる数のうち、2番めに小さい数はいくつですか。

答え： _____



整数と小数6

◎ 色々な小数をつくる




日にち： 月 日

名まえ _____

・ 下の□に右のカードをあてはめて、いろいろな数をつくりましょう。

		.			
--	--	---	--	--	--



① つくれる数のうち、いちばん小さい数はいくつですか。

答え： _____

② つくれる数のうち、いちばん大きい数はいくつですか。

答え： _____

③ つくれる数のうち、2番めに小さい数はいくつですか。

答え： _____

④ つくれる数のうち、2番めに大きい数はいくつですか。

答え： _____



整数と小数6

◎ 色々な小数をつくる

15


目指せ75点!



名まえ _____

・ 下の に右のカードをあてはめて、いろいろな数をつくりましょう。(各25点)

		.			
--	--	---	--	--	--



① つくれる数のうち、いちばん小さい数はいくつですか。

答え： _____

② つくれる数のうち、いちばん大きい数はいくつですか。

答え： _____

③ つくれる数のうち、2番めに小さい数はいくつですか。

答え： _____

④ つくれる数のうち、2番めに大きい数はいくつですか。

答え： _____



整数と小数6

◎ 色々な小数をつくる




目指せ75点!



名まえ _____

・ 下の に右のカードをあてはめて、いろいろな数をつくりましょう。(各25点)

<input type="text"/>	<input type="text"/>	.	<input type="text"/>	<input type="text"/>	<input type="text"/>
----------------------	----------------------	---	----------------------	----------------------	----------------------



① つくれる数のうち、いちばん大きい数はいくつですか。

答え： _____

② つくれる数のうち、いちばん小さい数はいくつですか。

答え： _____

③ つくれる数のうち、2番めに大きい数はいくつですか。

答え： _____

④ つくれる数のうち、2番めに小さい数はいくつですか。

答え： _____



整数と小数6

◎ 色々な小数をつくる




日にち： 月 日

名まえ _____

- 下の□に右のカードをあてはめて、いろいろな数をつくりましょう。
(うすい字はなぞりましょう。)

□	□	.	□	□	□
---	---	---	---	---	---



- ① つくれる数のうち、いちばん小さい数はいくつですか。

(小さい数を、左から順番にあてはめていこう)

1	3	.	4	6	8
---	---	---	---	---	---

答え： 1 3 . 4 6 8

- ② つくれる数のうち、いちばん大きい数はいくつですか。

(大きい数を、左から順番にあてはめていこう)

8	6	.	4	3	1
---	---	---	---	---	---

答え： 8 6 . 4 3 1

- ③ つくれる数のうち、2番めに大きい数はいくつですか。

(1番大きい数の、右はしの数を入れかえて考えてみよう)

8	6	.	4	1	3
---	---	---	---	---	---

答え： 8 6 . 4 1 3





整数と小数6

◎ 色々な小数をつくる




日にち： 月 日

名まえ _____

- 下の□に右のカードをあてはめて、いろいろな数をつくりましょう。
(うすい字はなぞりましょう。)

□	□	.	□	□	□
---	---	---	---	---	---



- ① つくれる数のうち、いちばん大きい数はいくつですか。

(大きい数を、左から順番にあてはめていこう)

9	8	.	5	4	2
---	---	---	---	---	---

答え： 98.542

- ② つくれる数のうち、いちばん小さい数はいくつですか。

(小さい数を、左から順番にあてはめていこう)

2	4	.	5	8	9
---	---	---	---	---	---

答え： 24.589

- ③ つくれる数のうち、2番めに小さい数はいくつですか。

(1番小さい数の、右はしの数を入れかえて考えてみよう)

2	4	.	5	9	8
---	---	---	---	---	---

答え： 24.598





整数と小数6

◎ 色々な小数をつくる




日にち： 月 日

名まえ _____

- 下の□に右のカードをあてはめて、いろいろな数をつくりましょう。
(うすい字はなぞりましょう。)

□	□	.	□	□	□
---	---	---	---	---	---



- ① つくれる数のうち、いちばん小さい数はいくつですか。

(小さい数を、左から順番にあてはめていこう)

2	3	.	4	8	9
---	---	---	---	---	---

答え： 2 3 . 4 8 9

- ② つくれる数のうち、いちばん大きい数はいくつですか。

(大きい数を、左から順番にあてはめていこう)

9	8	.	4	3	2
---	---	---	---	---	---

答え： 9 8 . 4 3 2

- ③ つくれる数のうち、2番めに大きい数はいくつですか。

(1番大きい数の、右はしの数を入れかえて考えてみよう)

9	8	.	4	2	3
---	---	---	---	---	---

答え： 9 8 . 4 2 3





整数と小数6

◎ 色々な小数をつくる




日にち： 月 日

名まえ _____

- 下の□に右のカードをあてはめて、いろいろな数をつくりましょう。
(うすい字はなぞりましょう。)

□	□	.	□	□	□
---	---	---	---	---	---



- ① つくれる数のうち、いちばん小さい数はいくつですか。

(小さい数を、左から順番にあてはめていこう)

1	3	.	7	8	9
---	---	---	---	---	---

答え： 1 3 . 7 8 9

- ② つくれる数のうち、いちばん大きい数はいくつですか。

(大きい数を、左から順番にあてはめていこう)

9	8	.	7	3	1
---	---	---	---	---	---

答え： 9 8 . 7 3 1

- ③ つくれる数のうち、2番めに大きい数はいくつですか。

(1番大きい数の、右はしの数を入れかえて考えてみよう)

9	8	.	7	1	3
---	---	---	---	---	---

答え： 9 8 . 7 1 3





整数と小数6

◎ 色々な小数をつくる




日にち： 月 日

名まえ _____

・ 下の□に右のカードをあてはめて、いろいろな数をつくりましょう。

□	□	.	□	□	□
---	---	---	---	---	---



① つくれる数のうち、いちばん大きい数はいくつですか。

(大きい数を、左から順番にあてはめていこう)

7	6	.	5	4	3
---	---	---	---	---	---

答え： 7 6.5 4 3

② つくれる数のうち、いちばん小さい数はいくつですか。

(小さい数を、左から順番にあてはめていこう)

3	4	.	5	6	7
---	---	---	---	---	---

答え： 3 4.5 6 7

③ つくれる数のうち、2番めに小さい数はいくつですか。

(1番小さい数の、右はしの数を入れかえて考えてみよう)

3	4	.	5	7	6
---	---	---	---	---	---

答え： 3 4.5 7 6





整数と小数6

◎ 色々な小数をつくる




日にち： 月 日

名まえ _____

・ 下の□に右のカードをあてはめて、いろいろな数をつくりましょう。

□	□	.	□	□	□
---	---	---	---	---	---



① つくれる数のうち、いちばん大きい数はいくつですか。

(大きい数を、左から順番にあてはめていこう)

9	7	.	4	3	2
---	---	---	---	---	---

答え： 97.432

② つくれる数のうち、いちばん小さい数はいくつですか。

(小さい数を、左から順番にあてはめていこう)

2	3	.	4	7	9
---	---	---	---	---	---

答え： 23.479

③ つくれる数のうち、2番めに小さい数はいくつですか。

(1番小さい数の、右はしの数を入れかえて考えてみよう)

2	3	.	4	9	7
---	---	---	---	---	---

答え： 23.497





整数と小数6

◎ 色々な小数をつくる




日にち： 月 日

名まえ _____

・ 下の□に右のカードをあてはめて、いろいろな数をつくりましょう。

□	□	.	□	□	□
---	---	---	---	---	---



① つくれる数のうち、いちばん小さい数はいくつですか。

(小さい数を、左から順番にあてはめていこう)

2	3	.	6	7	8
---	---	---	---	---	---

答え： 2 3.6 7 8

② つくれる数のうち、いちばん大きい数はいくつですか。

(大きい数を、左から順番にあてはめていこう)

8	7	.	6	3	2
---	---	---	---	---	---

答え： 8 7.6 3 2

③ つくれる数のうち、2番めに大きい数はいくつですか。

(1番大きい数の、右はしの数を入れかえて考えてみよう)

8	7	.	6	2	3
---	---	---	---	---	---

答え： 8 7.6 2 3





整数と小数6

◎ 色々な小数をつくる




日にち： 月 日

名まえ _____

・ 下の□に右のカードをあてはめて、いろいろな数をつくりましょう。

□	□	.	□	□	□
---	---	---	---	---	---



① つくれる数のうち、いちばん小さい数はいくつですか。

(小さい数を、左から順番にあてはめていこう)

3	4	.	5	6	7
---	---	---	---	---	---

答え： 3 4.5 6 7

② つくれる数のうち、いちばん大きい数はいくつですか。

(大きい数を、左から順番にあてはめていこう)

7	6	.	5	4	3
---	---	---	---	---	---

答え： 7 6.5 4 3

③ つくれる数のうち、2番めに大きい数はいくつですか。

(1番大きい数の、右はしの数を入れかえて考えてみよう)

7	6	.	5	3	4
---	---	---	---	---	---

答え： 7 6.5 3 4





整数と小数6

◎ 色々な小数をつくる




日にち： 月 日

名まえ _____

・ 下の□に右のカードをあてはめて、いろいろな数をつくりましょう。

□	□	.	□	□	□
---	---	---	---	---	---



① つくれる数のうち、いちばん大きい数はいくつですか。

(大きい数を、左から順番にあてはめていこう)

6	5	.	4	3	1
---	---	---	---	---	---

答え： 65.431

② つくれる数のうち、いちばん小さい数はいくつですか。

(小さい数を、左から順番にあてはめていこう)

1	3	.	4	5	6
---	---	---	---	---	---

答え： 13.456

③ つくれる数のうち、2番めに小さい数はいくつですか。

(1番小さい数の、右はしの数を入れかえて考えてみよう)

1	3	.	4	6	5
---	---	---	---	---	---

答え： 13.465





整数と小数6

◎ 色々な小数をつくる




日にち： 月 日

名まえ _____

・ 下の□に右のカードをあてはめて、いろいろな数をつくりましょう。

□	□	.	□	□	□
---	---	---	---	---	---



① つくれる数のうち、いちばん大きい数はいくつですか。

答え：98.641

② つくれる数のうち、いちばん小さい数はいくつですか。

答え：14.689

③ つくれる数のうち、2番めに小さい数はいくつですか。

答え：14.698

④ つくれる数のうち、2番めに大きい数はいくつですか。

答え：98.614



整数と小数6

◎ 色々な小数をつくる




日にち： 月 日

名まえ _____

・ 下の□に右のカードをあてはめて、いろいろな数をつくりましょう。

		.			
--	--	---	--	--	--



① つくれる数のうち、いちばん小さい数はいくつですか。

答え： 1 3.5 7 9

② つくれる数のうち、いちばん大きい数はいくつですか。

答え： 9 7.5 3 1

③ つくれる数のうち、2番めに小さい数はいくつですか。

答え： 1 3.5 9 7

④ つくれる数のうち、2番めに大きい数はいくつですか。

答え： 9 7.5 1 3



整数と小数6

◎ 色々な小数をつくる




日にち： 月 日

名まえ _____

- ・ 下の□に右のカードをあてはめて、いろいろな数をつくりましょう。

□	□	.	□	□	□
---	---	---	---	---	---



- ① つくれる数のうち、いちばん大きい数はいくつですか。

答え：98.432

- ② つくれる数のうち、いちばん小さい数はいくつですか。

答え：23.489

- ③ つくれる数のうち、2番めに大きい数はいくつですか。

答え：98.423

- ④ つくれる数のうち、2番めに小さい数はいくつですか。

答え：23.498





整数と小数6

◎ 色々な小数をつくる




日にち： 月 日

名まえ _____

・ 下の□に右のカードをあてはめて、いろいろな数をつくりましょう。

□	□	.	□	□	□
---	---	---	---	---	---



① つくれる数のうち、いちばん大きい数はいくつですか。

答え：97.654

② つくれる数のうち、いちばん小さい数はいくつですか。

答え：45.679

③ つくれる数のうち、2番めに大きい数はいくつですか。

答え：97.645

④ つくれる数のうち、2番めに小さい数はいくつですか。

答え：45.697



整数と小数6

◎ 色々な小数をつくる




日にち： 月 日

名まえ _____

- ・ 下の□に右のカードをあてはめて、いろいろな数をつくりましょう。

□	□	.	□	□	□
---	---	---	---	---	---



- ① つくれる数のうち、いちばん小さい数はいくつですか。

答え：3 5.6 7 8

- ② つくれる数のうち、いちばん大きい数はいくつですか。

答え：8 7.6 5 3

- ③ つくれる数のうち、2番めに小さい数はいくつですか。

答え：3 5.6 8 7

- ④ つくれる数のうち、2番めに大きい数はいくつですか。

答え：8 7.6 3 5





整数と小数6

◎ 色々な小数をつくる

15


目指せ75点!



名まえ _____

・ 下の に右のカードをあてはめて、いろいろな数をつくりましょう。(各25点)

<input type="text"/>	<input type="text"/>	.	<input type="text"/>	<input type="text"/>	<input type="text"/>
----------------------	----------------------	---	----------------------	----------------------	----------------------



① つくれる数のうち、いちばん小さい数はいくつですか。

答え： 1 4.5 8 9

② つくれる数のうち、いちばん大きい数はいくつですか。

答え： 9 8.5 4 1

③ つくれる数のうち、2番めに小さい数はいくつですか。

答え： 1 4.5 9 8

④ つくれる数のうち、2番めに大きい数はいくつですか。

答え： 9 8.5 1 4




整数と小数6

◎ 色々な小数をつくる




目指せ75点!



名まえ _____

・ 下の に右のカードをあてはめて、いろいろな数をつくりましょう。(各25点)

		.			
--	--	---	--	--	--



① つくれる数のうち、いちばん大きい数はいくつですか。

答え：97.541

② つくれる数のうち、いちばん小さい数はいくつですか。

答え：14.579

③ つくれる数のうち、2番めに大きい数はいくつですか。

答え：97.514

④ つくれる数のうち、2番めに小さい数はいくつですか。

答え：14.597