



正多角形と
円周の長さ！

● 多角形の名前

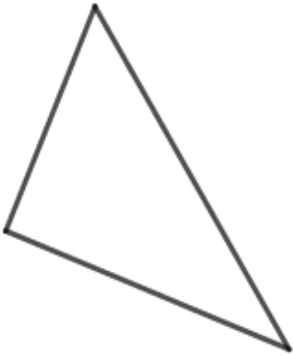


日にち： 月 日

名まえ _____

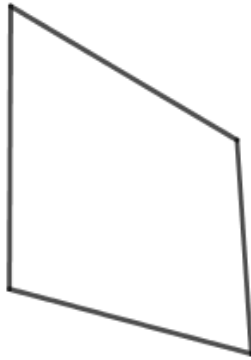
・ 次の図形の名前を書きましょう。(うすい字はしっかりなぞりましょう。)

①



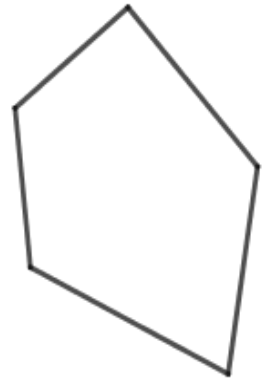
答え： 三角形

②



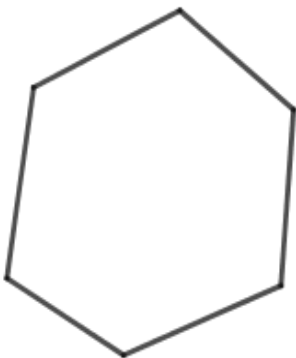
答え： 四角形

③



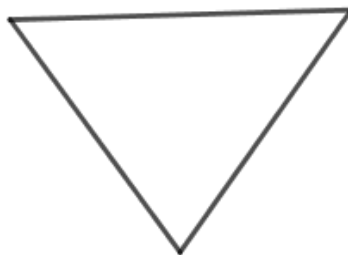
答え： 五角形

④



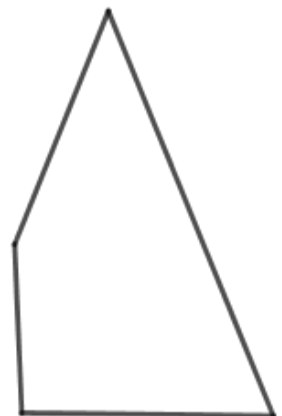
答え： 六角形

⑤



答え： _____

⑥



答え： _____





正多角形と
円周の長さ！

2

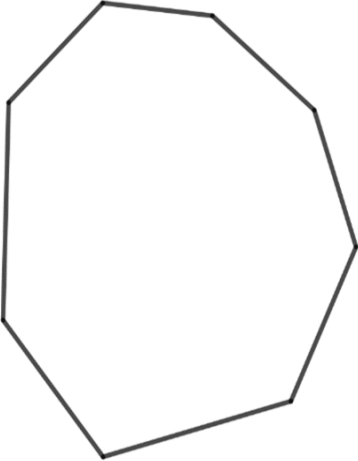
● 多角形の名前

日にち： 月 日

名まえ _____

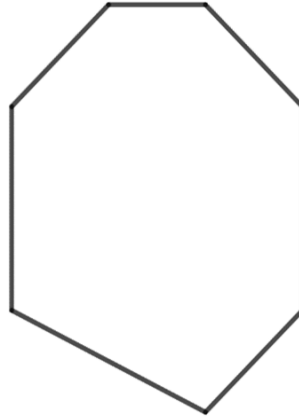
・ 次の図形の名前を書きましょう。(うすい字はしっかりなぞりましょう。)

①



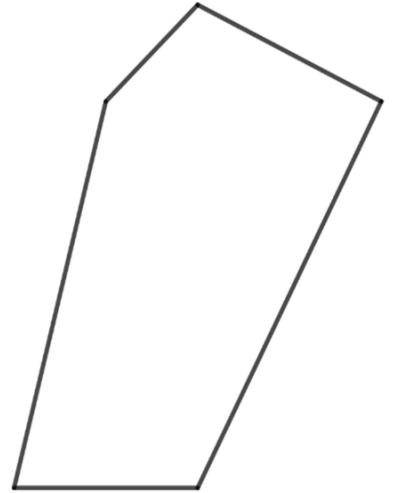
答え： 八角形

②



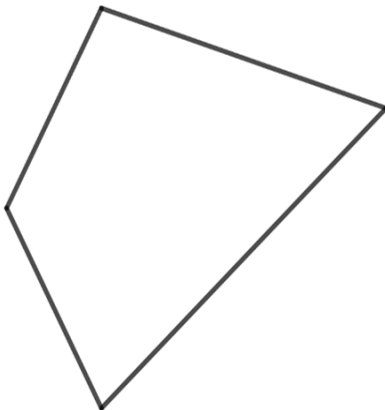
答え： 七角形

③



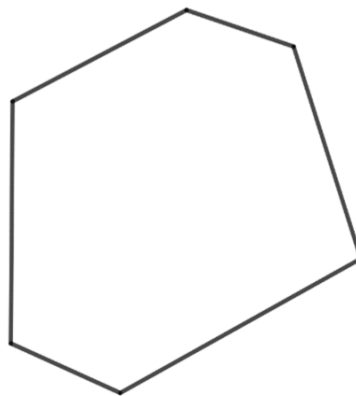
答え： _____

④



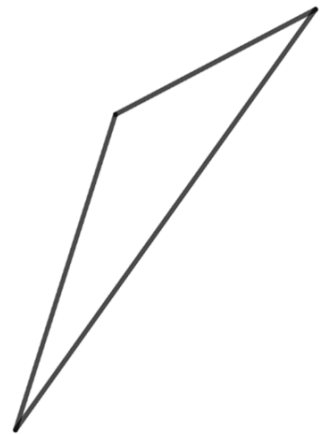
答え： _____

⑤



答え： _____

⑥



答え： _____





正多角形と
円周の長さ

● 多角形の名前

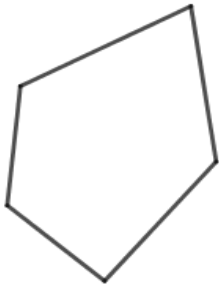
3

日にち： 月 日

名まえ _____

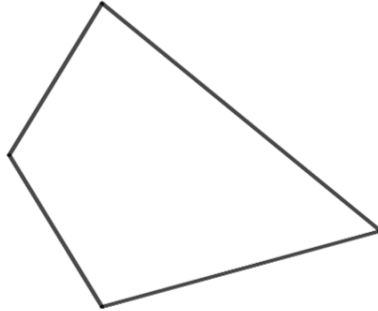
・ 次の図形の名前を書きましょう。(うすい字はしっかりなぞりましょう。)

①



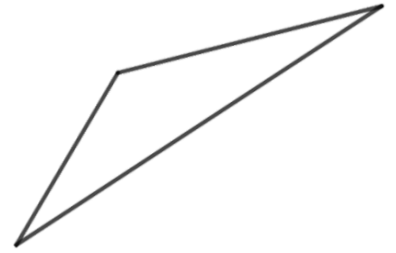
答え： 五角形

②



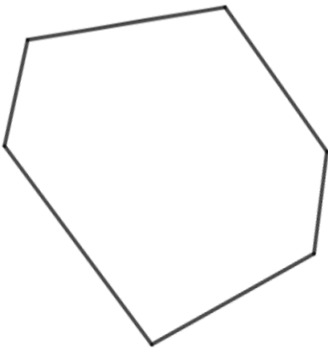
答え： _____

③



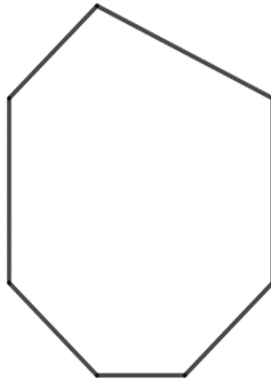
答え： _____

④



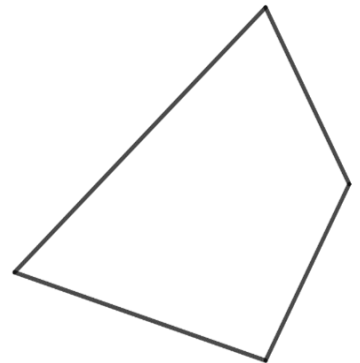
答え： _____

⑤



答え： _____

⑥



答え： _____





正多角形と
円周の長さ |

4

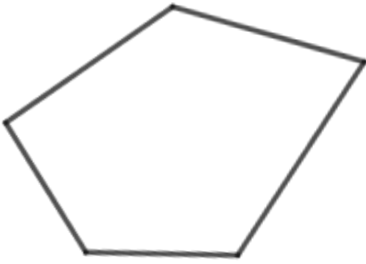
◎ 多角形の名前

日にち： 月 日

名まえ _____

・ 次の図形の名前を書きましょう。

①



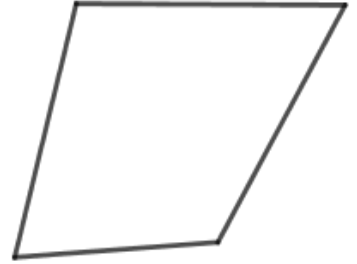
答え： _____

②



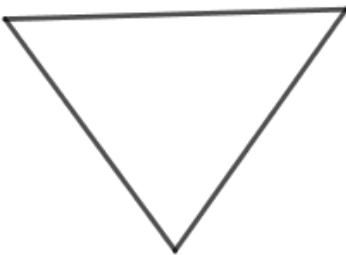
答え： _____

③



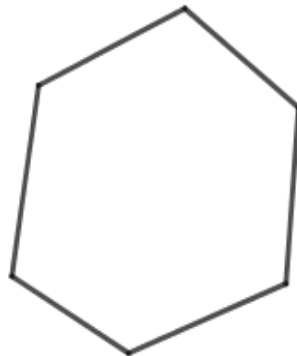
答え： _____

④



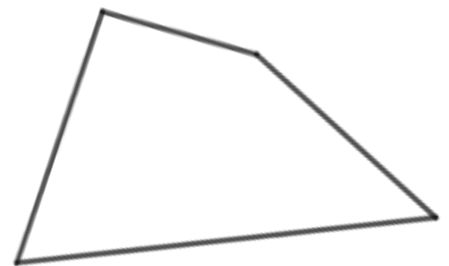
答え： _____

⑤



答え： _____

⑥



答え： _____





正多角形と
円周の長さ！

● 多角形の名前

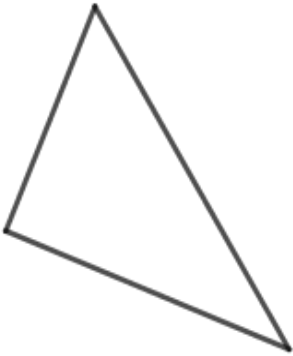


日にち： 月 日

名まえ _____

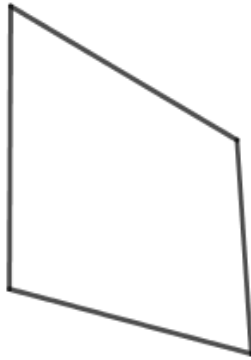
・ 次の図形の名前を書きましょう。(うすい字はしっかりなぞりましょう。)

①



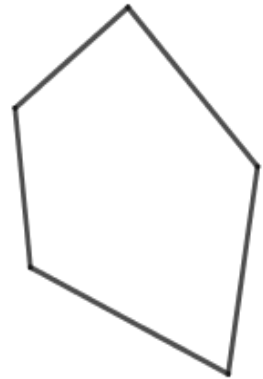
答え： 三角形

②



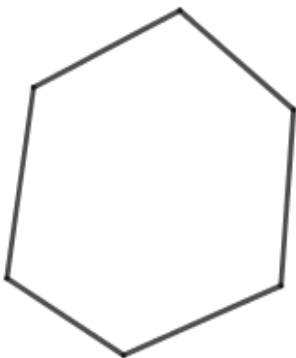
答え： 四角形

③



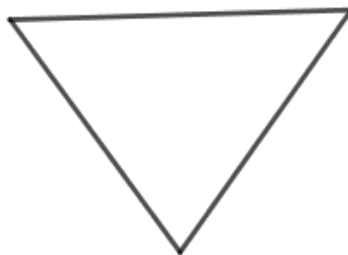
答え： 五角形

④



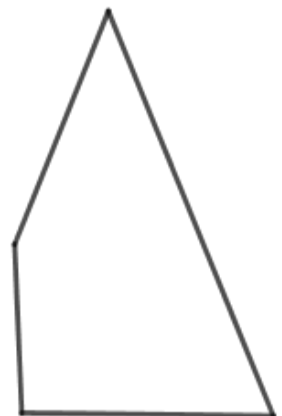
答え： 六角形

⑤



答え： 三角形

⑥



答え： 四角形





正多角形と
円周の長さ！

2

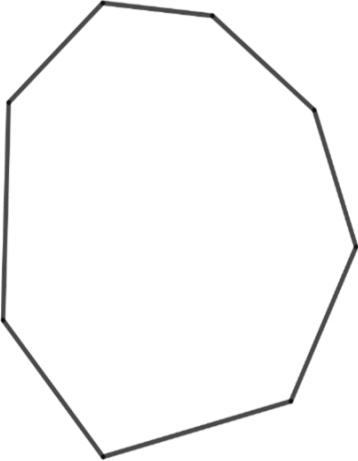
◎ 多角形の名前

日にち： 月 日

名まえ _____

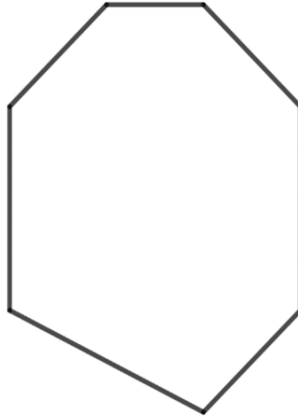
・ 次の図形の名前を書きましょう。(うすい字はしっかりなぞりましょう。)

①



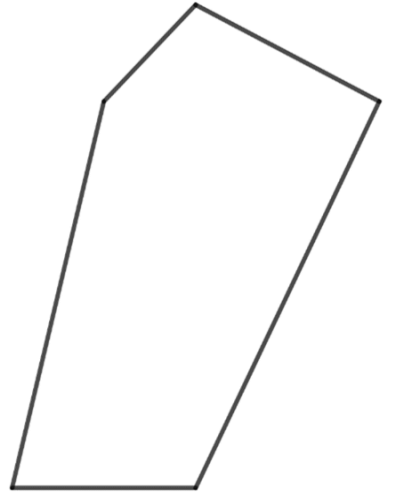
答え： 八角形

②



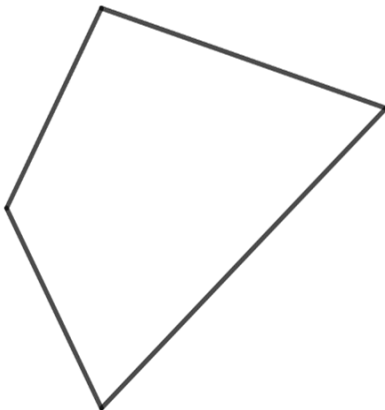
答え： 七角形

③



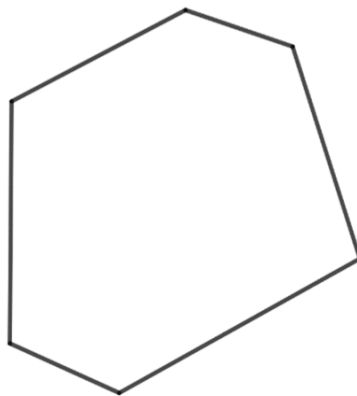
答え： 五角形

④



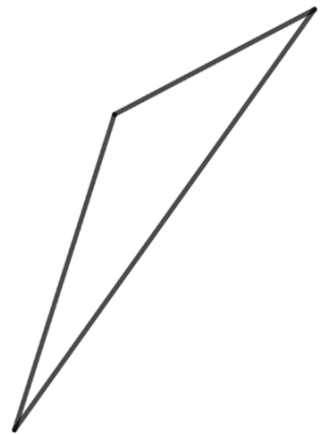
答え： 四角形

⑤



答え： 六角形

⑥



答え： 三角形





正多角形と
円周の長さ！

● 多角形の名前

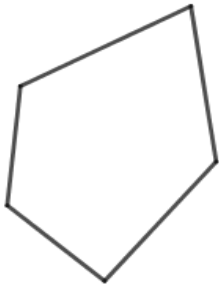
3

日にち： 月 日

名まえ _____

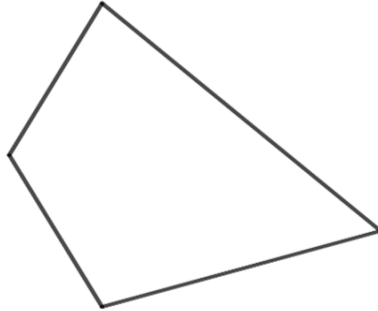
・ 次の図形の名前を書きましょう。(うすい字はしっかりなぞりましょう。)

①



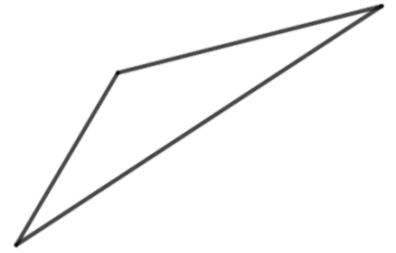
答え： 五角形

②



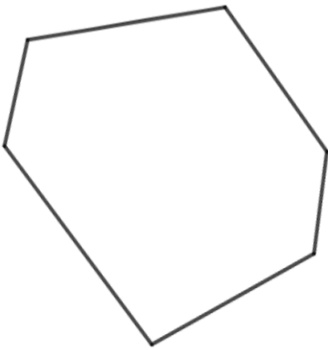
答え： 四角形

③



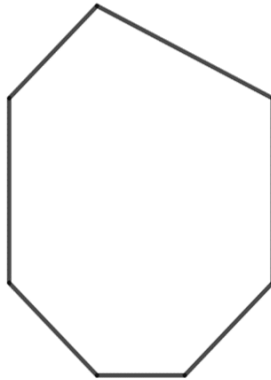
答え： 三角形

④



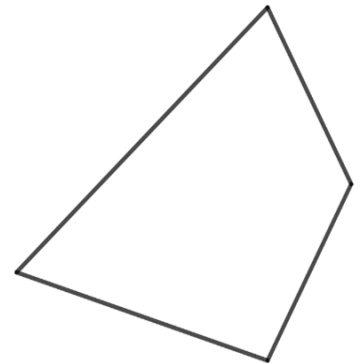
答え： 六角形

⑤



答え： 七角形

⑥



答え： 四角形





正多角形と
円周の長さ

◎ 多角形の名前

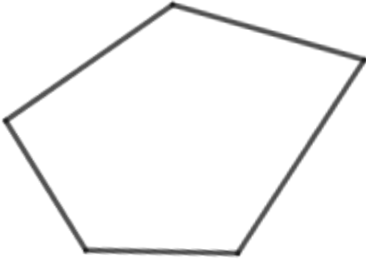
4

日にち： 月 日

名まえ _____

・ 次の図形の名前を書きましょう。

①



答え： 五角形

②



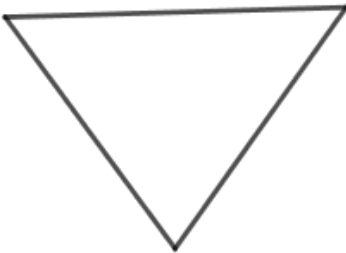
答え： 三角形

③



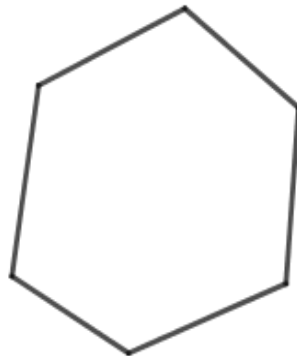
答え： 四角形

④



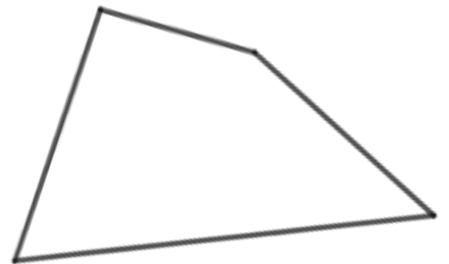
答え： 三角形

⑤



答え： 六角形

⑥



答え： 四角形

