

角柱と円柱 4

● 横にたおれた角柱

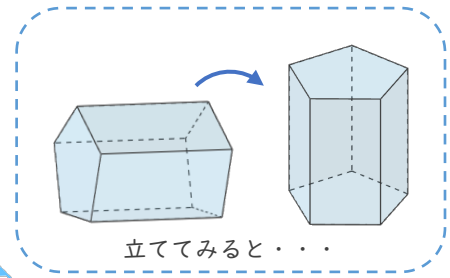
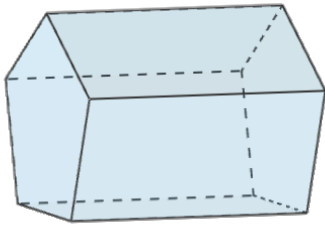


日にち： 月 日

名まえ _____

・次のような角柱があります、何という角柱ですか。□にあうことばを書き、
{ }の中の正しいものを○で囲みましょう。(うすい字はなぞりましょう。)

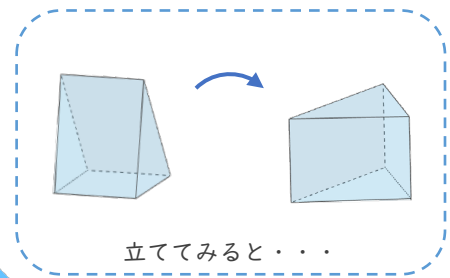
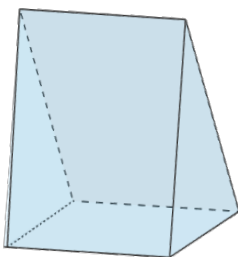
①



・この角柱は、の形がだから、

{ 三角柱 ・ 四角柱 ・ }


②



・この角柱は、の形がだから、

{ 三角柱 ・ 四角柱 ・ 五角柱 }





角柱と円柱 4



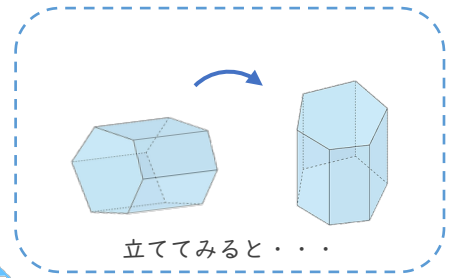
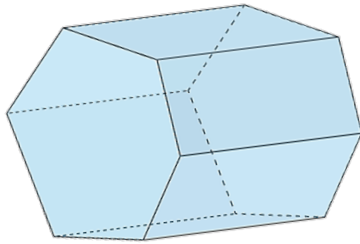
● 横にたおれた角柱

日にち： 月 日

名まえ _____

・次のような角柱があります、何という角柱ですか。□にあうことばを書き、
{ }の中の正しいものを○で囲みましょう。(うすい字はなぞりましょう。)

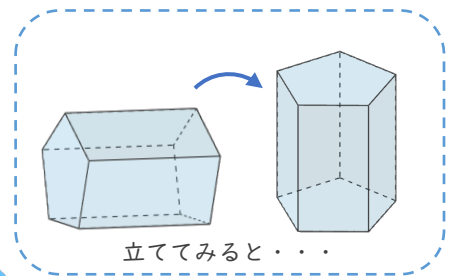
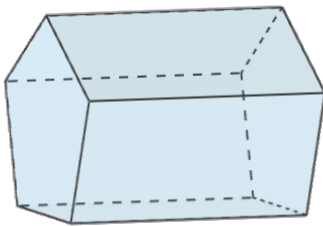
①



・この角柱は、の形が だから、

{ 四角柱 ・ 五角柱 ・ 六角柱 } です。


②



・この角柱は、の形が だから、

{ 四角柱 ・ 五角柱 ・ 六角柱 } です。





角柱と円柱 4



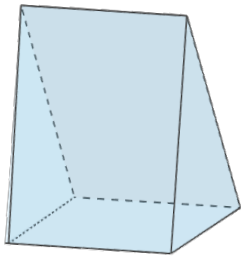
◎ 横にたおれた角柱

日にち： 月 日

名まえ _____

・次のような角柱があります、何という角柱ですか。□にあうことばを書き、
{ }の中の正しいものを○で囲みましょう。

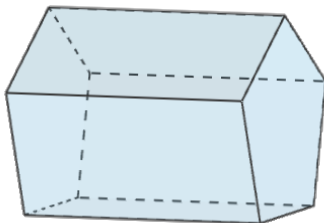
①



・この角柱は、□の形が □だから、

{ 三角柱 ・ 四角柱 ・ 五角柱 } です。


②



・この角柱は、□の形が □だから、

{ 三角柱 ・ 四角柱 ・ 五角柱 } です。





角柱と円柱 4



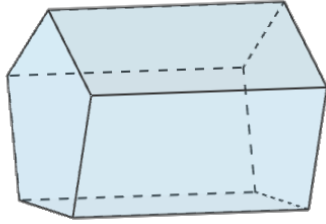
◎ 横にたおれた角柱

日にち： 月 日

名まえ _____

・次のような角柱があります、何という角柱ですか。□にあうことばを書き、
{ }の中の正しいものを○で囲みましょう。

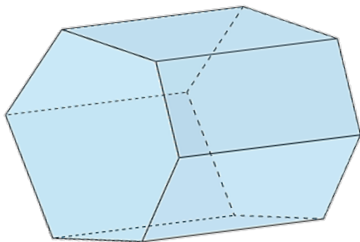
①



・この角柱は、□の形が □だから、

{ 四角柱 ・ 五角柱 ・ 六角柱 } です。


②



・この角柱は、□の形が □だから、

{ 四角柱 ・ 五角柱 ・ 六角柱 } です。





角柱と円柱 4

● 横にたおれた角柱

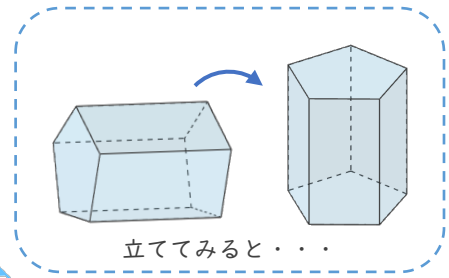
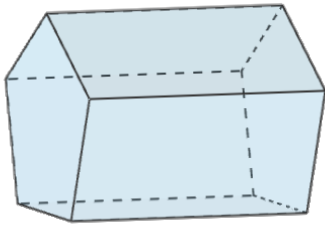


日にち： 月 日

名まえ _____

・次のような角柱があります、何という角柱ですか。□にあうことばを書き、
{ }の中の正しいものを○で囲みましょう。(うすい字はなぞりましょう。)

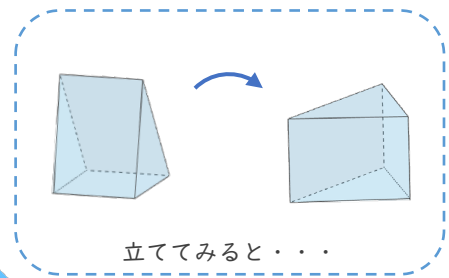
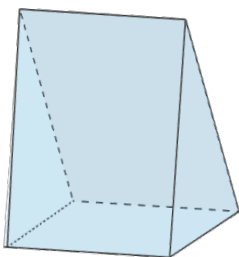
①



・この角柱は、**底面**の形が**五角形**だから、

{ 三角柱 ・ 四角柱 ・ **五角柱** } です。


②



・この角柱は、**底面**の形が**三角形**だから、

{ **三角柱** ・ 四角柱 ・ 五角柱 } です。





角柱と円柱 4

2

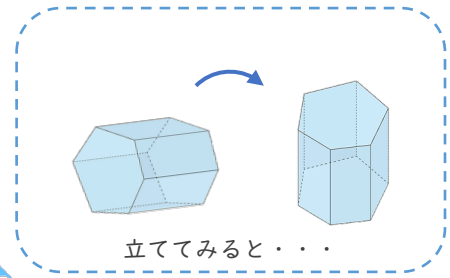
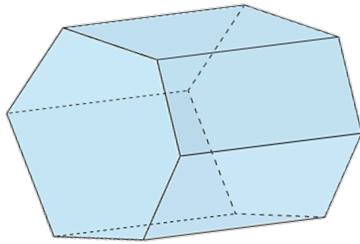
● 横にたおれた角柱

日にち： 月 日

名まえ _____

・次のような角柱があります、何という角柱ですか。□にあうことばを書き、{ }の中の正しいものを○で囲みましょう。(うすい字はなぞりましょう。)

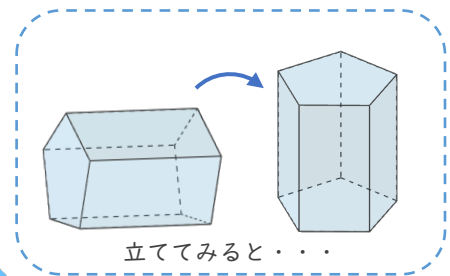
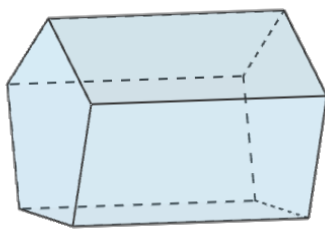
①



・この角柱は、**底面**の形が**六角形**だから、

{ 四角柱 ・ 五角柱 ・ **六角柱** } です。


②



・この角柱は、**底面**の形が**五角形**だから、

{ 四角柱 ・ **五角柱** ・ 六角柱 } です。





角柱と円柱 4

3

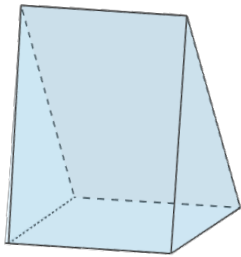
◎ 横にたおれた角柱

日にち： 月 日

名まえ _____

・次のような角柱があります、何という角柱ですか。□にあうことばを書き、
{ }の中の正しいものを○で囲みましょう。

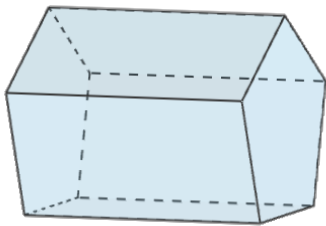
①



・この角柱は、**底面**の形が**三角形**だから、

{ **三角柱** ・ 四角柱 ・ 五角柱 } です。


②



・この角柱は、**底面**の形が**五角形**だから、

{ 三角柱 ・ 四角柱 ・ **五角柱** } です。





角柱と円柱 4



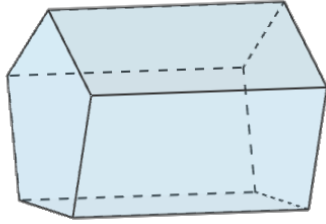
◎ 横にたおれた角柱

日にち： 月 日

名まえ _____

・次のような角柱があります、何という角柱ですか。□にあうことばを書き、
{ }の中の正しいものを○で囲みましょう。

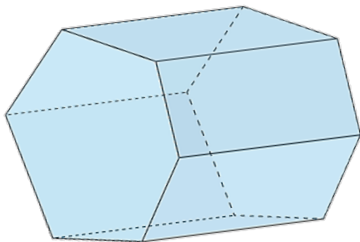
①



・この角柱は、**底面**の形が**五角形**だから、

{ 四角柱 ・ **五角柱** ・ 六角柱 } です。

②



・この角柱は、**底面**の形が**六角形**だから、

{ 四角柱 ・ 五角柱 ・ **六角柱** } です。

