



# 角柱と円柱 6

● 角柱と円柱の特ちょう

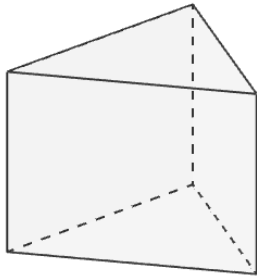


日にち：            月            日

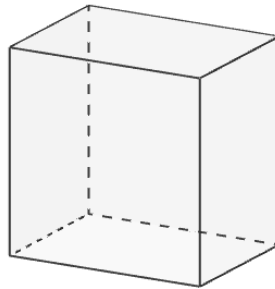
名まえ \_\_\_\_\_

・ 図を見て次の問いに答えましょう。（うすい字はなぞりましょう。）

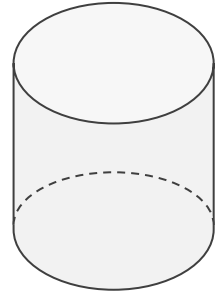
ア



イ



ウ

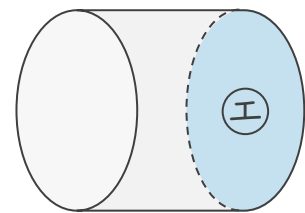
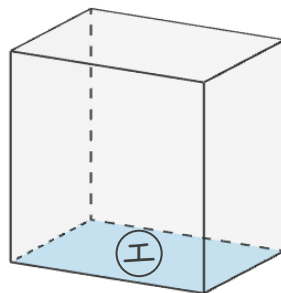
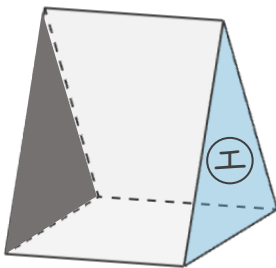


① 次の表に合う数や言葉を書き、表を完成させましょう。

	ア	イ	ウ
立体の名前	三角柱	四角柱	円柱
側面の数	3	4	1
底面の形	三角形	四角形	円

② ①の面と平行な面に色をぬりましょう。

(例)





# 角柱と円柱 6

● 角柱と円柱の特ちょう

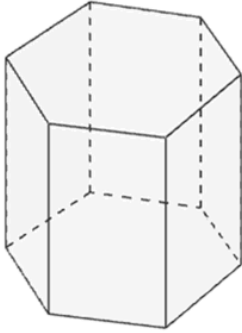


日にち：            月            日

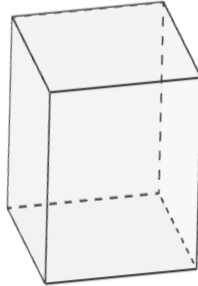
名まえ \_\_\_\_\_

・ 図を見て次の問いに答えましょう。（うすい字はなぞりましょう。）

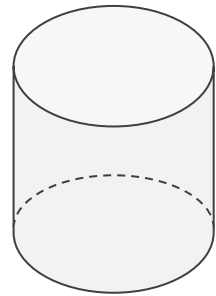
ア



イ



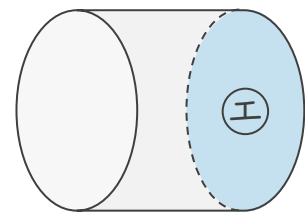
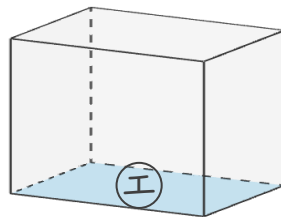
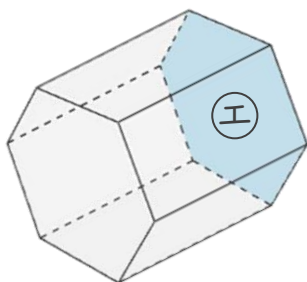
ウ



① 次の表に合う数や言葉を書き、表を完成させましょう。

	ア	イ	ウ
立体の名前	六角柱	四角柱	
側面の数	6		
底面の形	六角形		

② ㊦の面と平行な面に色をぬりましょう。





# 角柱と円柱 6

● 角柱と円柱の特ちょう

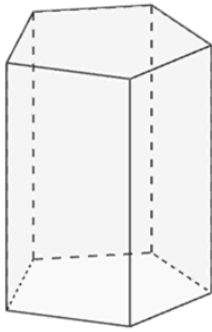


日にち：            月            日

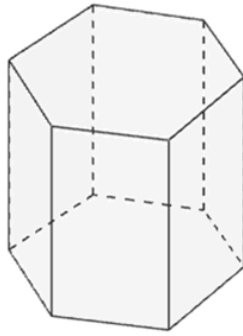
名まえ \_\_\_\_\_

・ 図を見て次の問いに答えましょう。（うすい字はなぞりましょう。）

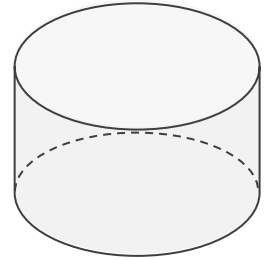
ア



イ



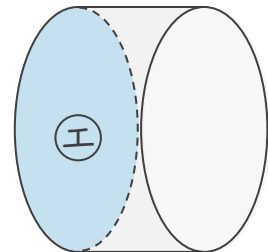
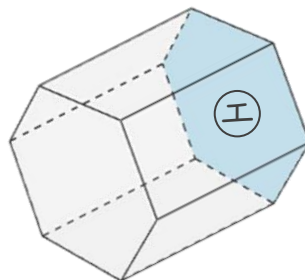
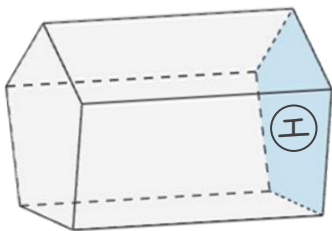
ウ



① 次の表に合う数や言葉を書き、表を完成させましょう。

	ア	イ	ウ
立体の名前	五角柱		
側面の数			
底面の形			

② ㊦の面と平行な面に色をぬりましょう。





# 角柱と円柱 ⑥

● 角柱と円柱の特ちょう

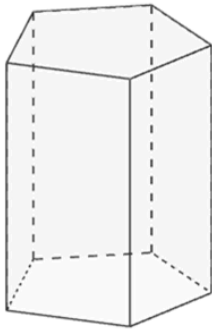


日にち：            月            日

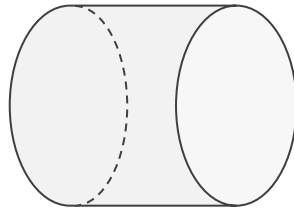
名まえ \_\_\_\_\_

・ 図を見て次の問いに答えましょう。

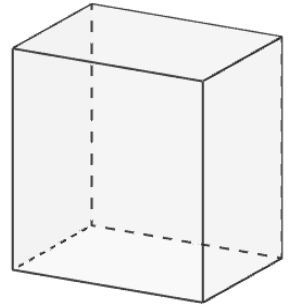
ア



イ



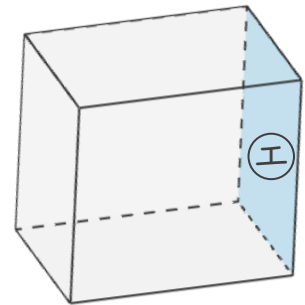
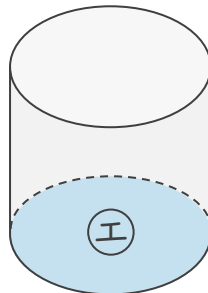
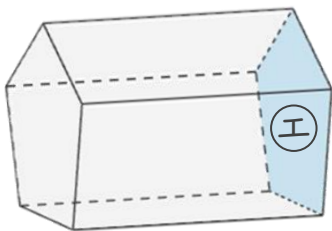
ウ



① 次の表に合う数や言葉を書き、表を完成させましょう。

	ア	イ	ウ
立体の名前			
側面の数			
底面の形			

② ①の面と平行な面に色をぬりましょう。





# 角柱と円柱 6

● 角柱と円柱の特ちょう

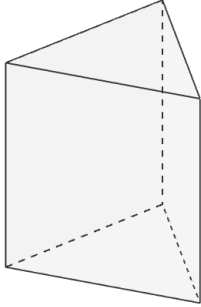


日にち：            月            日

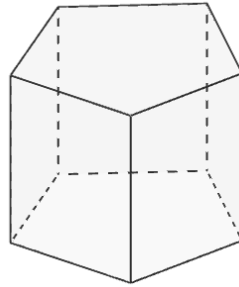
名まえ \_\_\_\_\_

・ 図を見て次の問いに答えましょう。

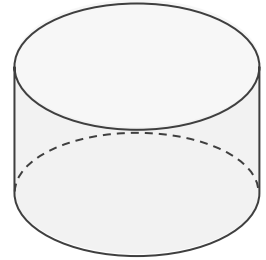
ア



イ



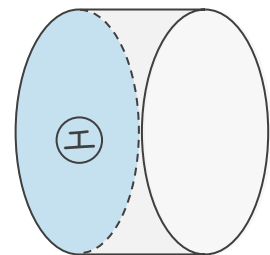
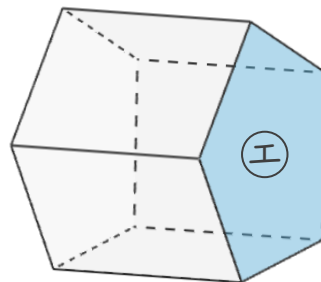
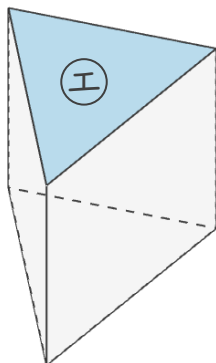
ウ



① 次の表に合う数や言葉を書き、表を完成させましょう。

	ア	イ	ウ
立体の名前			
側面の数			
底面の形			

② ①の面と平行な面に色をぬりましょう。





# 角柱と円柱 6

● 角柱と円柱の特ちょう

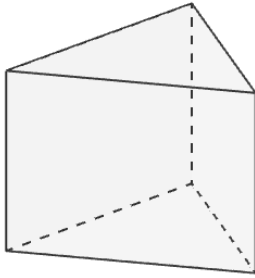


日にち：            月            日

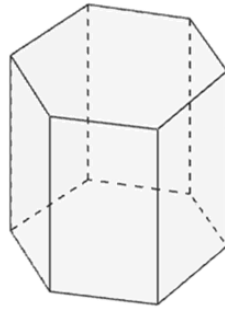
名まえ \_\_\_\_\_

・ 図を見て次の問いに答えましょう。

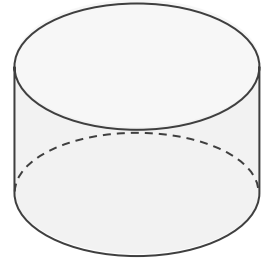
ア



イ



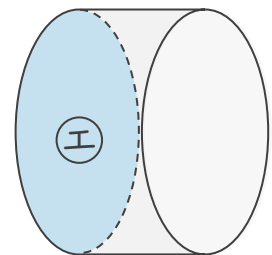
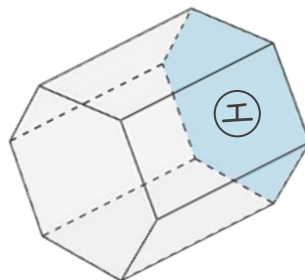
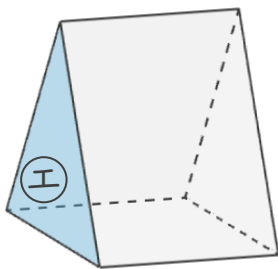
ウ



① 次の表に合う数や言葉を書き、表を完成させましょう。

	ア	イ	ウ
立体の名前			
側面の数			
底面の形			

② ㊦の面と平行な面に色をぬりましょう。





# 角柱と円柱 6

● 角柱と円柱の特ちょう

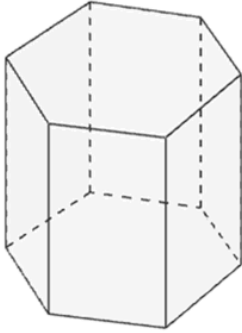


日にち：            月            日

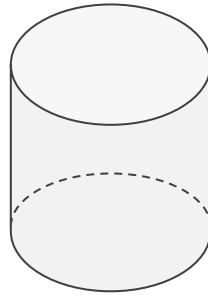
名まえ \_\_\_\_\_

・ 図を見て次の問いに答えましょう。

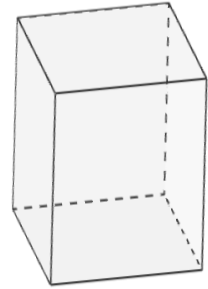
ア



イ



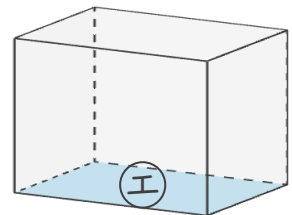
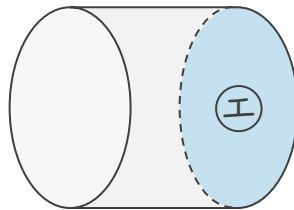
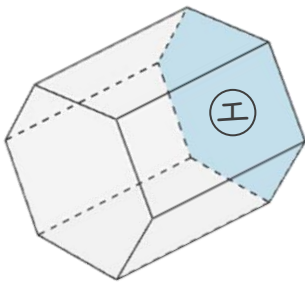
ウ



① 次の表に合う数や言葉を書き、表を完成させましょう。

	ア	イ	ウ
立体の名前			
側面の数			
底面の形			

② ㊦の面と平行な面に色をぬりましょう。





# 角柱と円柱 6

● 角柱と円柱の特ちょう

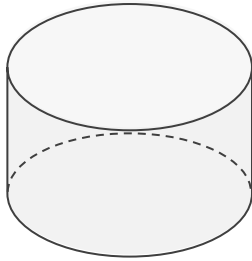


日にち：            月            日

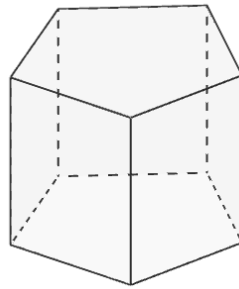
名まえ \_\_\_\_\_

・ 図を見て次の問いに答えましょう。

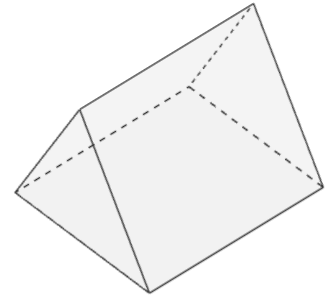
ア



イ



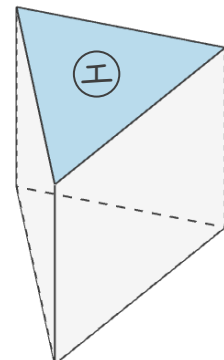
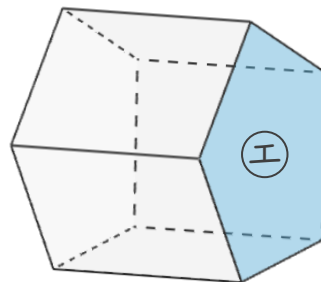
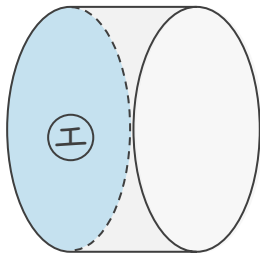
ウ



① 次の表に合う数や言葉を書き、表を完成させましょう。

	ア	イ	ウ
立体の名前			
側面の数			
底面の形			

② ①の面と平行な面に色をぬりましょう。







# 角柱と円柱 6

● 角柱と円柱の特ちょう

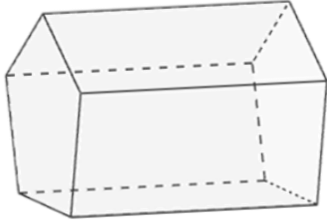


日にち：            月            日

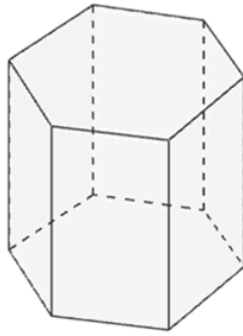
名まえ \_\_\_\_\_

・ 図を見て次の問いに答えましょう。

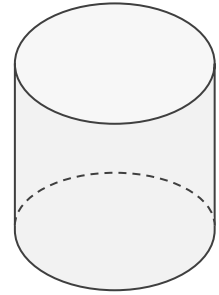
ア



イ



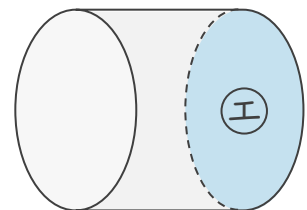
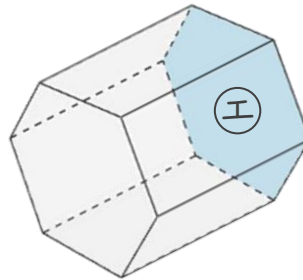
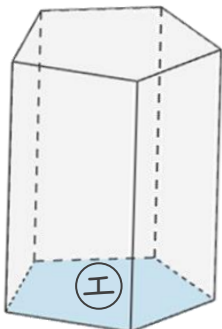
ウ



① 次の表に合う数や言葉を書き、表を完成させましょう。

	ア	イ	ウ
立体の名前			
側面の数			
底面の形			

② ①の面と平行な面に色をぬりましょう。





# 角柱と円柱 6

● 角柱と円柱の特ちょう

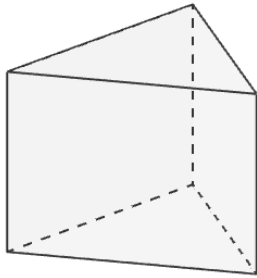


日にち：            月            日

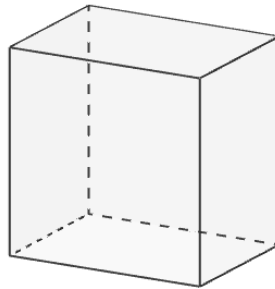
名まえ \_\_\_\_\_

・ 図を見て次の問いに答えましょう。（うすい字はなぞりましょう。）

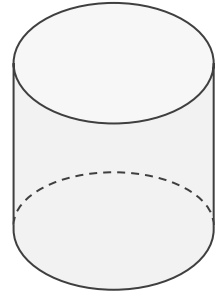
ア



イ



ウ

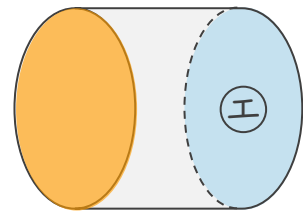
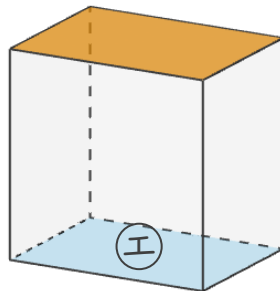
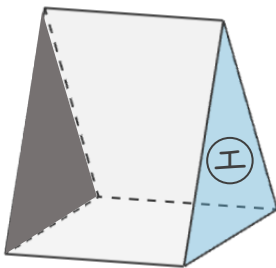


① 次の表に合う数や言葉を書き、表を完成させましょう。

	ア	イ	ウ
立体の名前	三角柱	四角柱	円柱
側面の数	3	4	1
底面の形	三角形	四角形	円

② ①の面と平行な面に色をぬりましょう。

(例)





# 角柱と円柱 6

● 角柱と円柱の特ちょう

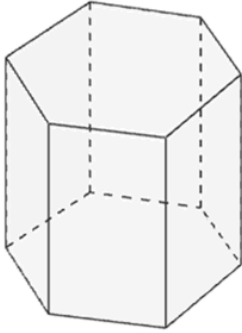


日にち：            月            日

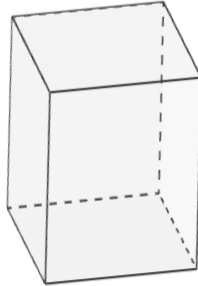
名まえ \_\_\_\_\_

・ 図を見て次の問いに答えましょう。（うすい字はなぞりましょう。）

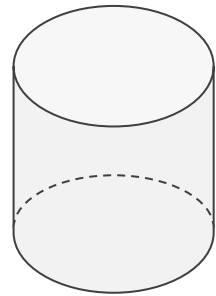
ア



イ



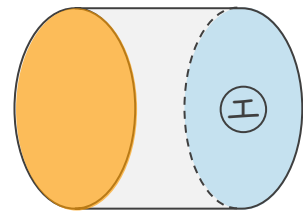
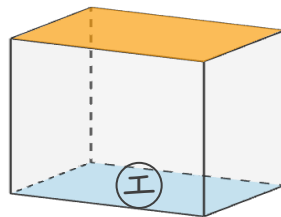
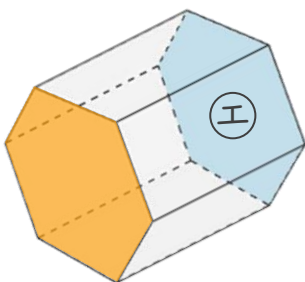
ウ



① 次の表に合う数や言葉を書き、表を完成させましょう。

	ア	イ	ウ
立体の名前	六角柱	四角柱	円柱
側面の数	6	4	1
底面の形	六角形	四角形	円

② ①の面と平行な面に色をぬりましょう。





# 角柱と円柱 6

● 角柱と円柱の特ちょう

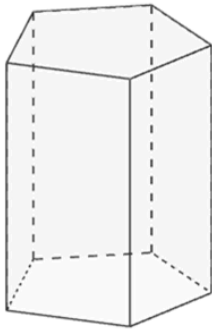


日にち：            月            日

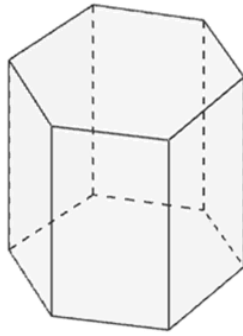
名まえ \_\_\_\_\_

・ 図を見て次の問いに答えましょう。（うすい字はなぞりましょう。）

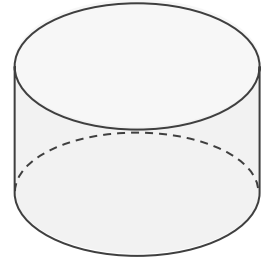
ア



イ



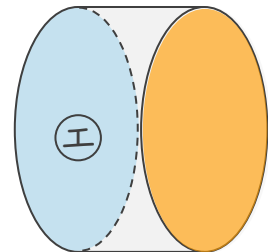
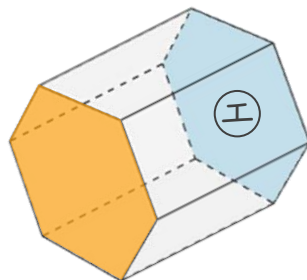
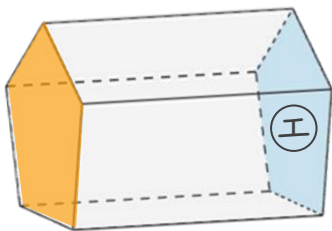
ウ



① 次の表に合う数や言葉を書き、表を完成させましょう。

	ア	イ	ウ
立体の名前	五角柱	六角柱	円柱
側面の数	5	6	1
底面の形	五角形	六角形	円

② ㊦の面と平行な面に色をぬりましょう。





# 角柱と円柱 6

● 角柱と円柱の特ちょう

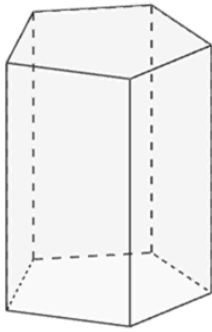


日にち：            月            日

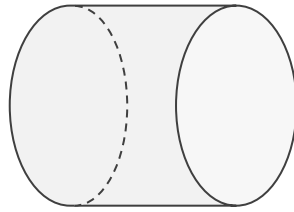
名まえ \_\_\_\_\_

・ 図を見て次の問いに答えましょう。

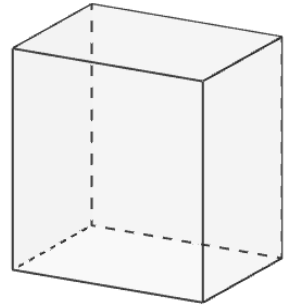
ア



イ



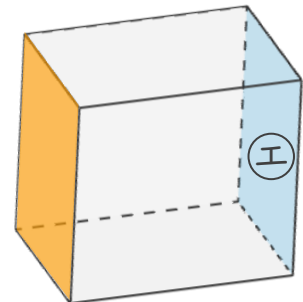
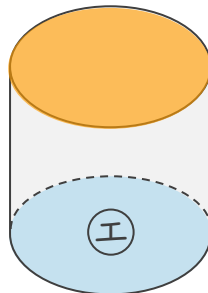
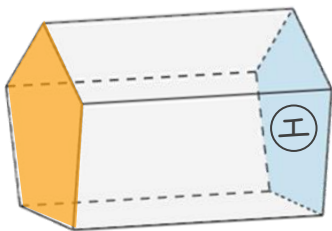
ウ



① 次の表に合う数や言葉を書き、表を完成させましょう。

	ア	イ	ウ
立体の名前	五角柱	円柱	四角柱
側面の数	5	1	4
底面の形	五角形	円	四角形

② ㊦の面と平行な面に色をぬりましょう。





# 角柱と円柱 6

● 角柱と円柱の特ちょう

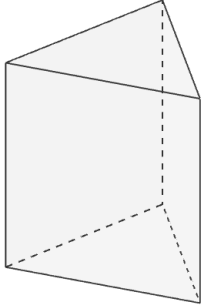


日にち：            月            日

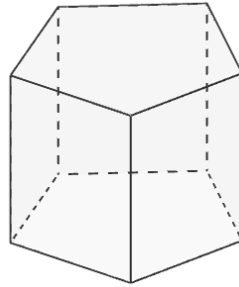
名まえ \_\_\_\_\_

・ 図を見て次の問いに答えましょう。

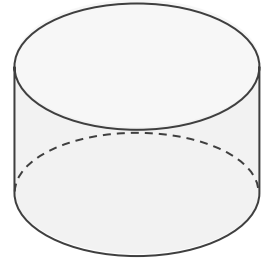
ア



イ



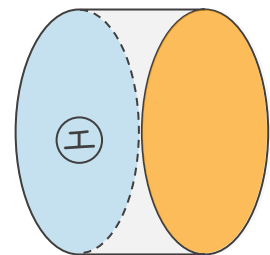
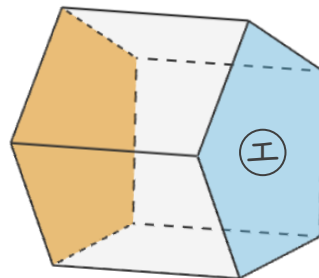
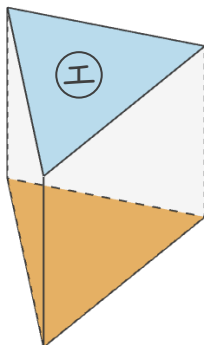
ウ



① 次の表に合う数や言葉を書き、表を完成させましょう。

	ア	イ	ウ
立体の名前	三角柱	五角柱	円柱
側面の数	3	5	1
底面の形	三角形	五角形	円

② ①の面と平行な面に色をぬりましょう。





# 角柱と円柱 6

● 角柱と円柱の特ちょう

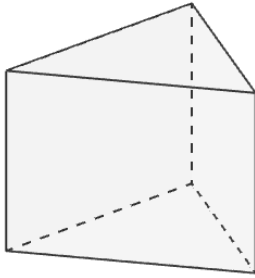


日にち：            月            日

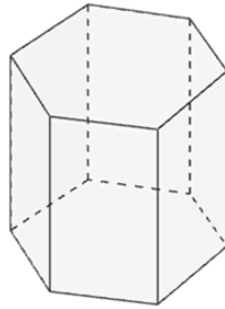
名まえ \_\_\_\_\_

・ 図を見て次の問いに答えましょう。

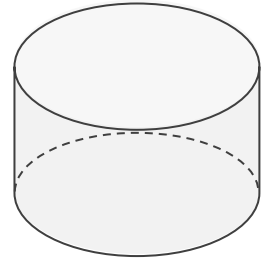
ア



イ



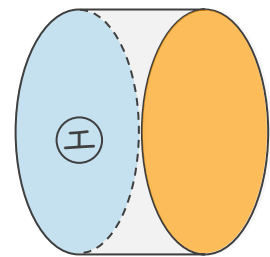
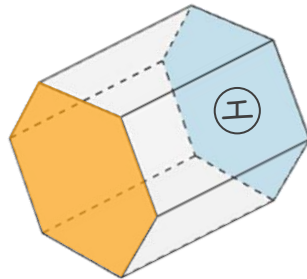
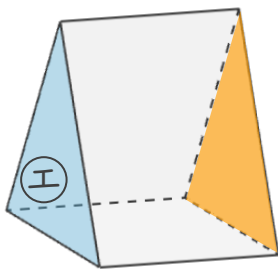
ウ



① 次の表に合う数や言葉を書き、表を完成させましょう。

	ア	イ	ウ
立体の名前	三角柱	六角柱	円柱
側面の数	3	6	1
底面の形	三角形	六角形	円

② ㊦の面と平行な面に色をぬりましょう。





# 角柱と円柱 6

● 角柱と円柱の特ちょう

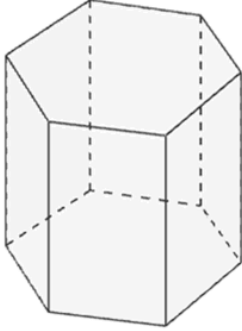


日にち：            月            日

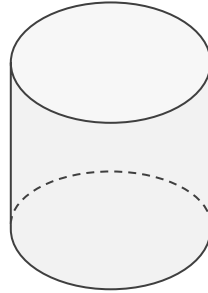
名まえ \_\_\_\_\_

・ 図を見て次の問いに答えましょう。

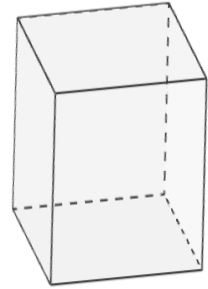
ア



イ



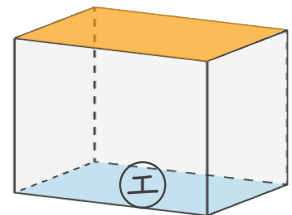
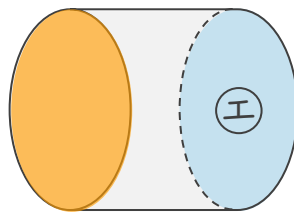
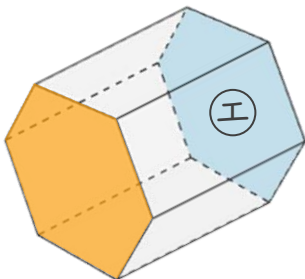
ウ



① 次の表に合う数や言葉を書き、表を完成させましょう。

	ア	イ	ウ
立体の名前	六角柱	円柱	四角柱
側面の数	6	1	4
底面の形	六角形	円	四角形

② ①の面と平行な面に色をぬりましょう。







# 角柱と円柱 6

● 角柱と円柱の特ちょう

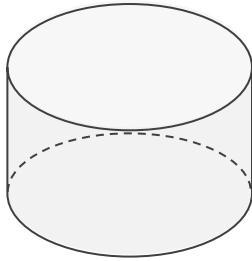


日にち：            月            日

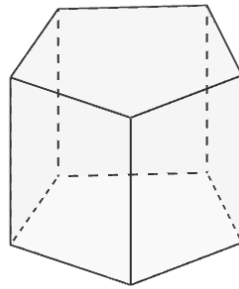
名まえ \_\_\_\_\_

・ 図を見て次の問いに答えましょう。

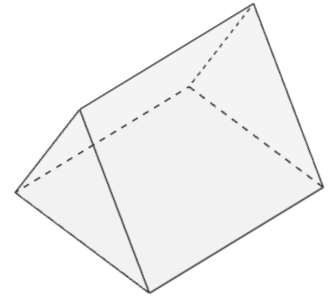
ア



イ



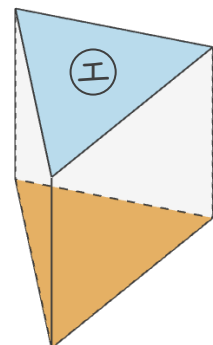
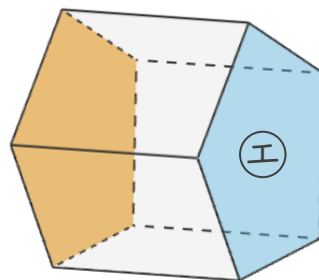
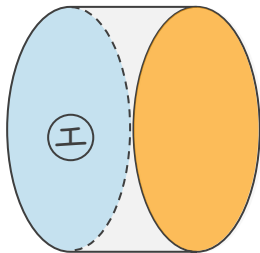
ウ



① 次の表に合う数や言葉を書き、表を完成させましょう。

	ア	イ	ウ
立体の名前	円柱	五角柱	三角柱
側面の数	1	5	3
底面の形	円	五角形	三角形

② ①の面と平行な面に色をぬりましょう。





# 角柱と円柱 6

● 角柱と円柱の特ちょう

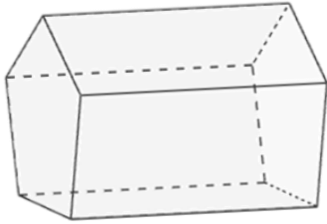


日にち：            月            日

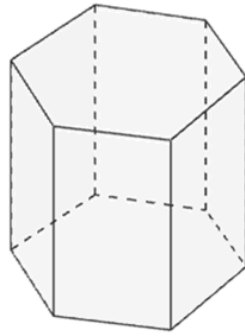
名まえ \_\_\_\_\_

・ 図を見て次の問いに答えましょう。

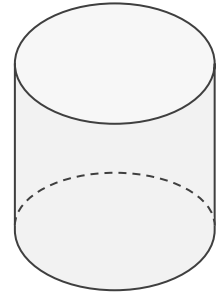
ア



イ



ウ



① 次の表に合う数や言葉を書き、表を完成させましょう。

	ア	イ	ウ
立体の名前	五角柱	六角柱	円柱
側面の数	5	6	1
底面の形	五角形	六角形	円

② ①の面と平行な面に色をぬりましょう。

