

# 整数と小数5

◎ 色々な大きさの小数



日にち： 月 日

名まえ

・ 次のア～エの数について、次の問いに答えましょう

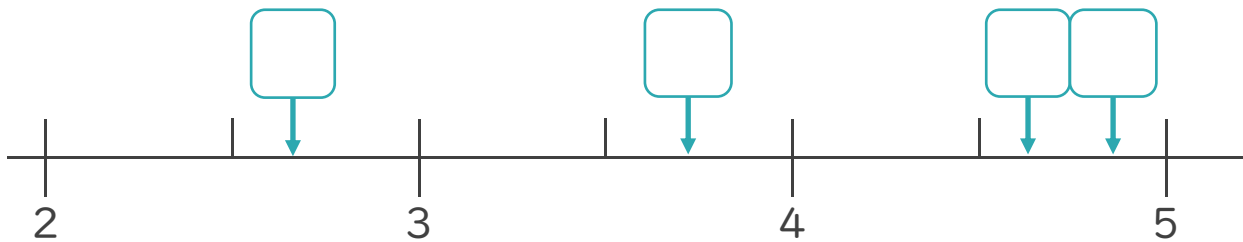
ア 4.89                      イ 2.692

ウ 4.623                    エ 3.8

① それぞれの数を右の表に書き込もう

② 次の数直線の  にあてはまる数をア～エから書き込みましょう。

	一の位	$\frac{1}{10}$ の位	$\frac{1}{100}$ の位	$\frac{1}{1000}$ の位
ア				
イ				
ウ				
エ				



③ いちばん小さい数はいくつですか。


答え： \_\_\_\_\_

④ いちばん大きい数はいくつですか。

答え： \_\_\_\_\_

⑤ いちばん4に近い数はいくつですか。

答え： \_\_\_\_\_



# 整数と小数5

◎ 色々な大きさの小数



日にち： 月 日

名まえ

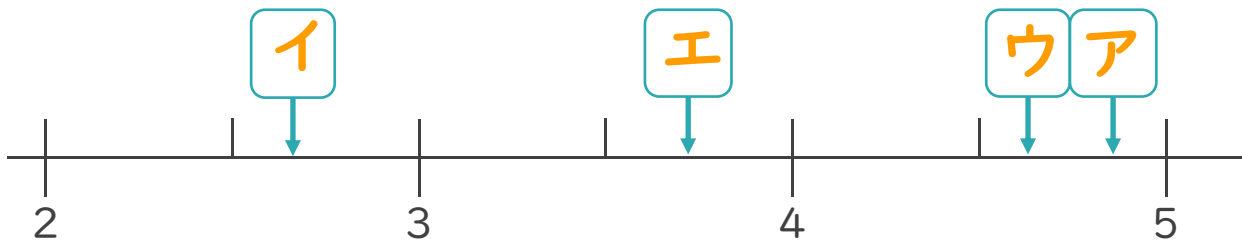
・ 次のア～エの数について、次の問いに答えましょう

ア 4.89                      イ 2.692  
 ウ 4.623                    エ 3.8

	一の位	$\frac{1}{10}$ の位	$\frac{1}{100}$ の位	$\frac{1}{1000}$ の位
ア	4	8	9	
イ	2	6	9	2
ウ	4	6	2	3
エ	3	8		

① それぞれの数を右の表に書き込もう

② 次の数直線の  にあてはまる数をア～エから書き込みましょう。



③ いちばん小さい数はいくつですか。

答え： イ

④ いちばん大きい数はいくつですか。

答え： ア

⑤ いちばん4に近い数はいくつですか。

答え： エ