

# 整数と小数5

◎ 色々な大きさの小数



日にち： 月 日

名まえ

・ 次のア～エの数について、次の問いに答えましょう

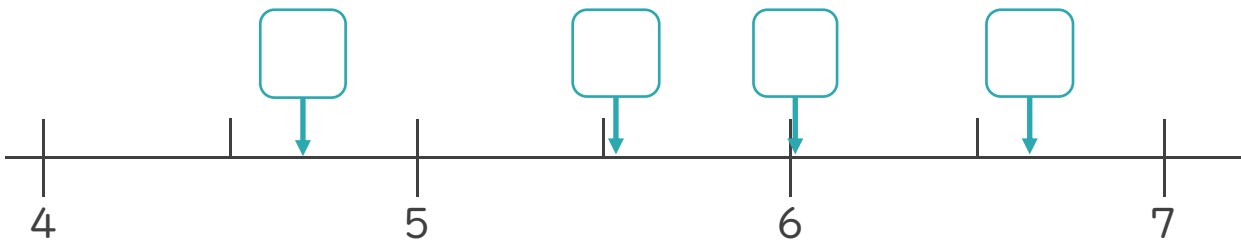
ア 5.512                      イ 6.626

ウ 4.7                              エ 6.02

① それぞれの数を右の表に書き込もう

② 次の数直線の  にあてはまる数をア～エから書き込みましょう。

	一の位	$\frac{1}{10}$ の位	$\frac{1}{100}$ の位	$\frac{1}{1000}$ の位
ア				
イ				
ウ				
エ				



③ いちばん小さい数はいくつですか。


答え： \_\_\_\_\_

④ いちばん大きい数はいくつですか。

答え： \_\_\_\_\_

⑤ いちばん6に近い数はいくつですか。

答え： \_\_\_\_\_



# 整数と小数5

◎ 色々な大きさの小数



日にち： 月 日

名まえ

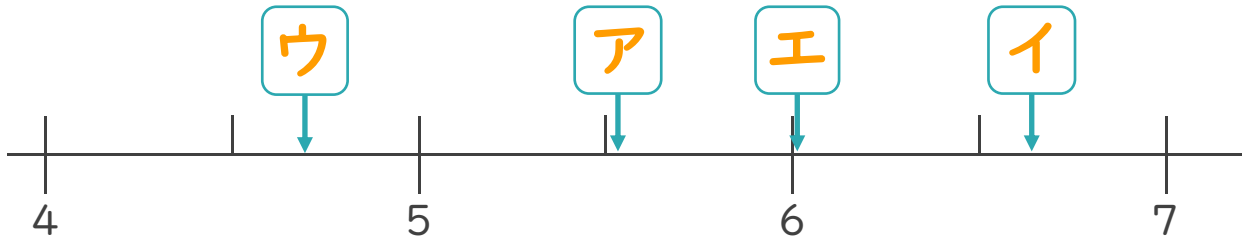
・ 次のア～エの数について、次の問いに答えましょう

ア 5.512                      イ 6.626  
 ウ 4.7                              エ 6.02

	一の位	$\frac{1}{10}$ の位	$\frac{1}{100}$ の位	$\frac{1}{1000}$ の位
ア	5	5	1	2
イ	6	6	2	6
ウ	4	7		
エ	6	0	2	

① それぞれの数を右の表に書き込もう

② 次の数直線の  にあてはまる数をア～エから書き込みましょう。



③ いちばん小さい数はいくつですか。

答え： ウ

④ いちばん大きい数はいくつですか。

答え： イ

⑤ いちばん6に近い数はいくつですか。

答え： エ