

小数のかけ算 16

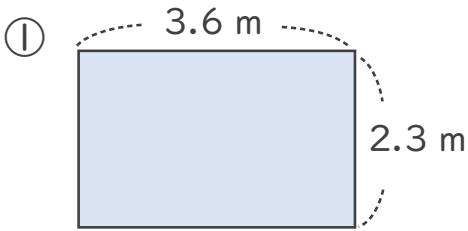
◎ 長方形の面積



日にち： 月 日

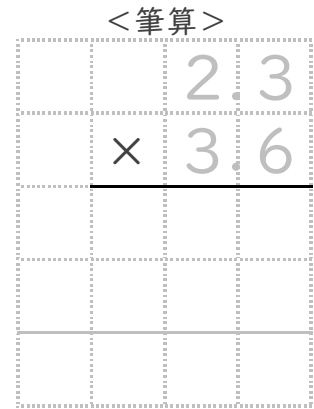
名まえ _____

・ 次の長方形の面積は何㎡でしょうか。

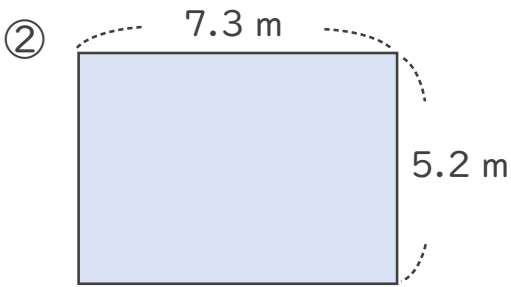


式： たて よこ 面積

$$\boxed{2.3} \times \boxed{3.6} = \boxed{}$$

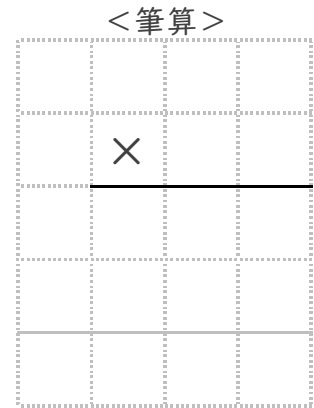


答え： _____ m^2




式： たて よこ 面積

$$\boxed{} \times \boxed{} = \boxed{}$$



答え： _____ m^2





小数のかけ算 16

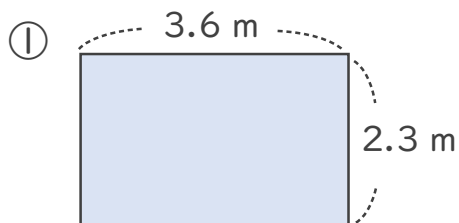
◎ 長方形の面積



日にち： 月 日

名まえ _____

・次の長方形の面積は何㎡でしょうか。

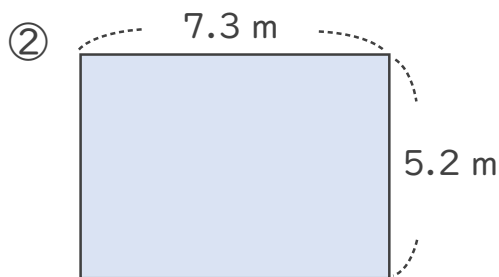


式： $\begin{matrix} \text{たて} \\ 2.3 \end{matrix} \times \begin{matrix} \text{よこ} \\ 3.6 \end{matrix} = \begin{matrix} \text{面積} \\ 8.28 \end{matrix}$

<筆算>

		2.3
	×	3.6
		138
		69
		8.28

答え： 8.28 ㎡



式： $\begin{matrix} \text{たて} \\ 5.2 \end{matrix} \times \begin{matrix} \text{よこ} \\ 7.3 \end{matrix} = \begin{matrix} \text{面積} \\ 37.96 \end{matrix}$

<筆算>

		5.2
	×	7.3
		156
		364
		37.96

答え： 37.96 ㎡

