



小数のわり算 18

㊦ あまりのあるわり算
(商が整数)

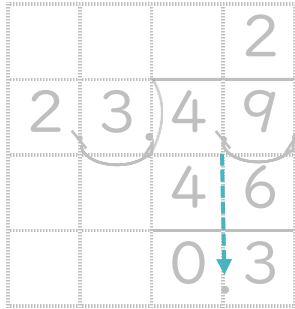


日にち： 月 日

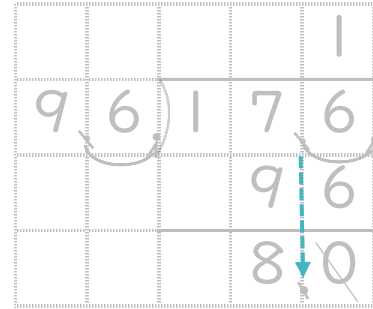
名まえ _____

- ・ 商は一の位まで求めて、あまりも出しましょう。
(うすい字は、なぞりましょう。)


① $4.9 \div 2.3$



② $17.6 \div 9.6$



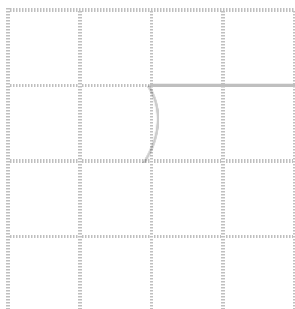
③ $82.5 \div 2.3$




④ $83.7 \div 3.9$



⑤ $7.1 \div 3.3$



⑥ $9.3 \div 2.9$





小数のわり算 18

㊦ あまりのあるわり算
(商が整数)

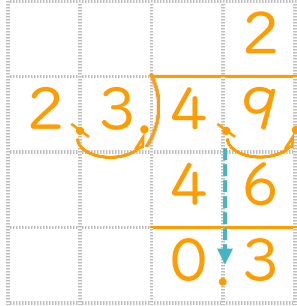


日にち： 月 日

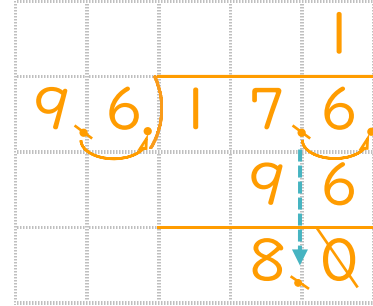
名まえ _____

- 商は一の位まで求めて、あまりも出しましょう。
(うすい字は、なぞりましょう。)

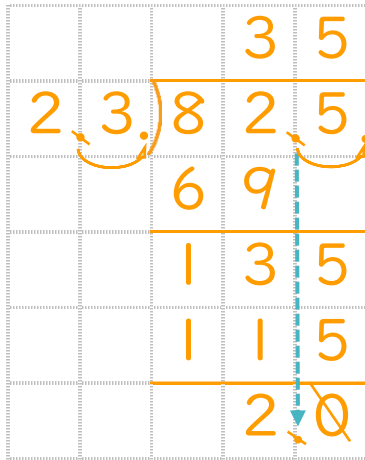
① $4.9 \div 2.3$



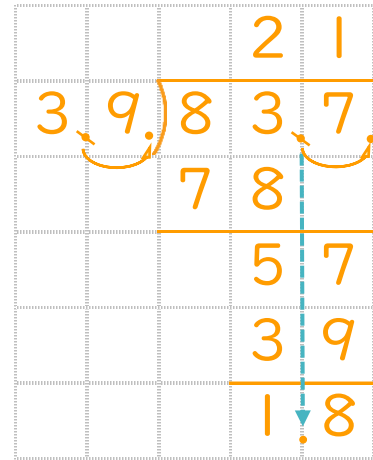
② $17.6 \div 9.6$



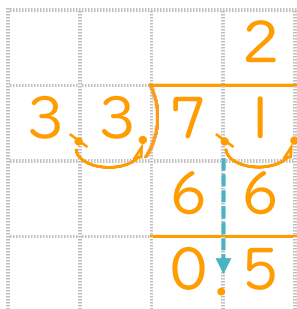
③ $82.5 \div 2.3$



④ $83.7 \div 3.9$



⑤ $7.1 \div 3.3$



⑥ $9.3 \div 2.9$

