

小数の倍とわり算2

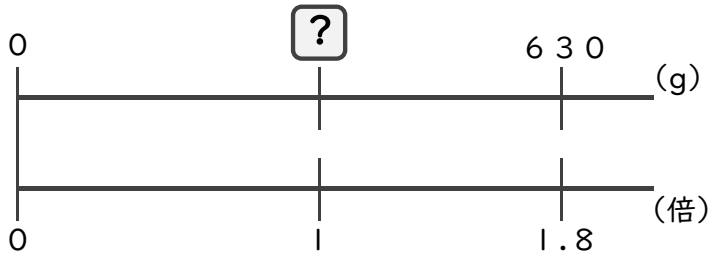
◎もとにする数を求める文章題



日にち： 月 日
名まえ _____

・次の問いに答えましょう。(うすい字は、しっかりなぞりましょう)

1 レナさんの家には生後10日の犬がいます。今の体重は630gで
生まれたときの体重の1.8倍です。生まれた時の体重は何gでしたか。



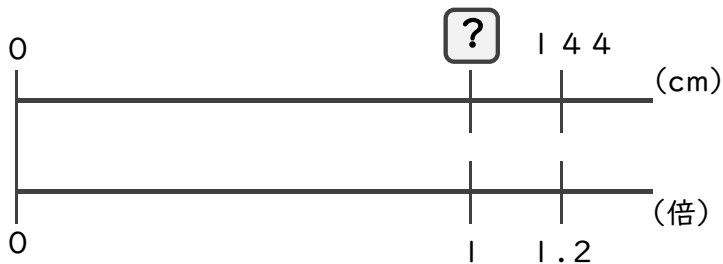
× 1.8 = 630

= 630 ÷ 1.8

=

答え： _____ 9

2 ひろし君は妹と身長を測りました。ひろし君の身長は144cmで、妹の身長の
1.2倍でした。妹の身長は何cmですか。




× 1.2 = 144

= ÷

=

答え： _____



小数の倍とわり算2

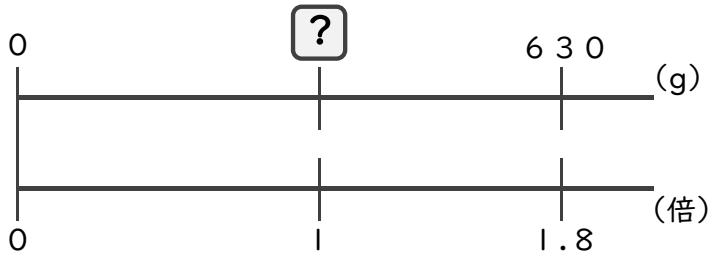
◎もとにする数を求める文章題



日にち： 月 日
名まえ _____

・次の問いに答えましょう。(うすい字は、しっかりなぞりましょう)

1 レナさんの家には生後10日の犬がいます。今の体重は630gで
生まれたときの体重の1.8倍です。生まれたときの体重は何gでしたか。



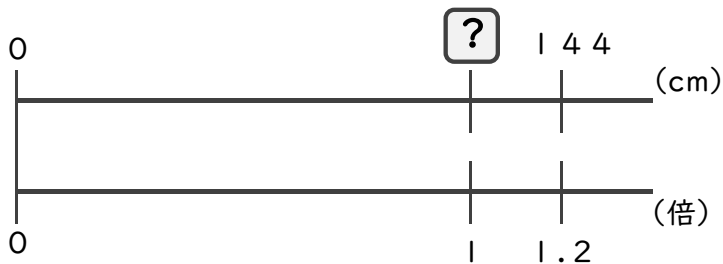
$$\square \times 1.8 = 630$$

$$\square = 630 \div 1.8$$

$$\square = 350$$

答え： 350 g

2 ひろし君は妹と身長を測りました。ひろし君の身長は144cmで、妹の身長の
1.2倍でした。妹の身長は何cmですか。



$$\square \times 1.2 = 144$$

$$\square = 144 \div 1.2$$

$$\square = 120$$

答え： 120 cm