



割合 8

● もとにする量・割合・
比べられる量を見分ける




日にち： 月 日

名まえ _____

次の文について、問題に答えましょう。（うすい字はなぞりましょう。）

100cm の 30% は、30cm です。

100cmの30%



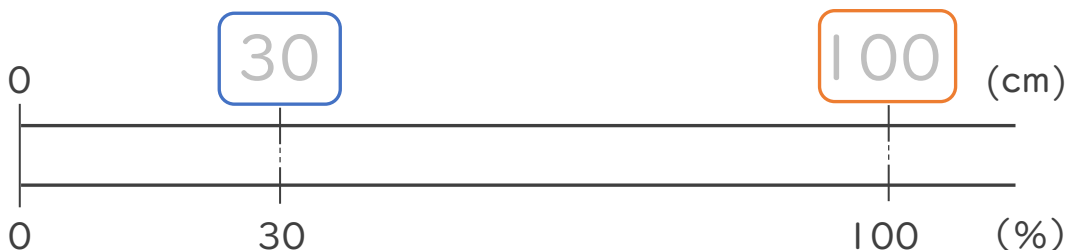
① 上の文で、もとにする量、^{りょう}比べられる量、^{くら}割合は、それぞれ何ですか。

もとにする量・・・ (100cm)

比べられる量・・・ (30cm)

割合・・・ (30%)

② 下の図で、□にあてはまる数を書きましょう。



③ 次の□にあてはまる言葉を書きましょう。

割合 = 比べられる量 ÷ もとにする量





割合 8

● もとにする量・割合・
比べられる量を見分ける




日にち： 月 日

名まえ _____

次の文について、問題に答えましょう。（うすい字はなぞりましょう。）

100cm の 30% は、30cm です。

100cmの30%



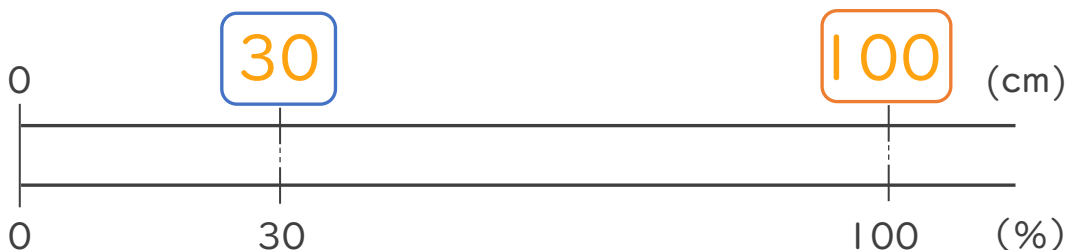
① 上の文で、もとにする量、^{りょう}比べられる量、^{わりあい}割合は、それぞれ何ですか。

もとにする量・・・ (100cm)

比べられる量・・・ (30cm)

割合・・・ (30%)

② 下の図で、□にあてはまる数を書きましょう。



③ 次の□にあてはまる言葉を書きましょう。

割合 = 比べられる量 ÷ もとにする量

