



小数の倍3

㊦ リボンを小数倍した長さ

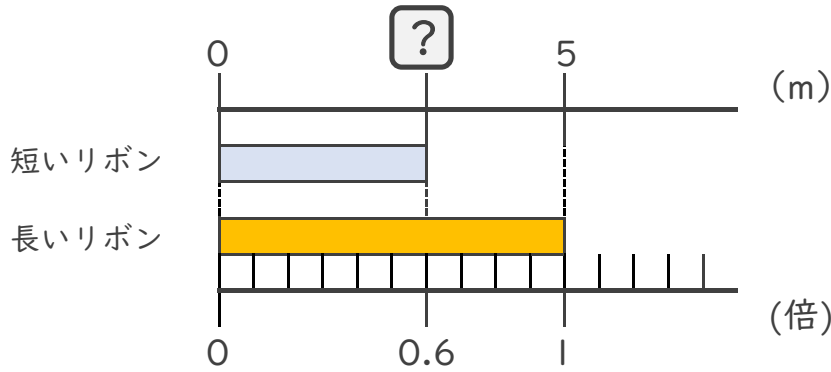


日にち： 月 日

名まえ _____

・ 次の問いに答えましょう。

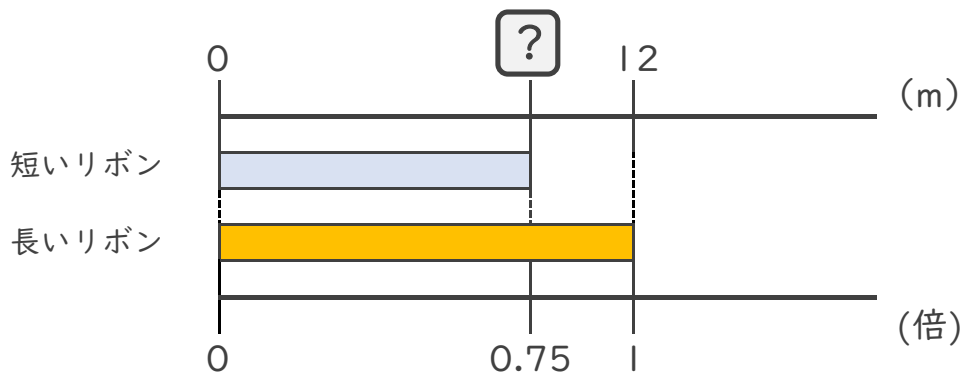
- ① 短いリボンは長いリボンの0.6倍の長さです。
 短いリボンの長さをもとめましょう。



式： $5 \times 0.6 =$

答え： m

- ② 短いリボンは長いリボンの0.75倍の長さです。
 短いリボンの長さをもとめましょう。



式： $12 \times 0.75 =$

答え：





小数の倍3

㊦ リボンを小数倍した長さ

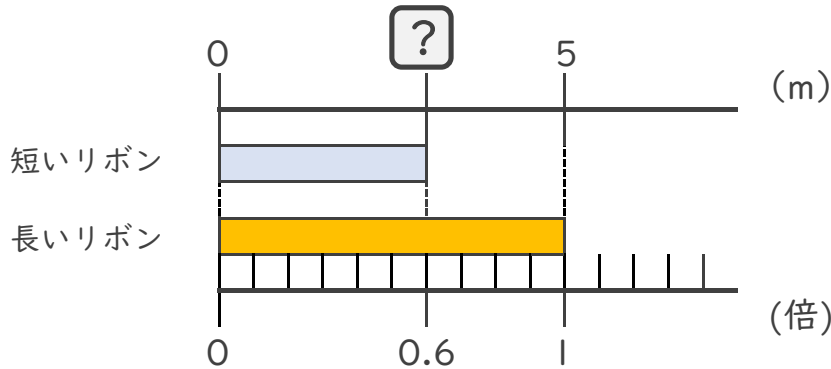


日にち： 月 日

名まえ _____

・ 次の問いに答えましょう。

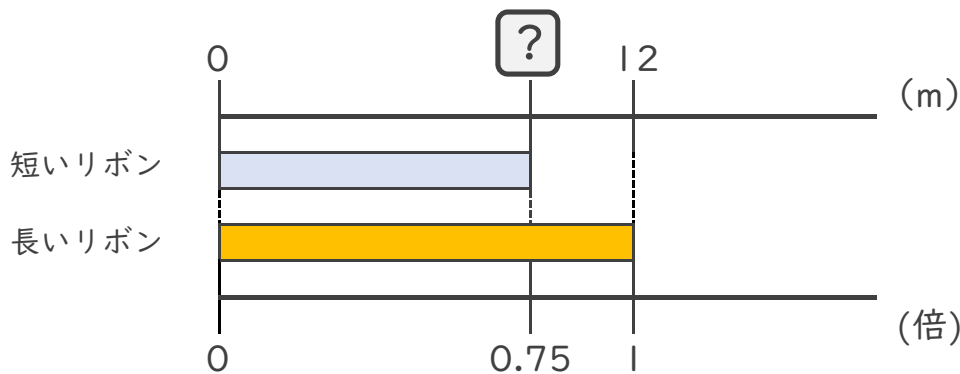
- ① 短いリボンは長いリボンの0.6倍の長さです。
 短いリボンの長さをもとめましょう。



式： $5 \times 0.6 = 3$

答え： 3m

- ② 短いリボンは長いリボンの0.75倍の長さです。
 短いリボンの長さをもとめましょう。



式： $12 \times 0.75 = 9$

答え： 9m

