

小数の倍とわり算3


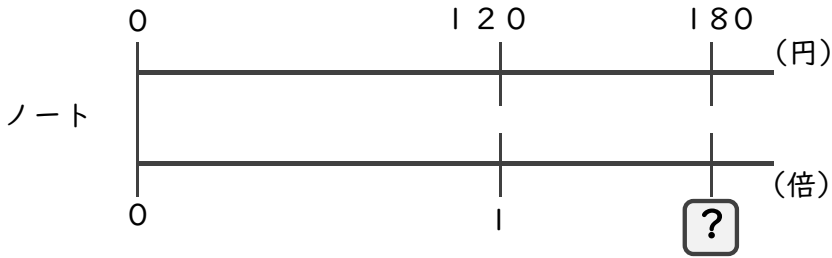
◎上がり方(何倍か)を比べる



日にち： 月 日
名まえ _____

・次の問いに答えましょう。(うすい字は、しっかりなぞりましょう)

あるノートと筆箱があります。この10年間でノートは120円から180円へ、筆箱は1500円から1800円へ値上がりしました。ねだんの上がり方はどちらの方が大きいと言えるでしょう。



① ノートのねだんは、10年間で何倍になっていますか。

式： $180 \div 120 =$

答え： _____

② 筆箱のねだんは、10年間で何倍になっていますか。

式： $1800 \div 1500 =$

答え： _____

③ ねだんの上がり方はどちらの方が大きいですか。

答え： _____



小数の倍とわり算3


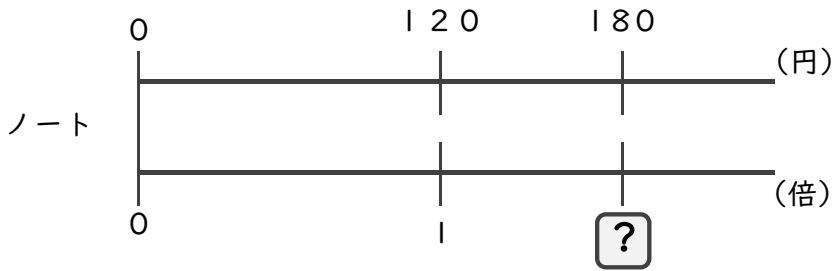
◎上がり方(何倍か)を比べる



日にち： 月 日
名まえ _____

・次の問いに答えましょう。(うすい字は、しっかりなぞりましょう)

あるノートと筆箱があります。この10年間でノートは120円から180円へ、筆箱は1500円から1800円へ値上がりしました。ねだんの上がり方はどちらの方が大きいと言えるでしょう。



① ノートのねだんは、10年間で何倍になっていますか。

式： $180 \div 120 = 1.5$

答え： 1.5 倍

② 筆箱のねだんは、10年間で何倍になっていますか。

式： $1800 \div 1500 = 1.2$

答え： 1.2 倍

③ ねだんの上がり方はどちらの方が大きいですか。

答え： ノート