



# 小数の倍 4

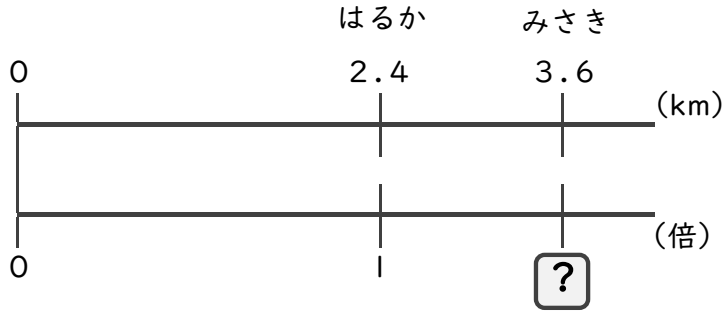
何倍かを求める文章題



日にち： 月 日  
名まえ

・次の問いに答えましょう。(うすい字は、しっかりなぞりましょう)

1 はるかさんの家から駅までの道のりは2.4 km、みさきさんの家から駅までの道のりは3.6 kmあります。はるかさんの道のりをもとにすると、みさきさんの道のりは何倍ですか。



式： 2.4 ×  = 3.6

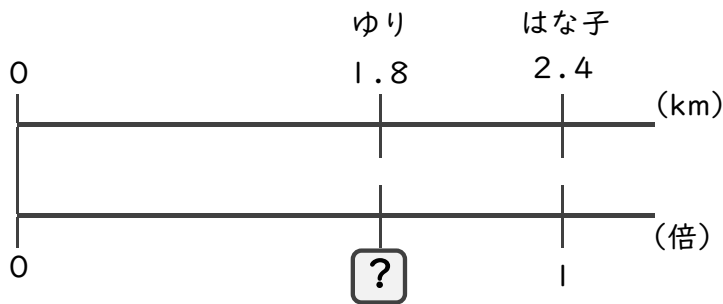
= 3.6 ÷ 2.4

=

答え： \_\_\_\_\_ 倍

2 はな子さんはリボンを2.4 m、ゆりさんは1.8 m持っています。

はな子さんが持っているリボンをもとにすると、ゆりさんが持っているリボンの長さは何倍ですか。



式： 2.4 ×  = 1.8

= \_\_\_\_\_ ÷

=

答え： \_\_\_\_\_



# 小数の倍 4

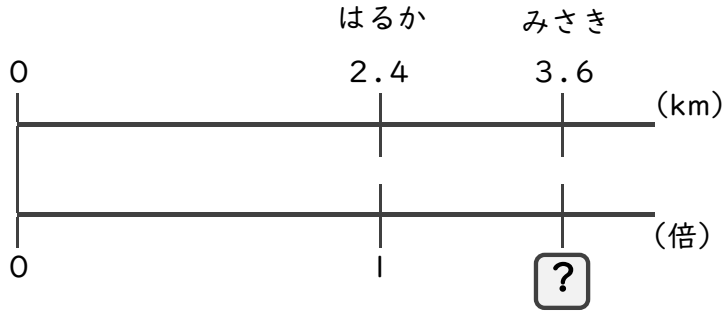
何倍かを求める文章題



日にち： 月 日  
名まえ

・次の問いに答えましょう。(うすい字は、しっかりなぞりましょう)

1 はるかさんの家から駅までの道のりは2.4 km、みさきさんの家から駅までの道のりは3.6 kmあります。はるかさんの道のりをもとにすると、みさきさんの道のりは何倍ですか。



式： 2.4 ×  = 3.6

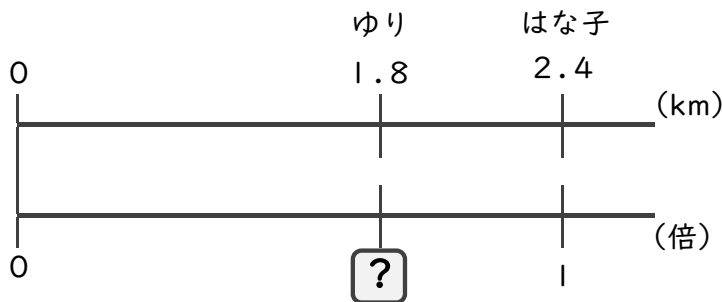
= 3.6 ÷ 2.4

= 1.5

答え： 1.5 倍

2 はな子さんはリボンを2.4 m、ゆりさんは1.8 m持っています。

はな子さんが持っているリボンをもとにすると、ゆりさんが持っているリボンの長さは何倍ですか。



式： 2.4 ×  = 1.8

= 1.8 ÷ 2.4

= 0.75

答え： 0.75 倍