

小数の倍とわり算！

◎ 何倍かを求める文章題

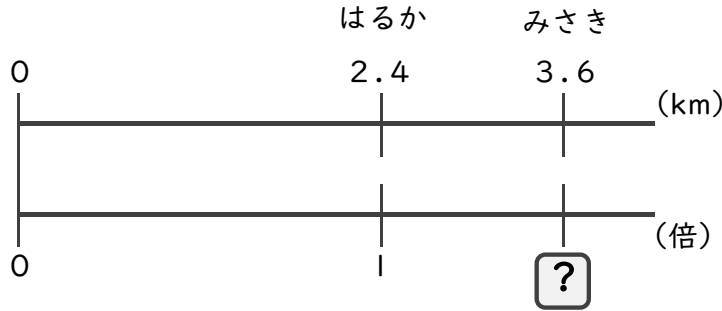


日にち： 月 日

名まえ _____

・ 次の問いに答えましょう。(うすい字は、しっかりなぞりましょう)

1 はるかさんの家から駅までの道のりは2.4 km、みさきさんの家から駅までの道のりは3.6 kmあります。はるかさんの道のりをもとにすると、みさきさんの道のりは何倍ですか。



式： 2.4 × = 3.6

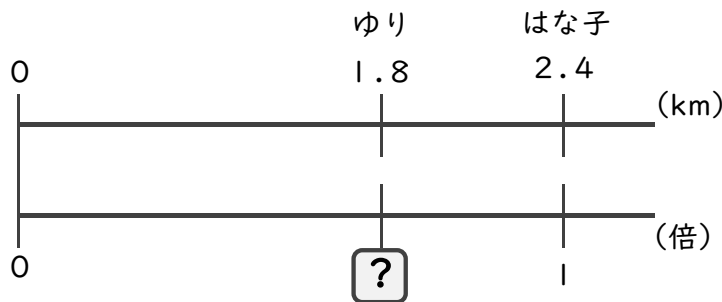
= 3.6 ÷ 2.4

=

答え： _____ 倍

2 はな子さんはリボンを2.4 m、ゆりさんは1.8 m持っています。

はな子さんが持っているリボンをもとにすると、ゆりさんが持っているリボンの長さは何倍ですか。




式： 2.4 × = 1.8

= ÷

=

答え： _____



小数の倍とわり算 I

◎ 何倍かを求める文章題

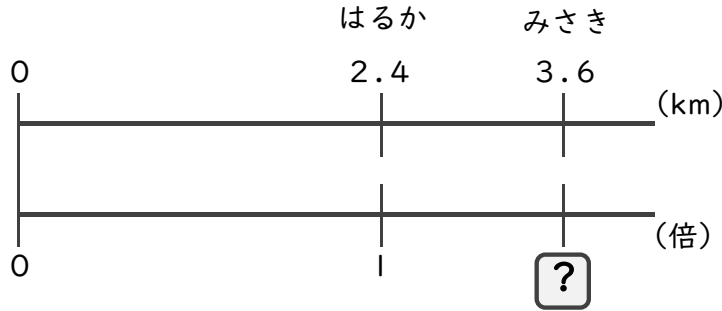


日にち： 月 日

名まえ _____

・ 次の問いに答えましょう。(うすい字は、しっかりなぞりましょう)

1 はるかさんの家から駅までの道のりは2.4 km、みさきさんの家から駅までの道のりは3.6 kmあります。はるかさんの道のりをもとにすると、みさきさんの道のりは何倍ですか。



式： 2.4 × = 3.6

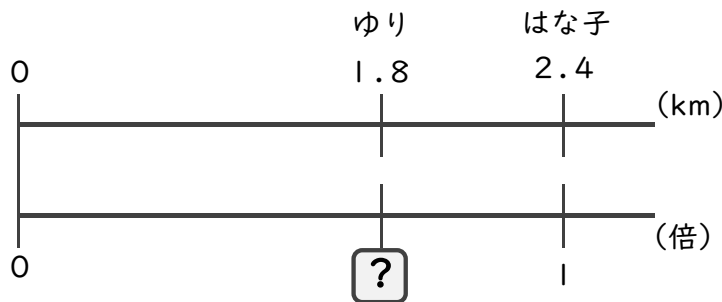
= 3.6 ÷ 2.4

= 1.5

答え： 1.5 倍

2 はな子さんはリボンを2.4 m、ゆりさんは1.8 m持っています。

はな子さんが持っているリボンをもとにすると、ゆりさんが持っているリボンの長さは何倍ですか。



式： 2.4 × = 1.8

= 1.8 ÷ 2.4

= 0.75

答え： 0.75 倍