



割合 9

● 割合（何%か）を求める

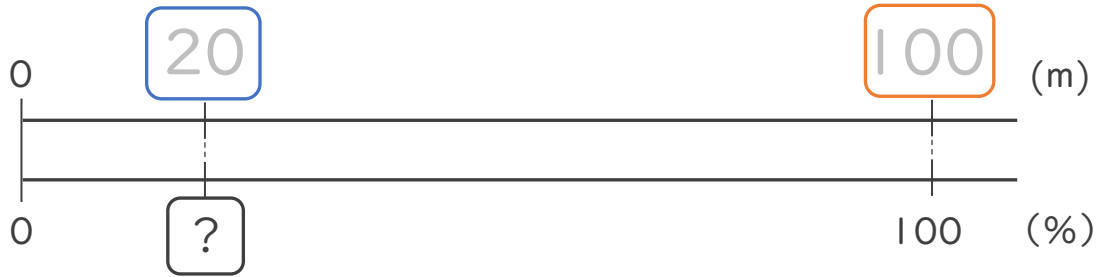


日にち： 月 日

名まえ _____

・次の問いに答えましょう。（うすい字はなぞりましょう。）

① 20mは 100mの 何%ですか。

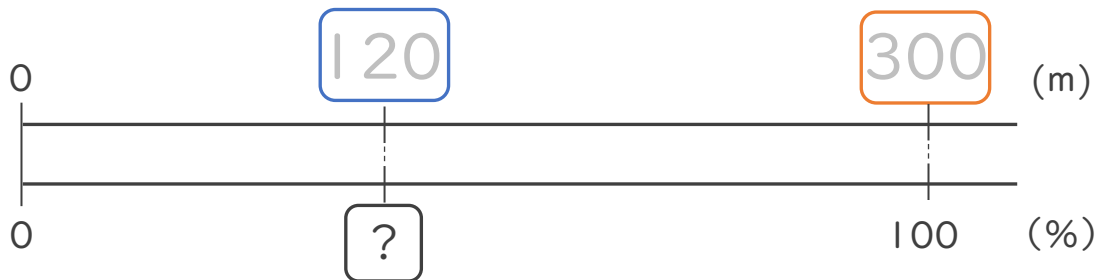


式： $\frac{20}{100} = 0.2$

比べられる量
もとにする量
割合

答え： 20%

② 120mは 300mの 何%ですか。



式： $\frac{\quad}{\quad} = \frac{\quad}{100}$

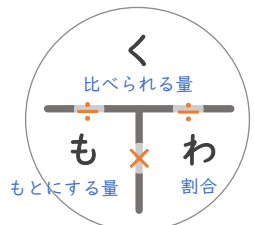
比べられる量
もとにする量
割合

答え： _____

「く・も・わ」で覚えると便利！

比べられる量 ÷ もとにする量 = 割合

で求められるね！





割合 9

● 割合（何%か）を求める

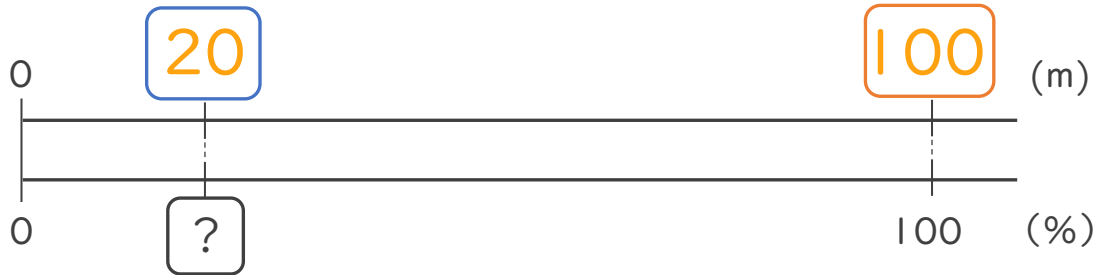


日にち： 月 日

名まえ _____

・次の問いに答えましょう。（うすい字はなぞりましょう。）

① 20mは 100mの 何%ですか。



式： $\frac{20}{100} = 0.2$

比べられる量
もとにする量
割合

答え： 20%

② 120mは 300mの 何%ですか。



式： $\frac{120}{300} = 0.4$

比べられる量
もとにする量
割合

答え： 40%

「く・も・わ」で覚えると便利！

比べられる量 ÷ もとにする量 = 割合

で求められるね！

