



単位量あたりの 大きさ 4

● 単位量から
比べられる量を求める

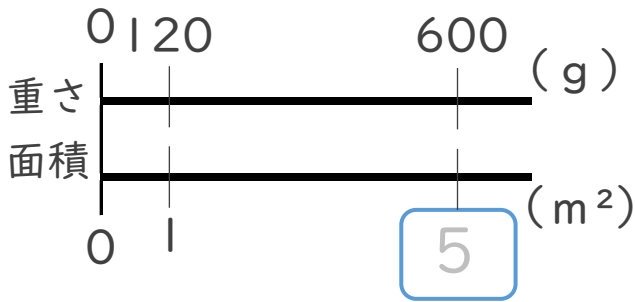


日にち： 月 日

名まえ _____

・ 次の問いに答えなさい。(うすい字はなぞりましょう。)

1 庭園に、 1 m^2 あたり 120 g の肥料をまきます。肥料は 600 g 必要です。
庭園の面積を求めましょう。

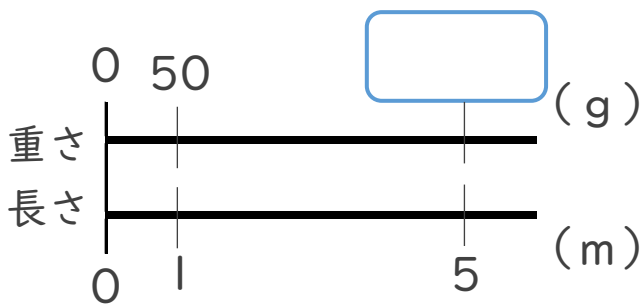


$$\text{式： } 600 \div 120 = 5$$

筆算

答え： 5 m²

2 1 m あたりの重さが 50 g のはり金の 5 m の重さは、何 g でしょう。



$$\text{式： } 50 \times 5 =$$

筆算

答え： _____



単位量あたりの
大きさ 4

● 単位量から
比べられる量を求める

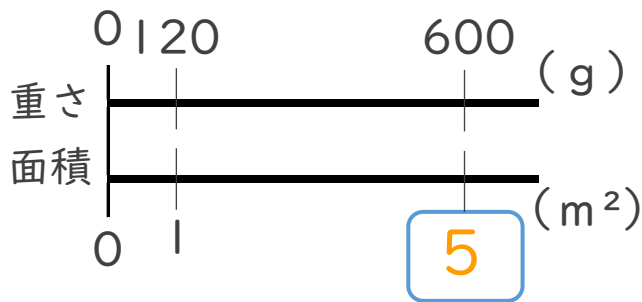


日にち： 月 日

名まえ _____

・ 次の問いに答えなさい。(うすい字はなぞりましょう。)

1 庭園に、 1 m^2 あたり 120 g の肥料をまきます。肥料は 600 g 必要です。
庭園の面積を求めましょう。

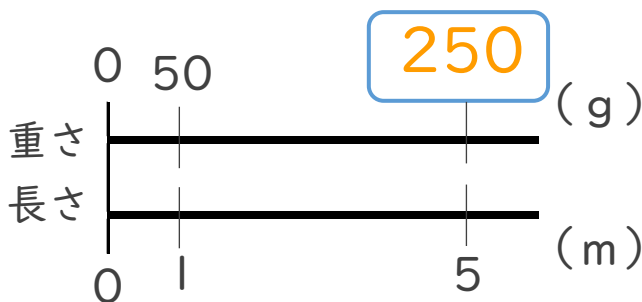


式： $600 \div 120 = 5$

筆算

答え：5 m²

2 1 m あたりの重さが 50 g のはり金の 5 m の重さは、何 g でしょう。



式： $50 \times 5 = 250$

筆算

答え：250 g