



単位量あたりの 大きさ 5

◎ 単位量を求めて比べる

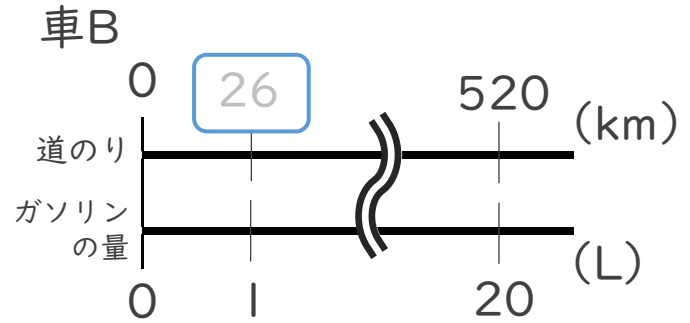
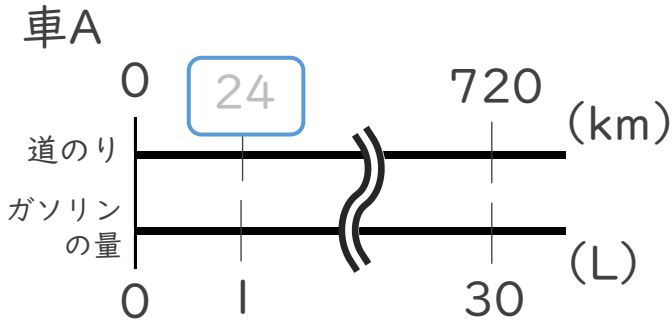


日にち： 月 日

名まえ _____

・ 次の問いに答えなさい。(うすい字はなぞりましょう。)

| 30Lのガソリンで720km走った車Aと、20Lのガソリンで520km走った車Bがあります。たくさん走れる車はAとBのどちらでしょう。



☆ガソリン1Lあたりに走る道のりを比べるよ！

Aの式： $720 \div 30 = 24$

Bの式： $520 \div 20 =$

答え：

筆算



単位量あたりの
大きさ 5

◎ 単位量を求めて比べる

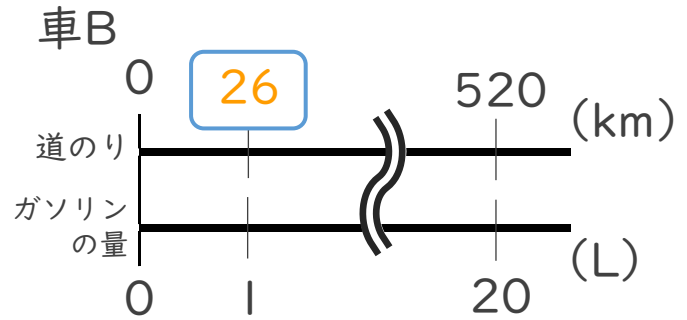
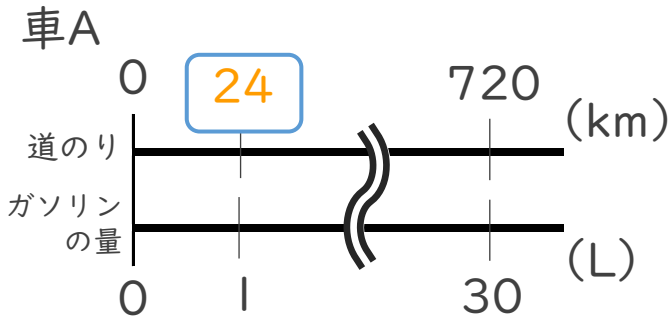


日にち： 月 日

名まえ _____

・ 次の問いに答えなさい。(うすい字はなぞりましょう。)

| 30Lのガソリンで720km走った車Aと、20Lのガソリンで520km走った車Bがあります。たくさん走れる車はAとBのどちらでしょう。



☆ガソリン1Lあたりに走る道のりを比べるよ!

Aの式： $720 \div 30 = 24$

筆算

Bの式： $520 \div 20 = 26$

答え：Bの車