



# 単位量あたりの 大きさ 5

● 単位量を求めて比べる

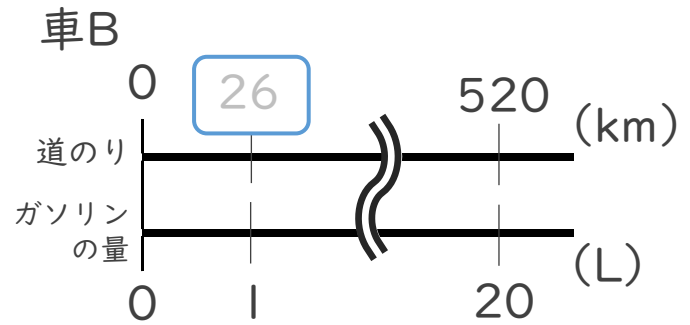
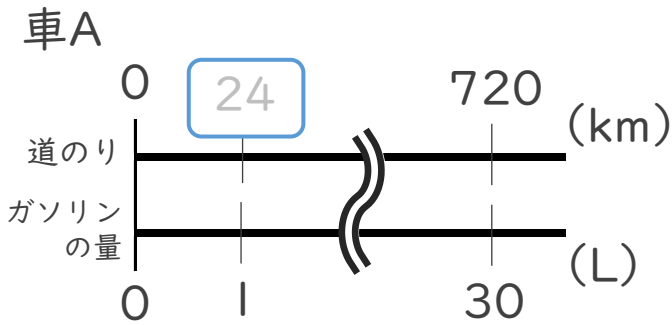


日にち：            月            日

名まえ \_\_\_\_\_

・ 次の問いに答えなさい。(うすい字はなぞりましょう。)

| 30Lのガソリンで720km走った車Aと、20Lのガソリンで520km走った車Bがあります。たくさん走れる車はAとBのどちらでしょう。



ガソリン1Lあたりに走る道のりを比べるよ！

Aの式： $720 \div 30 = 24$

Bの式： $520 \div 20 =$

答え：  
\_\_\_\_\_

筆算



単位量あたりの  
大きさ 5

◎ 単位量を求めて比べる

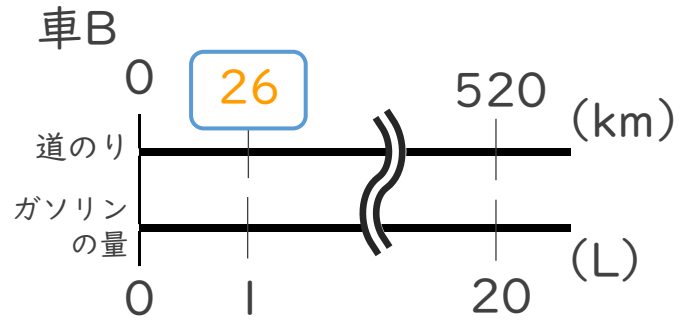
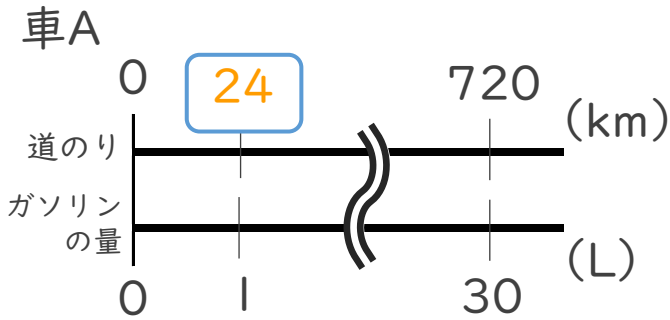


日にち：            月            日

名まえ \_\_\_\_\_

・ 次の問いに答えなさい。(うすい字はなぞりましょう。)

| 30Lのガソリンで720km走った車Aと、20Lのガソリンで520km走った車Bがあります。たくさん走れる車はAとBのどちらでしょう。



ガソリン1Lあたりに走る道のりを比べるよ！

Aの式： $720 \div 30 = 24$

筆算

Bの式： $520 \div 20 = 26$

答え： Bの車