



合同な図形 6

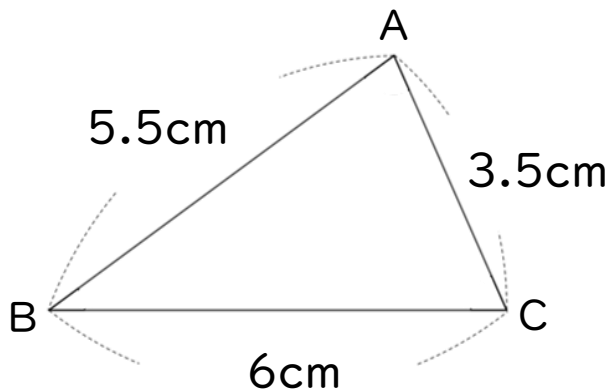
◎ 合同な三角形の作図
(3組の辺)




日にち： 月 日

名まえ _____

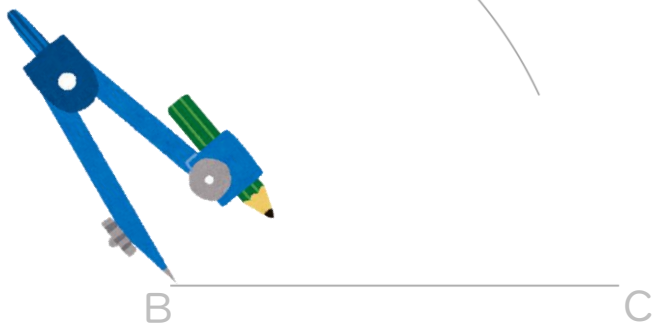
・ 次の三角形ABCと合同な三角形をかきなさい。(うすい字はなぞろう)



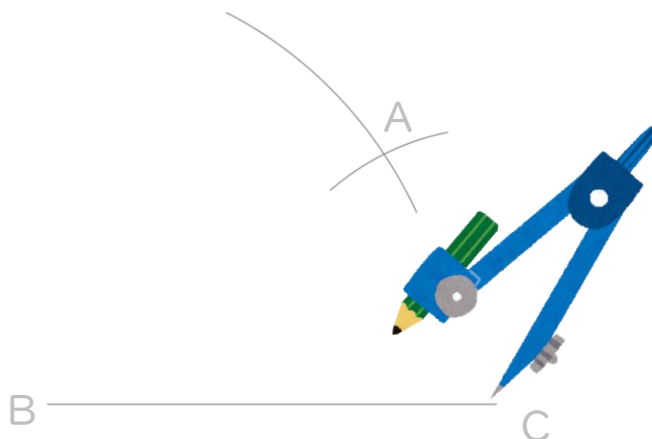
① 6cmの辺を引く。



② コンパスで5.5cmはかる。



③ コンパスで3.5cmはかる。



④ AとB、AとCを結ぶ。



合同な図形 6

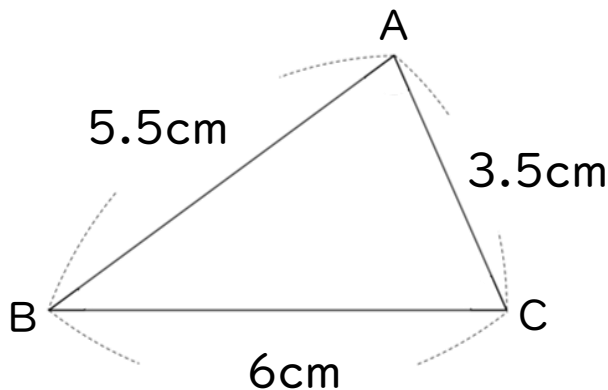
◎ 合同な三角形の作図
(3組の辺)



日にち： 月 日

名まえ _____

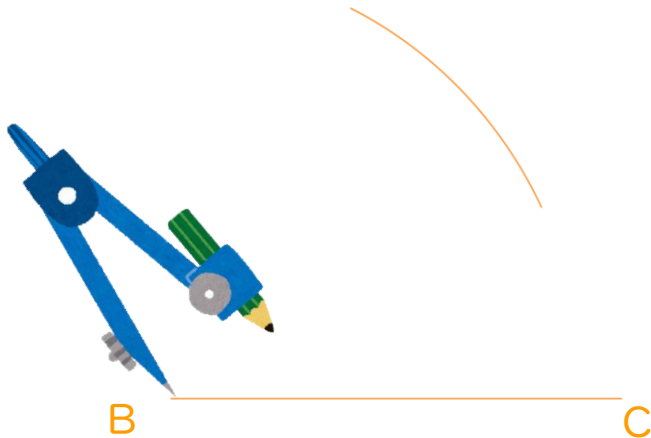
・ 次の三角形ABCと合同な三角形をかきなさい。(うすい字はなぞろう)



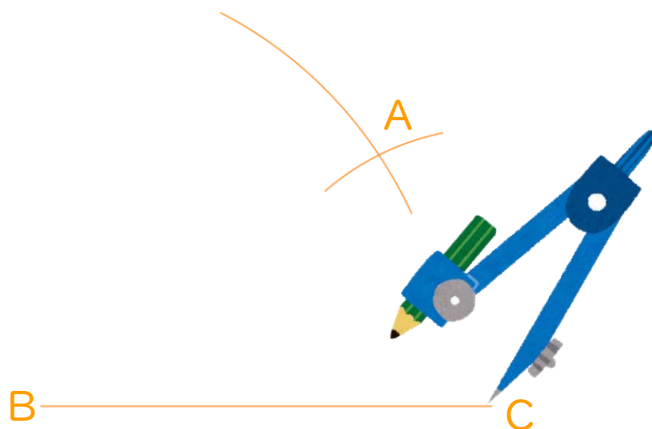
① 6cmの辺を引く。



② コンパスで5.5cmはかる。



③ コンパスで3.5cmはかる。



④ AとB、AとCを結ぶ。

