



## 合同な図形 6

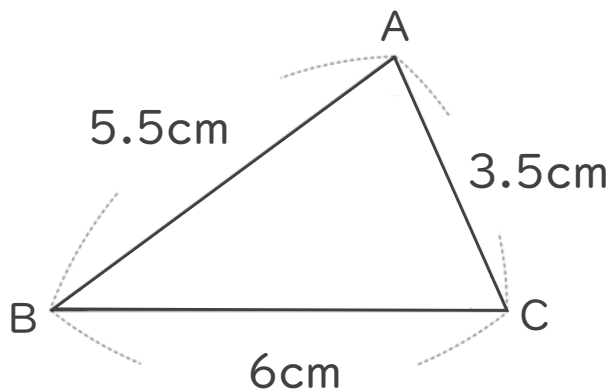
◎ 合同な三角形の作図  
(3組の辺)



日にち：            月            日

名まえ \_\_\_\_\_

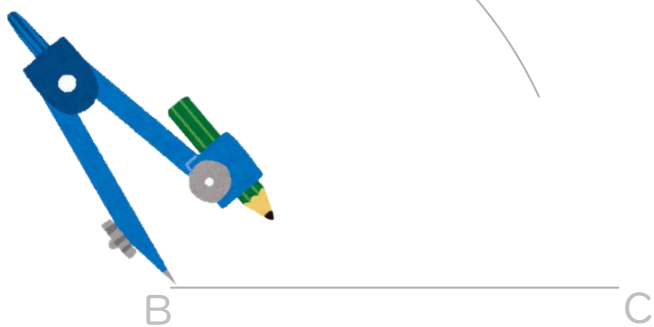
- ・ 次の三角形ABCと合同な三角形をかきましょう。  
(うすい字は、なぞりましょう。)



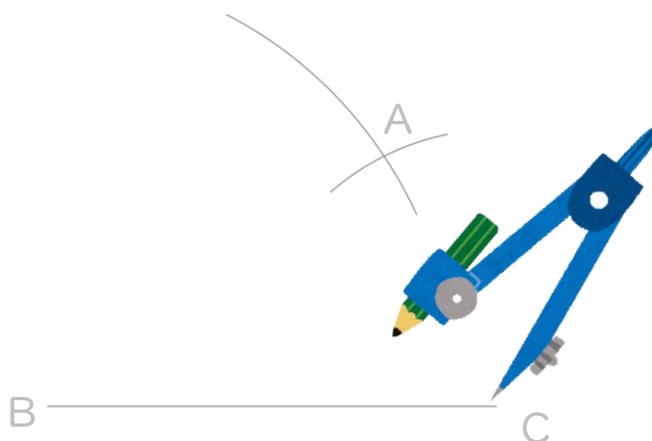
① 6cmの辺を引く。



② コンパスで5.5cmはかる。



③ コンパスで3.5cmはかる。



④ AとB、AとCを結ぶ。



## 合同な図形 6

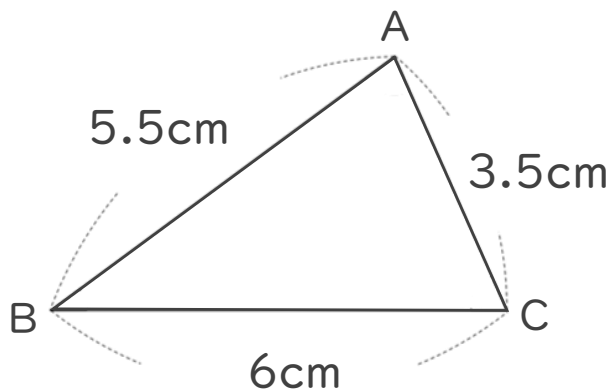
◎ 合同な三角形の作図  
(3組の辺)



日にち：            月            日

名まえ \_\_\_\_\_

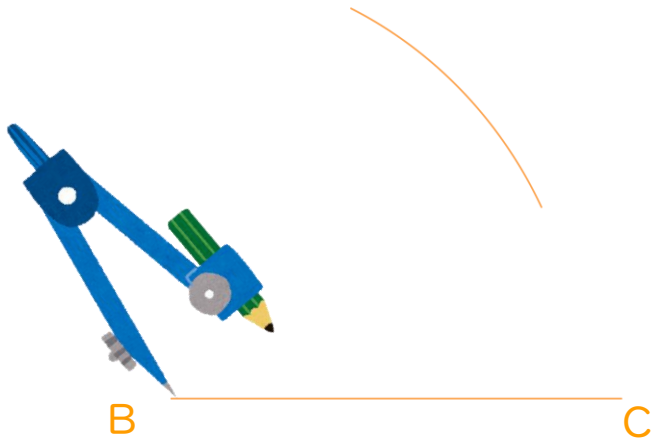
- ・ 次の三角形ABCと合同な三角形をかきましょう。  
(うすい字は、なぞりましょう。)



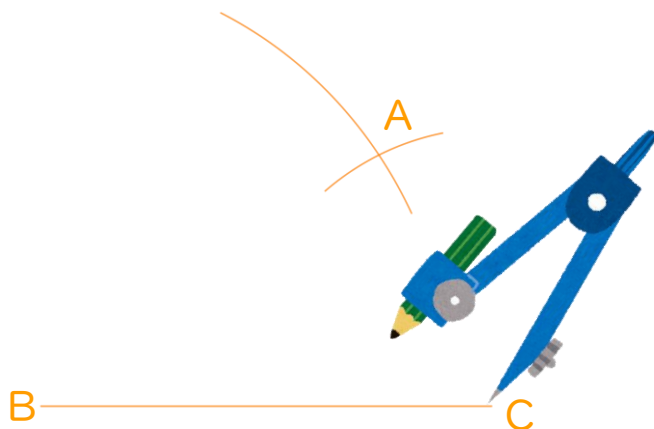
① 6cmの辺を引く。



② コンパスで5.5cmはかる。



③ コンパスで3.5cmはかる。



④ AとB、AとCを結ぶ。

