



正多角形と
円周の長さ！

● 多角形の名前



日にち： 月 日

名まえ _____

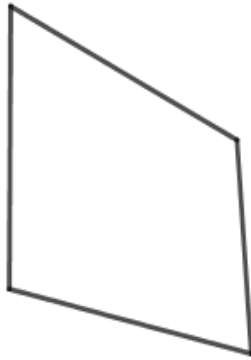
・ 次の図形の名前を書きましょう。(うすい字はしっかりなぞりましょう。)

①



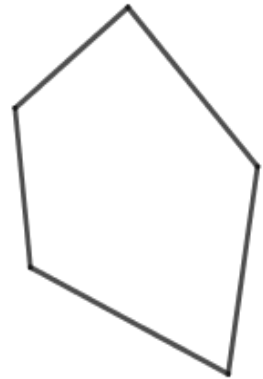
答え： 三角形

②



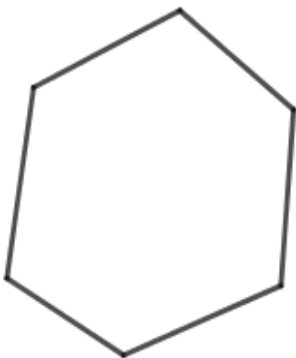
答え： 四角形

③



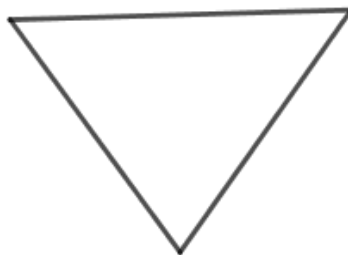
答え： 五角形

④



答え： 六角形

⑤



答え： _____

⑥



答え： _____





正多角形と
円周の長さ！

● 多角形の名前

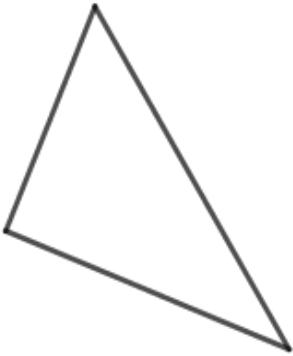


日にち： 月 日

名まえ _____

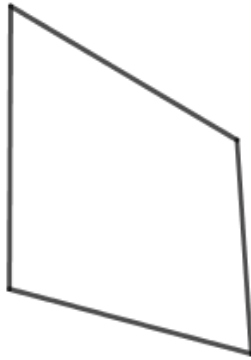
・ 次の図形の名前を書きましょう。(うすい字はしっかりなぞりましょう。)

①



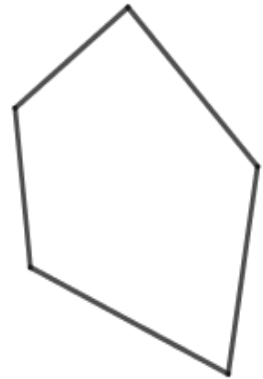
答え： 三角形

②



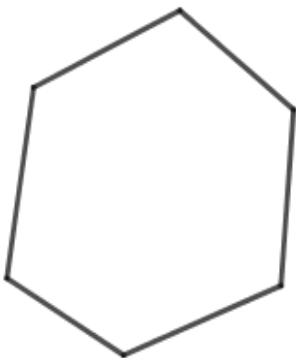
答え： 四角形

③



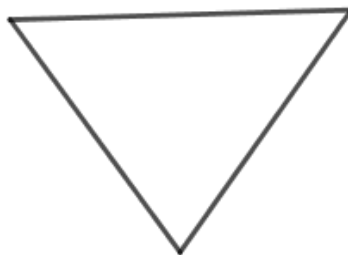
答え： 五角形

④



答え： 六角形

⑤



答え： 三角形

⑥



答え： 四角形

