



# 合同な図形2

対応する辺や角探し

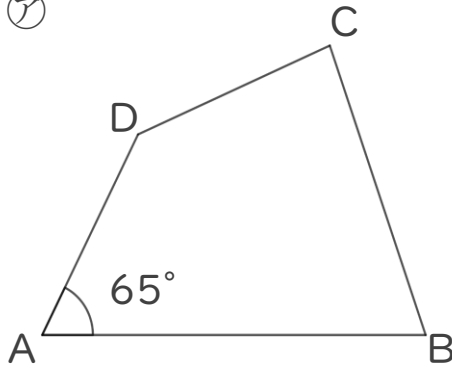


日にち： 月 日

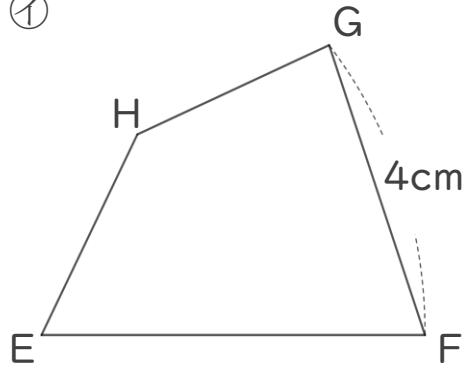
名まえ \_\_\_\_\_

・㊦と㊧の四角形は合同です。(うすい字は、なぞりましょう。)

㊦



㊧



① 辺CDに対応する辺はどれですか。

答え： 辺GH

② 角Bに対応する角はどれですか。

答え： 角F

③ 角Aと大きさの等しい角はどれですか。

答え： \_\_\_\_\_

④ 辺BCの長さは何cmですか。

答え： \_\_\_\_\_

⑤ 角Eの大きさは何度ですか。

答え： \_\_\_\_\_





## 合同な図形2

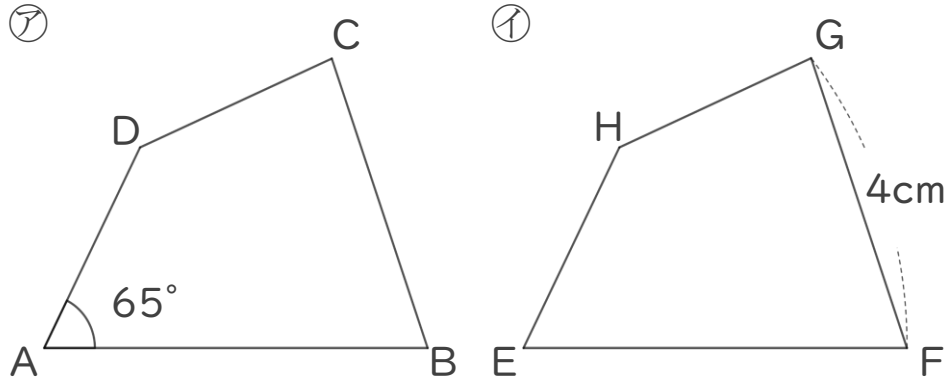
対応する辺や角探し



日にち： 月 日

名まえ \_\_\_\_\_

・㊦と㊧の四角形は合同です。(うすい字は、なぞりましょう。)



① 辺CDに対応する辺はどれですか。

答え： 辺GH

② 角Bに対応する角はどれですか。

答え： 角F

③ 角Aと大きさの等しい角はどれですか。

答え： 角E

④ 辺BCの長さは何cmですか。

答え： 4cm

⑤ 角Eの大きさは何度ですか。

答え： 65°

