



# 角柱と円柱

◎ 立体を調べる

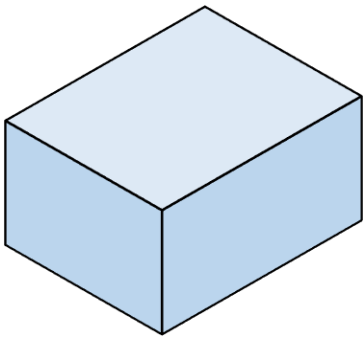


日にち：            月            日

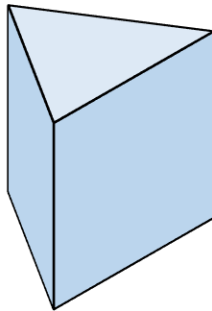
名まえ \_\_\_\_\_

・ 次の立体を、立体を<sup>かこ</sup>囲む面に注目して、2つのグループに分けて  に  
① ~ ④ を書きましょう。

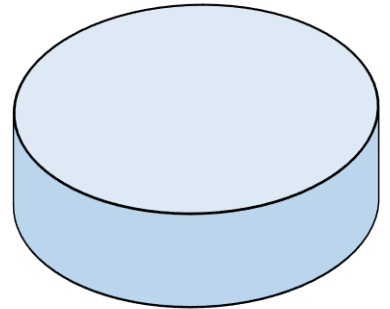
①



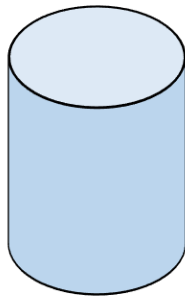
②



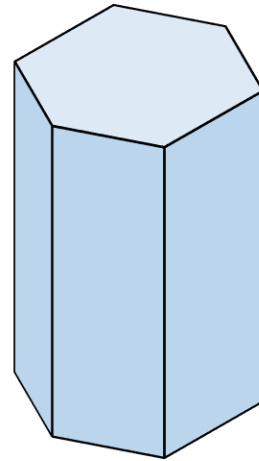
③



④



⑤



1つめのグループ

①、②、

2つめのグループ

③、





# 角柱と円柱

◎ 立体を調べる

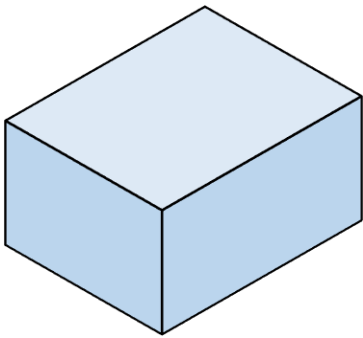


日にち：            月            日

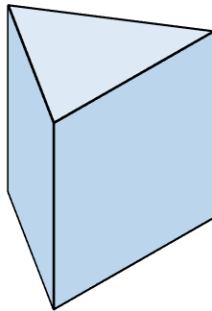
名まえ \_\_\_\_\_

・ 次の立体を、立体を<sup>かこ</sup>囲む面に注目して、2つのグループに分けて  に  
① ~ ⑤ を書きましょう。

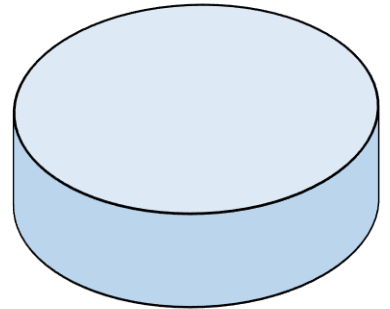
①



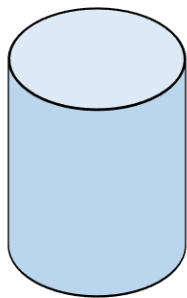
②



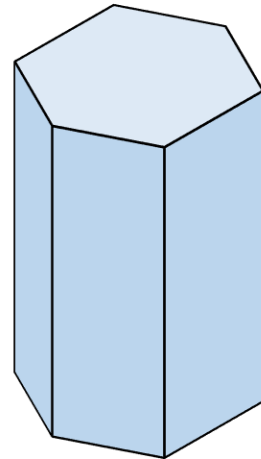
③



④



⑤



1つめのグループ

①、②、⑤

2つめのグループ

③、④

