

図形の角 9

● 色々な
多角形の名前

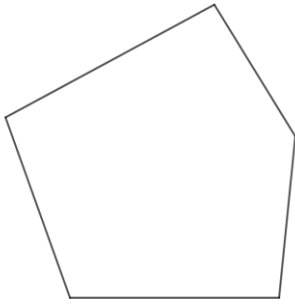


日にち： 月 日

名まえ _____

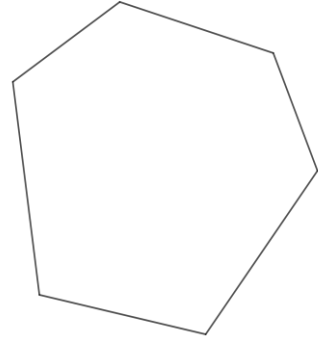
・ 次の多角形の名前を答えましょう。(うすい字はなぞりましょう。)

①



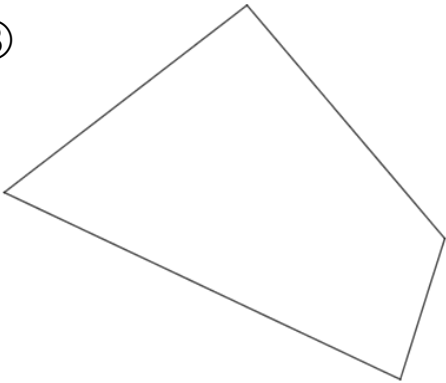
答え： 五角形

②



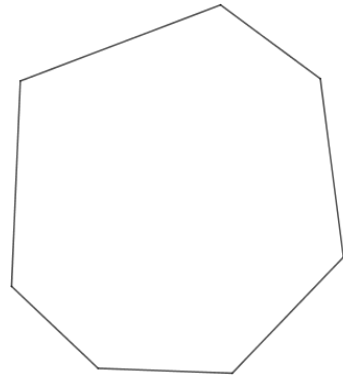
答え： 六角形

③



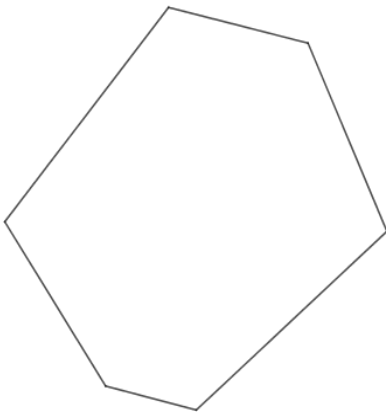
答え： _____

④



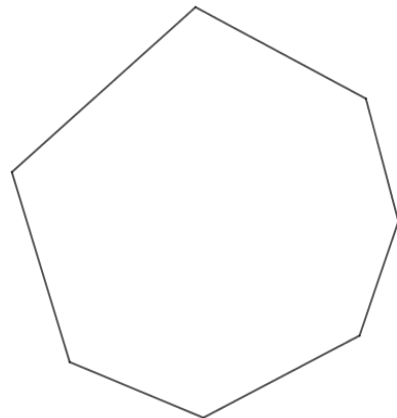
答え： _____

⑤



答え： _____

⑥



答え： _____



図形の角 9

◎ 色々な
多角形の名前

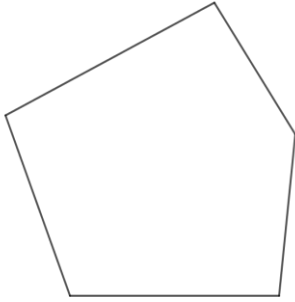


日にち： 月 日

名まえ _____

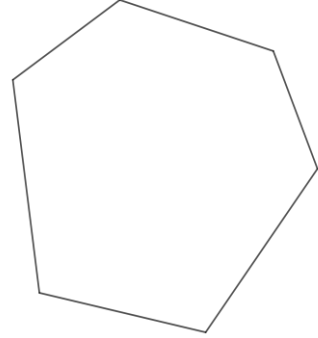
・ 次の多角形の名前を答えましょう。(うすい字はなぞりましょう。)

①



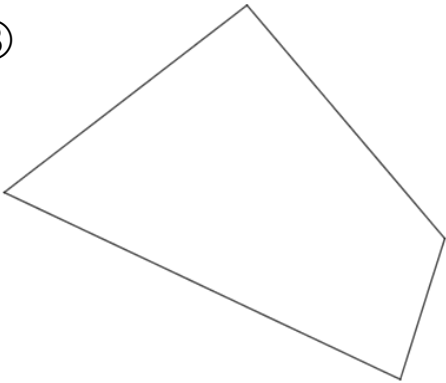
答え： **五角形**

②



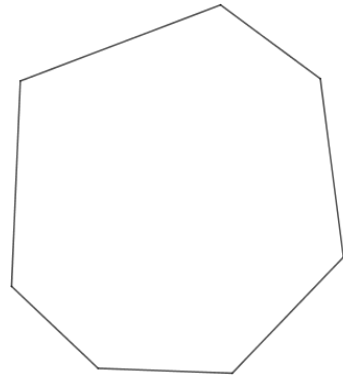
答え： **六角形**

③



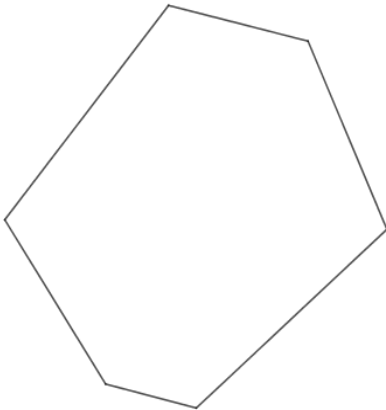
答え： **四角形**

④



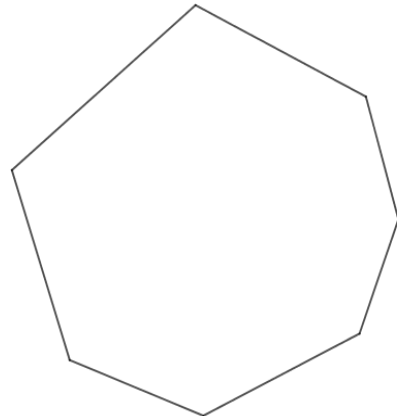
答え： **七角形**

⑤



答え： **六角形**

⑥



答え： **七角形**

