



角柱と円柱 6

● 角柱と円柱の特ちょう

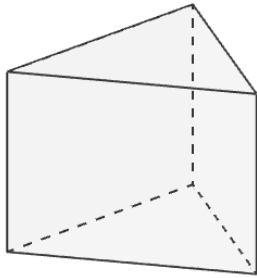


日にち： 月 日

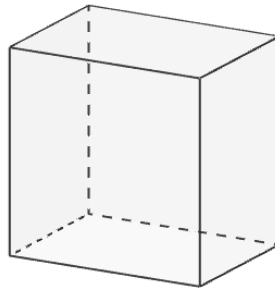
名まえ _____

・ 図を見て次の問いに答えましょう。（うすい字はなぞりましょう。）

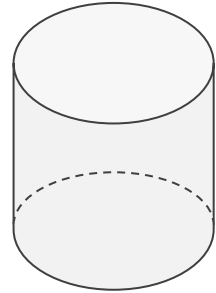
ア



イ



ウ

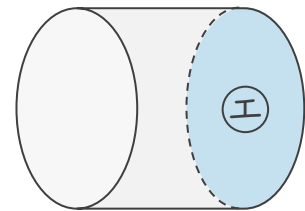
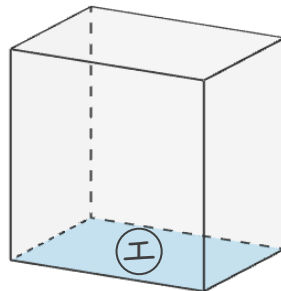
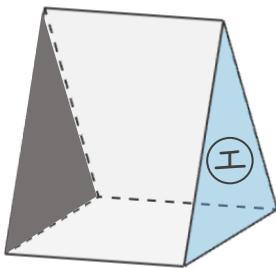


① 次の表に合う数や言葉を書き、表を完成させましょう。

| | ア | イ | ウ |
|-------|-----|-----|----|
| 立体の名前 | 三角柱 | 四角柱 | 円柱 |
| 側面の数 | 3 | 4 | 1 |
| 底面の形 | 三角形 | 四角形 | 円 |

② ㊦の面と平行な面に色をぬりましょう。

(例)





角柱と円柱 6

● 角柱と円柱の特ちょう

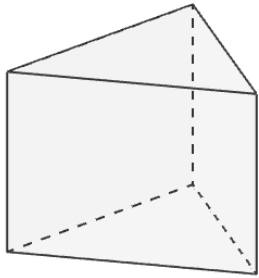


日にち： 月 日

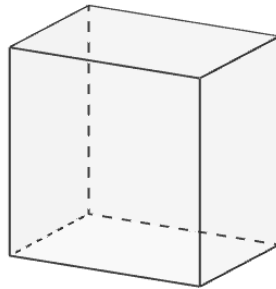
名まえ _____

・ 図を見て次の問いに答えましょう。（うすい字はなぞりましょう。）

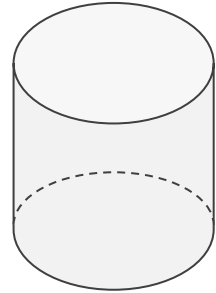
ア



イ



ウ



① 次の表に合う数や言葉を書き、表を完成させましょう。

| | ア | イ | ウ |
|-------|-----|-----|----|
| 立体の名前 | 三角柱 | 四角柱 | 円柱 |
| 側面の数 | 3 | 4 | 1 |
| 底面の形 | 三角形 | 四角形 | 円 |

② ㊦の面と平行な面に色をぬりましょう。

(例)

