



角柱と円柱 8

◎ 角柱や円柱の見取り図



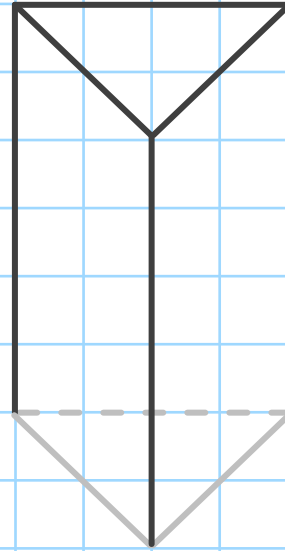
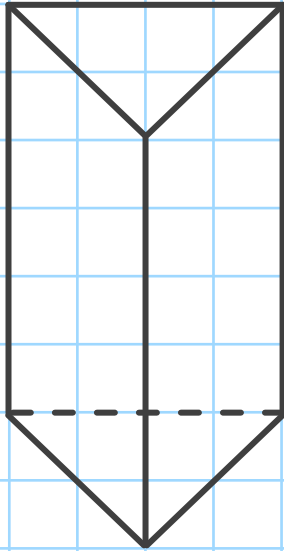
日にち： 月 日

名まえ _____

・ 次の立体の見取り図をかきましょう。（うすい線はなぞりましょう。）

① 三角柱

(手本)

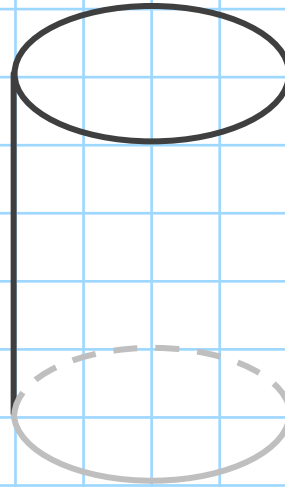
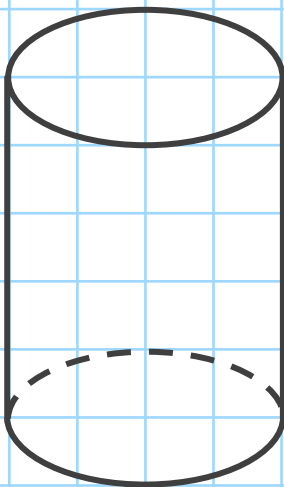


見えない辺は点線でかくよ！



② 円柱

(手本)





角柱と円柱 8

◎ 角柱や円柱の見取り図

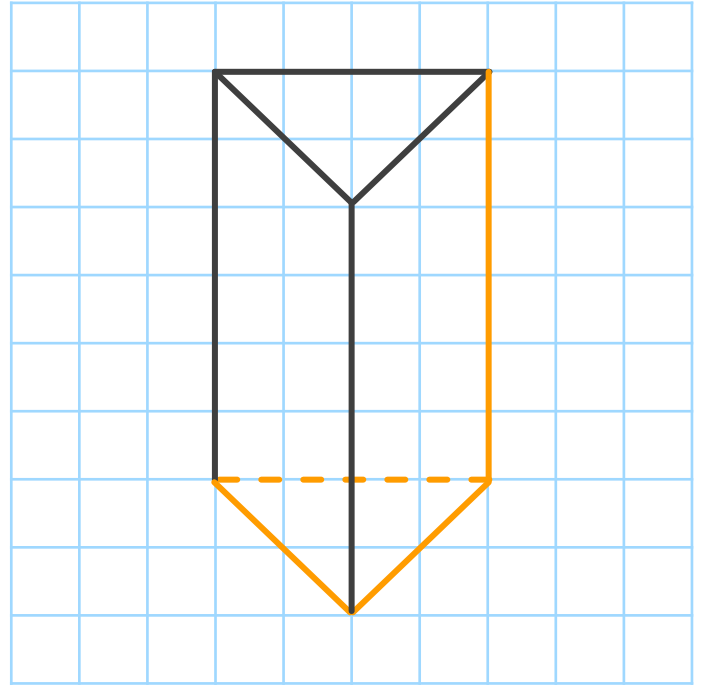
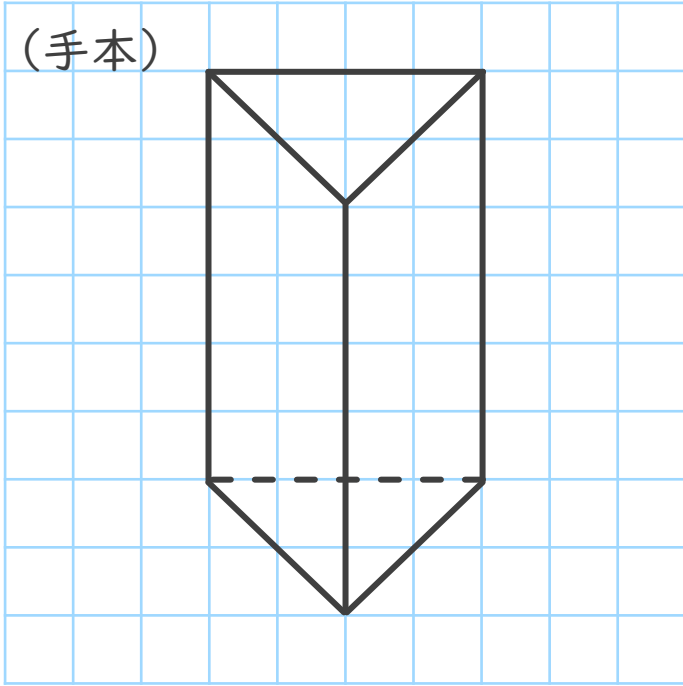


日にち： 月 日

名まえ _____

・ 次の立体の見取り図をかきましょう。（うすい線はなぞりましょう。）

① 三角柱



見えない辺は点線でかくよ！



② 円柱

