



小数の倍!

◎ 長いリボンは
短いリボンの何倍?

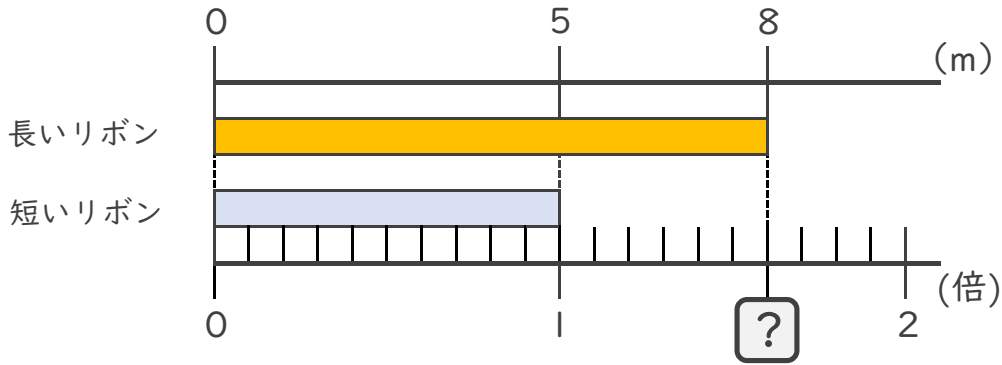


日にち： 月 日

名まえ _____

・ 次の問いに答えましょう。(うすい字は、なぞりましょう。)

① 長いリボンは短いリボンの何倍ですか。



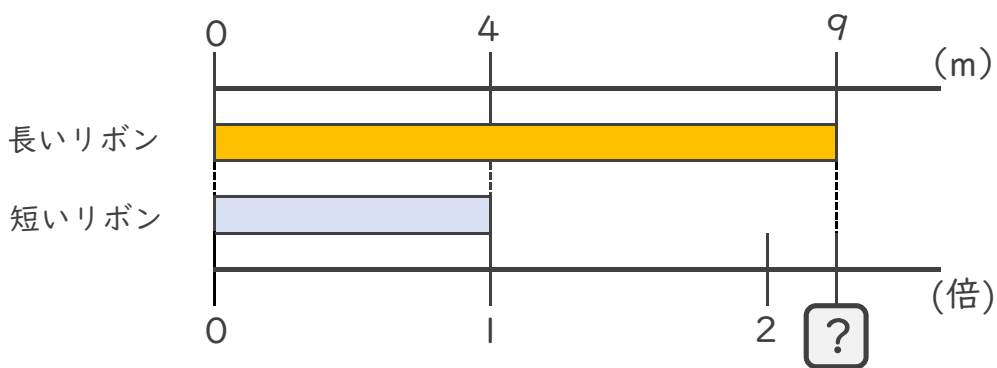
式： $5 \times \square = 8$

$\square = 8 \div 5$

$\square =$

答え： _____ 倍

② 長いリボンは短いリボンの何倍ですか。



式： $4 \times \square = 9$

$\square = 9 \div 4$

$\square =$

答え： _____





小数の倍!

◎ 長いリボンは
短いリボンの何倍?

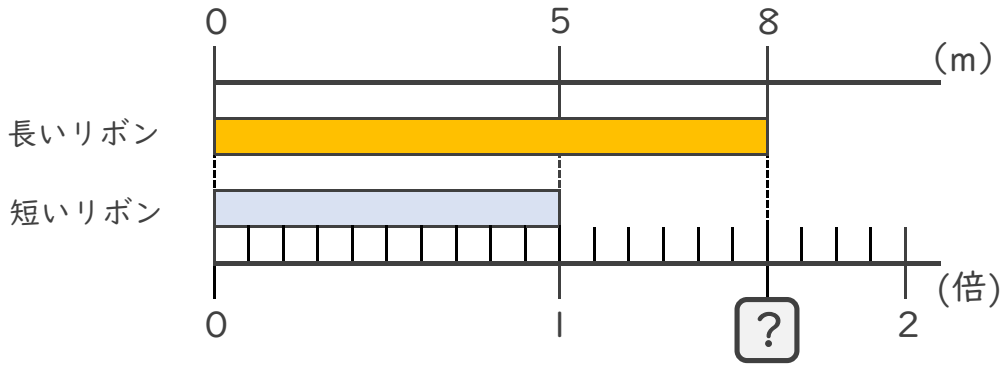


日にち： 月 日

名まえ _____

・ 次の問いに答えましょう。(うすい字は、なぞりましょう。)

① 長いリボンは短いリボンの何倍ですか。



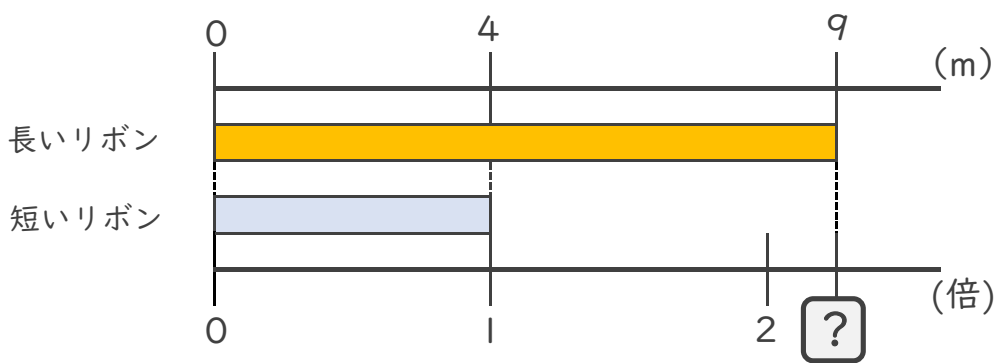
式： $5 \times \square = 8$

$\square = 8 \div 5$

$\square = 1.6$

答え： 1.6倍

② 長いリボンは短いリボンの何倍ですか。



式： $4 \times \square = 9$

$\square = 9 \div 4$

$\square = 2.25$

答え： 2.25倍

