



**比例 1**

● 2つの量の変わり方

日にち： 月 日

名まえ \_\_\_\_\_

・ 2つの量の変わり方について調べます。(うすい字はなぞりましょう。)

2つの量の一方が増えらると、  
それにともなってもう一方が増えるものには「増える」、  
一方が増えらると、  
それにともなってもう一方が減るものに「減る」と〔 〕に書きましよう。

① 水そうに入れた水の量が増えらると、水の深さは？



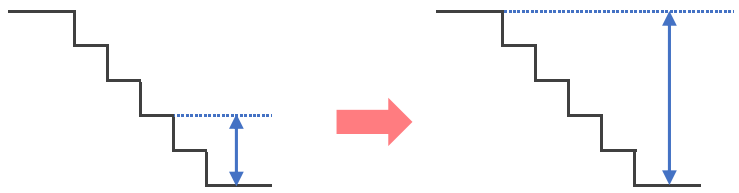
〔 増える 〕

② 10個入りのアイスを食べた数が増えらると、残りの数は？



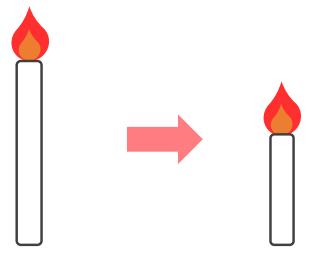
〔 減る 〕

③ 階段をのぼる段数が増えらると、下からの高さは？



〔 〕

④ ろうそくに火をつけている時間が増えらると、ろうそくの残りの長さは？



〔 〕



**比例 1**

● 2つの量の変わり方

日にち： 月 日

名まえ \_\_\_\_\_

・ 2つの量の変わり方について調べます。(うすい字はなぞりましょう。)

2つの量の一方が増えると、  
それにもなってもう一方が増えるものには「増える」、  
一方が増えると、  
それにもなってもう一方が減るものに「減る」と〔 〕に書きましょう。

① 水そうに入れた水の量が増えたと、水の深さは？



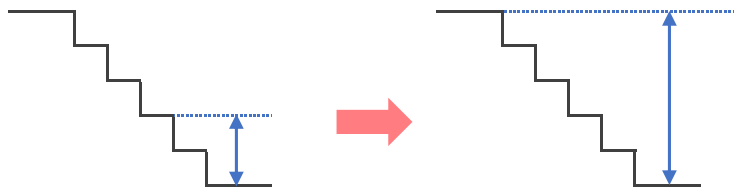
〔 増える 〕

② 10個入りのアイスを食べた数が増えたと、残りの数は？



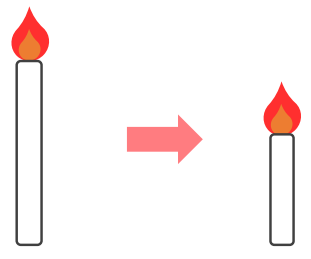
〔 減る 〕

③ 階段をのぼる段数が増えたと、下からの高さは？



〔 増える 〕

④ ろうそくに火をつけている時間が増えたと、ろうそくの残りの長さは？



〔 減る 〕