



比例 1

● 2つの量の変わり方

日にち： 月 日

名まえ _____

・ 2つの量の変わり方について調べます。(うすい字はなぞりましょう。)

2つの量の一方が増えらると、
それにともなつてもう一方が増えらるものには「増えらる」、
一方が増えらると、
それにともなつてもう一方が減らるものに「減らる」と〔 〕に書きましよう。

① 水そうに入れた水の量が増えらると、水の深さは？



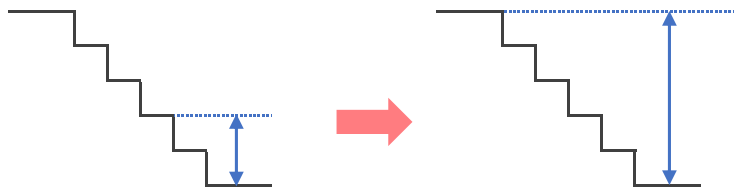
〔 増えらる 〕

② 10個入りのアイスを食べた数が増えらると、残りの数は？



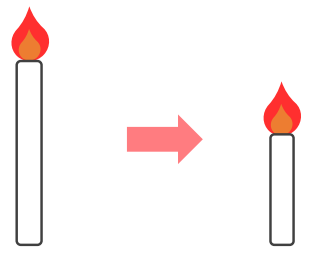
〔 減らる 〕

③ 階だんをのぼらだん数が増えらると、下からの高さは？



〔 〕

④ ろうそくに火をつけている時間が増えらると、ろうそくの残りの長さは？



〔 〕



比例 1

● 2つの量の変わり方



日にち： 月 日

名まえ _____

・ 2つの量の変わり方について調べます。(うすい字はなぞりましょう。)

2つの量の一方が増えらると、
それにもなっらてもう一方が増えらるものには「増えらる」、
一方が増えらると、
それにもなっらてもう一方が減らるものに「減らる」と〔 〕に書きましらよう。

① 水そうに入らた水の量が増えらると、水の深さは？



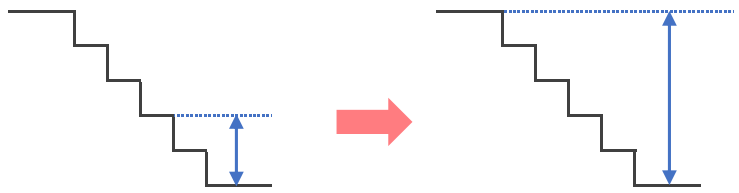
〔 増えらる 〕

② 10個入りのアイスを食べらた数が増えらると、残りの数は？



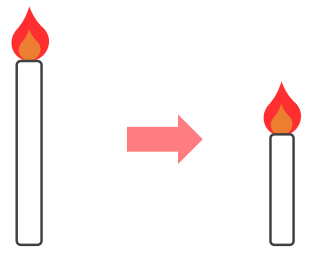
〔 減らる 〕

③ 階だんをのぼらだん数が増えらると、下からの高さは？



〔 増えらる 〕

④ ろうそくに火をつけれらる時間が増えらると、ろうそくの残りの長さは？



〔 減らる 〕