



単位量あたりの  
大きさ 10



◎ 1m あたりにかかる時間

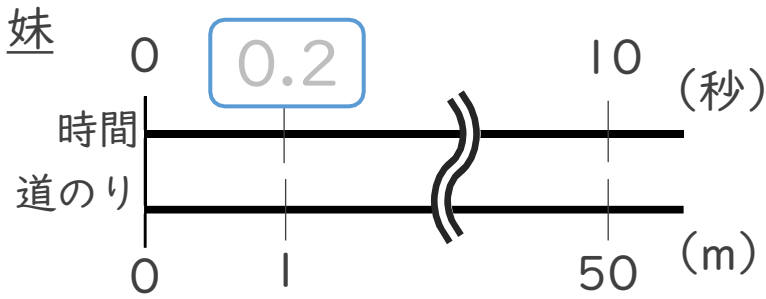
日にち：            月            日

名まえ \_\_\_\_\_

・ ゆいさんと妹の短きより走の記録は、下の表のとおりです。1mあたり何秒かかりますか。それぞれ求めましょう。(うすい字はなぞりましょう。)

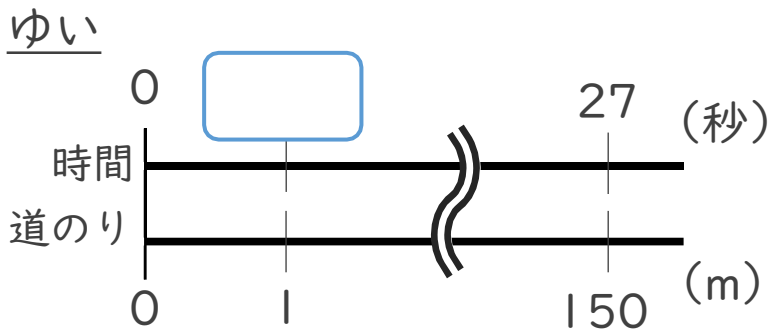
	時間(秒)	道のり(m)
妹	10	50
ゆい	27	150

筆算



式： $10 \div 50 = 0.2$

妹：0.2 秒



式： $27 \div 150 =$

ゆい：          





単位量あたりの  
大きさ 10



● 1m あたりにかかる時間

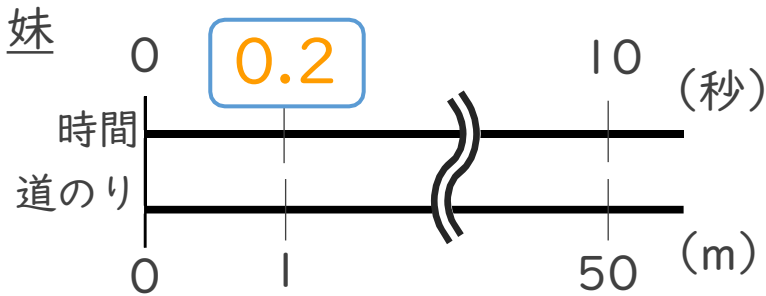
日にち：            月            日

名まえ \_\_\_\_\_

・ ゆいさんと妹の短きより走の記録は、下の表のとおりです。1mあたり何秒かかりますか。それぞれ求めましょう。(うすい字はなぞりましょう。)

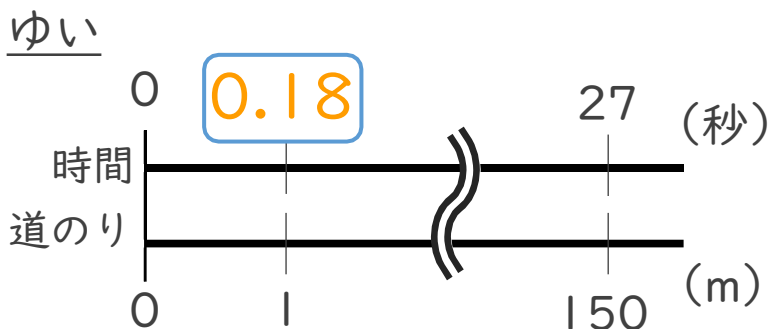
	時間(秒)	道のり(m)
妹	10	50
ゆい	27	150

筆算



式： $10 \div 50 = 0.2$

妹：0.2 秒



式： $27 \div 150 = 0.18$

ゆい：0.18 秒

