

小数のかけ算 16

㊦ 長方形の面積



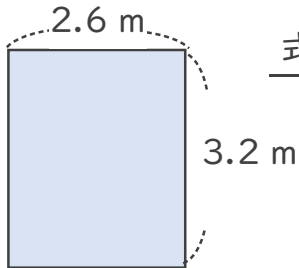
日にち： 月 日

名まえ _____

1. 次の長方形の面積は何㎡でしょうか。

①

<筆算>



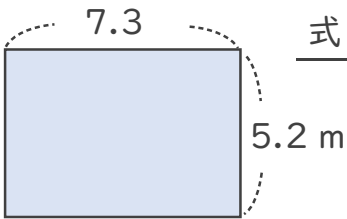
式： _____

× _____

答え： _____

②

<筆算>



式： _____

× _____

答え： _____

2. 積が4より大きくなるもの、同じもの、小さくなるものを選び、番号を書きましょう。


- ① 4×0.9
- ② 4×1.2
- ③ 4×0.8
- ④ 4×1
- ⑤ 4×1.9

大きくなるもの： _____

小さくなるもの： _____

同じもの： _____





小数のかけ算 16

㊦ 長方形の面積

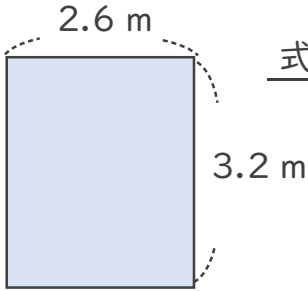


日にち： 月 日

名まえ _____

1. 次の長方形の面積は何㎡でしょうか。

①



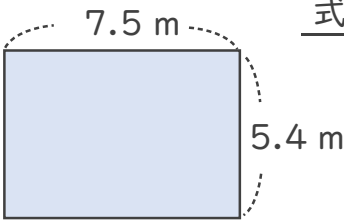
式： $3.2 \times 2.6 = 8.32$

答え： 8.32 m^2

<筆算>

$$\begin{array}{r}
 3.2 \\
 \times 2.6 \\
 \hline
 192 \\
 64 \\
 \hline
 8.32
 \end{array}$$

②



式： $5.4 \times 7.5 = 40.5$

答え： 40.5 m^2

<筆算>

$$\begin{array}{r}
 5.4 \\
 \times 7.5 \\
 \hline
 270 \\
 378 \\
 \hline
 40.50
 \end{array}$$

2. 積が4より大きくなるもの、同じもの、小さくなるものを選び、番号を書きましょう。

- ① 4×0.9 ② 4×1.2 ③ 4×0.8 ④ 4×1 ⑤ 4×1.9

大きくなるもの： ② と ⑤

小さくなるもの： ① と ③

同じもの： ④

