



小数のわり算 18

◎ あまりのあるわり算
(商が整数)

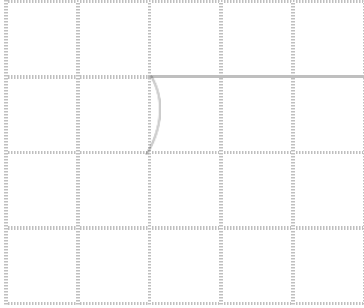


日にち： 月 日


名まえ _____

1 商は一の位まで求めて、あまりも出しましょう。
(うすいところは、なぞりましょう。)


① $24.7 \div 3.7$



② $6.8 \div 1.3$



③ $94.7 \div 7.3$



④ $42.8 \div 3.5$



2 商が5より大きくなるのはどれですか。

① $5 \div 1.42$

② $5 \div 0.2$

③ $5 \div 2$

④ $5 \div 0.8$

答え： _____



小数のわり算 18

◎ あまりのあるわり算
(商が整数)

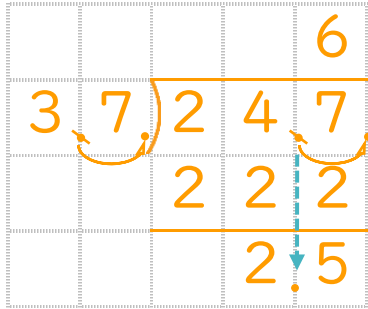


日にち： 月 日

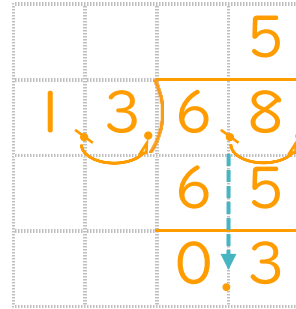
名まえ _____

1 商は一の位まで求めて、あまりも出しましょう。
(うすいところは、なぞりましょう。)

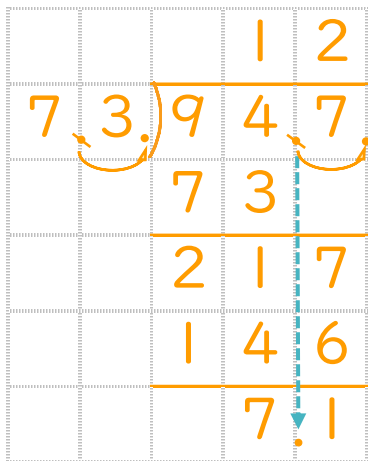
① $24.7 \div 3.7$



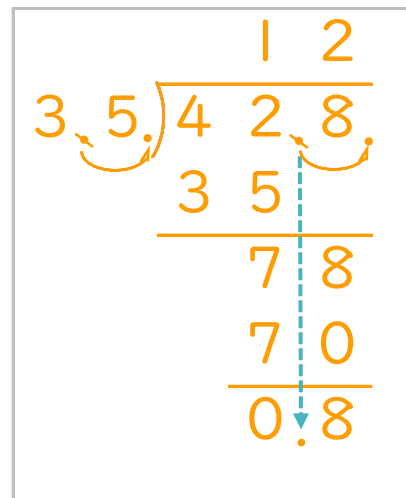
② $6.8 \div 1.3$



③ $94.7 \div 7.3$



④ $42.8 \div 3.5$



2 商が5より大きくなるのはどれですか。

① $5 \div 1.42$

② $5 \div 0.2$

③ $5 \div 2$

④ $5 \div 0.8$

答え： ② と ④