



小数のわり算II

◎ わりすすみ
(商が小数第一位までの真小数)

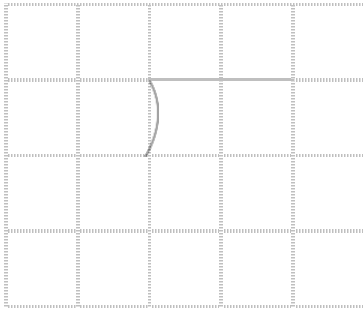


日にち： 月 日

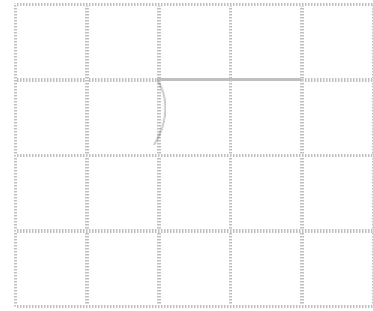
名まえ _____

・ 次の計算をしなさい。(うすいところは、なぞりましょう。)


① $0.3 \div 1.5$




② $0.5 \div 2.5$




③ $9.9 \div 6.6$




④ $0.6 \div 1.5$



⑤ $0.7 \div 1.4$



⑥ $0.9 \div 1.5$





小数のわり算II

◎ わりすすみ
(商が小数第一位までの真小数)



日にち： 月 日

名まえ _____

・ 次の計算をしなさい。(うすいところは、なぞりましょう。)

① $0.3 \div 1.5$

			0.	2	
1	5)	0	3	0
			3	0	
				0	

② $0.5 \div 2.5$

			0.	2	
2	5)	0	5	0
			5	0	
				0	

③ $9.9 \div 6.6$

			1.	5	
6	6)	9	9	
			6	6	
			3	3	0
			3	3	0
				0	

④ $0.6 \div 1.5$

			0.	4	
1	5)	0	6	0
			6	0	
				0	

⑤ $0.7 \div 1.4$

			0.	5	
1	4)	0	7	0
			7	0	
				0	

⑥ $0.9 \div 1.5$

			0.	6	
1	5)	0	9	0
			9	0	
				0	