



小数のわり算 10

◎ わりすすみ (3けた)




日にち： 月 日


名まえ _____

・ 次の計算をしなさい。(うすいところは、なぞりましょう。)


① $7.29 \div 4.86$




② $9.17 \div 2.62$




③ $8.37 \div 2.7$




④ $8.71 \div 1.34$



⑤ $8.5 \div 2.5$



⑥ $6.86 \div 2.45$





小数のわり算 10

◎ わりすすみ (3けた)



日にち： 月 日

名まえ _____

・ 次の計算をしなさい。(うすいところは、なぞりましょう。)

① $7.29 \div 4.86$

							1.5
4	8	6	7	2	9		
			4	8	6		
			2	4	3	0	
			2	4	3	0	
							0

② $9.17 \div 2.62$

							3.5
2	6	2	9	1	7		
			7	8	6		
			1	3	1	0	
			1	3	1	0	
							0

③ $8.37 \div 2.7$

							3.1
2	7	8	3	7			
			8	1			
			2	7			
			2	7			
							0

④ $8.71 \div 1.34$

							6.5
1	3	4	8	7	1		
			8	0	4		
			6	7	0		
			6	7	0		
							0

⑤ $8.5 \div 2.5$

							3.4
2	5	8	5				
			7	5			
			1	0	0		
			1	0	0		
							0

⑥ $6.86 \div 2.45$

							2.8
2	4	5	6	8	6		
			4	9	0		
			1	9	6	0	
			1	9	6	0	
							0