



小数の倍3

◎ リボンを小数倍した長さ

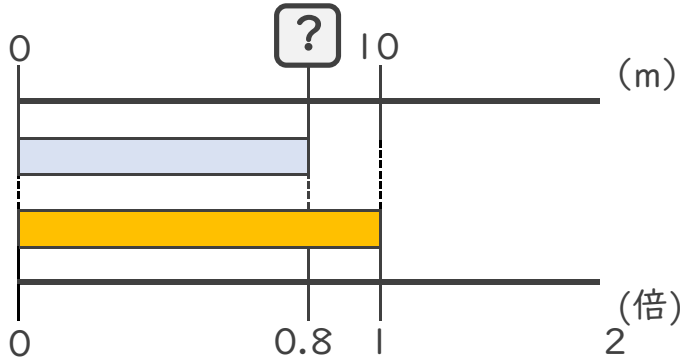


日にち： 月 日

名まえ _____

・ 次の問いに答えましょう。

① 短いリボンは長いリボンの0.8倍の長さです。短いリボンの長さをもとめましょう。



式：

答え： _____

② 6mの赤いリボンがあります。青いリボンは赤いリボンの0.5倍の長さです。青いリボンの長さをもとめましょう。

式：

答え： _____

③ 15mのリボンと25mのリボンがあります。短いリボンは長いリボンの何倍でしょうか？

式： $15 \div 25 =$


答え： _____

④ 12mのリボンと5mのリボンがあります。長いリボンは短いリボンの何倍でしょうか？

式：

答え： _____





小数の倍3

◎ リボンを小数倍した長さ

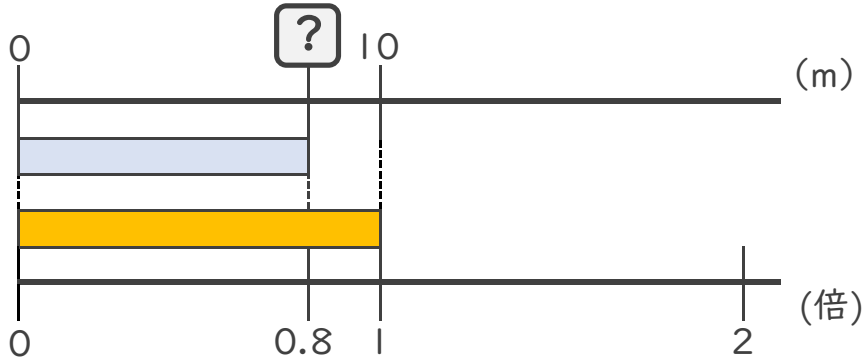


日にち： 月 日

名まえ _____

・ 次の問いに答えましょう。

① 短いリボンは長いリボンの0.8倍の長さです。短いリボンの長さをもとめましょう。



式： $10 \times 0.8 = 8$

答え： 8m

② 6mの赤いリボンがあります。青いリボンは赤いリボンの0.5倍の長さです。青いリボンの長さをもとめましょう。

式： $6 \times 0.5 = 3$

答え： 3m

③ 15mのリボンと25mのリボンがあります。短いリボンは長いリボンの何倍でしょうか？

式： $15 \div 25 = 0.6$

答え： 0.6倍

④ 12mのリボンと5mのリボンがあります。長いリボンは短いリボンの何倍でしょうか？

式： $12 \div 5 = 2.4$

答え： 2.4倍

